

# 历史

(全卷满分100分 考试时间60分钟)

题号	一	二				总分
	1~25	26	27	28	29	
得分						

## 第I卷 选择题(25小题,共50分)

一、选择题。(下列各小题的四个备选答案中,只有一个是符合题意的,请将你认为符合题意的答案英文字母填入相应的答案栏里,每小题2分,共50分)

题号	1	2	3	4	5	6	7	8	9	10	11	12	13
答案													
题号	14	15	16	17	18	19	20	21	22	23	24	25	
答案													

1.神秘古老的埃及文明吸引了世界各地的旅游者。去埃及旅游,游客能够看到的世界著名历史遗迹是

- A.帕特农神庙 B.金字塔 C.雅典卫城遗址 D.兵马俑

2.习近平主席在“一带一路”国际合作高峰论坛开幕式演讲中指出:古丝绸之路跨越尼罗河流域、两河流域、印度河和恒河流域、黄河和长江流域……其中“两河流域”诞生了

- A.古希腊文明 B.古巴比伦文明 C.古印度文明 D.古罗马文明

3.九年级历史兴趣小组进行研究性学习,他们收集了“释迦牟尼”“公元前六世纪”“众生平等”等信息。他们研究学习的主题应该是

- A.道教 B.基督教 C.伊斯兰教 D.佛教

4.雅典执政官伯里克利曾说:“我们不模仿我们的邻人,但我们是他们的榜样。因为行政权不是掌在少数人手里,而是握在多数人手中”。雅典成为“邻人榜样”是因为

- A.商业繁荣 B.开疆拓土 C.文化教育 D.民主政治

5.法学方面的成就是罗马人最伟大的成就之一。罗马法制建设的第一步,是将习惯法确定为成文法,后来这部成文法成为后世罗马法乃至欧洲法学的渊源。这部成文法是

- A.《法理概要》 B.《汉谟拉比法典》 C.《十二铜表法》 D.《查士丁尼法典》

6.在古希腊,有一位被称为百科全书式的学者,他是

- A.恺撒 B.亚里士多德 C.苏格拉底 D.牛顿

7.7世纪中叶,日本发动了一场以学习和模仿中国隋唐制度为主要内容的改革,使日本从奴隶社会走向封建社会。这场改革是

- A.大化改新 B.彼得一世改革 C.明治维新 D.百日维新

8.位于英国伦敦的“环球剧院”是用来表达对一位天才剧作家的怀念之情,他的《罗密欧与朱丽叶》一直是剧院唯一的选择。这位天才是

- A.达·芬奇 B.拉斐尔 C.薄伽丘 D.莎士比亚

9.“没有地理大发现,就没有工业革命,也就没有资本主义的发展,更没有随之而来的世界历史向整体发展的根本转折。”这里的“地理大发现”指的是

- A.新航路的开辟 B.文艺复兴运动 C.丝绸之路的开辟 D.启蒙运动





10.《2049,相信中国》一书指出:“如果从地理与历史的角度来看,1492年应该可以看作是全球化的开始。”下列与1492年相关的史实是哥伦布

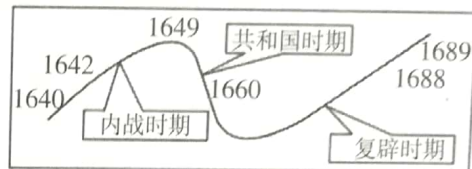
- A.发现了好望角 B.到达了亚洲的印度 C.发现了美洲 D.完成了环球航行

11.美国黑人作家阿历克斯·哈特在其著作《根》中写道:1760年,非洲少年昆塔在独自外出时,被白人抓走,与其他黑人一起被贩卖到美洲。昆塔的悲惨遭遇与下列哪一历史事件有直接关系

- A.亚历山大东征 B.罪恶的“三角贸易”  
C.英国在北美建立殖民地 D.拉丁美洲独立运动

12.右图是世界近代历史上一次资产阶级革命的进程示意图。这次革命发生在

- A.英国  
B.美国  
C.法国  
D.德国



13.有人认为英国“革命前是国王的议会,革命后是议会的国王”。这表明英国资产阶级革命后,确立了

- A.君主专制制度 B.封君封臣制度 C.君主立宪制度 D.民主共和制度

14.抓关键词是历史学习的方法之一。与“大陆军总司令”“美国第一任总统”等关键词相吻合的历史人物是

- A.杰斐逊 B.华盛顿 C.林肯 D.罗斯福

15.1804年拿破仑主持制定的《拿破仑法典》,今天仍然在法国施行,成为很多国家民法的蓝本。由此看出拿破仑对法国做出的重要贡献是

- A.建立法兰西第一共和国 B.建立法兰西第一帝国  
C.颁布法典,巩固资产阶级的统治 D.率军远征俄国

16.17-18世纪,英美法三国先后进行了资产阶级革命,取得的共同成果是

- A.推翻了君主制度 B.扫除了资本主义发展的障碍  
C.推翻了殖民统治 D.建立了共和政体

17.1765年哈格里夫斯发明了一台纺织机器,极大提高了纺纱的效率。这台机器是

- A.珍妮机 B.水力织布机 C.飞梭 D.蒸汽机车

18.随着工业革命的发展和工厂体系的建立,到1851年伦敦人口达到236万,比1800年增长了136%。这充分说明工业革命

- A.极大地提高了社会生产力 B.推动了技术的革新  
C.推动了城市化进程 D.促使英国开始对外扩张

19.他领导了南美洲北部地区的民族独立运动,被誉为南美的“解放者”,现在南美洲的一个国家就以他的名字命名。“他”是

- A.甘地 B.圣马丁 C.章西女王 D.玻利瓦尔

20.右图摘录了彼得一世改革的措施,这些措施的推行

- A.推翻了沙皇的专制统治  
B.开启了俄国近代化的进程  
C.废除了农奴制  
D.摆脱了沦为殖民地的危机

※创建一支新式常备军;  
※鼓励兴办手工工场;  
※派遣留学生,创办科学院、学校、报纸;  
※提倡学习西方的礼节和生活方式。

21.1858年林肯在演讲中说:“一幢裂开的房子是站不住的。我相信这个政府不能永远维持半奴隶和半自由的状态。我不期望联邦解散,我不期望房子崩塌,但我希望它停止分裂。”这说明林肯的首要目标是

- A.实现富国强兵 B.维护世界霸权 C.维护国家统一 D.推翻殖民统治

22.在第二次工业革命中,电磁感应学说的应用促进新产业的兴起。新产业指的是

- A.采矿冶金业 B.塑料制造业 C.石油化学工业 D.电气工业





23.20世纪早期,汽车价格大幅度下降,汽车开始成为中等收入家庭的主要交通工具。这主要得益于

- A.内燃机的发明 B.流水线生产的推广 C.工厂制度的建立 D.工人收入的增加

24.19世纪后期,英国有钱人以坐轮船游览伦敦的泰晤士河为时尚,但是这一时期河水已经浑浊不堪,臭气熏天。由此可见

- A.城市日益喧杂和拥堵 B.第二次工业革命助长了奢侈的风气  
C.工业的发展导致环境污染严重 D.新的交通工具出现便利人们的出行

25.牛顿被称为“现代科学之父”,他的主要贡献是

- A.提出了“相对论” B.发现了万有引力定律  
C.提出“太阳中心说” D.提出了“生物进化论”

## 第Ⅱ卷 非选择题(4小题,共50分)

### 二、非选择题(26题8分;27题12分;28题14分;29题16分)

26.明确的口号和纲领性文件对推动社会革命起着重大作用。下列是世界在迈向近代过程中发生的社会革命,请在横线处选择相应的文件。(把字母填到横线上,共8分)

- A.《独立宣言》 B.《人权宣言》 C.《解放黑人奴隶宣言》 D.《权利法案》

(1)1688年“光荣革命”后,英国议会通过了①,使资产阶级统治开始在英国确立起来。


(2)1776年7月4日,北美大陆会议发表了②,宣告北美13个殖民地脱离英国独立。

(3)1789年,法国资产阶级掌握了政权,颁布了③,宣称人们生来自由,权利平等,私有财产神圣不可侵犯。


(4)1862年,林肯政府颁布④后,广大黑人踊跃报名参军,北方军队因此获得了雄厚的兵源。

①\_\_\_\_\_ ②\_\_\_\_\_ ③\_\_\_\_\_ ④\_\_\_\_\_

27.图片记录历史。观察下列图片并结合所学知识,判断正误。正确的“√”,错误“×”。(12分)



图一:瓦特和蒸汽机



图二:1825年的蒸汽机车



图三:发明家爱迪生



图四:早期的汽车



图五:莱特兄弟及其发明

- (1)图一的人物和机器把人类带入了电气时代。( )  
(2)图二的发明者是斯蒂芬森。( )  
(3)图三发明家爱迪生发明的白炽灯泡,给人类带来了光明。( )  
(4)图四的交通工具属于第一次工业革命的发明成就。( )  
(5)图五的莱特兄弟发明了汽车生产流水线。( )  
(6)上述图片说明了科学技术改变人们的生产生活,创造了巨大的生产力。( )

28.社会的进步往往以思想的解放与观念的更新为先导。阅读下列材料,回答问题。(14分)

**材料一:**14-16世纪,许多艺术家、科学家和思想家继承和发扬古希腊、罗马文化传统,追求个性解放和思想自由,表现了人类不断追求进步的本性,一时成为风潮和时尚。

(1)材料一反映了世界近代史上哪一次思想文化运动?(2分)这一运动的核心思想是什么?(2分)

**材料二:**以伏尔泰为代表的进步思想家们,著书立说,宣传自由、平等和民主,反对专制,提倡对民众进行启蒙教育,用理性之光驱散愚昧的黑暗。





(2)材料二中的思想是哪一运动所宣扬的?(2分)它为18世纪在欧洲发生的哪一革命作了理论准备?(2分)

**材料三:**1848年,两个德国人向全世界宣告了一种新的社会主义理论诞生。此后,这一理论成为国际无产阶级无比锐利的思想武器,哺育了世界西方和东方两个半球的无产阶级运动,对人类社会的进程产生了深远影响。

(3)材料三中这一社会主义理论诞生的标志是什么?(2分)结合所学知识,写出1871年建立的世界第一个无产阶级政权名称。(2分)

(4)结合以上材料和问题,请你谈谈思想解放与社会进步的关系。(2分)

29.改革是推动社会进步的重要力量,一个国家要前行,就必须不断地进行改革和创新。阅读下列材料,回答问题。(16分)

**材料一:**什么力量迫使他们搞改革呢?这就是把俄国拖上资本主义道路的经济发展的力量……解放以前,农民的“叛乱”每十年都要高涨一次。这使头号大地主亚历山大二世不得不承认,从上面解放比等待从下面推翻要好些。——摘自列宁《“农民改革”和无产阶级农民革命》


(1)材料中“把俄国拖上资本主义道路”的是哪场改革?(2分)根据材料并结合所学知识,指出这次改革的根本目的是什么?(2分)

**材料二:**19世纪中期的几十年里,西方扩张的威胁和压力对日本的传统政治文化形成了致命的挑战。日本的反应从“不分青红皂白地一概敌视、文化上盲目自大,不情愿地承认自身在财富和力量上的劣势”,到后来“以夷制夷”,获得了成功。明治维新可以说是日本近代史的起点。


——摘编自张光《明治维新》

(2)根据材料二并结合所学知识,指出首先给日本带来“威胁和压力”的是哪个国家?(2分)为什么说明治维新是日本近代史的起点?(2分)

**材料三:**



图一:日本明治维新时期  
老师穿着西装上课



图二:明治维新时期的钢铁厂

(3)材料三中的两幅图分别反映的是日本明治维新中哪两项措施?(4分)

(4)综合俄国的改革和日本的明治维新,谈谈你的认识。(4分)

