

# 2020——2021 学年第一学期期末测试九年级历史试题

命 题 人: /

一、单项选择题（每小题 2 分，共 40 分，答案必须写在后面表格中。）


1. 假如你来到伯里克利主政时期的雅典，你会看到谁才有资格参加公民大会？

A. 外邦人 B. 奴隶 C. 妇女 D. 本邦成年男子

2. 文艺复兴时期的知识分子正处于古典文明再生的时代，他们的生活重心不再只有上帝，也逐渐关注现实人生，强调人的价值和尊严。这表明当时“知识分子”追求的是？

A. 自由主义思想 B. 复兴希腊罗马古典文化  
C. 民主平等思想 D. 人文主义思想

3. 15 世纪以前，人们并不清楚世界究竟有多大，有多少陆地，有多少海洋。从 15 世纪开始，欧洲许多冒险家多次进行海外探险。下列哪位航海家与发现新大陆美洲有关？



哥伦布

A



迪亚士

B



达·伽马

C



麦哲伦

D

4. 目录索引是阅读书籍的方法之一。下列标题最适合作图示九年级上册第六单元标题的是

A. 步入近代  
B. 战后初期的世界  
C. 资本主义制度的扩展  
D. 资本主义制度的初步建立

## 第六单元

第 17 课	君主立宪制的英国
第 18 课	美国的独立
第 19 课	法国大革命和拿破仑帝国

5. 据统计，在 16 世纪的前 25 年中，有 12000 名奴隶被贩运，在之后的 25 年中这一数字达到了 40000 人，在 1550 年至 1575 年间更是超过了 60000 人。15-19 世纪的近 400 年间，黑奴贸易使非洲丧失了上亿的人口。这反映了奴隶贸易

A. 加速了西欧的资本原始积累  
B. 给非洲人民带来了深重灾难  
C. 推动了世界市场的最终形成  
D. 把欧洲文化传播到了殖民地

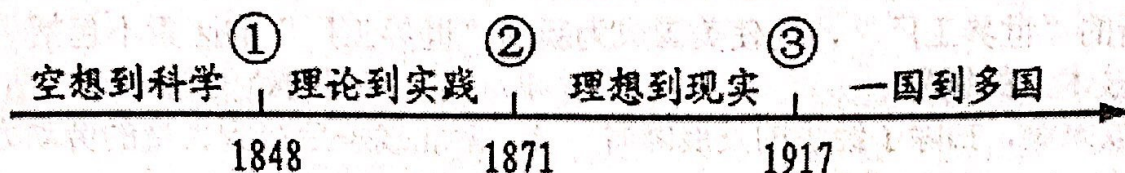




6. 科技创新改变了人们的生活和世界的面貌。下列历史人物与其发明对应正确的一组是

- A. 本茨——蒸汽机      B. 爱迪生——耐用的白炽灯泡  
C. 斯蒂芬森——珍妮机      D. 瓦特——飞机

7. 如图国际社会主义运动整体发展趋势示意图，其中①处对应的历史事件是



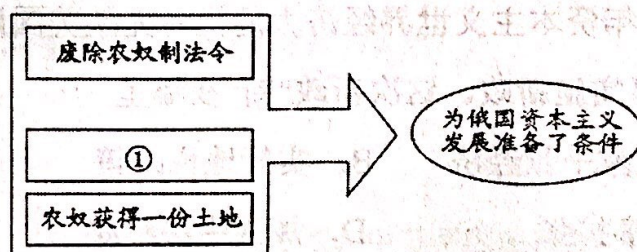
- A. 法国巴黎公社      B. 《共产党宣言》发表  
C. 第一国际成立      D. 俄国十月革命

8. 美国史学家爱默生在评价南北战争时，认为“符合社会利益的革命总是永远地为人民所记忆”。对“符合社会利益”理解正确的是

- A. 实现了民族独立      B. 缓解了美苏矛盾  
C. 巩固了奴隶主统治      D. 维护了国家统一

9. 史论结合是历史学习的基本方法。根据图示，如图①处应填的正确史实是

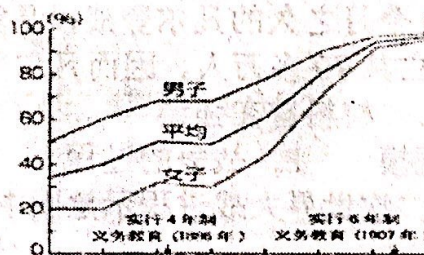
- A. 农奴获得人身自由  
B. 生活方式西化  
C. 推行文化教育  
D. 向西方学习



10. 下列图片信息体现出明治维新时期的哪项主要措施？



模仿西方生活方式的东京鹿鸣馆



明治维新时期的教育普及率

- A. 废藩置县      B. 文明开化      C. 地税改革      D. 殖产兴业

11. 分析两次世界大战一览表，表中所示内容共同说明了

名称	时间	参战国家	卷入人口	伤亡人数	经济损失
----	----	------	------	------	------





一战	4年多	30多个	15亿	0.3亿	3300多亿美元
二战	6年多	60多个	20亿	0.6亿	4万多亿美元

A. 都推动了科学技术的发展      B. 都是非正义的帝国主义掠夺战

C. 都给人类带来巨大的灾难      D. 都是反对德国法西斯的战争

12. 随着第二次工业革命的兴起,美国抛弃了英国模式,转向重工业发展……成为了新的“世界工厂”,促使美国成为新的“世界工厂”的因素不包括

A. 科学技术上的领先      B. 拥有广阔的殖民地  
C. 废除奴隶制,扫除了经济的发展障碍      D. 南北战争后得到大量的劳动力

13. 巴黎和会后,一位代表说:“我们初来巴黎时,对即将建立新秩序满怀信心,离开时,则感到新秩序比旧秩序更加纠缠不清。”他之所以这样说,是因为巴黎和会后建立的“新秩序”

A. 没有改变第一次世界大战前的世界秩序  
B. 彻底消除了战胜国和战败国之间的矛盾  
C. 重新确立了帝国主义在东亚、太平洋地区的统治  
D. 没有从根本上消除帝国主义列强之间的矛盾

14. 1929年资本主义世界经济大危机首先从美国爆发,罗斯福为缓解本国经济危机实施新政。这次新政“新”在哪里

A. 国家干预经济      B. 实行地税政策  
C. 军事扩张      D. 加强中央集权

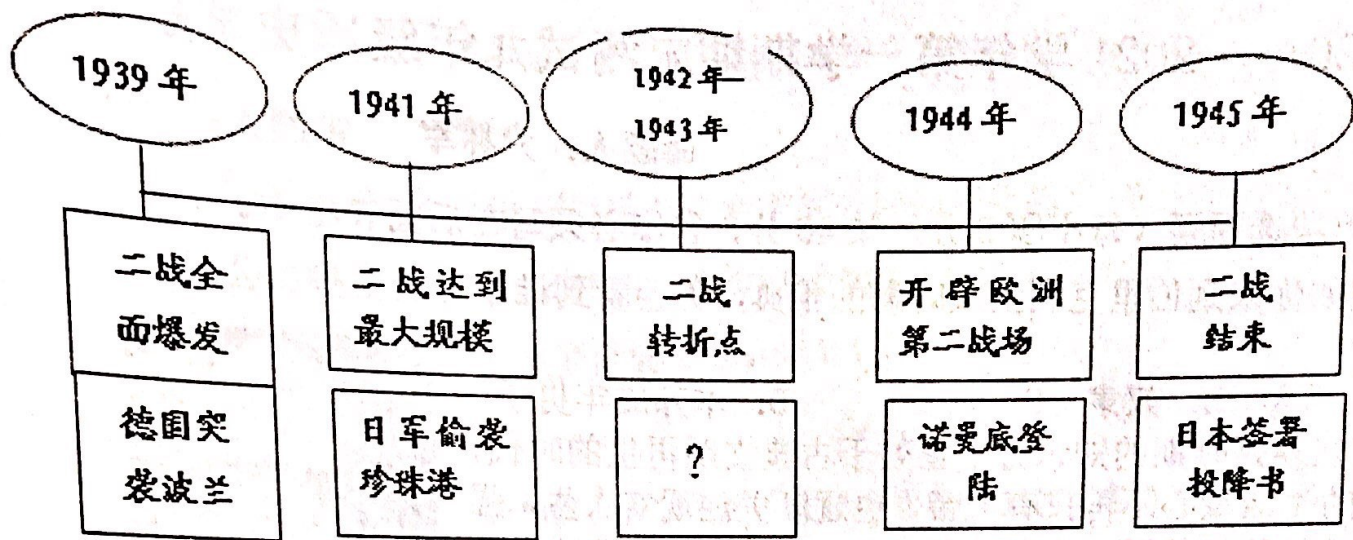
15. 历时10个月之久的凡尔登战役是第一次世界大战中时间最长的一次战役,双方伤亡共70多万人,因而凡尔登战场被称为“绞肉机”、“屠场”和“地狱”,材料旨在强调

A. 战争的规模      B. 战争的过程      C. 战争的残酷      D. 战争的结果

16. 下边第二次世界大战进程示意图中“?”处应该填入的内容是







- A. 萨拉热窝事件      B. 凡尔登战役  
C. 斯大林格勒战役      D. 雅尔塔会议
17. 1945 年柏林战役后，美、苏、英三国士兵站在希特勒府邸的平台上合影（图 5），这张合影直接反映了



图 5

18. 2017 年，习近平总书记指出“世界正处于百年未有之大变局”。对“大变局”理解正确的是

- A. 世界多极化趋势进一步发展      B. 地区冲突日增，世界局势趋于紧张  
C. 世界多极化格局已经形成      D. 形成以美国为主导的“单极世界”
19. 2020 年是非洲获得完全独立 30 周年。30 年前，标志着所有非洲国家都摆脱了殖民主义枷锁的事件是
- A. 埃及华夫脱运动      B. 印度非暴力不合作运动  
C. 纳米比亚的独立      D. 古巴走上社会主义道路

20. 作为近代科学的奠基人之一，他除了在光学、力学和数学方面有开创性研究之外，还发现了一个宇宙定律，这个定律是揭开天体运行面纱的轰动性、革命性结论。这位科学家是？
- A. 达尔文      B. 牛顿      C. 瓦特      D. 诺贝尔





# 2020—2021 学年第一学期期末测试九年级历史试题

命题人： /

## 一、单项选择题（每小题 2 分，共 40 分）

题号	1	2	3	4	5	6	7	8	9	10
答案										
题号	11	12	13	14	15	16	17	18	19	20
答案										

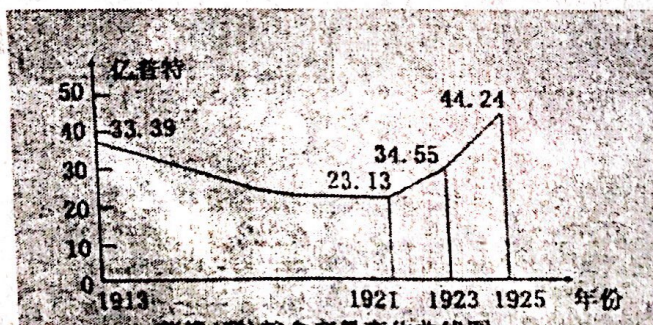
## 二、材料分析题（每小题 20 分，共 60 分）

21、（20 分）阅读材料，回答下列问题：

材料一、毛泽东曾高度评价这场革命：……革命不只是开创了俄国历史的新纪元，而且开创了世界历史的新纪元。”

(1) 材料一中毛泽东曾高度评价的是哪一场革命？领导人是谁？毛泽东为什么说这场革命开创了“新纪元”？(6 分)

材料二、



苏俄(联)粮食产量变化曲线图

材料三、1921 年开春以来，我们提出完全不同的、改良主义的办法来代替原先行动的办法、方案、方式、制度。所谓改良主义的办法，就是……活跃商业、小企业、





资本主义，审慎地逐渐地掌握它们，或者说，做到有可能只在使它们活跃起来的范围内对它们实行国家调节。 一列宁

(2) 根据材料二分析 1921~1925 年苏俄(联)粮食产量呈现怎样的变化趋势?并根据材料三指出这种变化得益于什么“改良主义的办法”?根据材料三并结合所学知识分析“改良主义的办法”最主要的特点是什么?(6分)

材料四、以下为 1913--1937 年俄国工业产值及重要工业产品在世界及欧洲的排名表

	1913 年	1928 年	1932 年		1937 年	
	世界	世界	世界	欧洲	世界	欧洲
工业生产总值	5	5	3	2	2	1
机器制造业	4	4	2	1	2	1
石油	2	3	2	1	2	1

(3) 依据材料四指出 1937 年苏俄(联)工业产值及重要工业产品在世界及欧洲的排名是怎样的? 1937 年苏联在位的领导人是谁?结合所学知识指出上表中 1928 年后苏联工业产值排名发生变化的主要原因。(6分)

材料五、[成败与反思]20 世纪 80 年代初期至 90 年代初期，中苏两国在社会主义现代化模式上都进行了深入的探索，结果却一成一败。

(4) 从中苏改革一成一败的结果中，你得到了什么启示?(2分)

22、(20 分)团结就是力量、合作才能实现双赢。

下面以“合作”为主题。请你联系所学的知识，探究下列问题。

材料一：在联盟内部，各国的社会制度和意识形态并不一致，作战目的也不尽相同，虽然不时产生各种矛盾和斗争，但摧毁法西斯是他们的共同目标。正是这种根本利

九年级历史试卷 第 2 页 (共 8 页)





使他们因结起来，互相配合支援。直到战争取得最后胜利。

——吴于座、齐世荣(世界史)

- (1) 材料一中的“联盟”出现在哪一次战争中?依据材料一和所学知识回答:  
“联盟”成立的标志及其意义。(6分)

材料二、20世纪50年代,法国、联邦德国等国先后签订了条约,建立“煤钢共同体”“经济共同体”“原子能共同体”。1965年,法国、联邦德国等西欧六国决定上述三个共同体合并,组成欧共体.....随着欧洲一体化的发展...1999年,欧洲联盟正式建立。20世纪90年代初,美苏两极格局终结。欧盟却日益扩大,在国际舞台上的地位日益提高,成为多极化发展趋势中重要的一极。

- (2) 根据材料二,指出欧洲联合从哪一领域开始?根据材料并结合所学知识回答:欧洲的联合对欧洲的发展和世界政治格局产生怎样的影响(6分)

- (3) 根据材料三“历史学习卡片”的提示,分别写出A、B两处的国际组织名称。它们的建立有什么作用?(6分)

组织名称: _ A	组织名称: _ B
建立时间: 1945年10月	建立时间 1995年1月1日
总部: 美国纽约	总部: 瑞士日内瓦

材料四: 习近平指出, 在各国被

此依存. 全球性挑战此起彼伏的今天, 各国要对接彼此政策, 在全球更大范围内整合经济要素和发展资源, 才能形成合力。促进世界和平安宁和共同发展。

——“一带一路”国际合作高峰论坛圆桌峰会联合公报

- (4) 综合上述四则材料及所学知识。谈世界各国应该如何“促进世界和平安宁和共同发展”。(2分)





23、(20分)世界政治格局指世界上主要政治力量通过一系列的抗衡分化组合而形成的一种结构。

材料一、列宁说：“靠《凡尔赛条约》来维持的整个国际秩序是建立在火山口上的。”

材料二、1945年后，经济冲突与共产主义和资本主义在意识形态的抵触是一致....，然而意识形态上的相互猜忌，却使美苏之间的利益冲突转为情感上的不合。双方都逐渐相信，对方企图摧毁自己的一切生活方式。包围与颠覆一对孪生妖孽，在双方似乎能证实自己的假设不虚时，更真正成为—种存在的实体了。

材料三、冷战结束....为具有更加多元化特点的社会开启了大门。

材料四：全球范围内冲突和贫困尚未根除，但和平与发展的时代潮流愈发强劲。世界多极化、经济全球化、文化多样化、社会信息化深入发展。弱肉强食的丛林法则、你输我赢的游戏不再符合时代逻辑，和平、发展、合作、共赢成为各国人民共同呼声。

- - 摘自习近平《论坚持推动构建人类命运共同体》

(1)材料—中的“条约”是在哪次会议上签署的?这次会议在我国引发了什么事件?这次会议和华盛顿会议共同构成了一战后怎样的国际新秩序?(6分)

(2)根据材料二指出，导致美苏之间“利益冲突转为情感上的不合”的根本原因是什么?美苏为“包围与颠覆”对方而建立的“实体”分别叫什么?这对世界格局产生了怎样的影响?(6分)

(3)材料三中“冷战结束了”的标志性事件是什么?“具有更加多元化”体现了世界政治格局呈现出怎样的一种趋势?(4分)

(4)根据材料四并结合所学知识指出，当今世界的时代主题是什么?中国该如何应对纷繁复杂的国内、国际形势?(4分)





# 2020——2021 学年第一学期期末测试九年级历史试题

## 参考答案

### 一、单项选择题（每小题 2 分，共 40 分）

题号	1	2	3	4	5	6	7	8	9	10
答案	D	D	A	D	B	B	B	D	A	B
题号	11	12	13	14	15	16	17	18	19	20
答案	C	B	D	A	C	C	A	A	C	B

### 二、材料分析题（每小题 20 分，共 60 分）

21、(20 分) (1) (1)十月革命。列宁。世界上第一次胜利的社会主义革命，建立了世界上第一个无产阶级专政的国家，推动了国际无产阶级革命运动。

(2) 上升趋势。新经济政策。允许多种经济成分，大力发展商品经济。（或把社会主义和商品经济、市场联系起来。）

(3) 欧洲第一、世界第二；斯大林；高度集中的经济政治体制的积极作用（工业化建设或第一个五年计划的实施）。

(4) 启示：社会主义建设要从本国国情出发，实事求是；社会主义制度需要完善和发展；要以经济建设为中心，维护人民群众的利益等。（2 分）

22、(20 分) (1) 第二次世界大战；签署《联合国宣言》；各国相互支援、协同作战，扭转了战争的形势，并取得了反法西斯战争的最后胜利。

(2) 经济领域；

对欧洲：发展了经济，提高了国际地位；

对世界：冲击力两极格局，推动世界多极化进程。

(3) 联合国；世界贸易组织；成为支撑、协调世界政治、经济的两大支柱，推动世界的和平与发展。

(4) 加强国际间的交流与合作，反对霸权主义和贸易保护主义，发挥联合国和世界贸易组织的作用，构建人类命运共同体。

23、(20 分) (1) 巴黎和会；五四运动；凡尔赛——华盛顿体系。

(2) 意识形态上的相互猜忌和美苏之间的利益冲突（或国家利益和社会制度的差异）；北约和华约；



HUAWEI Mate 10 Pro  
NEW LEICA DUAL CAMERA



扫描全能王 创建



形成两极格局。

(3) 1991 年联解体：多级化趋势，暂时形成一超多强的局面。

(4) 和平与发展：

反对霸权主义和强权政治：各国应尽置以谈判磋商等和平方式来解决国际争国：致力于建立公正合理的国际新秩序：加强联合国和世界贸易组织的作用：等等。



HUAWEI Mate 10 Pro  
NEW LEICA DUAL CAMERA



扫描全能王 创建