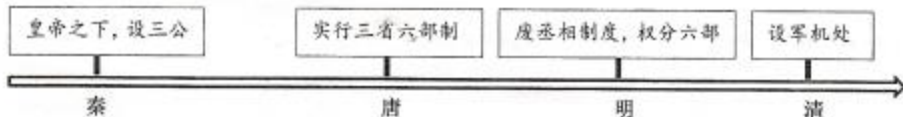


九年级历史练习卷

一、单项选择(本大题共15题,每小题2分,共30分)

1. “为政以德,譬如北辰,居其所而众星共之。”该学派在战国时期的代表思想是()
A. 实行仁政 B. 兼爱非攻 C. 顺应自然 D. 以法治国
2. “(永乐三年)自苏州刘家河泛海至福建……以次遍历诸番国,宣天子诏,因给赐其君长……诸国使者随和朝见。”据此,该事件的目的是()
A. 开辟亚非海上交通线 B. 推动中日的友好交流
C. 提高明朝的国际威望 D. 展示先进的造船技术
3. 对下图实质理解最为准确的是()



- A. 中央集权不断加强 B. 行政效率不断提高
C. 宰相权力不断削弱 D. 君主专制不断强化
4. 他在给道光帝的上书中指出:“迨流毒于天下……是使数十年后,中原几无可以御敌之兵,且无可以充饷之银。”“他”的主要功绩是()
A. 发起禁烟斗争 B. 领导农民起义 C. 兴办军事工业 D. 创办民用企业
5. “1872年4月30日在上海创刊,从发刊到终刊,前后经营了77年,见证、记录晚清以来中国曲折复杂的发展历程。”材料描述的是()



6. “毛主席的战略思想,就是要把蒋介石的部队封锁在长江以北打,不让他跑掉!这是一个伟大的战略思想。”材料反映的战役是()
A. 辽沈战役 B. 淮海战役 C. 平津战役 D. 渡江战役

7. 右表中这一时期农产品产量变化的主要原因是 我国主要农产品产量表(单位:万吨)

- A. 进行了土地改革
B. 成立了农业生产合作社
C. 开展了人民公社化运动
D. 实行了家庭联产承包责任制

种类	1950年	1951年	1952年
粮食	13213	14369	16392
棉花	69.2	103.1	130.4

8. 1978年,我国在生产资料销售收入总额和社会商品零售总额中,政府定价的比重分别占到100%和97%;2005年,这些比重分别为5.9%和2.7%。有人认为这一变化与1992年改革的新举措有关。作出这一判断的主要依据是1992年

- A. 制定改革开放基本国策 B. 在沿海设立经济特区
C. 提出建立社会主义市场经济体制 D. 肯定私营经济合法地位
9. 新中国成立后,我国在各个领域都取得了伟大成就。下列选项最有可能出现在社会主义现代化建设新时期的是
A. 抗美援朝的胜利 B. “两弹一星”的成功
C. 第一个五年计划的完成 D. 神舟五号升入太空

10. “法典只是在前代法典基础上的整理和简化,而不是在新的基础上创制新的法律。”这里所说的“法典”指()

- A. 《十二铜表法》 B. 《罗马民法大全》 C. 《拿破仑法典》 D. 《查士丁尼法典》

11 马克思说:“希腊的内部极盛时期是伯里克利时代,外部极盛时期是亚历山大时代。”希腊“外部极盛时期”对世界文明产生的深远影响是

- A. 促进了东西方文化的交汇 B. 推动了奴隶制民主政治的发展
C. 促进了基督教的传播 D. 促进了海外贸易的发展

12. 一位 18 世纪的英国经济学家写道:“英国的贸易是一个建立在非洲基础之上,由美洲商业加海军力量组成的宏伟的上层建筑。”在 17—18 世纪的英国贸易体系中,非洲主要是

- A. 生产烟草、蔗糖等原材料 B. 为美洲种植园提供劳动力
C. 生产火器、机械制品等商品 D. 发展海军力量,进行海外扩张

13. 下列史实与结论之间逻辑关系对应正确的是()


	史实	结论
A	《北大西洋公约》的签署	正式形成两极格局
B	“福利国家”制度的建立	彻底消除贫富差距
C	赫鲁晓夫改革的推行	根本解决了苏联模式的弊端
D	欧洲联盟的成立	大大加快了欧洲一体化进程

14. 1920 年,苏俄面临农业产量急剧下降,饥荒严重的问题。1921 年,政府调整政策

- A. 发布了废除农奴制法令 B. 开始征收粮食税
C. 加快农业集体化的进程 D. 鼓励广泛种玉米

15. 根据右图,为其选择一个最恰当的主题()

- A. 走向近代社会 B. 一战后初期的世界
C. 走向和平发展的世界 D. 二战后资本主义的新变化



二、辨析改错(8分)

16. 外交地位取决于综合国力,反映一个国家的国际地位。辨别下列史实的正误,在“答题卷”该题号前的括号内正确的打“√”,错误的打“×”,并加以改正。

【 】(1) 汉武帝时期班超出使西域,开辟了丝绸之路,对于中国同其他国家和地区的贸易与文化交流,起到了极大的促进作用。

改正: _____

【 】(2) 1901 年《马关条约》的签订,标志着清政府完全成为帝国主义统治中国的工具。

改正: _____

【 】(3) 1971 年,第 26 届联合国大会通过决议,恢复中华人民共和国在联合国的合法席位。

改正: _____

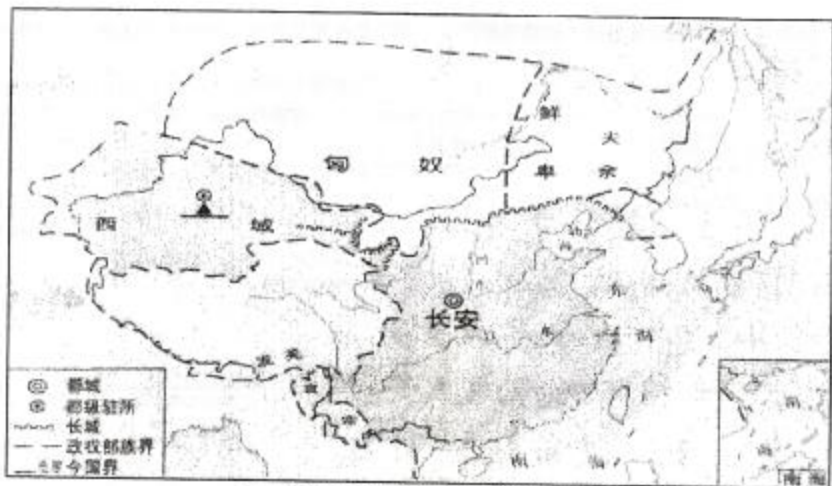
【 】(4) 新时期中国外交呈现出“全方位、多层次、宽领域”的外交布局。

改正: _____

三、材料解析(本大题共 2 小题,每小题 10 分,共 20 分)

17. 阅读材料,完成下列要求。

材料一



——统编版义务教育教科书《中国历史七年级》(上册)

材料二 它是第一个由少数民族所建立的、统一的多民族政权……统治者在统治不同区域时,实施多元包容政策,承认不同族群文化、习惯等方面的差别,各依本俗,不加统合,同时利用族群差别进行统治,而这正是“变通”最现实的体现。

——《蒙元民族政策研究》

材料三 清朝自其入主中原……就继承了中国历代王朝的疆域观,要实现全国统一。……清朝对一些边疆民族政策,当尚未能直接进行统治时,就借助于其它力量,……一般的边疆地区部族和政权,如不肯接受清政府的统一政策,进行武力对抗,清朝即以兵戎相见。

——《清朝边疆统一论》

请回答:

- (1) 材料一是哪一朝代的疆域图?结合所学,写出图中▲所示郡级驻所名称。(2分)
- (2) 材料二中“它”的建立者是谁?据材料,这一时期对不同区域采取何种“变通”政策?结合所学,写出此时对西南地区有效管理的措施。(3分)
- (3) 清朝“入主中原”时的皇帝是谁?结合所学,列举清朝对“边疆地区”有效治理的方式。(3分)
- (4) 综上所述,概括我国古代对边疆地区治理的特点。(2分)

18. 阅读材料,完成下列要求。

材料一 大工业建立了由美洲的发现所准备好的世界市场。……资产阶级,由于开拓了世界市场,使一切国家的生产和消费都成为世界性的了。……它们的产品不仅供本国消费,而且同时供世界各地消费。……它使未开化和半开化的国家从属于文明的国家,使农民的民族从属于资产阶级的民族。

——《共产党宣言》

- (1) “美洲的发现”和哪一事件有关?该事件使世界发生了什么变化?据材料一,分析世界市场形成的主要原因及对世界格局的影响。(4分)

材料二

以开放、平等、互惠的原则，
逐步调降各成员关税与非关税贸易
障碍，并消除各成员在国际贸易上的
歧视待遇。 ——某组织宗旨

在经济全球化时代，各国发展环环
相扣，一荣俱荣，一损俱损。没有哪一
个国家可以独善其身，协调合作是必然
选择。 ——《G20 工商峰会主旨演讲》

(2) 写出材料二中“某组织”的全称和正式成立的具体时间。据材料三，指出中国在“经济全球化时代”的选择并举例说明。(4分)

(3) 综上所述，概括推动经济全球化发展的主要因素。(2分)

四、活动与探究(12分)

19. 2021 年是中国共产党诞辰 100 周年，100 年来中国共产党领导中国人民取得了民主革命和社会主义建设的辉煌胜利。某校九年级(1)班同学开展了“革命、建设与中国共产党”的主题探究活动，请你参与。

【回眸历史】



图一 解放军占领总统府



图二 公私合营股票



图三 1981 年深圳市 001 号中外合资企业营业执照

(1) 图一反映的事件标志着_____的覆亡；

图二中对私人(资本家)占有的生产资料实行_____。(2分)

【论从史出】

(2) 同学们通过探究“革命、建设与中国共产党”，得出“100 年来中国共产党领导中国人民在三个历史时期做了三件大事”结论。请结合上述图片和所学历史知识简要说明。(6分)

①: _____

②: _____

③: _____

【读史明智】

(3) 根据图二指出该措施使企业所有制性质发生的变化；结合所学知识，写出图三“营业执照”颁布的直接政策因素；比较图二和图三，分析图三企业所有制的新变化。(3分)

(4) 综合上述材料，中国共产党领导革命和建设道路的特点。(1分)