

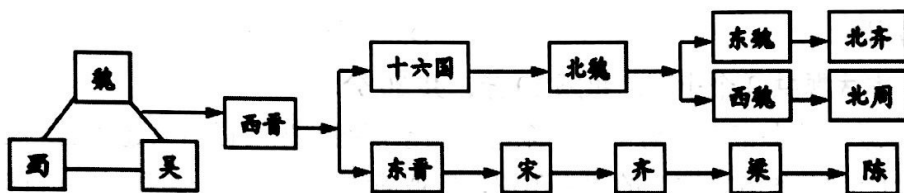
2021 年初中学业水平考试模拟练习 历史试题（一）

一、选择题：本大题包括 20 个小题，每小题 1 分。共 20 分。


1. 右图为清代山东籍收藏家陈介祺收藏过的青铜器毛公鼎，是毛公为铭记周王册封而铸。它属于




- A. 礼器
B. 食器
C. 乐器
D. 酒器
2. 毛泽东在《后汉书·光武帝记》批注中称东汉光武帝刘秀是“历史上最有学问，最会用人，最会打仗的皇帝”。该皇帝曾诏令说：“今边郡盗谷五十斛（hú），罪至于死，开残吏妄杀之路，其蠲（juān）除此法，同之内郡”。这道诏令所反映的统治措施是
- A. 释放奴婢，缓和矛盾
B. 监管官吏，惩处贪官
C. 废除酷法，减轻刑罚
D. 合并郡县，裁减官员
3. 把握历史发展的阶段特征是历史学习的基本要求。下面示意图反映出的阶段特征是




- A. 社会变革
B. 政权分立
C. 繁荣开放
D. 国家统一
4. 唐玄宗在位前期，整顿吏治、裁减冗员，发展经济、改革税制，注重文教、编修经籍，唐朝进入鼎盛时期，史称
- A. 文景之治
B. 光武中兴
C. 贞观之治
D. 开元盛世
5. 北宋与辽、西夏既发生对峙战争，又一直进行相互之间的商业往来。在榷场，官府和商人交换各种商品，且数量很大。这种态势
- A. 源于辽夏夺取宋朝土地人口
B. 使辽宋夏处于长期战争状态
C. 加深彼此了解促进民族交融
D. 表明落后民族征服先进民族
6. 下列著作的共同特点是



《本草纲目》



《天工开物》



《农政全书》



- A. 传统医学不断发展 B. 手工技艺推陈出新
C. 农业技术推广普及 D. 古代科技经验总结

7. 1875 年，中国近代第一批海军留学生出国时曾宣言：“此去西洋，应深知中国自强之计，舍此无所他求。背国家之未来，取尽洋人之科学赴七万里长途，别祖国父时之邦，奋然无悔。”可见，他们当时出国留学的最终目的是

- A. 救国图强 B. 兴办洋务 C. 学习科技 D. 游历西洋

8. 造成右表项目变化的主要原因是

- A. 府院之争
B. 军阀纷争
C. 列强侵略
D. 农民战争

项目	时 间	变 化
农户	1914~1918 年	减少 1500 多万户
耕地	1914~1918 年	减少 2600 多万亩
荒地	1914~1918 年	增加 4900 多万亩

9. “在全国抗日救亡运动高涨和中

国共产党‘逼蒋抗日’方针以及绥远抗战胜利的影响之下，张学良、杨虎城率领的东北军、西北军，12月12日在西安发动了对蒋介石的兵谏，并向全国提出了‘停止内战、一致抗日’的主张。”材料中事件的解决

- A. 标志着中华民族十四年抗战开始
B. 标志着抗日民族统一战线初步形成
C. 揭开了中华民族全面抗战的序幕
D. 标志着国共两党第二次合作正式实现

10. “在中国长达数千年的发展历史上。公元前 221 年、公元 1911 年和 1949 年发生的三次大革命，从根本上改变了中国的政治和社会结构。”要了解第三次“大革命”的历史，我们可以查阅的教材



A



B



C



D

11. 1992 年初，邓小平在南巡讲话中指出：“计划经济不等于社会主义，资本主义也有计



划，市场经济不等于资本主义，社会主义也有市场。”表明中国要建立

- A. 社会主义商品经济体制
B. 社会主义计划经济体制
C. 社会主义市场经济体制
D. 家庭联产承包责任制

12. 在中国特色社会主义理论体系中，马克思主义中国化最新成果是

- A. 邓小平理论
- B. “三个代表”重要思想
- C. 科学发展观
- D. 习近平新时代中国特色社会主义思想

13. “农业、采矿业、渔业和林业产量的提高，相应地促进了商业和城市的发展……城市作为地方贸易和地方行政的中心，开始慢慢地出现。”材料反映欧洲城市兴起的主要原因是

- A. 社会生产力的发展 B. 市民阶层发展壮大
C. 庄园的出现 D. 大学的兴起

14. 《全球通史》记载：“西欧到 14^{世纪}，城市成为贸易中心，……佛罗伦萨市区有手工工场 300 家，年生产呢绒十多万匹；1343 年佛罗伦萨市中有九万余人，从事呢绒生产约三万人，占全城居民的三分之一。”材料说明这一时期的西欧

- A. 出现了资本主义萌芽 B. 开始了文艺复兴
C. 完成了新航路开辟 D. 垄断了东西方贸易

15. 1804 年颁布的《法国民法典》规定：“所有法国人都享有民事权利”“交易范围的物品，除特别法禁止出让者外，均可出售”。以上规定体现的原则是

- A. 议会主权 B. 革命共和 C. 平等自由 D. 权力制衡

16. 17 世纪末，英国资本主义经济迅速发展，随着国内外市场的不断扩大，对棉纺织品的需求迅速增长，刺激了棉纺织生产方式的改进和新技术的发明。这表明工业革命时期的技术革新

- A. 来源于人们生活中的无意发现
B. 受到了市场需求扩大的推动
C. 体现了科学与技术的密切结合
D. 推动垄断组织的产生与发展

17. 下侧内容是某同学在学习《殖民地人民的反抗斗争》一课时笔记, 空白处应该是

殖民地人民的反抗斗争 { 一、拉丁美洲独立运动 { 圣马丁
章西女王
二、印度民族大起义

历史模拟（一）第3页 共7页



扫描全能王 创建

A. 玻利瓦尔 B. 卡斯特罗 C. 纳赛尔 D. 甘地

18. 《震撼世界的十天：苏联的诞生》是美国著名记者约翰·里德在亲历十月革命后写成的纪实作品。由于取材严谨，立场客观，被誉为不可多得的研究十月革命的经典著作。你认为十月革命带给当时世界的最大“震撼”是

- A. 推翻了沙皇政权 B. 科学共产主义诞生
C. 第一次尝试建立无产阶级政权 D. 世界上第一个社会主义国家诞生

19. 以下对罗斯福新政和新经济政策的共同点的表述，正确的是

- A. 都巩固了工农联盟 B. 都是生产关系的局部调整
C. 都引发了经济危机 D. 都彻底改变了社会的性质

20. 某一国际组织与联合国成为支撑、协调世界经济和政治的两大支柱，被誉为“经济联合国”。该国际组织是

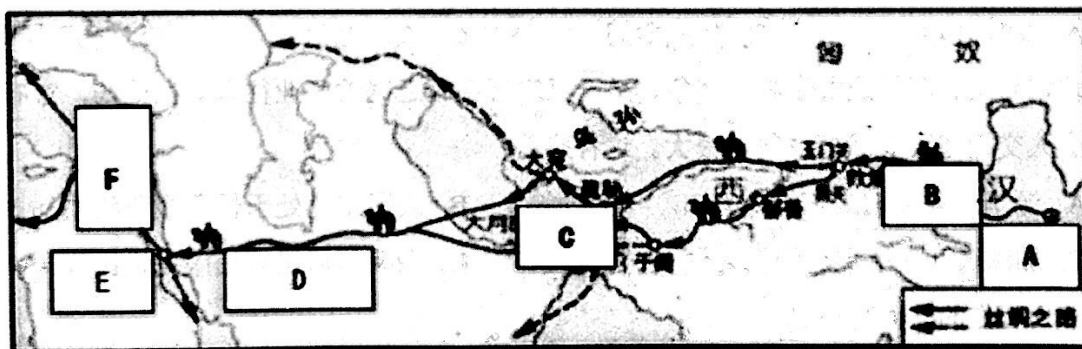
- A. 华沙条约组织 B. 亚太经合组织
C. 世界贸易组织 D. 二十国集团

二、非选择题：本大题共3个小题，每题10分，共30分。

21. 2013年，习近平总书记在出访中亚和东南亚国家期间，先后提出共建“丝绸之路经济带”和“21世纪海上丝绸之路”的重大倡议，后被简称为“一带一路”。阅读材料，回答问题。

【丝路辉煌】

材料一 汉代丝绸之路图



- (1) 据图并结合所学知识，写出图中字母F所代表的古国。结合所学知识，说明哪一历史事件为丝绸之路的开辟奠定了基础？“丝绸之路”的开辟对古代中西方的交流产生了什么积极的影响？(4分)



【丝路发展】

材料二 是时四方儒士，多抱负典籍，云会京师。俄而高丽及百济、新罗、高昌、吐蕃等诸国酋长，亦遣子弟请入于国学之内。鼓篋而讲筵者，八千余人，济济洋洋焉，儒学之盛，古昔未之有也。
——《儒学传上》

(2) 结合所学知识，你认为唐朝对外交往活跃的主要原因有哪些？(2分)

材料三 开宝四年(971年)，宋太祖赵匡胤“置司于广州，后又于杭、明州置司”……根据考古，东起日本，南到印尼，西到东非，甚至在非洲内陆的津巴布韦都有宋代瓷器的发现。……与宋代进行通商的国家和地区有50个，其中宋代海船直接到达的有20多个(当时)。
——摘编自梁俏《宋代海外贸易特点及其评价》

(3) 据材料结合所学知识，宋朝著名的瓷都是哪里？宋朝为鼓励海外贸易在主要的港口设立的管理机构是什么？(2分)

【丝路畅想】

材料四 可以说中国“一带一路”的构想堪称人类历史上第二次地理大发现，它的最大历史意义在于它又将地球翻转了过来，让我们看到了已经沉睡了500年的欧亚大陆，更重要的是，中国又回到了最显眼的地方。
——中国日报网

(4) 如何理解“中国‘一带一路’的构想堪称人类历史上第二次地理大发现”这句话？(2分)

22. 近代以来，中国人民进行了艰辛的探索，在中国共产党的领导下，共筑中国梦。阅读下列材料，回答问题。

材料一 著名学者茅海建指出：“如果我们把视野放大，从今天的角度去探讨这次战争的意义，我们会首先看到，这场战争把中国拖入世界。从此开始，中国遭受了列强的百般蹂躏；从此开始，中国经受了寻找新出路的百般苦难。”

(1) 材料一中“把中国拖入世界”的这场战争是什么？为“寻找新出路”而开启中国近代化的是哪一事件？(2分)

材料二 中国共产党自1921年诞生之日起，从大革命失败的血雨腥风到井冈山的星火燎原，从第五次反“围剿”失败到经过万里长征后在抗日烽火中再起，从奋起反击国民党军的全面内战到五星红旗在天安门广场冉冉升起，正可谓“雄关漫道真如铁，而今迈步从头越”！
——摘自习近平总书记关于“中国梦”的重要讲话

(2) 结合所学知识，举出材料二中“抗日烽火”时期，中国共产党指挥的著名战役一例。(1分)



材料三 1953 年—1956 年，我国创造了许多历史上的第一；1953 年，中国第一座大型露天煤矿——辽宁阜新海州露天煤矿建成投产；1955 年，新中国第一套 6000 千瓦火力发电机在上海组装成功；1955 年，中国第一块国产手表在天津诞生；1956 年，中国第一辆解放牌汽车在长春第一汽车制造厂生产出来；1956 年，中国第一架喷气式歼击机在沈阳试制成功；1956 年，中国第一个制造机床的工厂——沈阳第一机床厂建成投产。

(3) 材料三中出现“许多历史第一”的原因是什么？根据材料归纳这一时期工业建设的特点。(2 分)

材料四 1978 年——2017 年国内生产总值表

时间	1978 年	1990 年	2000 年	2010 年	2017 年
国内生产总值 (亿元)	3678.7	18872.9	100280.1	413030.3	827121.7

——摘编自统编教材《中国历史》八年级下册

(4) 分析材料四数据的变化，你能得到什么信息？结合所学知识，说说这一变化得益于什么政策的实施？(3 分)

材料五 道路问题是关系党的事业兴衰成败第一位的问题。我们党和人民在长期实践探索中，坚持独立自主走自己的路，取得革命建设伟大胜利，开创和发展了中国特色社会主义，从根本上改变了中国人民和中华民族的前途命运。

——《习近平总书记系列重要讲话读本》

(5) 根据材料五结合所学知识回答，中国革命胜利的正确道路是什么？你认为中国革命道路和建设道路取得成功的经验有哪些？(2 分)

23. 历史发展中的危机，是险境也是机遇。抓住机遇化解危机，进而推动社会进步，是世界各国共同的追求。阅读下列材料，回答问题：

材料一 1853 年，美国佩里将军的舰队陈兵东京湾，日本无力抵御它们。十年前，美国人在鸦片战争中，对中国也曾这样耀武扬威……与中国截然不同的是，19 世纪 60 年代，日本宣告了一个迅速改革和西方化时代的到来。

——史兹·墨菲《亚洲史》

(1) 由材料一概括 19 世纪中期中日两国面临的相同困境。19 世纪 60 年代日本“迅速改革”是指哪一历史事件？(2 分)

材料二 1929 年纽约股市的崩溃，突然终结了 20 年代的繁荣。恐慌从一国蔓延到另一国……法国和英国都显得犹豫不决，不能也不愿采取激烈的政府手段去恢复经济。……

历史模拟 (一) 第 6 页 共 7 页



美国对经济危机做出了更积极的回应。


——威廉·麦克尼尔《世界史》

- (2) 由材料二及所学知识，美国“对经济危机做出了更积极的回应”是指什么？这种“更积极的回应”有何特点？（2分）

材料三

在日本海军偷袭珍珠港后，德、意、日法西斯签订联合作战协定。面对法西斯国家的联合行动，加强盟国内部的团结就显得非常重要。美国海报上的文字写着“团结，我们就能强大”、“团结，我们就能获胜”。

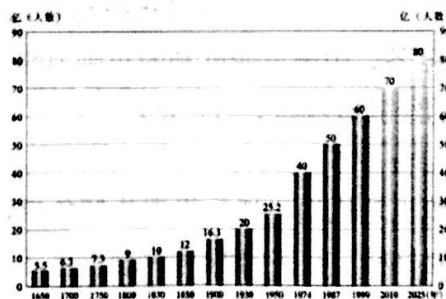

——摘编自陈仲丹《墙头政治》



- (3) 由材料指出盟国最终获胜的关键是什么？二战中盟国的哪一军事行动开辟了欧洲第二战场？由图片写出二战后欧洲走向联合所建立组织的名称。（3分）

材料四 人类只有一个家园，没有哪个国家能独立应对人类面临的各种挑战。

——习近平《论坚持推动构建人类命运共同体》



加速融化的南极冰山

日益增长的世界人口

全球面临的抗疫战争

- (4) 综合以上探究，概括各国摆脱危机、推动社会发展的因素有哪些？请就国家在应对突发危机时应担负的责任，谈谈你的认识。（3分）



2021 年初中学业水平考试模拟练习

历史试题（一）

答题卡

姓 名：_____ 座 号

准考证号：

缺考
标记

条 码 粘 贴 处

注意事项

1. 答题前，考生先将自己的姓名、准考证号码填写清楚，并认真检查监考员所粘贴的条形码。
2. 选择题必须使用 2B 铅笔填涂；非选择题必须用 0.5 mm 黑色字迹的签字笔填写，字体工整。
3. 请按题号顺序在各题的答题区内作答，超出答题区域范围的答案无效，在草纸、试卷上作答无效。
4. 保持卡面清洁，不要折叠、不要弄破、弄皱，不准使用涂改液、刮纸刀。
5. 正确填涂 ☐

选择题(请用 2B 铅笔填涂)

- | | | | |
|----------------|-----------------|-----------------|-----------------|
| 1.[A][B][C][D] | 6.[A][B][C][D] | 11.[A][B][C][D] | 16.[A][B][C][D] |
| 2.[A][B][C][D] | 7.[A][B][C][D] | 12.[A][B][C][D] | 17.[A][B][C][D] |
| 3.[A][B][C][D] | 8.[A][B][C][D] | 13.[A][B][C][D] | 18.[A][B][C][D] |
| 4.[A][B][C][D] | 9.[A][B][C][D] | 14.[A][B][C][D] | 19.[A][B][C][D] |
| 5.[A][B][C][D] | 10.[A][B][C][D] | 15.[A][B][C][D] | 20.[A][B][C][D] |

非选择题(请在各试题的答题区内作答)

21. (1)

(2)

(3)

(4)

请在各题目的答题区域内作答，超出黑色矩形边框限定区域的答案无效！



请在各题目的答题区域内作答，超出黑色矩形边框限定区域的答案无效！

22. (1)

(2)

(3)

(4)

(5)

23. (1)

(2)

(3)

(4)

请在各题目的答题区域内作答，超出黑色矩形边框限定区域的答案无效！

