

(2021.5)

一、单项选择题（共 30 题，每小题 2 分，共 60 分）下列各题的四个选项，只有一项最符合题意。请你选出正确选项，将该题相对应的答案涂写在答题卡内。

1. 国宝青铜器“何尊”上的铭文记载，武王灭商后告祭于天下“余其宅兹中国，自之辟民……”（意为我将中国作为统治地，亲自统治那里的民众）这一记载反映了（ ）
  - A. “中国”一词早在西周时便有记载
  - B. 西周对当时的中国实行了分封制
  - C. 武王统治时期中国已完成统一
  - D. “何尊”上的铭文是中国最早的文字
2. 小明运用下面四幅图进行研究性学习。他研究的主题应是（ ）



河姆渡人的骨耜



春秋时期的铁制农具



汉代牛耕图



唐代曲辕犁

- A. 耕作方式的进步
  - B. 冶铁技术的提高
  - C. 铁犁牛耕的出现
  - D. 原始农业的兴起
3. 在谈到秦朝郡县制时，柳宗元说：“令海内之势，如身之使臂，臂之使指，莫不从制”，“摄制四海，运于掌握之内。”柳宗元的观点是（ ）
    - A. 郡县制推动了秦朝统一
    - B. 郡县制强化了君主专制
    - C. 郡县制加强了中央集权
    - D. 郡县制有利于民族融合
  4. 唐朝政府编写颁布的《唐本草》，是世界上第一部由国家制定的药典；宋朝颁行了多部官修本草；明朝李时珍撰成药物学集大成之作《本草纲目》，由朝廷颁行。这些史实主要表明，我国古代中医药学的发展，得益于（ ）
    - A. 印刷技术的进步
    - B. 国家力量的支持
    - C. 商品经济的繁荣
    - D. 科举制度的完善
  5. “夫仁义礼制者，治之本也；法令刑罚者，治之末也。无本者不立，无末者不成。”这一言论反映出作者对儒、法思想的基本态度是（ ）
    - A. 尊儒抑法
    - B. 尊法抑儒
    - C. 儒法并用
    - D. 内儒外法
  6. 科举制在唐朝分常举和制举两种，常举每年举行考试，科目主要有明经、进士、明书、明算等。明经主要考儒家经典；进士科在隋朝仅试策论，贞观八年加试经史，唐高宗末年加试帖经、杂文，天宝年间以诗赋作为录取的主要标准。据此可知（ ）
    - A. 唐玄宗加试经史
    - B. 科举制在唐朝得到进一步完善
    - C. 武则天扩充国学规模
    - D. 唐太宗以诗赋作为录取主要标准
  7. 历史上对中国的称谓大致可分为如下三类

类别	称谓举例
第一类	蕴含深意的历代国号 夏、商、周、秦、汉……
第二类	延用不衰的古今名号 中华、赤县、东土……
第三类	域外有关中国的称谓 真丹、震丹……

此外对中国的称谓还有如：①华夏 ②神州 ③中华民国 ④赛里斯，

下列选项中，将这四种称谓按上表分类正确的是（ ）

- A. ①是第一类、③④是第二类、②是第三类
- B. ①是第一类、②③是第二类、④是第三类



C. ③是第一类、①②是第二类、④是第三类

D. ③是第一类、①④是第二类、②是第三类

8. 下列为《红楼梦》中的部分描述。据此《红楼梦》（ ）

第三回	黛玉进入“荣禧堂”……大紫檀雕螭案上设着三尺多高的青绿古铜鼎，悬着待漏隋朝黑龙大画……一边是玻璃盆。
第三十九回	周瑞家的到：“早起我就看见那螃蟹了，一斤只好称了两个三个，这么三大篓，想是有七八十斤”刘姥姥道：“这样螃蟹，今年就值五分一斤。十斤五钱，五五二两五，三五一两五，再搭上酒菜，一共倒有二十多两银子。阿弥陀佛！这一顿的钱够我们庄稼人过一年了。”
第四十回	每人一把乌银洋箸自斟壶，一个十锦珥琅杯。

A. 可以作为研究清朝历史的一手史料

B. 描写情节均有事实依据

C. 能反映当时社会经济发展情况

D. 否认清王朝实行闭关锁国政策

9. 培根指出：“印刷术、火药、指南针曾改变了整个世界，变化如此之大，以至没有一个帝国，没有一个学派，没有一个显赫有名的人物，能比这三种发明在人类事业中产生更大的力量和影响。”这里所说的影响主要是指（ ）

A. 促进了西欧社会制度的转型

B. 奠定了中国古代文明古国的地位

C. 推动了欧洲工业革命的发展

D. 打破了世界各地彼此隔绝的状态

10. 下面是某电视专题片中出现的三组镜头，分别反映了不同朝代为解决洪水灾害，中央政府的运作情况。①蜀郡洪水为患，丞相与诸卿拿出治理方案，交给皇帝裁决；②渝州发生洪灾，中书省按皇帝旨意起草文件，门下省审核后交尚书省，尚书省交工部、户部办理；③徐州府爆发洪灾，阁臣据皇帝旨意写成诏书，直送工部、户部执行赈灾。据所学知识判断，上述历史场景最早出现的朝代分别是（ ）

A. 秦、唐、元

B. 汉、宋、明

C. 秦、元、清

D. 秦、唐、明

11. 钱币蕴涵着丰富的历史信息，以下钱币，能反映从分裂到统一的时代变迁特征的是（ ）



A. 秦半两

B. 唐开元通宝

C. 清乾隆通宝

D. 民国银元

12. 明朝洪武初年（1393 年），全国当时人口共有六千五百万人，万历年间明朝人口达到峰值，实际人口在一亿四千万左右。清朝时期，人口数量进一步增长。导致明清时期人口增加的直接原因是（ ）

A. 国家积极实行对外开放政策

B. 占城稻开始由越南引进中国

C. 明清社会安定毫无任何动乱

D. 玉米等外来农作物传入中国

13. 历史解释是指以史料为依据，以历史理解为基础，对历史事物进行理性分析和客观评判的态度、能力与方法。下列历史解释合理的是（ ）

选项	史料	历史解释
A	《南京条约》：中国向英国赔偿鸦片烟价、商欠、军费共二千一百万银元	鸦片战争中英国损失共计二千一百万银元



B	《北京条约》：准许英、法招募华工出国	便利了外国资本主义对中国劳动力的掠夺
C	《马关条约》：允许日本在中国通商口岸投资办厂	推动了中国最早的无产阶级产生
D	《辛丑条约》：清政府保证严禁人民参加反帝运动	列强逼签《辛丑条约》的目的是报复义和团运动

14. 民国 16 年 1 月中共江浙区委就最近局势与工作方针发出通知，指出各地应趁此机会开展民众工作，发展组织，加紧对铁路的破坏工作，重点是南京、无锡。这一通知旨在（ ）

- A. 巩固抗日民族统一战线                      B. 坚持城市中心暴动道路  
C. 推动国民大革命的进程                      D. 配合国军正面战场抗战

15. 把握历史阶段特征有助于学好历史。下列关于新民主主义革命不同时期的阶段特征的对应不准确的是（ ）

- A. 1919-1927 年——开天辟地，实现共和    B. 1927-1937 年——星火燎原，北上抗日  
C. 1937-1945 年——统一战线，团结抗战    D. 1945-1949 年——国共对峙，战略决战

16. 革命文化是中国共产党领导中国人民在伟大斗争中构建的文化，它是中国革命胜利的文化支撑和中国文化自信的重要源头。在以下相应时期中，属于毛泽东提出的革命文化内容

选项	时 期	内 容
A	五四运动	外争主权，内惩国贼
B	八七会议	政权是由枪杆子中取得
C	一二·九运动	华北之大，已经安放不得一张平静的书桌了
D	抗日战争	一切反动派都是纸老虎

17. 十一届三中全会对中国人来说，绝不是一个普通概念，它不仅意味着历史性的关键抉择，也开启了一场波澜壮阔的伟大改革。改革历程中以下几项举措推进的先后顺序是（ ）

- ①中央提出建立社会主义市场经济体制    ②城市企业开始进行股份制改革  
③家庭联产承包责任制试点推行

- A. ①②③    B. ②①③    C. ③①②    D. ③②①

18. 中华人民共和国成立后，毛泽东在 1957 年提出了“赶英超美”的口号，发动了“大跃进”运动；1978 年改革开放后，邓小平提出“发展才是硬道理”的主张；进入 21 世纪，党中央提出科学发展观、中国梦、习近平新时代中国特色社会主义思想等。这种变化主要是由于（ ）

- A. 中国共产党对建设社会主义的认识不断深入成熟  
B. 中国建设社会主义由注重数量的发展到注重质量  
C. 中国关于建设社会主义的指导思想总是发生变化  
D. 中国适应了国际形势由两极向多极化变化的趋势

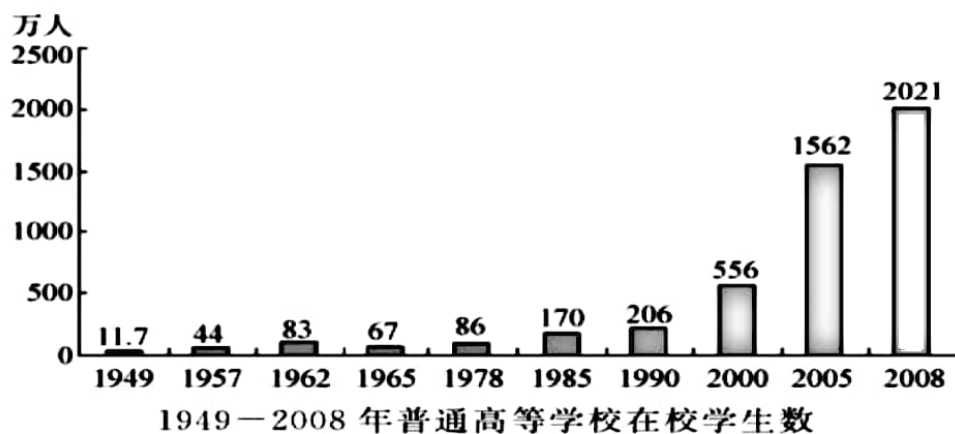
19. 中共十三大闭幕后，邓小平向外宾介绍我国发展目标时表示“我们的路还很长”，“艰苦奋斗还是要讲，一点都不能疏忽，要勤俭办一切事情，才能实现我们的目标”。邓小平这样说的主要依据是（ ）

- A. 改革开放以来中国的经济飞速发展    B. 中国奉行独立自主的和平外交政策  
C. 和平与发展是当今世界的两大主题    D. 中国将长期处于社会主义初级阶段

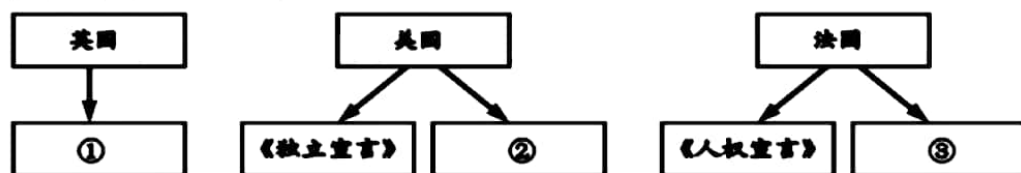
20. 1988 年，来自全国各地人才涌向海南，仅半年时间到海南求职的人数竟高达 20 万，形成中国当代史上极为壮观的人才流动大潮。造成这一现象的主要原因是（ ）



- A. 自由贸易区在海南落地  
B. 海南经济发展成绩显著  
C. 中国加快对外开放步伐  
D. 国有企业改革全面铺开
21. 新中国成立以来，我国教育事业不断发展。对如图理解正确的是（ ）



- A. 新中国教育事业获得了全面进步  
B. 改革开放促进了高等教育的发展  
C. 中国已经实现了高等教育的普及  
D. 科教兴国提升了中国高等教育质量
22. 马克思说：“租地农场主成了这种农业工人的实际支配者，成了他们的剩余劳动的实际剥削者，而土地所有者现在只和这种资本主义租地农场主发生直接关系，而且是单纯的货币关系和契约关系。”这种土地关系带来的变化是（ ）
- A. 促进了农业发展  
B. 推动了资本主义化  
C. 确立了资本主义制度  
D. 巩固了资产阶级统治
23. 历史学家斯塔夫里阿诺斯认为：从长远来看，意大利文艺复兴运动开始衰落的更基本原因是达·伽马 1498 年在印度的登陆使意大利遭受的经济打击。这是从一个侧面阐述新航路开辟的（ ）
- A. 原因  
B. 条件  
C. 经过  
D. 影响
24. 下图是“资本主义制度的初步确立”时期的民主法治建设进程示意图，其中空白处应填入的内容依次是（ ）



- A. 《权利法案》 《解放黑人奴隶宣言》 《拿破仑法典》  
B. 《权利法案》 1787 年宪法 《拿破仑法典》  
C. 《拿破仑法典》 1787 年宪法 《解放黑人奴隶宣言》  
D. 1787 年宪法 《权利法案》 《解放黑人奴隶宣言》
25. 从下面表格内容中可以获取的正确信息是（ ）

	英国	美国	德国	法国	俄国
1870 年	22%	8%	13%	10%	/
1913 年	15%	17%	13%	8%	4%

- 1870 年、1913 年各主要资本主义国家在世界贸易中所占的比重
- A. 世界贸易格局发生改变  
B. 英国工业产量跃居世界首位  
C. 世界贸易中心从欧洲转向美洲  
D. 世界贸易总额连年持续提高
26. 从巴黎和会到华盛顿会议，英美等主要帝国主义国家，关于山东问题的态度发生了重大转变，从支持日本接收德国在山东的权益，到支持中国收回山东主权。该转变反映了（ ）



- A. 德国对日本的极大不满  
B. 中国综合国力和国际地位的提高  
C. 英美等国尊重和维护中国主权  
D. 英美等国削弱日本在华势力的企图

27. 下面图一和图二分别宣传 20 世纪 30 年代的苏联、美国实施的经济措施，这两项措施的实施（ ）



图一——五年计划，四年完成 图二积极劳动，以工代赈

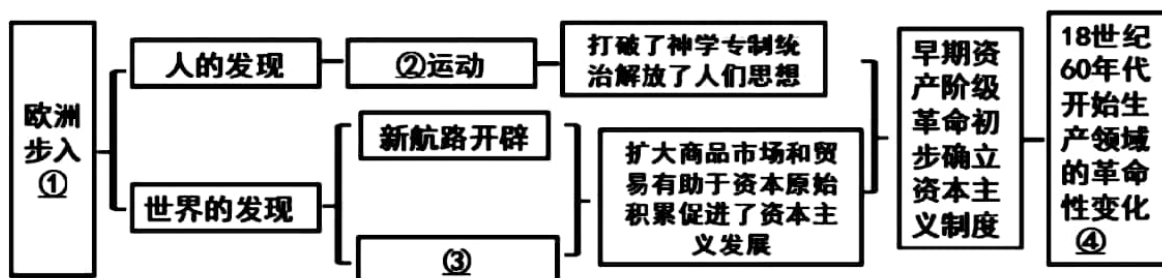
- A. 都体现了国家对经济的干预  
B. 都暴露了发展重工业的弊端  
C. 说明了两国的经济环境相同  
D. 都迅速推进本国工业化完成
28. 有史学家认为，马歇尔计划加速了西欧经济的发展，但西欧经济的腾飞是多种因素作用的结果。其中，生产力因素主要是（ ）
- A. 原有的工业基础设施完善  
B. 采用最先进的科学技术成果  
C. 走上联合自强的发展道路  
D. 制定了恰当的经济政策
29. 20 世纪三四十年代，面对经济危机的打击和法西斯势力的威胁，欧美大国提高关税、纵容侵略等以邻为壑的做法，导致全球相继被卷入经济萧条和世界大战。“二战”后，为避免历史重演，国际社会（ ）
- A. 先后成立了联合国与世界贸易组织  
B. 积极投入第三次科技革命  
C. 纷纷建立完善国内的社会保障制度  
D. 大力提高发展中国家地位
30. 在全球抗疫的严酷时刻，全世界感受到一种来自中国的温暖，我国及时向国际社会发布疫情信息，毫无保留地同国际社会分享防控、治疗经验，并竭尽所能为各国提供物质帮助，这表明中国（ ）
- ①坚持共建共享，积极主动贡献中国经验和中国智慧  
②坚持以我为主，从不同类型的文明中寻求发展智慧  
③坚持合作共赢，积极抢占全球新兴产业发展制高点  
④坚持人类命运共同体理念，发挥负责任的大国作用
- A. ①②  
B. ①④  
C. ②③  
D. ③④

## 二、综合题（本大题 3 小题，31 题 13 分、32 题 14 分，33 题 13 分，共 40 分）

31. 在历史学习过程中提升史学素养是培养学生历史学科核心素养的一个路径。围绕经济全球化主题，完成以下探究活动。（13 分）

### 【唯物史观】

材料一：东东同学学完世界近代史部分内容，制作了如下思维导图。

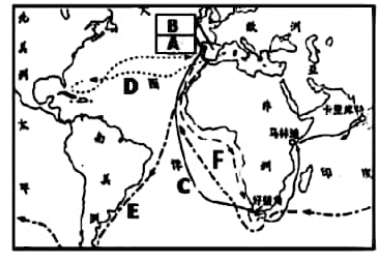


（1）请依据思维导图中的提示，帮助东东同学完善思维导图中的内容。（4 分）



**【时空观念】**

(2) 小明依据右图设计了以下问题：新航路开辟中，最早到达非洲好望角的航海路线是\_\_\_\_（填字母）（1分）；发现美洲大陆航海家的航海路线是\_\_\_\_（填字母）（1分）

**【史料意识】**

材料三：蛮族进入西罗马帝国后，对城市进行了大规模的破坏和劫掠；基督教排斥一切世俗学问，教士们把写在羊皮纸上的古典著作刮去，抄写基督教文献，无数古典著作因此而失传，古典文化中大量不能纳入基督教的成分被抛弃和毁灭了。

——摘自《西方民主的起源及相关问题》

(3) 请你依据材料并结合所学知识说明文艺复兴运动与古希腊、罗马文化有何关系（3分）

**【家国情怀】**

材料四：敌人（拿破仑军队）像浩荡的洪水/淹没了俄国人的土地/……和平的城市和村庄在黑暗里燃烧/……敌人横冲直撞，不可阻挡，/烧杀劫掠，一切都化为灰烬。

——俄国诗人普希金《皇村回忆》

材料五：从政治、文化和理念的层面，而非战争的层面，揭示出拿破仑最珍贵的价值：“他为俄罗斯人民/指出了崇高的使命。给世界以永恒的自由，/是他放逐生涯的馈赠。”

——俄国诗人普希金《拿破仑》（创作于拿破仑离世之后）

(4) 你认为材料四中普希金从拿破仑军队行为的什么角度进行历史解释的？（2分）

依据材料五，结合所学的知识，概括普希金揭示出“拿破仑（军队）最珍贵的价值”是什么？（2分）

32. (14分) 中国为实现现代化积极引进西方文明成果，进行了一系列探索活动。某校九年级三班同学以“外来文明的借鉴与吸收”为主题展开探究活动，请你参与。

**【经济嫁接】**

材料一

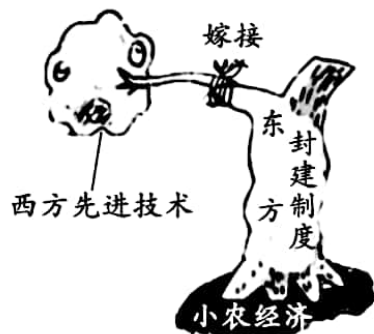


图 A

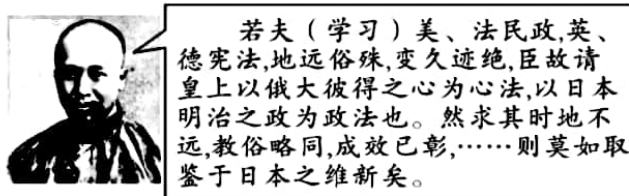
在人类历史长河中，嫁接活动总是在不断进行中。……洋务运动就是嫁接，是想把欧洲的工业革命成果嫁接过来。可是清朝国势积弱，树体老腐，难以嫁接成活，所以当时清朝就只有苟延残喘以拖延时间了。

(1) 指出洋务运动“嫁接”工业革命的表现，（1分）依据图文材料，结合所学知识，简要评价这次“嫁接”。（2分）





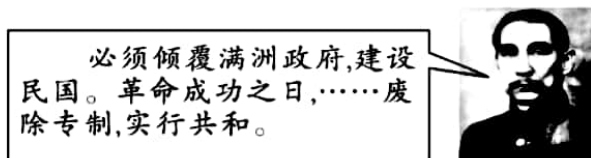
材料二



图B 康有为

(2) 依据材料二，指出康有为主张学习日本明治维新的理由是什么？（2分）

材料三



图C 孙中山

1912年在中国建立起美国共和政体的仿制品，真是荒唐可笑……这种共和政体悲惨的结束了，即悲惨的失败了。然而，失败的并不是共和政体，而是一代人。

——N·佩弗《远东》

图D

(3) 依据材料三图C，指出孙中山的政治主张。（2分）列举1912年的中华民国对美国共和政体的效仿。（1分）你是如何看待图D中“悲惨的失败”这一观点的？（2分）

【中国模式】

材料四 中国经济是“国”与“民”相互支撑的经济，即“有中国特色的社会主义市场经济”，它成功缓解了计划经济缺动力、市场经济缺情义、福利经济缺效率的问题，空前调动了全国工商业劳动者的积极性，刺激了企业间的激烈竞争，带来了物质生产的极大丰富，使小农中国的工业化得以高度推进。——摘自潘维、玛雅主编《人民共和国六十年与中国模式》

(4) 依据材料四，分析中国特色社会主义市场经济有何优势？（2分）综合上述材料，你认为我国在现代化进程中应如何正确对待外来的文明成果？（2分）

33. 世界各国在交往中，往往会发生“误读”的现象。为避免此现象的出现，各国在发展要不断增进彼此的交流。阅读下列材料，回答问题：（13分）

材料一 17—18世纪，在西方的宫廷与贵胄家中，中国龙纹形象随处可见，那时候的中国龙是伟大、高贵的象征。进入19世纪，西方人逐渐把“龙”翻译为“dragon”，在基督教文化中，“dragon”代表着暴力、邪恶。近年来，西方媒体借助龙形象来讽喻中国的方式越来越多，例如《经济学家》杂志中，提到中国的漫画中几乎都少不了“龙”——西方观念中的龙。——据董玉洁《中国龙VS西方龙：文化的误读》整理

(1) 根据材料一并结合所学知识，简析材料一中三个时期西方人眼中“中国龙”形象形成的原因。（3分）



材料二 20 世纪初期，国粹派认为，中国文化落后于西方，一个重要原因就在于西方“立民主为政体，故利民之智”，中国“以专制为政体，故利民之愚”。他们还认为，“盖自秦以来，当世之谓孔学者，君学而己……无用者君学也，而非国学”。他们还认为传统“夷夏太防”的观念导致中国文明既不能自我光大，又不能吸收外来文化，衰败不可避免，进而主张“国粹者，助欧化而愈新”……发起了类似于西欧文艺复兴的“古学复兴”运动。

——据郑师渠《晚清国粹派：文化思想研究》

- (2) 材料二中国粹派认为中国文化衰落的原因有哪些？结合所学知识说明，国粹派为什么认为他们发起的古学复兴运动“类似于”西欧文艺复兴？（5 分）

材料三 如题 33 图



1949—2008 年中国与外国建交状况曲线图

题 33 图

- (3) 根据材料三并结合所学知识，概括说明 20 世纪 50 年代中国是如何以包容的姿态融入世界，以防止外交“误读”？推动 20 世纪 70 年代建交高峰点出现的国际背景是什么？（3 分）

材料四 全球经济治理体系要想公平有效，必须跟上时代。我们应该秉持共商共建共享理念，推动全球经济治理体系变革。变革过程应该体现平等、开放、透明、包容精神，提高发展中国家代表性和发言权，遇到分歧应该通过协商解决，不能搞小圈子，不能强加于人。历史告诉我们，如果走上对抗的道路，无论是冷战、热战还是贸易战，都不会有真正的赢家。国与国只要平等相待、互谅互让，就没有通过协商解决不了的问题。

——摘自习近平出席 2018 年亚太经合组织(APEC)工商领导人峰会主旨演讲

- (4) 综上所述，在全球化深入发展的今天，你认为如何才能避免或减少国际交流中的“误读”？（2 分）

