

苏州市振华中学校



2020—2021 学年第二学期初三年级中考模拟

历史试卷

2021.5.26

一、单项选择题：（共 24 分）

1. 文字是人类文明发展的重要载体，世界上除了源远流长的汉字，有象形文字，楔形文字，以下图片和文字对应完全正确的一组是



- A. 古埃及的象形文字 B. 苏美尔人的甲骨文 C. 古印度人的楔形文字 D. 中国的小篆

2. 下列图片反映了苏州在不同历史时期所属行政区划的沿革状况，按时间先后顺序排列正确的是



①



②



③

- A. ①③② B. ③①② C. ②①③ D. ②③①

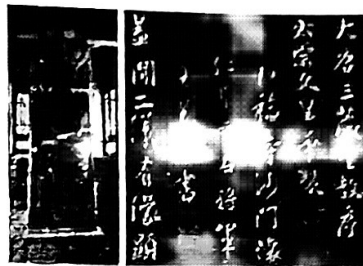
3. 在漫长的历史长河中，中国人民创造了璀璨的物质文明和精神文明，完全正确的一组是

- A. 西汉——蔡伦——改进造纸术 B. 北宋——司马光——《资治通鉴》
C. 北朝——贾思勰——《农政全书》 D. 明朝——宋应星——《齐民要术》

4. 历史的因果联系是历史学习的重要方法，以下因果搭配错误的一项是

- A. 铁器、牛耕的使用——引发了巨大的社会变革
B. 汉朝设西域都护——成为今西藏地区正式归属中央统辖的开始
C. 北魏孝文帝改革——加快了民族交融的步伐
D. 毕昇发明的活字印刷术——为近代印刷术的发展奠定了基础


5. 右图是现存放于陕西西安碑林博物馆的《大唐三藏圣教序碑》，序文中唐太宗高度评价玄奘法师取经和翻译佛经；碑文从王羲之书法中集字刻成。该石碑可以用来研究



- ①中国书法艺术发展 ②中印之间文化交流
③唐朝文化影响日本 ④唐朝民族关系和睦
- A. ①② B. ①③
C. ②④ D. ③④
6. 曾经热播的古装大剧《清平乐》，以北宋为背景，艺术地再现了宋仁宗在位的大宋“黄金时代”盛世风采。该剧中可能出现的场景有
- A. 蜀地商人用交子支付商品的费用 B. “岳家军”在郾城大败金军主力
C. 回族商人在临安的西市开设店铺 D. 文天祥写下大义凛然的《正气歌》
7. 国际公共卫生界有句名言：“疫情的发生不可避免，但疫情的扩散却可避免。”庚子年初暴发的新冠疫情像一面镜子，照出了人性的善恶美丑，照出了各国的政治生态和治理能力。西方某些国家错失防控良机，导致疫情扩散，却上演甩锅中国，要让中国付出“新庚子赔款”的闹剧。中国近代，西方列强曾经强迫清政府签订的与庚子赔款相关的不平等条约是
- A. 《南京条约》 B. 《北京条约》 C. 《马关条约》 D. 《辛丑条约》
8. 钱乘旦评价某一历史事件时说：“它接受现代化，但只接受它的形式，它接受现代化是为了控制现代化，让它为维护传统的价值取向服务。”这一历史事件
- A. 是中国近代史的开端 B. 开启中国近代化进程
C. 以“变法图强”为目标 D. 提倡“民主”与“科学”
9. 近代以来，中国的仁人志士为实现强国之梦不断汲取先进思想，大胆实践，与时俱进，最终探索出一条民族复兴之路，跟下列图片刊物相匹配的运动是



A



B



C



D

- A. 洋务运动 B. 维新变法 C. 新文化运动 D. 五四运动
10. “凤凰网”评论：五四运动不是一个孤立的事件。向前，我们可以看到历经数年积蓄而成的文化、思想洪流；向后，我们同样可以看到各式各样的“施行主义”和“解决问题”的实践。这一评论重在突出五四运动

A. 确立工人阶级的领导地位

B. 重建中国优秀的传统文化

7 C. 是近代救亡图存的延续和发展

D. 促进了马克思主义的广泛传播

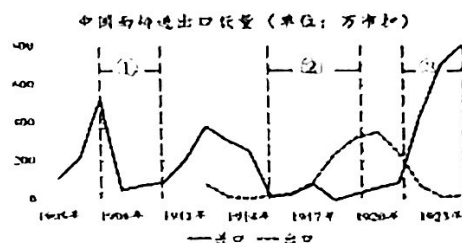
11. 观察右侧图表，导致②状况的原因是

A. 洋务运动期间近代军事工业发展


B. 甲午中日战争后外国人开办工厂

C. 世界大战期间民族资本主义发展

D. 国民革命时期工农运动蓬勃发展



12. 以下是国共两党关系史上发生的重要事件。它经历了合作——分裂——再合作——再分裂的过程，正确排序的是



①（红军过雪山）

②（黄埔军校）

③（解放南京）

④（新四军臂章）

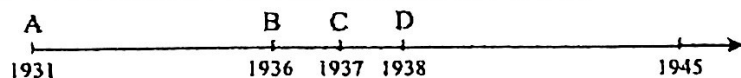
A. ①②③④

B. ①②④③

C. ②①④③

D. ①③②④

13. 小军同学对如图年代尺相关信息点的记录错误是



A. 九一八事变，中国人民抗日战争的起点，国民政府积极抗战

B. 西安事变和平解决，抗日民族统一战线初步形成

C. 七七事变，全民族抗战的局面开始形成

D. 台儿庄战役，是抗战以来中国正面战场取得的最大的一场胜利

14. 毛泽东的诗词像浪花一样时时以最近切的距离随社会革命的波涛而跳跃。同时又像一面中国革命史的镜子，真实而艺术地反映了中国共产党从二十世纪二十年代开始近半个世纪的斗争历程。下列诗词反映新民主主义革命胜利的是

A. “地主重重压迫，农民个个同仇。秋收时节暮云愁，霹雳一声暴动。”

B. “金沙水拍云崖暖，大渡桥横铁索寒。更喜岷山千里雪，三军过后尽开颜。”

C. “钟山风雨起苍黄，百万雄师过大江。虎踞龙盘今胜昔，天翻地覆慨而慷。”

D. “一唱雄鸡天下白，万方乐奏有于阕，诗人兴会更无前。”

15. 在全面建设社会主义的过程中，河南林县人民经过几年苦战，开凿太行山，引漳河水入境，修建了“人造天河”红旗渠，彻底告别“水缺贵如油”的历史，创造了人间奇迹。这体现了林县人民什么时代精神

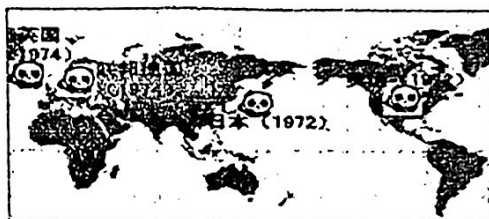
- A. 爱国、进步、民主、科学
- B. 革命英雄主义、国际主义
- C. 改革创新、开拓进取
- D. 艰苦创业、无私奉献

16. 熊猫外交是中国一种独有的外交方式（新中国向国外输送大熊猫，目前中国已赠送给 9 个国家 19 只大熊猫。）右图所示熊猫外交得以推行的关键因素是



凌空除险（修建红旗渠的真实写照）

- A. 万隆会议的召开
- B. 中美关系的改善
- C. 独立自主和平外交政策的实行
- D. 中国恢复在联合国的合法席位



17. 《全球通史》中说：“在 1789 年以前，在英国的殖民地已爆发的一场革命，这场革命提供了将新学说付诸行动的示范”。这里的“革命”和“新学说”分别指的是

- A. 英国资产阶级革命—人文主义
- B. 美国独立战争—1787 年宪法
- C. 法国大革命—启蒙思想
- D. 美国独立战争—启蒙思想

18. 以下是中外历史的重大事件或改革，其中促使其国家发生了社会转型的是

- ①伯利克利改革 ②大化改新 ③彼得一世改革 ④明治维新
- ⑤罗斯福新政 ⑥新中国的土地改革

- A. ②③④⑥
- B. ②④⑤⑥
- C. ②④⑥
- D. ①②③④

19. 由于受到启蒙运动和法国大革命的影响，他以英雄为主题进行音乐创作，表达了斗争胜利后的快乐和对自由、平等、博爱的渴望。“他”是

- A. 巴尔扎克
- B. 梵高
- C. 列夫托尔斯泰
- D. 贝多芬

20. 林·亨特在《人权的发明：一部历史》中提到：1689 年英国《权利法案》、1789 年法国《人权宣言》、1776 年美国《独立宣言》被视为这一时期最具代表性的三部人权文献。下列关于上述三部人权文献共性的表述，正确的是

- A. 使本国确立了君主立宪制度
- B. 在反对本国封建统治的斗争中颁布
- C. 体现了三权分立互相制衡原则
- D. 体现了资产阶级的自由、平等思想

21. 《新编剑桥世界近代史》中有这样的评述：“19 世纪中期，有两个学说都发现了变化的原因在于斗争，……生物生存竞争和阶级斗争，……在世界历史进程中有着广泛和深远的影响。”其中详细阐述生存竞争的和阶级斗争学说的是

- A. 《权利法案》《独立宣言》
- B. 《物种起源》《人权宣言》
- C. 《物种起源》《共产党宣言》
- D. 《相对论》《共产党宣言》

22. 世界博览会是人类文明的驿站,是展示各国经济、科技和文化成就的重要舞台。下列一段与世博会相关的资料中共有几处错误?

1851年,伦敦举办了第一届世界工业产品博览会,纺织机械、蒸汽机、汽车等各种工业技术成果琳琅满目,让人应接不暇。1876年,美国在费城举办了美国历史上第一次世界博览会,会上展出了莱特兄弟的飞机

- A. 一处 B. 两处 C. 三处 D. 四处

23. 1943年2月,罗斯福在致斯大林的一封信中写道:“(苏联人民取得这一战役的胜利)制止了侵略的浪潮,成了盟军反侵略的转折点。”从材料中你可以获得的主要历史信息有

- ①苏军取得了斯大林格勒战役的胜利 ②世界反法西斯同盟已经形成
③苏军为反法西斯战争做出重大贡献 ④欧洲第二战场的开辟

- A. ①②③ B. ②③④ C. ①②④ D. ①③④

24. 到20世纪80年代中期,美国的收音机,电视机、录像机、摩托车、照相机等市场,几乎为日本产品所独占。1986年,美国对日贸易逆差为586亿美元,比上年增加17.9%,有人甚至形容这是“80年代的珍珠港事件”。这些现象反映了

- A. 美日冷战局面加剧 B. 两极格局受到冲击
C. 多极化格局已形成 D. 知识经济时代到来

二、填空题:(本大题共3小题,每小题2分,每空1分,共6分)

25. 2020.5.28通过的《中华人民共和国民法典》是新中国第一部以法典命名的法律文件,迄今已知世界上第一部较为完整的成文法典是古巴比伦王国的《_____》,体现了自由平等和私有财产神圣不可侵犯的原则,并且成为其他国家制定民法的参照蓝本的是《_____》。

26. 秦朝举世闻名的万里长城西起_____东到辽东;明长城西起嘉峪关东到鸭绿江;明朝郑和下西洋从太仓_____出发,最远到达非洲东海岸和红海沿岸。

27. 1911年_____标志着辛亥革命爆发,1927年8月的_____打响了武装抗国民党反动统治的第一枪。

三、材料解析题。(本大题共3小题,共20分)

28. (8分)统一多民族国家的形成与发展,奠定了中华民族伟大复兴的历史文化基础。中国历史上政治制度有两次大变局,其一是封建改而郡县,其二是专制改而共和。阅读材料,回答问题。

材料一:秦并海内,兼诸侯,南面称帝,以养四海。天下之士斐然乡风。若是者何也?曰:近古之无王者久矣。周室卑微,五霸既殁,令不行于天下,是以诸侯力政,强侵弱,众暴寡,兵革不休,士民罢敝。今秦南面而王天下,是上有天子也。既元元之民冀得安其性命,莫不虚心而仰上。——引自司马迁《史记》

- (1) 根据材料一和所学知识, 请从历史发展趋势的角度分析“元元之民”“莫不虚心而仰上”的原因。指出“秦并海内, 兼诸侯”后创立的国家政体。(2分)

材料二: (康熙帝) 曰: “治天下自有本原, 不专恃险阻。……守国之道, 惟在修德安民, 民心悦服则邦本得, 而边境自固, 所谓众志成城者是也。”(雍正帝) 谕内阁: “中国之一统始于秦氏, 塞外之一统始于元氏, 而极盛于我朝。自古中外一家, 幅员极广, 未有如我朝者也。”

“康乾盛世”时期, 版图在前代王朝的基础上进一步开拓、巩固, 对边疆民族地区的统治管理也取得了突出成就, 在中国作为统一多民族国家的发展史上具有极为重要的历史地位。

——摘编自《清实录》、张帆《中国古代简史》

- (2) 根据材料二, 指出康熙帝实现“边境自固”的核心观点。结合所学, 举例说明康雍乾时期统治者对边疆民族地区的统治管理取得的突出成就。(2分)

材料三: “百代皆行秦政事”, 秦始皇所建立的君主专制、中央集权行政制度与当时世界上最完备的官僚制度紧密结合, 三位一体, 奠定了此后中国两千多年专制主义中央集权政治体制的基本模式。辛亥革命一举推翻专制王朝, 建立共和政体, 这是中国几千年历史上前所未有的伟大创举。但革命果实很快落入以袁世凯为代表的北洋军阀手中。要完成争取民族独立、人民解放与实现国家富强、人民幸福这两大历史任务, 仍然任重道远。

——摘编自中国社会科学院历史研究所编写《简明中国历史读本》

- (3) 据材料三, 指出辛亥革命走出秦制的历史贡献, 并从“民族国家”和“人民权利”两个层面归纳近代中国所面临的历史任务。(2分)

材料四: 当人们唱起“中华民族到了最危险的时候”时, 不管是汉族、满族、蒙古族、回族、藏族、维吾尔族、壮族, 还是其他许多兄弟民族, 不管是国内的居民还是海外的华侨, 都同样难以抑制地热血沸腾, 聚结成一个整体去抵抗外来的侵略者。

在极端深重的民族危机面前, 谁能够领导人民抵抗外来的侵略, 把祖国从危难中拯救出来, 谁就能够取得人民发自内心的信任和支持; 否则, 就会被人民所抛弃。这是理解中国近代历史发展的钥匙。中国人民正是在实际生活中一步一步了解中国共产党的。

——引自金冲及《二十世纪中国史纲》

- (4) 根据材料四, 结合所学, 请指出材料中的“钥匙”指的是什么? 从这一视角概括近代以来中国革命的经验。(2分)

29. “当今世界正处于百年未有之大变局。”习近平主席这一重大论断，深刻揭示了世界新的时代特征。阅读材料，回答问题。（6分）

〔开天辟地〕

材料一：中国共产党的诞生，是中国历史上开天辟地的大事。自从有了中国共产党，中国革命的面貌就焕然一新了。
——部编人教版八年级历史上册

（1）举出新民主主义革命时期的一件史实，以此说明“自从有了中国共产党，中国革命的面貌就焕然一新了”。（1分）

〔惊天动地〕

材料二：这是一次丰富多彩、可歌可泣的远征，……艰难困苦、英勇牺牲、……始终如一的希望、令人惊诧的革命乐观情绪，它无疑是一场战略撤退，但不能说是溃退，因为红军终于到达了目的地，其核心力量仍完整无损，其军心士气和政治意志的坚强一如往昔。
——埃德加·斯诺《红星照耀中国》

（2）材料中的远征指的是什么？远征途中对中国共产党最具转折意义的事件是什么？（2分）

〔改天换地〕

材料三：农业和手工业由个体的所有制变为社会主义的集体所有制，私营工商业由资本主义所有制变为社会主义所有制，必然使生产力大大地获得解放。

——1956年毛泽东在一次国务会议上的发言

（3）材料三反映的是什么事件？这一事件的完成标志着我国进入什么阶段？（2分）

〔翻天覆地〕

材料四：40年来，中国人民始终艰苦奋斗、顽强拼搏，极大解放和发展了中国社会生产力。……中国人民坚持聚精会神搞建设、坚持改革开放不动摇，持之以恒，锲而不舍，推动中国发生了翻天覆地的变化。

——习近平在博鳌亚洲论坛2018年年会开幕式上的讲话

（4）材料四中所说的40年来取得成就，使中国发生了翻天覆地的变化的原因是什么？其开端是什么？（1分）

30. 古希腊历史学家修昔底德认为：新崛起的大国必然挑战现存的大国，而现存的大国必然回应这种威胁。根据材料，回答下列问题。（6分）

材料一 随着工业革命的完成，英国不但在本国实行自由贸易政策，而且也要求外国实行这个政策，以利于英国的商品畅销世界，而强迫外国实行自由贸易政策是与其炮舰政策分不开的。

——摘编自《世界史·近代史编》下册

（1）用具体史实说明材料一中“自由贸易政策是与其炮舰政策分不开的”。（1分）根据材料一结合所学知识谈谈你对“工业革命推动世界市场初步形成”的理解。（1分）

材料二 第二次科技革命使人类社会的交通运输工具和通讯技术发生了巨大的飞跃和变革，从而使人类社会互动手段的现代化得以实现……现代化的人类社会互动手段又从物质上把世界各部分紧密联系起来，使之成为一个有机的整体，并不断地推动整体世界的前进。

——摘编自胡才珍著《略论第二次科技革命与人类社会互动手段的现代化》

（2）依据材料二并结合所学知识，说说第二次科技革命中“在交通运输工具和通讯技术”方面走在前列并赶超英国的主要是哪两个国家？（1分）这种“赶超”对当时的国际政治形势的产生了怎样的影响？（1分）

材料三 西方发达国家原有的开放政策也开始变化，经济上的贸易保护主义、社会上的排外主义和政治上的保守主义抬头，区域一体化趋势也在英国脱欧和美国退出 TPP（即跨太平洋伙伴关系协议）之后走向停滞…原经济全球化的两大旗手美国和英国的逆全球化之举令经济全球化遭阻。

——2017年7月《金融时报》

（3）据材料三并结合所学知识，请从当今世界局势的角度分析经济全球化趋势加强的原因。（1分）

（4）结合所学知识思考：面对“逆全球化思潮”，在新一轮赶超中中国应该如何提升自己的竞争力？（1分）

命题人：吴文亚、孙敏

审卷人：顾云