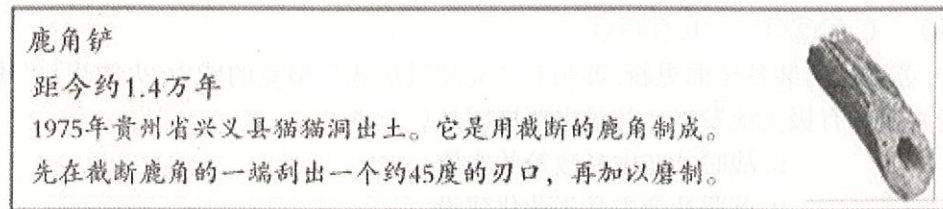


2021 年九年级第二次练兵考试

历史试题


一、单项选择题（共 25 道题，每题 2 分，共 50 分。在每题所列出的四个选项中，只有一项是最符合题目要求的。）

1. 参观博物馆是我们学习历史的重要途径。如图是某同学在国家博物馆看到的展品。据此判断，当时生活在这里的远古人类（ ）



A. 已掌握磨制技术 B. 能够制造瓷器 C. 从事农业活动 D. 会使用牛耕地

2. 下图是不同时期的人们对孔子和儒家认可程度的变化曲线图。图中出现甲、乙所示状况分别与什么现象有关？（ ）



A. 百家争鸣，焚书坑儒 B. 焚书坑儒，独尊儒术
C. 百家争鸣，独尊儒术 D. 焚书坑儒，八股取士

3. 中国传统的医学博大精深、源远流长，不管是过去还是现在，在悬壶济世、治病救人等方面发挥了显著的作用。下列有关我国古代医学家及其成就搭配正确的是（ ）

A. 李时珍—发明“麻沸散” B. 张仲景—写成《伤寒杂病论》
C. 孙思邈—创编“五禽戏” D. 华佗—编写《本草纲目》

4. 如下是小涵同学复习某单元时做的笔记，该单元的主题是（ ）

①顺治帝册封达赖喇嘛 ②1684 年设置台湾府 ③雅克萨自卫反击战 ④平定大、小和卓叛乱

A. 繁荣与开放的时代 B. 统一多民族国家的巩固和发展
C. 政权分立与民族交融 D. 早期国家的产生和社会变革

5. 苏州城外黄家巷，在明代“尚系近城旷地，烟户甚稀”，到了清代前期，“生齿日繁，人物殷富，阊阖（泛指门户、人家）且千，鳞次栉比”“千里之商贾，骈肩辐辏”。产生这一变化的原因是（ ）

A. 对外贸易繁荣，社会财富增加 B. 商品经济发展带动市镇繁荣
C. 政府鼓励垦荒，城郊得到开发 D. 小农经济发展推动人口增长

6. 1875 年，中国近代第一批海军留学生出国时曾宣言：“此去西洋，应深知中国自强之计，此无所他求。背负国家之未来，取尽洋人之科学。赴七万里长途，别祖国父母之邦，奋然无悔。”可见，他们当时出国留学的最终目的是（ ）

A. 游历西洋 B. 兴办洋务 C. 学习科技 D. 救国图强

7. “东方欲晓现曙光，南湖红船逐激浪，志合道同辟新天，旗擎马列明方向。”此诗反映的历史事件（ ）

A. 标志着新民主主义革命的开端 B. 基本推翻了北洋军阀的统治
C. 动摇了封建道德礼教统治地位 D. 使中国革命的面貌焕然一新

8. 家书是一种承载历史的特殊载体。1938 年 10 月，一封由马来亚寄往普江的家书中写道：“逢环境劣，艰难得利……国抗线当头，相食丁费浩繁…咱被派丁费万难推辞，亦须看破。”从家书中可知当时（ ）

A. 营商环境相对宽松，赚钱容易 B. 国内粮价稳定，物资充足
C. 国难当头，人民坚定支持抗战 D. 抗战士气低落，前途渺茫

9. 租界是西方列强通过不平等条约强行在华租借的，并拥有行政自治权和治外法权的土地，据《中国收回界一览表》统计，国民政府在 1943 年收回 4 处租界、1945 年收回 11 处租界、1946 年收回 4 处租界。这一时期收回租界主要得益于（ ）

A. 列强对殖民地政策发生改变 B. 西方争夺殖民地矛盾的消失
C. 中国坚持并取得抗战的胜利 D. 租界内国人进行的反帝斗争

10. 毛泽东同志不仅是伟大的无产阶级革命家、军事家，而且留下了许多脍炙人口的诗词，下列诗句反映的历史事件发生于解放战争时期的是（ ）

A. 秋收时节暮云愁，霹雳一声暴动 B. 五岭逶迤腾细浪，乌蒙磅礴走泥丸
C. 黄洋界上炮声隆，报道敌军宵遁 D. 钟山风雨起苍黄，百万雄师过大江

11. 不同的时代有不同的家庭财富标志。下图是改革开放以来家庭财富标志的变化，反映出（ ）

| | | | |
|------------------|------------|-----------|--------------------------|
| | | | |
| 70 年代末 “三转一响” | 80 年代“四大件” | 90 年代“三金” | 2000 年~2010 年 “一动一不动” |

A. 经济持续增长使经济结构不断优化 B. 经济持续增长使消费观念不断变化
C. 经济持续发展使就业观念不断变化 D. 工业技术进步使产品质量不断提升

12. “它在一个占世界人口近四分之一的大国里，冲破帝国主义的东方战线，极大地改变了世界的政治格局，鼓舞了世界上被压民族和人民争取解放的斗争，因而受到了世界人民的欢迎和支持。”这个

材料主要描述的是()

- A. 中国抗日战争胜利的影响 B. 中华人民共和国成立的影响
C. 抗美援朝战争胜利的影响 D. 中国恢复在联合国的合法席位

13. 学习历史需要区分历史事实与历史结论。历史事实是指客观存在的历史人物或事件; 历史结论是关于史实的基本判断和基本观点, 下列表述属于历史结论的是()

- A. 1949 年 10 月 1 日, 中华人民共和国成立
B. 到 1952 年底, 约 3 亿无地少地的农民, 分到了约 7 亿亩土地
C. 1956 年, 中国共产党在北京召开第八次全国代表大会
D. 1958 年开始的“大跃进运动急于求成, 忽视了客观的经济规律

14. 中国在探索农业的社会主义道路时设想了一个逐步、分阶段的过程, 使得中国在此次改造运动中彰显得更加井然有序, 避免出现了急躁冒进的混乱现象。该农业道路的探索()

- A. 废除了封建土地制度 B. 推行了家庭联产承包责任制
C. 采取了和平赎买政策 D. 实现了土地社会主义公有制

15. 独具时代特色的流行词汇是社会发展的一个个坐标, 以下为新中国成立以来不同时期的主要热词, 其中属于 2012 年党的十八大以来的的是()

- A. 新中国土地改革“最可爱的人” B. 总路线三面红旗“人民公社好”
C. 红卫兵阶级斗争“停课闹革命” D. 中国梦精准扶贫“两个一百年”

16. 右图是建国以来我国外交成就示意图, 其中突破阶段的外交成就不包括()

- A. 参加万隆会议 B. 重返联合国
C. 尼克松访华 D. 中美建交

17. 假如你穿越时空隧道, 来到公元前 5 世纪的希腊雅典。可能遇到的场景是()

- A. 观看楔形文字铭刻的法典 B. 国王任命陪审法庭官员
C. 妇女参与公民大会的表决 D. 公民大会决策重大事务

18. 历史学家迈尔斯教授认为, 犹太人的宗教、希腊人的艺术、罗马人的法律, 是现代文明里三种最真实、最强有力的因素。从这个意义上讲, 这座台伯河畔的城市依旧统治着世界。这里“依旧统治着世界”体现在()

- A. 拜占庭帝国传承希腊文化 B. 基督教成为罗马帝国国教
C. 罗马法奠定欧洲民法基础 D. 罗马帝国版图地跨三大洲

19. 中世纪晚期, 欧洲社会处于转型时期, 生产组织逐渐资本主义化, 出现雇佣与被雇佣的生产关系。这一现象主要表现在()

- A. 庄园经济和现代工厂制的形成 B. 租地农场和手工工场的产生
C. 种植园经济和工业革命的扩展 D. 工业化和农业集体化的实行

20. “英国 18 世纪人口死亡率明显下降, 但 1816 年以后死亡率上升。1831-1841 年, 工厂集中的伯明翰每千人死亡率由 14.6 上升到 27.2, 利物浦由 21 上升到 34.8。”英国人口“死亡率上升”的主

要原因是()

- A. 石油污染严重 B. 城市环境恶化 C. 食物严重短缺 D. 医疗技术落后

21. 2020 年 5 月, 黑人弗洛伊德之死导致的抗议活动席卷美国。社会学家认为, 美国存在种族歧视现象与美国历史上长期存在奴隶制度有关。19 世纪 60 年代, 奴隶制被废除了, 但其奴役思想并没有随之消失。对该材料解读正确的是, 美国()

- ①独立战争废除了奴隶制 ②现在依然存在种族歧视现象
③种族歧视现象有其历史根源 ④要消除种族歧视现象必先摒弃奴役思想

A. ①②③④ B. ②③④ C. ①②③ D. ①③④

22. 在第二次世界大战中, 苏联武器装备全面更新, 苏制 C-2 克超过虎式”坦克的威力, 火箭炮(“喀秋莎”)、强击机等新型武器都有极大地发展。其最主要原因是()

- A. 苏维埃政权建立 B. 战时共产主义政策的实施
C. 农业集体化的实行 D. 苏联社会主义工业化建设

23. “抵制在殖民政府和法院中工作; 拒绝在英国学校读书; 鼓励发展手工纺织业, 抵制英国商品; 拒绝纳税; 等等。”这一内容反映的是()

- A. 拉丁洲独立运动 B. 印度民族大起义 C. 印度非暴力不合作运动 D. 非洲民族独立运动

24. 1941 年, 罗斯福曾说: “你可以把它(战争)比作一场英式足球赛, 我们就好像是预备队, 坐在旁边的长凳上瞧人家的, 俄国(苏联)和中国形成先上场的第一队…在球赛进行到我们的先锋队员快要乏的时候, 我们就应该参加进去, 做最后的一击, 以决定全局的胜利。”导致美国“参加进去”的事件是()

- A. 卢沟桥事变 B. 日军突然袭击珍珠港 C. 诺曼底登陆 D. 《联合国家宣言》签署

25. 韩国政府于 2020 年 6 月 2 日宣布, 将重新就日本采取对韩出口管制施诉诸世界贸易组织, 日本对此表示遗憾, 该材料反映出, 世界贸易组织()

- A. 是影响最大的国际组织 B. 偏袒日本而引起韩国不满
C. 具有解决贸易争端的职能 D. 是日本与韩国对话交流的唯一通道

二、非选择题: 共 3 道题, 第 26 题 13 分, 第 27 题 21 分, 28 题 14 分, 共 50 分。

26. (13 分)中华民族灿烂辉煌的传统文化承载着生生不息的精神力量和民族自信, 传承优秀传统文化是我们的历史使命, 阅读下列材料, 回答问题:

【思想发展】

材料一: 在中华优秀传统文化的大观园中, 诸子百家熠熠生辉, 儒道释和谐共生, 好不夸张地说, 优秀传统文化在思想上有大智, 在理论上有大善, 在艺术上有大美。

——《从传统文化中汲取中国梦的精神力量》



(1) 材料一中提到春秋战国时期思想领域出现的“熠熠生辉”的局面叫什么?(1分) 图中人物的核心思想是什么?(1分)

【治国理政】

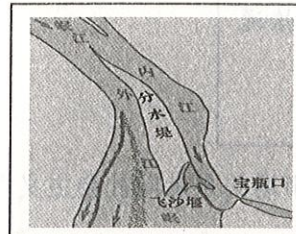
材料二:汉兴,扫除繁苛,与民休息。至于孝文,加之以恭俭,孝景遵业,五六十载之间,至于移风易俗,黎民醇厚,周云成康,汉言文景,美矣!
——《汉书·景帝纪》



(2) 材料二所描述的这一时期出现的治世局面是什么?(2分) 上图中运河的开凿者在位时还创立了中国古代的一种选官制度,是什么?(2分)

【经济文明】

材料三 图一



图二



图三



(3) 材料三中图一是哪一著名水利工程的示意图?(1分) 图二反映了唐朝人民的创新能力,请写出图二农具的名称。(1分) 图三是《北宋纸币铜版拓片》图,请写出这一时期出现的世界最早的纸币名称。(1分)

【文化长廊】

朝代: 汉朝
人物: (①)
作品: (②)
地位: 中国古代第一部纪传体通史


朝代: 清朝
人物: (③)
作品: (④)
地位: 艺术成就最高、影响最深远的长篇小说

(4) 请根据提示完成表格中 ①②③④ 的内容。(4分)


27. (21分) 近代以来,在惨遭帝国主义铁蹄的蹂躏中,中国人民前赴后继,不屈不挠,谱写了曲曲悲壮激越的民族史诗。阅读下列材料,回答问题:

【民族危亡 屈辱沧桑】

材料一 图一



图二



(1) 材料一中的两幅图片见证或刻画了近代中国的历程,图一中的“废墟”是哪次侵华战争造成的?(1分) 图二反映了日军在侵华战争中犯下的哪一暴行?(1分)

【民族觉醒 举步维艰】

材料二



图三



图四



图五



图六

(2) 请据图三写出中国近代向西方学习的重大历史事件的名称。(1分) 图四中人物领导的救亡运动是从哪个方面学习西方?(1分) 图五中人物一生致力于民主革命,他追求民主政治的指导思想是什么?(1分) 图六反映的是中国近代史上哪一重大历史事件?(1分)

【民族复兴 独立自主】

材料三 中国在巴黎和会上蒙受的屈辱阻碍了中国寻求西方模式的国家认同。五四知识界对西方的幻灭,伴随着亲苏社会主义思潮的兴起,许多中国人认为俄国革命是中国进行国家建构的唯一成功楷模。
——据徐国琦《中国与大战》等

(3) 根据材料三指出中国人的认识发生了怎样的变化?(1分) 这一变化促进了哪一思想在中国的传播并促成国内哪一政党的建立?(2分)

材料四 (八七会议)后,毛泽东等人发动人民群众,进行了武装暴动,在受较大损失后,毛泽东指着地图说:“……我们要到这眉毛画得最浓的地方当山大王。”
——叶永烈《历史选择了毛泽东》

(4) 写出材料中“武装暴动”的事件名称。(1分) 毛泽东说的“我们要到这眉毛画得最浓的地方当山大王”是指哪一重大事件?(2分)

材料五 四万万同胞同仇敌忾,用自己的血肉筑起了坚不可摧的长城,使日本侵略者陷入人民战争的汪洋大海之中。
——纪念中国人民抗日战争胜利《人民日报》社论

(5) 据材料五结合所学知识指出中国人民抗日战争的起点是什么?(1分) 中国抗日战争胜利的根本原因是什么?(2分)

【民族强盛 壮丽篇章】

材料六 他和他的同事找到了一条富国强民的道路。在达成这个目标的过程中，邓小平引领全国人民找到了中国道路，这种转变，确实可以成为自两千多年前汉帝国形成以来，中国最根本的变化。

(6) 邓小平“和他的同事”为富国强民做出了什么样的历史性决策？（1分）这一转变开始于哪次会议？（1分）


(7) 结合所学知识回答材料中中国道路指的是什么？（2分）随着我国综合国力的提升，20世纪90年代在完成祖国统一的道路上取得了哪些成就？（2分）

28. （16分）自从近代以来，世界发生了很大的变化，追随历史的脚步，探寻近现代历史的发展。阅读下列材料，回答问题。

材料一 “运动”关心的是今世而不是来世。它关注的是非宗教的古典文化而不是基督教神学，它提倡以人为本，肯定人性，肯定现世生活，它猛烈冲击了封建神学，被认为是冲破黑暗中世纪的一道“曙光”。
——斯塔夫里阿诺斯《全球通史》

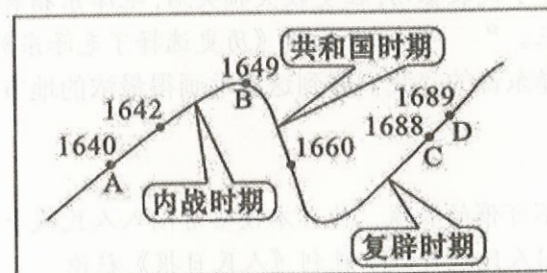
(1) 材料一中的“运动”指的是什么？（1分）其先驱是谁？（1分）

材料二



(2) 材料二图片中人物创立的革命理论是什么？（1分）在这一理论指导下，法国建立的世界上第一个无产阶级政权是什么？（1分）

材料三




(3) 材料三中该革命最终确立了什么政治体制？（1分）以此为前提，该国在经济领域发生的革命性变化的事件是什么？（1分）

材料四



(4) 材料四是哪一历史文献签署的场景？（1分）它诞生于哪场革命中？（1分）

材料五



俄国农奴的“自由”

苏联早期的领导人布林说：“我们过去认为，我们可以一举消灭市场关系，而实际情况表明，我们恰恰通过市场关系走向社会主义。”

(5) 图片中农奴获得“自由”与哪一重大事件有关？（1分）苏联通过“市场关系走向社会主义”是指什么政策？（1分）

材料六 （苏联）五年计划（1928~1932年）引起了全世界的关注，尤其是因为同一时期西方经济的崩溃……因此，原先的怀疑态度转变为真正的兴趣，有时变为模仿。

——斯塔夫里阿诺斯《全球通史》

(6) 为应对西方经济的崩溃，美国采取了什么措施？（1分）该措施和苏联五年计划最大的共同点是什么？（1分）

材料七 当今的世界格局仍处于一个过渡期，在这个过程中出现了权力的转移和扩散，权力从传统强国欧美向新兴大国转移，并扩散至其他地区，世界格局有进入“碎片化”时代的征兆。

——中国社会科学院2011年《国际形势黄皮书》

(7) 根据材料说说世界政治格局进入“碎片化”时代呈现出怎样的发展趋势。（1分）与此同时世界经济格局正发生着怎样的变化？（1分）

材料八 我们正处于一个挑战频发的世界，世界经济增长需要新动力，发展需要更加普惠平衡，贫富差距鸿沟有待弥合。地区热点持续动荡，恐怖主义蔓延肆虐，和平赤字、发展赤字、治理赤字是摆在人类面前的严峻挑战。

(8) 结合材料和所学知识，说说影响当今世界和平与发展的因素有哪些？（1分）面对这些现状，我们该怎样做？（1分）

九年级二练历史试题答案

一、选择题（50 分）

| | | | | | | | | | |
|----|----|----|----|----|----|----|----|----|----|
| 1 | 2 | 3 | 4 | 5 | 6 | 7 | 8 | 9 | 10 |
| A | B | B | B | B | D | D | C | C | D |
| 11 | 12 | 13 | 14 | 15 | 16 | 17 | 18 | 19 | 20 |
| B | B | D | D | D | A | D | C | B | B |
| 21 | 22 | 23 | 24 | 25 | | | | | |
| B | D | C | B | C | | | | | |

26.（13 分）

- (1)百家争鸣（1 分）； 仁（1 分）
(2)文景之治(2 分)；科举制(2 分)
(3)都江堰(1 分)；曲辕犁(1 分)；交子(1 分)
(4) 司马迁； 《史记》； 曹雪芹； 《红楼梦》(各 1 分，共 4 分)

27.（21 分）

- (1)第二次鸦片战争(1 分)；南京大屠杀(1 分)
(2)洋务运动；政治制度；三民主义；新文化运动
（各 1 分，共 4 分）
(3)从寻求西方模式到学习苏联模式（1 分）；马列主义（1 分）；中国共产党（1 分）
(4)秋收起义（2 分）；建立井冈山革命根据地（2 分）
(5)九一八事变（1 分）；全民族抗战（1 分）
(6)改革开放(1 分)
十一届三中全会(1 分)
(7)建设有中国特色社会主义(2 分)；
香港回归祖国(1 分)
澳门回归祖国(1 分)

28. (16 分)

- (1)文艺复兴；（1 分）但丁（1 分）
(2)马克思主义；（1 分）巴黎公社（1 分）
(3)君主立宪制；（1 分）第一次工业革命（1 分）
(4)《独立宣言》；（1 分）美国独立战争（1 分）
(5)1861 年农奴制改革；（1 分）新经济政策（1 分）
(6)罗斯福新政；（1 分）采用国家干预手段扭转经济形势（1 分）
(7)政治格局:朝着多极化方向发展；（1 分）经济格局:经济全球化（1 分）
(8)因素:地区冲突；民族矛盾和宗教纷争，恐怖活动，环境问题等等。
（言之有理即可）（1 分）
做法:团结协作，共同努力，认真应对。（言之有理即可）（1 分）