

2018 学年第一学期

# 小学四年级数学期末综合练习参考内容

(完卷时间: 60 分钟)

题号	一	二	三	四	五	六	等级
评价							
评卷人							

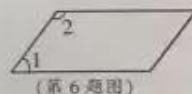
## 一、填空。

- 600 公顷 = ( ) 平方千米      80000 平方米 = ( ) 公顷
- 中国历代长城总长度约为二千一百一十九万六千一百八十六米。划线部分的数写作 ( ), 其中“2”在 ( ) 位上, 表示 ( ) 个 ( ) 。
- 2017 年, 广州地铁完成新线建设投资 21700000000 元, 日均客运量超过 7670000 人次。划线部分的数改写成用“万”或“亿”作单位的数是 ( ) 亿元, ( ) 万人次。
- 请把下列各数按从大到小的顺序排列起来。  
6801290      6701290      67010290      67001209

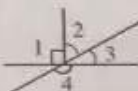
( ) > ( ) > ( ) > ( )

- 984273900 用“四舍五入法”省略万位后面的尾数约是 ( ) 万, 省略亿位后面的尾数约是 ( ) 亿。


- 右图中一共有 ( ) 组平行线; 量一量  $\angle 1 = ( )^\circ$ ,  $\angle 2 = ( )^\circ$ 。



- 已知  $\angle 2 = 60^\circ$ , 那么  $\angle 3 = ( )^\circ$ ,  $\angle 4 = ( )^\circ$ 。



- 右图这块长方形绿地的宽要增加到 24 米, 长不变。扩大后的绿地面积是 ( ) 平方米。



## 二、判断下面各题, 对的在 ( ) 里打“√”, 错的打“×”。

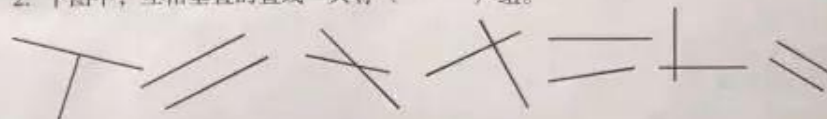
- 与 100 万相邻的两个数是 10 万和 1000 万。 ( )
- 广州市越秀山占地面积约为 86 万平方千米。 ( )
- 两个锐角拼成的角一定是钝角。 ( )
- 学校清洁队有员工 12 人, 负责清扫近 400 平方米的校园。这里的“12”是近似数。 ( )
- 长方形和正方形都是特殊的平行四边形。 ( )

## 三、选择正确答案的序号填在 ( ) 里。

- 一辆汽车的速度是 85 千米/时, 4 小时可以行驶多少千米? 解答这道题目用到的数量关系式是 ( )。

① 路程÷时间=速度      ② 总价÷数量=单价      ③ 速度×时间=路程

- 下图中, 互相垂直的直线一共有 ( ) 组。



① 4      ② 3      ③ 2

- 下列各数中, 只读一个“零”的是 ( )。

① 1702500      ② 1072050      ③ 1702005

- 陈叔叔在跑道上画了一条长 10 米的 ( )。

① 线段      ② 射线      ③ 直线

- 下面算式中, ( ) 与  $240 \div 120$  的得数不相等。

①  $250 \div 130$       ②  $480 \div 240$       ③  $2400 \div 1200$

## 四、计算。

- 直接写出计算结果。

$$60 \div 10 = \quad 400 \div 50 = \quad 13 \times 20 = \quad 500 \times 14 =$$

$$280 \div 40 = \quad 18 \times 2 = \quad 450 \div 90 = \quad 3 \times 26 =$$

- 用竖式计算下面各题, 带★的要验算。

$$267 \times 83 \quad 802 \times 40 \quad 722 \div 38$$

★  $904 \div 24$

验算：

接着往下算：

$7900 \div 600$

$6 \overline{) 7900} \quad 7 \quad 9 \quad \overline{) 00}$

### 五、操作题。

1. 画一个  $75^\circ$  的角。

2. 画出下面图形底边上的高。



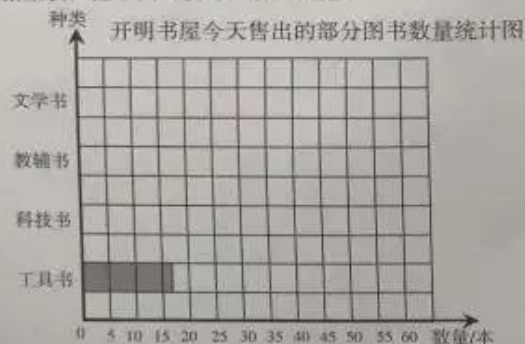
3. 下图是一个长方形的两条边。请把这个长方形画完整。



4. 开明书屋今天售出的部分图书数量如下表：

种类	工具书	科技书	教辅书	文学书
数量/本	12	45	55	38

(1) 请根据上表，把下面的统计图补充完整。



(2) 图中每格代表( )本。售出的( )最多,( )最少。

### 六、解决问题。

1. 图书馆买回一批书，每个书架可以放 130 本书，放了 12 个书架，还剩 250 本，这批书一共有多少本？

2. 齐星果园里共有 800 棵果树，其中苹果树有 100 棵，其余全部是梨树。这些梨树种植了 28 行，平均每行有多少棵梨树？

3. 学校组织 540 名学生去植树，平均分成 9 个小队，每个小队分成 12 个小组，平均每组有多少人？

4. 珠江夜游“广州财富号”游船的票价如下表。王阿姨带的钱刚好够买 24 张 3 楼大厅的船票。如果购买 1 楼大厅的船票，最多能买几张？

座位类型	1 楼大厅	2 楼大厅	3 楼大厅	2 楼露天区域
单价/元	160	108	140	128