

花都区 2020 学年第一学期期末达标检测

九年级历史(问卷)

本试卷分第 I 部分(选择题)和第 II 部分(非选择题), 总分 90 分, 考试时间 60 分钟

注意事项:

1. 答卷前, 考生务必在答题卡上用黑色字迹的钢笔或签字笔填写镇(街)、学校、姓名、考场试室号、座位号及准考证号等自己的个人信息, 再用 2B 铅笔把对应准考证号的标号涂黑。
2. 选择题每小题选出答案后, 用 2B 铅笔把答题卡上对应题目的答案标号涂黑。如需要改动, 用橡皮擦干净后, 再选涂其他答案。不能答在试卷上。
3. 非选择题必须用黑色字迹的钢笔或签字笔作答, 答案必须写在答题卡各题目指定区域的相应位置上; 如需要改动, 先划掉原来的答案, 然后再写上新的答案, 改动的答案也不能超出指定的区域; 不准使用铅笔、圆珠笔和涂改液。不按以上要求作答的答案无效。
4. 考生必须保持答题卡的整洁, 考试结束后, 将问卷和答题卡一并上交。

第 I 卷 选择题 (50 分)

一、选择题 (下列各题均只有一个正确答案, 请选出其字母代号填入答题卡。每题 2 分, 共 50 分)

1. 人类早期文明最先诞生于亚非地区的大河流域。自西向东, 曾先后出现过许多文明, 赵同学准备以“上古亚非文明”为主题进行探究性学习。他探究的内容应包括
①金字塔的国度 ②《汉谟拉比法典》 ③种姓制度的国度 ④民主之花的雅典
A. ①③④ B. ①②④ C. ①②③ D. ②③④
2. “中古西欧城市是自然地在一些位于交通路口的集市、废旧的古代城堡上兴起的。城市所集中的手工业和商业所构成的商品经济从一开始就对封建制度起着瓦解作用, 城市里的市民阶级不断发展壮大, 成为近代资产阶级的前身。”从这段话中可以得到的信息是
A. 所有的城市都是在交通路口兴起的
B. 市民阶级成为资产阶级的前身
C. 城市通过斗争拥有了自治权
D. 商品经济终结了封建制度
3. 中世纪晚期, 西欧原来的封君封臣制度和庄园制度发生了很大变化, 随之而来的是资本主义生产方式的出现, 它们是
A. 工厂和乡镇企业 B. 租地农场和工厂
C. 乡镇企业和手工工场 D. 租地农场和手工工场



4. 14、15 世纪时，意大利的父母给孩子们命名，不是取《圣经》中的人物和基督教的圣哲，而是取不信基督教的名人——恺撒、荷马、梭伦、伯里克利等。这是因为
- A. 殖民扩张不断加剧
B. 文艺复兴运动开展
C. 启蒙思想广泛传播
D. 资产阶级革命爆发
5. 由于他的这种英勇的自我牺牲精神，五艘破旧不堪、孤零零的小船敢于去向无人知晓的海洋挑战。这种非凡的胆略是不会被人忘记的，他本人也不会被人忘记。他是第一个提出环球航行这个最大胆想法的人，而且是他的最后一艘船实现了这一理想。“他”是
- A. 迪亚士
B. 哥伦布
C. 达·伽马
D. 麦哲伦
6. 下表是某研究报告的一部分。由下表内容可知，该研究报告的主题是

时间：1771年

查阅的报纸：《美洲海报》和《美洲海报增刊》

奴隶船只数：30 艘

船只从何处来：(1)几内亚族群（黄金海岸9艘，几内亚海岸1艘）。

(2) 班图族群 (安哥拉海岸 17 艘)。

(3) 苏丹族群 (冈比亚和塞内加尔 3 艘)

公布的黑人人数：6990 人

逃亡奴隶最多的族群：（班图族（刚果人） 根据大约 950 份通告计算

7. 下面的大事年表揭示了 14—17 世纪欧洲历史发展的主题是

14 世纪前后	欧洲出现资本主义萌芽
14—16 世纪	欧洲文艺复兴运动
1492 年	哥伦布到达美洲
1640 年	英国资产阶级革命开始

- A. 欧洲的革命运动
B. 欧洲的思想解放
C. 欧洲的社会转型
D. 欧洲与世界的联系
8. “17 世纪 40 年代王权与自由的斗争中，当王权因冲破传统而否定自由之后，自由也冲破传统而否定王权，……这就是革命”。材料中的“革命”指的是
- A. 辛亥革命
B. 英国资产阶级革命
C. 法国大革命
D. 工业革命



9. “华盛顿的行动很感人……为了国家的事业，他却抛弃了养尊处优的生活，离开了家人和朋友，牺牲了自己的舒适环境，把这一切都拿来孤注一掷。”这里的“国家的事业”是指
- A. 起草《人权宣言》
B. 消除南北差异
C. 实现种族平等
D. 赢得民族独立
10. 马克思在《资产阶级和反革命》一书中写道：（英国和法国资产阶级革命）“不仅反映了发生革命的地区即英法两国的要求，而且在更大程度上反映了当时整个世界的要求。”“当时整个世界的要求”是
- A. 实现民族国家独立和解放
B. 建立中央集权的君主专制统治
C. 为资本主义发展扫清障碍
D. 确立“王在法下”的基本原则
11. 在 19 世纪上半期的伦敦，下列情景可能发生的是
- A. 街道上有汽车行驶
B. 有人乘坐飞机去远方探亲
C. 街上电线杆林立，夜晚城市霓虹灯闪烁
D. 不时有一列列火车呼啸而过
12. 《剑桥欧洲经济史》中写道：“机器都在执行着一种新的纪律。纺工不再能够像过去那样在家里无拘无束地摇车纺纱了，织工也不能像过去那样在家里自由自在地投梭织布了。现在，他们必须在工厂中按照没有生命不知疲倦的机器设备所确定的速度工作。”这反映了
- A. 工业化带来了严重的环境污染
B. 工业革命改变了生产和工作方式
C. 工业化改变了传统家庭结构
D. 工业革命提高了人们的生活水平
13. “这本书是向资本者脑袋发射的最厉害的炮弹，在理论方面给资产阶级一个使它永远翻不了身的打击……对于工人具有重要的意义。”材料中“这本书”是指
- A. 《国际歌》
B. 《共产党宣言》
C. 《九国公约》
D. 《和平法令》
14. 美国史学家帕尔默认为，内战后美国形成了一种观念：美国不是由各成员州组成的，而是由一个不可改变地团结在起的人民组成的民族国家。此材料说明美国内战
- A. 废除了奴隶制度
B. 解决了社会的根本矛盾
C. 维护了国家统一
D. 促进了经济的迅速发展
15. 把工业革命、俄国农奴制改革、美国内战、日本明治维新四大历史事件放在一起探究，探究的主线应是
- A. 世界走向战争
B. 资本主义制度的初步确立
C. 和平与发展
D. 科技革命推动资本主义制度进一步扩展
16. 2019 春节档票房冠军《流浪地球》被誉为“中国科幻的里程碑”。影片中地球差点被木星引力捕获。与这一情节有关的科学理论是
- A. 牛顿的万有引力定律
B. 伽利略的自由落体定律
C. 达尔文的生物进化论
D. 爱因斯坦的相对论



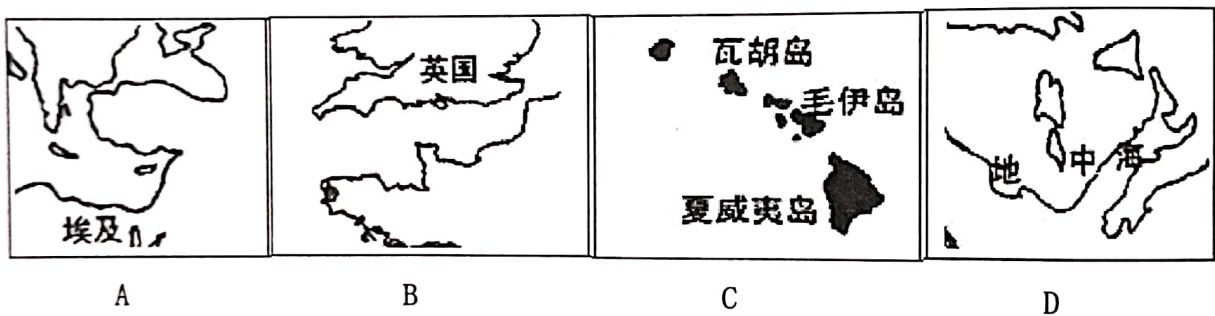
17. 帕尔默在他的《现代世界史》中说：“俄国革命对 20 世纪随后年月中的重大事件及全球冲突的影响之大，并不亚于第一次世界大战。”对这句话的理解正确的是

- A. 通过这场革命俄国结束了沙皇专制统治
- B. 革命后俄国工人、农民实现了当家作主的愿望
- C. 俄国革命胜利直接导致了两极格局的出现
- D. 俄国革命鼓舞了世界无产阶级革命运动的高涨

18. 我们用“强攻”办法即用最简单、迅速、直接的办法来实行共产主义的生产和分配原则的尝试已告失败。1921 年春天的政治形势向我们表明，在许多问题上，必须退回到国家资本主义的阵地上去。下列选项符合上面想法的是

- A. 余粮征集制
- B. 实行战时共产主义政策
- C. 由国家统一分配一切生活必需品
- D. 实行自由贸易

19. 诺曼底登陆是第二次世界大战中的著名战役，其登陆地点可在下列哪一幅图中标注出来



20. 下列各项史实与结论，因果逻辑正确的是

	史 实	结 论
A.	玻利瓦尔解放了哥伦比亚、委内瑞拉等	他被誉为“北美的解放者”
B.	凡尔登战役，法国战胜德国	这场战役是二战的转折点
C.	1947 年，杜鲁门主义出台	标志着冷战的开始
D.	甘地领导非暴力不合作运动	实现了印度的独立

21. 1971 年美国总统尼克松的一次演讲中说：“西欧…是美国非常强有力的竞争对手…他们正在与我们竞争…同我们在第二次世界大战结束的时候相比，美国遇到了我们甚至连做梦也没有想到过的那种挑战。”文中的“挑战”是指

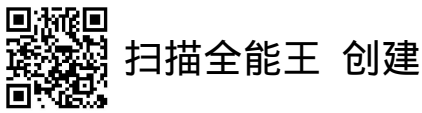
- A. 七十年代美苏争霸中美国处于劣势
- B. 中国恢复联合国的合法席位
- C. 欧共体成立促进欧洲经济发展
- D. 欧盟成为世界最大经济体



22. 站在资产阶级政治思想理论家后的，是一大群准备将温和自由主义革命转变为社会革命的群众。处在资本主义企业家之下和周围的，是被迫离乡背井，满腹怨言的“劳动贫民”他们摩拳擦掌，跃跃欲试。”事实上，正是当时严重的社会问题和剧烈的矛盾冲突，将社会福利制度推向了西方历史的前台。可见，西方社会建立社会保障制度是为了
- A. 缓和社会矛盾，维护社会稳定
B. 推动民主社会进步和发展
C. 消除贫富差距，维护公平正义
D. 摆脱危机打击，巩固政权基础
23. 美国总统特朗普上台后奉行“美国优先”战略，与各国大打“贸易战”，并迫使美国各跨国公司从海外回流本土。可是，2018 年 11 月 26 日美国著名汽车生产商通用汽车公司仍宣布关闭五个本土的生产中心，将生产重心逐渐转移至中国等国家。这表明
- A. 美国霸权日益衰落
B. 全球化进程不可阻挡
C. 特朗普停止“贸易战”
D. 中国是贸易战赢家
24. 在新的世界格局形成过程中，世界各国都在大力发展高新科技，致力于实现长期、稳定和持续的经济增长，力争在新的世界格局中占据有利地位。对此，最准确的理解是
- A. 经济实力→科技革命→政治格局
B. 政治格局→科技革命→经济实力
C. 科技革命→经济实力→政治格局
D. 科技革命→政治格局→经济实力
25. 若给下表中关于时事新闻的学习资料拟一个主题，下列选项中最合适的是

	国际要闻摘选
学习主题	2019 年 4 月，第二届“一带一路”国际合作高峰论坛在北京举行。
	2020 年 1 月，世界经济论坛第 50 届年会在瑞士达沃斯举行。
	2020 年 2 月，美国与阿富汗塔利班签署了和平协议。
	2020 年 3 月，中法俄英美重申促进和平利用核能普惠共享。

- A. 经济全球化 B. 世界多极化 C. 和平与发展 D. 科技与生活



第Ⅱ卷 非选择题（共40分）

26. (12分) 拿破仑是一个备受争议的历史人物。在中国近代史上，不同时期各界对他的评价褒贬不一。阅读下列材料：

材料一 《郑观应集》中记述道：“法皇拿破仑胁迫普国，割其地大半，责偿军饷一百四十兆，……”而梁启超盛赞拿破仑“率其彪悍之国民，东征西讨，卒能取威定霸，奋扬国威”。

——郑观应《郑观应集》和梁启超《新民说》

材料二 伴随着袁世凯的倒行逆施，拿破仑的“英雄”形象亦随之遭到怀疑。武昌起义爆发之后，由谁来领导中国革命的发展，章太炎就早有分析。他认为：“这种伟大人物，如果是华盛顿式的，那就要为中国庆幸；一旦是拿破仑式的，那就可能最终导致出现某种乱世。”中国学者蔡尔康批评袁世凯“不以拿破仑为鉴，反以拿破仑为师，易民主为独裁”，二人之行为如出一辙。

——改编自赵少峰《拿破仑形象在中国的塑造与翻转》

材料三 对于拿破仑的治国才能，郭士立也不吝赞美，称其：“于是设造新律例（《拿破仑法典》），先正其纲纪之摧残，而后国家乃得稳当。”

——左胜辉《拿破仑形象在中国早期的接受研究》

- (1) 根据材料一，郑观应和梁启超对拿破仑对外战争所持的态度分别是什么？（2分）并分析两人持不同态度的原因？（4分）
- (2) 根据材料二，指出辛亥革命后拿破仑形象在中国发生的变化。（2分）结合所学知识，分析导致其形象变化的原因。（2分）
- (3) 综合上述材料，指出影响历史人物评价的因素有哪些？（至少两个）（2分）

27. (14分) 自人类社会产生以来常常伴随着各种危机，应对和解决危机是世界性的课题。阅读材料，回答问题。

材料一 十九世纪中期，面对西方列强船坚炮利的“叩关”，日本与其他亚洲的国家一样遭遇了生存危机。然而日本以此作为奔旧图新的历史机遇，并最终化危为机，成为东方第一个摆脱列强欺凌、顺利实现现代化，并以侵略扩张建立起海外殖民地的唯一亚洲国家。

——杨伯江《日本两度崛起留给世界深刻启迪》



材料二 在大危机时期，胡佛坚持认为救济主要由地方政府和社区私人慈善团体来进行，联邦政府少管闲事。但胡佛政府的救济保障政策无力解决社会就业难题……罗斯福总统上任后承认失业救济是一种麻醉剂，由于救济不符合美国人强调自我奋斗，自我独立的个人主义价值观，对恢复他们的自信心不利，联邦政府不得不实施以工代赈。

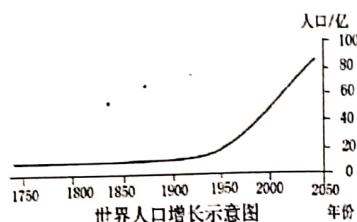
——改编自《美国人个人主义价值观在新政中的体现——“以工代赈”措施为例》

材料三

加速融化的南极冰山



日益增长的世界人口



全球面临的抗疫战争



材料四 应对全球性挑战，各国应携手共进，推进全球治理，维护以联合国为核心的国际体系和以国际法为基础的国际秩序，推动构建人类命运共同体。


——摘编自《十三届全国人大三次会议政府工作报告》

- (1) 根据材料一，指出十九世纪中期日本为应对生存危机进行了哪一个改革？（写出改革的名称）（2分）
- (2) 根据材料二，指出美国应对危机的措施发生怎样的变化？（2分）结合材料和所学知识，分析上述罗斯福的措施对危机的解决起到怎样的作用？（4分）
- (3) 根据材料三、四，概括现今人类面临着哪些共同问题？（3分）面对这些问题，人类应如何解决全球性的危机？（3分）

28. (14分) 人类社会的发展史是不断创造物质的历史，物质的流动推动了世界历史的发展进程。阅读材料，回答问题。

材料一 如图是一幅1675年绘制的油画，英国的园艺师正在向英国国王查理二世敬献第一个在英格兰长出的菠萝。菠萝原产于南美洲，在当时的英格兰被称为“国王的水果”。

——摘抄自2019年深圳期中考试材料题



材料二 机器化生产和标准化的推行，使美洲的烟草、东非的咖啡、中国的茶叶以及印度的糖经过扩大再生产后重新出现在了它们的原产地，不同于原有的原料形态，它们统统被饰以知名商标和发达地区的文明气息，以一种更加迅猛的方式征服了它们原来的生产者，从立顿茶叶、箭牌糖果、美国烟草到后来的雀巢咖啡、星巴克咖啡……伴随着全球化的进展，从1800到2000年，这一征服全球消费者口味的争夺战几乎无往不利。

——唐建光《舶来的盛宴 全球化如何重塑我们的口味》

材料三 下表为部分世界博览会举办情况一览表

时间	举办国	名称	展览主题、概况简介
1851年	英国	万国博览会	工业科技与设计
1876年	美国	费城世博会	交通与通讯
1970年	日本	大阪世博会	主题为人类的进步与和谐
2010年	中国	上海世博会	主题为城市，让生活更美好
2015年	意大利	米兰世博会	主题为给养地球：生命的能源

——摘编自陈开和《世博会的价值变迁与国家形象》

- (1) 根据材料一并结合所学知识，指出菠萝出现在英国的原因。（2分）
- (2) 根据材料二，分析过去两个世纪物质交流的过程中“全球化是如何重塑我们的口味”？（4分）
- (3) 根据材料三，概括出“1970年日本大阪世博会”前后世界博览会展览主题的变化。（2分）结合材料和所学知识分析英国和美国举办世界博览会的时代背景分别是什么？（4分）
- (4) 综合上述材料，你认为物质的流动是如何影响世界历史的发展进程？（2分）

