

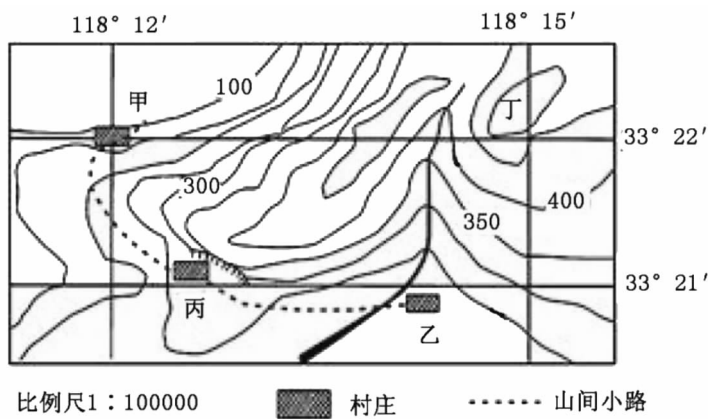
2020 年秋季黄梅县初中教学质量监测(九年级)

地理试题

1. 本试卷包括地理试题和生物试题。满分 60 分。考试时间 80 分钟。
2. 答卷前,考生务必将自己的姓名、准考证号填写在试题卷和答题卡上,并将准考证号条形码粘贴在答题卡上的指定位置。
3. 选择题每小题选出答案后,用 2B 铅笔把答题卡上对应题目的答案标号涂黑。如需改动,用橡皮擦干净后,再选涂其他答案标号。答在试题卷上无效。
4. 非选择题的作答:用 0.5 毫米黑色墨水签字笔直接答在答题卡上对应的答题区域内。答在试题卷上无效。
5. 考生必须保持答题卡的整洁。考试结束后,请将本试题卷和答题卡一并上交。

一、选择题(每小题 1 分,共 10 分。在每小题给出的四个选项中只有一项是符合题目要求的)

读某地等高线地形图,回答 1~2 题。



1. 下列关于图中的说法,正确的是
 - A. 该地区位于黄冈市(30.44°N,114.87°E)东北方向
 - B. 该地区位于北温带,有太阳直射
 - C. 甲村的经纬度为 33°22'N,118°12'W
 - D. 乙村附近的河流由西南向东北流

2. 图示四地中最适宜开展户外攀岩运动的是

- A. 甲
- B. 乙
- C. 丙
- D. 丁

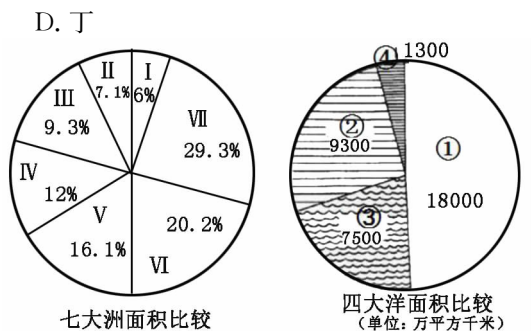
读世界七大洲、四大洋面积比例图,完成 3~4 题。

3. 根据图示,下列关于大洲大洋判断正确的是

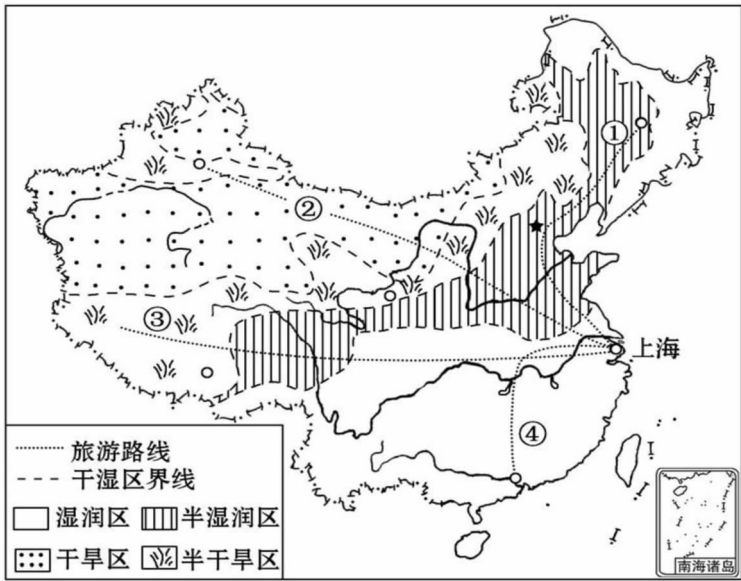
- A. ④大洋是大西洋,Ⅶ大洲是非洲
- B. ①大洋是太平洋,Ⅰ大洲是大洋洲
- C. ②大洋是北冰洋,Ⅵ大洲是北美洲
- D. ③大洋是印度洋,Ⅴ大洲是欧洲

4. 下列代号所示大洲分布在③大洋周围的是


- A. Ⅱ
- B. Ⅲ
- C. Ⅳ
- D. Ⅴ



家住上海的小明在学习我国干湿地区地理知识时萌发了暑假(7月份)游览祖国的大好河山的想法,他在我国干湿地区图上设计了三条游览线路。读图回答5~6题。



5. 湿润区和半湿润区的分界线与下列分界线较吻合的是
- A. 暖温带与中温带的分界线
 - B. 1月份10℃等温线通过的地方
 - C. 水田与旱地的分界线
 - D. 北方地区与西北地区的分界线
6. 小明绘出了四条游览线路经过的某些主要山脉或地形区的简略示意图,其中绘制出现错误的是



- A. ①
- B. ②
- C. ③
- D. ④

亚洲地域辽阔,各地自然环境、经济、文化、风俗差异很大。据此回答7~8题。

7. 下列关于亚洲的叙述正确的是
- A. 河流呈放射状从中部流向周边海洋
 - B. 有世界上最大的高原—青藏高原
 - C. 西临太平洋,南临印度洋
 - D. 经济发展平衡,地域差异小
8. 暑假期间,有甲、乙、丙、丁四位同学分别到亚洲四个不同的地点旅行。回到学校后,他们分别描述了各自的体会和见闻。其中有一位在撒谎的同学是
- A. 甲说:“我不会游泳,可在死海中,即使不带游泳圈我也能随心所欲地畅游。”
 - B. 乙说:“去乌兰巴托的路上,我目睹了‘风吹草低见牛羊’的画面。”
 - C. 丙说:“我玩遍了世界最大半岛,那里到处绿树成荫,鲜花飘香。”
 - D. 丁说:“在日本吃饭时,几乎每餐都有鱼,真合我的口味!”

世界各地的自然环境不同,导致各地的动植物和自然景观也不同。据此完成 9~10 题。

9. 常出现在我国西北地区的动物是



① 熊猫



② 牦牛



③ 骆驼



④ 大象

A. ①

B. ②

C. ③

D. ④

10. 下列四幅世界地理景观图对应不同的国家和地区,其中对应不正确的一项是



① 大堡礁



② 冰屋



③ 夏威夷风光



④ 午夜太阳

A. ①—澳大利亚

B. ②—北极地区

C. ③—巴西

D. ④—欧洲西部

11. 阅读图文材料,回答问题。

材料一 内蒙古自治区自 2020 年 2 月 11 日就筹集 600 吨牛羊猪肉和牛奶作为第一批捐赠物资,发往湖北。先后派出 12 批次 847 名医护及疾控人员支援湖北。2020 年 3 月 18—20 日,随着疫情逐步转好,内蒙古援鄂医疗队分批次陆续“回家”,他们踏雪出发,迎春归来。

材料二 2020 年 3 月,习近平主席在武汉考察疫情防控工作时提到:“要保障米面粮油、肉禽蛋奶等生活必需品供应。一方有难,八方支援,全国多省区市纷纷行动,奉献爱心,一批批粮油物资承载着兄弟省份的手足深情陆续抵达湖北各地,进一步满足抗疫一线人员和群众的多样化需求,支持湖北坚决打赢疫情防控阻击战。”

(1)2020 年 1 月 28 日,第一批内蒙古援鄂医疗队从行政中心_____“踏雪出发”,疫情紧急,他们最可能选择_____ (交通运输方式)奔赴武汉。(2 分)

(2)内蒙古自治区农业部门以_____为主,因此才能迅速筹集牛羊猪肉和牛奶援鄂,而湖北省素有“鱼米之乡”的美称,这里的“米”是由_____ (粮食作物)加工而成,湖北种植这种粮食作物的有利自然条件有_____、_____等。(4 分)

(3)2020 年 3 月 18 日,首批返回人员“迎春归来”,他们沿途可能看到的家乡景象是() (1 分)



A



B



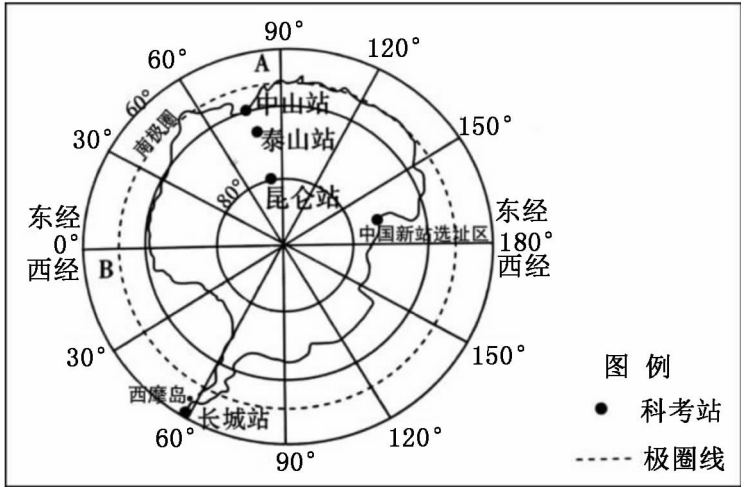
C



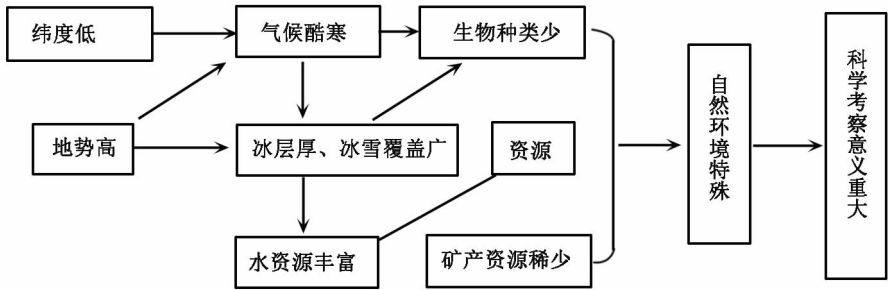
D

(4)为响应习近平主席的号召,各地积极行动起来,纷纷向湖北捐赠了大量生活物资,及时满足了抗疫一线人员和湖北人民的多样化生活需求。试从捐赠的物资:①香蕉、菠萝等水果 ②牛羊肉 ③牦牛肉三类中选取一类,分析捐赠省区可能位于我国四大地理分区中的哪个地区? 并简述其生产这类产品的优势自然条件。(3 分)

12. 读“南极地区”图，回答下列问题。



- (1) 南极地区是指 _____ (纬线) 以南的广大区域, 被 _____ (填一个) 等三个大洋包围, 目前我国在南极地区已建成的科考站有 _____ 个。(3 分)
- (2) 某同学在学习南极地区环境特点后草绘了下面框图。请指出当中的二处错误。(2 分)



错误 1 _____
错误 2 _____

- (3) 当地时间 2018 年 2 月 7 日, 中国新站(罗斯海站)正式选址奠基。试分析科考人员选择在此季节开展工作的主要原因。(2 分)
- (4) 2020 年 2 月 9 日, 科学家在南极北端西摩岛测得气温为 20.75°C , 首次超过 20°C 。科考人员发现南极冰川的融化速度正在加快, 试分析其主要原因及其对该区生物带来的影响。(3 分)