

## 2021—2022 学年度第一学期初中教学质量监测

# 九年级历史试题卷

说明：1. 全卷共 6 页，满分为 100 分，考试用时为 80 分钟。

2. 答卷前，考生务必用黑色字迹的签字笔在答题卡填写自己的监测号、姓名、监测室号、班级、座位号。用 2B 铅笔把对应号码的标号涂黑。

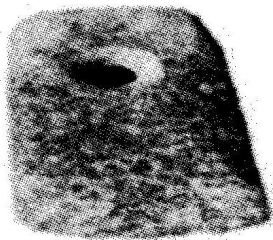
3. 选择题每小题选出答案后，用 2B 铅笔把答题卡上对应题目选项的答案信息点涂黑，如需改动，用橡皮擦干净后，再选涂其他答案，答案不能答在试题上。

4. 非选择题必须用黑色字迹签字笔作答，答案必须写在答题卡各题目指定区域内相应位置上，如需改动，先划掉原来的答案，然后再写上新的答案；不准使用铅笔和涂改液。不按以上要求作答的答案无效。

5. 考生务必保持答题卡的整洁，考试结束时，答题卡交回，试卷自己保存。

### 一、选择题（下列各题只有一个最符合题意的答案，每小题 2 分，共 60 分。）

1. 如下图的考古发现，为距今六七千年我国原始居民使用的生产工具。从生产力发展的水平来看，此类工具的出现和使用佐证他们生活在



石斧



骨耒（复原图）

- A. 旧石器时代      B. 新石器时代      C. 青铜时代      D. 铁器时代
2. 浙江余姚河姆渡遗址中出土的农业生产工具和遗物有骨耒、木耒、稻谷和稻壳、稻秆的堆积物，该发现可用于验证这一时期
- A. 长江流域原始农业兴起和发展      B. 农业文明最早起源于长江流域
- C. 水稻的种植已经遍及中国南部      D. 农业生产工具多为锋利的石器
3. 梁启超说：“华夏民族，非一族所成。太古以来，诸族错居，接触交通，各去小异而大同，渐化合以成一族之形，后世所谓诸夏是也。”从材料中可看出华夏民族的
- A. 生活习惯      B. 形成特点      C. 神话传说      D. 发明创造
4. 西周时期，周王对墓葬用品的规定严格，如：用鼎制度就明确规定为“天子九鼎，诸侯七鼎，卿大夫五鼎……”材料反映的本质问题是
- A. 西周社会呈现等级森严的特征      B. 西周社会的奢侈现象严重
- C. 西周手工业中冶铜业十分落后      D. 西周各地经济发展不平衡
5. 春秋时期，贵族开始禁止用牛祭祀宗庙；战国时期，秦国规定“盗牛者加（枷刑）”。这一现象反映了当时
- A. 祖先崇拜的消失      B. 私有土地的出现      C. 生产方式的变革      D. 兼并战争的影响
6. 秦朝规定：皇帝自称朕、寡人等，皇帝发布的命令称制或诏，皇帝的印章称玺，帝母曰皇太后，嫡（妻）曰皇后。这些规定的主要目的是
- A. 维护皇帝的独尊地位      B. 规范人们的日常用语
- C. 确保皇位的顺利继承      D. 显示皇帝的与众不同

7. 下表是西汉时期朝廷直接管辖的郡级政区数据, 据此可知

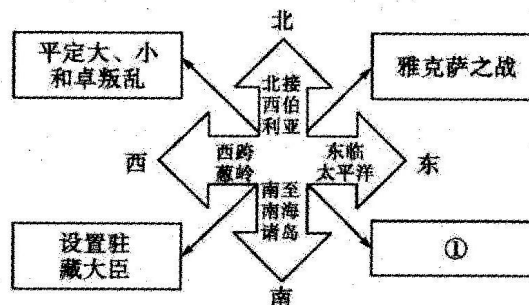
皇帝年号	公元纪年	郡级行政区
汉高帝十二年	前 195 年	15 郡
汉文帝十六年	前 164 年	24 郡
汉景帝中六年	前 144 年	68 郡、国
汉武帝元封五年	前 106 年	108 郡、国

- A. 诸侯王国与朝廷的矛盾渐趋激化  
B. 中央对行政体制进行了调整  
C. 朝廷在逐渐解决地方的隐患  
D. 王国控制的区域日益扩大
8. 南北朝时, 南人已有嗜茶之癖, 北人尚视之为怪异。而唐人封演所著《封氏闻见记》则有“自邹、齐、沧、隶, 浙至京邑, 城市多开店铺, 煎茶卖之, 不问道俗, 投钱取饮。其茶自江、淮而来, 舟车相继, 所在山积……”。该材料反映了
- A. 国家统一促进南北经济文化交流  
B. 饮茶之风从江南向北方扩散  
C. 茶叶经济已形成完整产业链  
D. 南北饮食习惯已趋一致
9. “天可汗”不仅是一种荣誉, 更具有实质意义, 它的目的是使许多弱小邻国或民族可以和平相处共存共荣。据此分析, 唐太宗被拥戴为“天可汗”的原因是
- A. 轻赋省刑  
B. 开明的民族政策  
C. 广开言路  
D. 任用贤良
10. 下列是某学者整合的关于宋代的主要资料, 由此可见宋代

- (1) 宋太祖极力提倡“宰相须用读书人”  
(2) 对先贤哲人的重视, “命葺修先圣庙”  
(3) 要求武人读书, “并励武人读书”

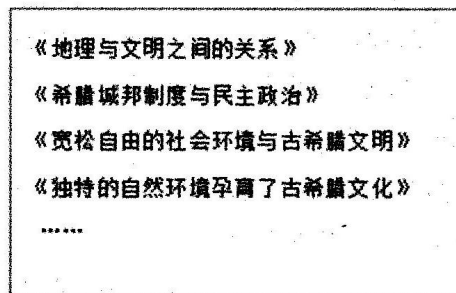
- A. 注重“以文治国”  
B. 中央集权加强  
C. 冗官现象严重  
D. 理学影响深远
11. 岳飞《满江红·怒发冲冠》中, 有“壮志饥餐胡虏肉, 笑谈渴饮匈奴血”一句。其中的“匈奴”指的是
- A. 匈奴统治者  
B. 女真统治者  
C. 契丹统治者  
D. 党项统治者
12. 《南宋社会生活史》中说: “(宋代中国)现代化的程度令人吃惊, 货币经济、纸钞、高度发展的茶盐企业非常独特。”对材料理解正确的是
- A. 临安是全国最大的商业城市  
B. 南宋政府鼓励海外贸易  
C. 中国在宋代就实现了现代化  
D. 宋代商品经济比较发达
13. 在郭守敬的建议下, 元世祖派了 14 位天文学家, 在国内 27 个地点进行天文观测, 其观测结果为编制《授时历》提供了科学的数据。由此推断
- A. 劳动人民是推动科技发展的动力  
B. 中国古代政府历来重视天文学发展  
C. 国家扶持促进了古代科技的发展  
D. 专制统治的强化阻碍了科技的发展

14. 时空观念是了解和理解历史的基础。以下示意图中①处可填



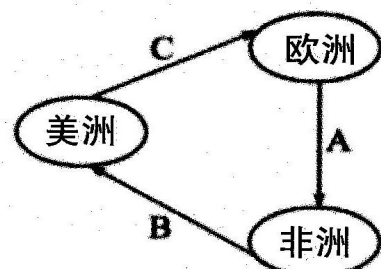
- A. 设置台湾府  
B. 签订《尼布楚条约》  
C. 平定噶尔丹叛乱  
D. 实行金瓶掣签制度

15. 古印度是世界文明的发源地之一，下列与古印度无关的是  
A. 佛教      B. 种姓制度      C. 阿拉伯数字      D. 《汉谟拉比法典》
16. 某同学在撰写研究性学习论文时，在“参考文献”中列出了下图中几篇文章(书籍)。据此判断，该研究论文的题目应该是



- A. 有利的地理环境孕育了古希腊政治文明      B. 古希腊城邦孕育了平等互利的观念  
C. 希腊政治文明与近代文明之间的关系      D. 古希腊民主政治文明产生的条件
17. 中世纪西欧城市的兴起，不仅表现在经济上的繁荣，更重要的还在于政治权利的获得，富庶城镇的居民要求当地领主允许他们自己管理城市的事务。这里的“政治权利”是指  
A. 城市自治权      B. 人身自由权      C. 特许经营权      D. 男女平等权
18. “仿佛经过漫长的中世纪，沉睡的人文精神重新觉醒了……好像度过沉滞悠长的停顿死亡，生命再次诞生，喜悦光明重临人间。”这里评价的文化运动是  
A. 百家争鸣      B. 文艺复兴      C. 启蒙运动      D. 宪章运动
19. 意大利人阿尔贝蒂(1404-1472)说：财富的日益增长是家庭幸福生活的重要组成部分，一个家庭应当装修房子，拥有珍贵的书籍，健壮的马匹。他的话反映了  
A. 民主科学的主张      B. 天赋人权的思想  
C. 自由平等的思想      D. 人文主义思想
20. 1492 年哥伦布发现了新大陆，各种美洲高产作物传入欧洲，仅土豆一项就使欧洲人口在 1700—1900 年两百年间增长 25%，使欧洲城市化率增加 27%到 35%，并帮助催化工业革命的产生。由此可知  
A. 人口的增长加速了城市化的进程      B. 地理大发现给欧洲带来巨大变化  
C. 欧洲的饮食结构发生根本性变化      D. 开辟新航路是为了获取高产作物

21. 如下图，这是 16~19 世纪 300 多年间，资产阶级发家史上的“三角贸易”示意图。其中一个环节的贸易活动被马克思称为“丢掉了最后一点羞耻心和良心的罪恶”。这个环节应是图中所示的哪个环节



- A. A      B. B  
C. C      D. B 和 C
22. 历史学家汤因比曾这样评价英国资产阶级革命的成果：“顺利地在新瓶里装了新酒，还不至于引起旧瓶的爆炸。”这里的“新酒”是指  
A. 议会逐渐成为国家权力中心      B. 国王仍然掌握国家权力  
C. 革命过程中没有发生战争      D. 建立起资产阶级共和国

23. 这次战役是世界史上著名的战役，它扭转了整个战争的局势，是北美英属殖民地十三州独立战争的转折点。它不仅增强了美国人民争取胜利的信心，也为美国人民抗英斗争创造了有利的国际条件。这次战役是
- A. 来克星顿枪声      B. 萨拉托加战役      C. 凡尔登战役      D. 斯大林格勒战役
24. 孟德斯鸠认为，立法权、行政权、司法权必须分置，否则自由便不复存在。在资产阶级创立新体制的过程中，最早贯彻这一思想的国家是
- A. 英国      B. 美国      C. 法国      D. 德国
25. 有学者认为“在树立法国的国际威望方面，《人权宣言》所起的作用胜过了法国军队所打的一切胜仗”。这主要是因为《人权宣言》
- A. 把法国大革命推向高潮      B. 传播了自由、民主思想  
C. 是资本主义国家的第一部法典      D. 摧毁了法国的君主统治
26. 拿破仑对俄国的入侵曾让俄国诗人普希金非常憎恨，拿破仑去世后，普希金却将他视为对抗专制的救世主。普希金态度的转变，是因为他认识到拿破仑的对外战争
- A. 稳定了法国政局      B. 在客观上打击了欧洲封建势力  
C. 促进了商业发展      D. 扩大了法国疆域
27. 小艾同学在复习《资本主义制度的初步确立》这一单元时，列出了英国资产阶级革命、美国独立战争、法国大革命的共同点。下列表述正确的是：①资产阶级都在革命中起到领导作用 ②都以暴力方式进行③都源于封建专制统治阻碍了资本主义发展 ④都促进了资本主义工商业的发展
- A. ①②③      B. ②③④      C. ①②④      D. ①②③④
28. 19 世纪早期，随着伦敦人口的增加，出现了伦敦东区（工业区，以工人阶级和小商贩为主）和伦敦西区（英国上流社会聚居区、各种高档购物商店、歌剧院所在地）的城市分化。出现这种现象的主要原因是
- A. 资本主义生产资料的私有化      B. 英国日不落帝国地位的形成  
C. 英国议会选举分区投票制度      D. 工业革命提高人们精神追求
29. “到了产业革命时期，过去被人看不起的工匠成为技术发明的主角，得到全社会前所未有的尊敬……吸引了各阶层大批有才智的青年人投入到技术改进和技术发明的队伍里。”这段材料可以用来说明工业革命的
- A. 原因      B. 过程      C. 性质      D. 影响
30. “她像一声惊雷震撼着沉睡的大地，以磅礴的气势向世界宣告：资本主义必然灭亡，无产阶级将是未来世界的主人！”从此，工人运动开创了一个新纪元。对材料中“新”的含义理解正确的是
- A. 推翻资产阶级的条件已经具备      B. 工人运动有了科学理论指导  
C. 无产阶级开始尝试夺取政权      D. 开创了世界现代化的新模式

## 二、综合题(第 31 题 13 分，第 32 题 14 分，第 33 题 13 分，共 40 分)


31. 对外政策是一个国家政治、经济利益在国际上的表现。阅读下列材料，回答问题。

材料一：



材料二：唐朝时，日本沿袭遣隋使的制度，遣使到唐。共向唐派出使团 19 次，官员有正使、副使等，其余成员还有工匠、留学生、留学僧等，人数为 250 人左右至 500 人不等。留学生吉备真备和学问僧空海和尚，在日本人民利用中国汉字标音表意的基础上，创造了日文假名字母——片假名和平假名，大大推动了日本文化的发展。

材料三：如下图所示



郑和宝船

“造大船，修四十四丈，广十八丈者六十二。”  
“（海上）水天连接，……惟观日月升坠，以辨西东，星斗高低，度量远近。皆斫木盘，书刻干支之字，浮针于水，指向行舟。……选取驾船民梢中有经贯下海者为火长，用作舟师。”

材料四：“天朝物产丰富，无所不有，原不籍外夷货物以通有无。

请回答：

- (1) 材料一所示是历史上著名的什么通道？西汉时为开辟此通道做出突出贡献的人物是谁？（2 分）
- (2) 根据材料二概括指出唐文化对日本产生的影响。结合所学知识，列举同时期中外交往的史实一例。（3 分）
- (3) 结合所学知识，写出郑和远航最远抵达的地区。根据材料三的史料归纳郑和实现这一壮举的条件。（6 分）
- (4) 材料四反映了清朝统治者怎样的思想？为此，清朝统治者实行了怎样的政策？（2 分）

32. 在人类社会发 展进程中，杰出人物以其思想和行动深刻影响着历史发展的进程。阅读下列材料，回答问题。

材料一：这位新皇帝开始将早先在本国取得辉煌成功的法家学说应用到全中国。……将广阔的国土划分为若干郡县，每一郡县都配备一批由中央政府任命，并向中央政府负责的官员。

**材料二：**汉武帝时代，西汉王朝开始进入全盛时期。在他统治期间，以汉族为主体的统一的多民族国家得到空前的巩固，汉文化的主流形态基本形成。

**材料三：**美国国会议员、骑兵上校亨利李对他的老统帅华盛顿的评价是：“战争时期最著名的将军，和平时期最杰出的领袖，同胞心目中最伟大的人物。”

**材料四：**拿破仑曾说过“我真正的光荣并非打了40次胜战，滑铁卢之战抹去了关于这一切的记忆。但是，有一样东西是不会被人忘却的，它将永垂不朽。”

请回答：

(1) 材料一中的“新皇帝”是谁？为加强对地方的统治，他在全中国推行了哪一制度？（2分）

(2) 根据材料二和所学知识，列举汉武帝巩固大一统所采取的两项措施。（4分）

(3) 根据材料三和所学知识分析，华盛顿能够获得如此评价的理由有哪些？（4分）

(4) 材料四中的拿破仑所说的“东西”是指什么？结合所学知识分析这个“东西”有什么样的积极作用？（4分）

33. 英国曾为世界打开了现代化的大门，虽然历史上的英国时代已经过去，但英国开创的文明却仍在继续。阅读下列材料，回答问题。

**材料一：**这两者的关系不调解好，英国将永远在痉挛中震颤。终于，这个关系调解好了，不过，这一次没有用对抗的手段，而是用融合的手段……在融合中产生出崭新的制度……在此后三百年中，英国再也没有发生过重大的社会动荡，取得了惊人的进步。

**材料二：**1851年的5月1日，一次规模空前的聚会在英国伦敦一座被称为“水晶宫”的穹顶下召开了，为了展示进步和繁荣，一共有来自世界二十多个国家的商界、政界代表人物汇集。这次盛会的准确名称是——伦敦万国工业产品大博览会，也就是世界公认的第一届世博会。在当时世界上，也只有英国有资格举行这次空前的盛会。

**材料三：**哈佛经济学者斯文·贝克特提到：“如果没有一个强大的国家政权，让英国在经济、法律、军事等等方面所向披靡，穿透她想波及的领地，那么英国的工业化简直是不可想象的。”

请回答：

(1) 根据材料一和所学知识回答，“融合的手段”及“崭新制度”分别指什么？根据材料概括“崭新制度”确立的作用。（6分）

(2) 根据材料二和所学知识分析，为什么说“在当时世界上，也只有英国有资格举行这次空前的盛会”？请写出两件当时英国有可能展出的展品。（4分）

(3) 阅读材料三，你觉得斯文·贝克特说得对吗？结合所学知识说说你的理由。（3分）