

2019-2020 学年度下学期一年级质量监测试题 · 数学

密

一、我会填

1. 数一数、填一填。



图中一共有 () 个小方块, 去掉 () 个就是 30 个小方块。



2. 想一想、填一填。

(1)



(2)




1 个十和 6 个一组成的数是 ()。 24 里有 () 个十和 () 个一。

3. 谁吃的虫子最多? (画“○”) 谁吃的虫子最少? (画“√”)



4. 数一数, 填一填。



() 个	() 个	() 个	() 个

比 少 () 个。 比 多 () 个。

姓名:


封

班级:

学校:

线


5. 小朋友看到的是哪幅图? (画“√”)



6. 按规律填数。

(1) 10、20、30、()、50、60、()、80。

(2)



7. 在○里填上“>”、“<”或“=”。

$75 \bigcirc 70$

$80 \bigcirc 80-2$

$32+3 \bigcirc 3+32$

$52 \bigcirc 50+2$

$15-0 \bigcirc 15+0$

$20+60 \bigcirc 61+20$

8. 找孩子(连线)。

$20+40$

$10+50$

$40+40$

$10+30$



$80-40$

$90-30$

$60+20$

$90-50$

$90-10$

二、我会算

1. 直接写得数。

$20+50=$

$40-40=$

$75-5=$

$58-50=$

$12-9=$

$83-3=$

$60+5=$

$1+29=$

$15-8=$

$23+40=$

$75+20=$

$13-7=$

$74+3=$

$2+87=$

$71-10=$

2. 竖式计算。

$64+25=$

$79-62=$

$53+27=$

$85-55=$

$54+18=$

$81-64=$

三、我会列式并计算

1.

共有 12 支。



??



$$\square \bigcirc \square = \square (\text{支})$$

2. 每人一瓶水，还差几瓶水？



$$\square \bigcirc \square = \square (\text{瓶})$$

3.



比 多几只?

$$\square \bigcirc \square = \square \text{ (只)}$$

四、我会解决问题

1.



(1) 一共采了多少个松果?


(2) 小松鼠比松鼠妈妈少采了多少个松果?

$$\square \bigcirc \square = \square \text{ (个)} \quad \square \bigcirc \square = \square \text{ (个)}$$

答: 一共采了 _____ 个松果。

答: 小松鼠比松鼠妈妈少采了 _____ 个松果。

2. 塑料埋在地下很多年都不会“腐烂”, 它对环境的危害可大了!



(1) 小红收集了多少个 ?

(2) 小青收集了多少个 ?

$$\square \bigcirc \square = \square \text{ (个)}$$

$$\square \bigcirc \square = \square \text{ (个)}$$

答: 小红收集了 _____ 个。

答: 小青收集了 _____ 个。