

姓名_____准考证号_____

晋中市 2021-2022 学年第一学期期末

学业水平质量监测

九年级道德与法治

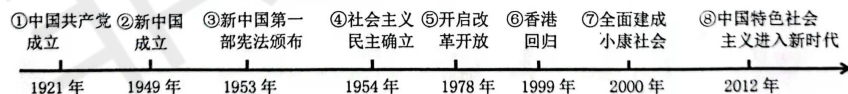
注意事项:

1. 本试卷分选择题和非选择题两部分,共四大题,全卷满分 100 分,考试时间为 70 分钟。
2. 答题前,考生务必将自己的姓名、准考证号填写在本试卷相应的位置上。
3. 答案全部在答题卡上完成,答在本试卷上无效。
4. 考试结束后,将本试卷和答题卡一并交回。

第 I 卷 选择题 (共 36 分)

一、选择题 (在每小题的四个选项中,只有一项最符合题意,请选出并在答题卡上将该项涂黑。本大题共 12 个小题,每小题 3 分,共 36 分)

1. 中共十九届六中全会于 2021 年 11 月 8 日至 11 日在北京举行。下列哪一项属于本次会议通过的文件呢?
A. 《中共中央关于坚持和完善中国特色社会主义制度、推进国家治理体系和治理能力现代化若干重大问题的决定》
B. 《中共中央关于党的百年奋斗重大成就和历史经验的决议》
C. 《中共中央关于制定国民经济和社会发展第十四个五年规划和二〇三五年远景目标的建议》
D. 《中共中央关于深化党和国家机构改革的方案》
2. 下列历史事件与发生时间对应完全正确的一组是



- A. ①②④⑦ B. ①②⑤⑧ C. ①②③⑤ D. ④⑥⑦⑧
3. 中央人大工作会议于 10 月 13 日至 14 日在北京召开。以“中央人大工作会议”为名的会议在党的历史上、人民代表大会制度历史上都是第一次。会上,习近平总书记深刻论述了全过程人民民主。下列体现全过程人民民主的是
①晋华社区党委耐心劝导小区内私自圈地种菜的居民,要求其恢复绿化原貌
②山西省人大常委会起草的《山西老陈醋保护条例(草案)》,向社会公开征求意见
③我省县乡两级人大在全国较早完成了换届选举工作任务
④某市交管部门新增 464 个电子眼,监督机动车斑马线不避让行人的行为
A. ①② B. ①④ C. ②③ D. ③④

4. 看图问“答”：对下列有关问题的回答，完全正确的一组是

①小华认为下面三幅图片都能体现“创新改变生活”



a



b



c

②小华假期计划外出旅游，他应该到下面 b 图标所代表的机构办理身份证



a



b



c

③道德与法治课上，小华指着下面 c 图片说“他是我们山西人，是长征精神的代表”



a



b



c

④小华将家里的废旧水银温度计投放进带有 a 图标的垃圾桶



a



b



c

A. ①②③

B. ①③④

C. ②③④

D. ①②④

5. 制度优势是一个国家的最大优势，制度稳则国家稳。下列有关我国制度的表述中正确的是

- A. 充分发挥政府在资源配置中的决定性作用，更好发挥市场作用
- B. 坚持全国人民代表大会制度，保证人大代表当家作主的权利
- C. 通过民族区域自治制度找到最大公约数，画出最大同心圆
- D. 坚持社会主义制度这一根本制度，牢固树立制度自信

6. 习近平总书记反复强调“江山就是人民、人民就是江山，打江山、守江山，守的是人民的心。”下列名言能反映这一观点的是

- ①治国有常，而利民为本 ②宜未雨而绸缪，毋临渴而掘井
③天地之大，黎元为先 ④法令者，民之命也，为治之本也
- A. ①③ B. ①④ C. ②③ D. ②④

7. **时政快递**

家庭教育立法了！

道德与法治课上王老师给同学们播放了以下新闻

2021年10月23日，第十三届全国人大常委会第三十一次会议通过《中华人民共和国家庭教育促进法》。

以下几位同学对此新闻进行了评价，你认可的有


- 甲：有助于推动良好家风的形成，强化法律对道德建设的促进作用
乙：家庭教育的主要责任在家庭，国家不应立法过度干预
丙：充分体现政府的宗旨是为人民服务，积极实行依法行政
丁：我国高度重视法治建设，坚持依法治国基本方略，积极推进社会主义法治建设

- A. 甲和乙 B. 乙和丙 C. 丙和丁 D. 甲和丁

8. 在新中国成立72周年之际，党中央批准了中央宣传部梳理的第一批纳入中国共产党精神谱系的伟大精神。下列民族精神属于中国特色社会主义新时代铸就的有



①



②



③



④

- A. ①②

- B. ②③

- C. ①③

- D. ①④

9.

第七次全国人口普查数据出炉

下表是我国本次人口普查与2010年第六次人口普查数据对比：

比较内容	第六次人口普查/人	第七次人口普查/人	升降幅度
0-14岁人口（少儿人口）	2.22亿	2.53亿	上升1.35%
15-59岁人口	9.40亿	8.94亿	下降6.79%
60岁以上人口	1.78亿	2.64亿	上升5.44%
城镇人口	6.66亿	9.02亿	上升14.21%
每10万人中具有大学文化程度的人数	8930	15467	上升6.54%

依据此表格，下列推论成立的是

- ①出生率降低→调整生育政策→少儿人口比重回升
- ②社会保障制度逐步建立和完善→人口老龄化程度加深→人口长期均衡发展面临压力
- ③实施乡村振兴战略→城镇人口比重上升→改变我国基本国情
- ④科教兴国战略稳步推进→优先发展教育→人口素质不断提高

A. ①②③ B. ①②④ C. ①③④ D. ②③④

10. 以下是某校校报“时政在线”相关资讯与评论，其中分析得当的是

①2021年11月16日，省科协和省工商联举办了2021年“科创中国”山西新材料产业创新发展系列活动

——助力经济高速增长，加快粗放发展

②2021年11月，“中国民间文化艺术之乡”评选结果公布，我省推荐的6个县乡全部榜上有名

——传承优秀传统文化，推进文化强省

③2021年，我省大同、朔州、忻州三地被列入国家第四批清洁取暖试点城市

——践行绿色低碳理念，建设美丽山西

④2021年10月，《山西省传统村落保护条例(草案)》向社会公开征求意见建议

——体现科学民主立法，提高立法质量

A. ①②③ B. ①③④ C. ①②④ D. ②③④

11. 在建党100周年之际，某校准备组织一次“新发展阶段逐梦新征程”的摄影图片展。


某学习小组收集了下列图片，其中与“新发展阶段”有关的是




①



②



③



④

A. ①② B. ①④ C. ②③ D. ③④

12. 下列是九年级学生小明上课时做的笔记，他摘抄的知识点中错误的是

- ①“四个尊重”的方针是尊重劳动、尊重知识、尊重人才、尊重创造
- ②“五大发展理念”中协调解决的是发展动力的问题
- ③“道路自信”中的道路指的就是绿色发展之路
- ④时代精神的核心是改革创新，民族精神的核心是爱国主义

A. ①② B. ②③ C. ①④ D. ③④

第Ⅱ卷 非选择题（共64分）

二、简答题（本大题有4小题，共34分）

13.（1）基本概念填空：（每空2分，共10分）

①▲是现代政治文明的核心，是发展市场经济、实现强国富民的基本保障。

②中国特色社会主义民主政治的特有形式和独特优势是▲。

③▲已经成为综合国力竞争的决定性因素。


④一名女子突发疾病晕厥在路边，两名路过的高中生用在课堂上学到的心肺复苏术紧急施救，救活该女子。此举体现了社会主义核心价值观公民个人层面▲的价值准则。

⑤两岸关系和平发展的政治基础是▲。


（2）今年是西藏和平解放70周年，假期小华去西藏旅游，他看到各民族和睦相处，这得益于我国的一项基本政治制度是▲，我国已形成了▲的民族关系。下面照片，他在西藏拍摄不到的是▲。（每空2分，共6分）



①



②



③

14.

抗洪救灾


2021年10月2日到7日，我省大范围出现强降雨，致175.71万人受灾，12.01万人紧急转移安置，1.7万余间房屋倒塌，284.96万亩农作物受灾。灾情发生后，各级党委、政府及时组织救灾、安置受灾群众，灾区干部群众团结一心，严防死守，用自己的身体与洪水殊死搏斗；无数党员干部勇冲一线，让党旗在抗洪一线高高飘扬；同时，全国人民根据灾区的需求，积极捐款捐物。

同学们被他们的行为深深触动，请你说说其中的理由。（6分）

15.

重要栖息地

近几年，我市多地发现右面图片中的动物，不仅数量可观，且数量总体呈稳定上升趋势。该动物是国家一级保护动物，是生态系统中的顶级捕食者，也是自然环境健康状况的指示物种。



(1) 你能说出该动物的名称吗？(2分)

(2) 为什么该动物在我市的数量会不断上升？(4分)

16.

北京冬奥会、冬残奥会火炬——“飞扬”

火炬以祥云纹样“打底”，自下而上从祥云纹样逐渐过渡到剪纸风格的雪花图案，旋转上升，如丝带飘舞。火炬整体造型源于叶子，自然界的流线力量充满生机，又蕴含着‘道法自然，天人合一’的中国传统思想。火炬交接时，两只火炬的顶部可以紧密相扣，这既是设计上的奇妙创新，又象征着不同文明交流互鉴，让世界更加相知相融的冬奥愿景。“火炬选用碳纤维及其复合材料制成，降低了重量，燃料使用氢燃料，使火炬燃烧时的碳排放为‘零’。



请你谈谈火炬“飞扬”的制作特点蕴涵了教材中的哪些观点？(6分)

三、分析说明题（共11分）

17.

理性看待 化解忧虑

2021年7月，中共中央办公厅、国务院办公厅印发《关于进一步减轻义务教育阶段学生作业负担和校外培训负担的意见》。“双减”：一是减少校内作业量，减轻学生负担；二是减少校外培训负担，从严治理校外培训机构。目的是落实立德树人根本任务，缓解教育焦虑和促进学生全面发展、健康成长。

对此有些家长表示担忧，学校布置作业少了，甚至都不布置作业了，孩子们的自主学习能力和自控能力相对较差，长此以往肯定会影响孩子的学习成绩。

(1) “双减”之后，你晚上几点能完成各科作业？(1分)

(2) 针对家长的担忧，请你给家长做出理性分析。(10分)

四、实践探究题(共19分)

18.

有意义的一天

2021年11月20日是幸福村换届选举的日子，爸妈要回农村参加村委会主任的选举，而九年级小丽已有好些年没回老家了，恰逢周末，于是她也随爸妈一起回去。以下是小丽一天的所见所闻。请你随着小丽共同感受农村的变化，一起解决以下问题。

感受变化

走到村口，小丽被眼前的景象震惊了：宽阔的柏油马路、路边造型独特的松柏、村口富丽堂皇的牌坊、太阳能路灯。她不禁感慨，近几年农村的变化真是太大了。

(1) 这些变化得益于国家对农村发展的好战略。你知道这一战略是什么吗？(2分)

亲历民主

在跟随爸妈去村委选举的路上，小丽在村务公开栏里看到了村级财务收支情况和村里未来五年发展规划。小丽感慨说：“现在农村的管理真是太民主了”。

(2) 为什么小丽会发出那样的感慨？(4分)

在村委会门口，有候选人拉着小丽爸爸的手，一再叮嘱让选自己。

(3) 此时小丽应该提醒爸爸什么？(2分)

到达选举地点后，村里张大爷看见小丽说：“小丽你没有选举权，也来了”，小丽笑着说：“张大爷好，我好久没回来了，跟爸妈回来转转”，这时小丽看到了爸妈的选票。

幸福村第十二届村委会选举选票			
职务	村委会主任		
姓名	刘文斌	张耀武	
符号			

说明：1. 候选人按照提名票得票从多到少顺序排列。
2. 投赞成票的在候选人姓名下格画“○”或“√”，投反对票的画“×”，弃权的不做任何记号。
3. 主任只能选一名，等于或少于应选人数的有效，多于应选人数的无效。

(4) 根据以上图表，请你回答下列问题：

- ①小丽为什么没有选举权呢？（2分）
- ②通过选票可以看出这次选举属于选举的哪种形式？（1分）
- ③村委会换届选举工作体现了我国实行什么制度？（2分）
- ④你对选出的村委会主任有怎样的期待？（4分）

畅谈收获

(5) 相信小丽今天收获颇多，请你把她的收获写出来和大家分享。（2分）