


历史

注意事项：

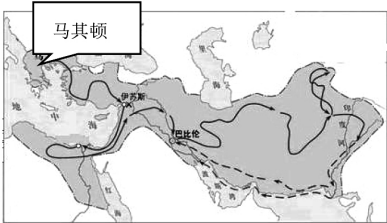
- 1. 考生务必将自己的姓名、准考证号填涂在试卷和答题纸的规定位置。
- 2. 考生要将答案写在答题纸上,在试卷上答题一律无效。
- 3. 本试卷满分 80 分。考试时间 50 分钟。

一、单项选择题(每题 2.5 分,共 16 小题 40 分)

1. “啊,尼罗河,我赞美你,你从大地涌流而出,养活着埃及……一旦你的水流减少,人们就停止了呼吸。”依所学知识可知与该民谣密切相关的是
- A. 古代埃及 B. 古代两河流域 C. 古代印度 D. 古代中国
2. 迄今已知世界上第一部较为完整的成文法典《汉谟拉比法典》,其文字是下图中的




3. 公元前 8—前 6 世纪,希腊出现了两百多个城邦。这些城邦一般是以一个城市或市镇为中心,把周围的农村联合起来,组成一个国家。其突出特点是
- A. 地域辽阔,农业发达 B. 法制健全,分权制衡
- C. 小国寡民,独立自主 D. 中央集权,等级森严
4. 识图是学习历史的一项重要技能,结合所学知识判断下图反映的古代历史是



- A. 斯巴达人的扩张 B. 亚历山大的东征
- C. 孔雀王朝的鼎盛 D. 两河流域的统一
5. 罗马共和国时期制定的《十二铜表法》最重要的历史地位是
- A. 罗马法制建设的第一步 B. 奠定了欧洲民法的基础
- C. 协调了平民与贵族矛盾 D. 成为多国民法参照蓝本

6. 希腊、罗马建筑艺术对后世的建筑风格产生了深远影响。下列属于希腊建筑艺术典型代表的是



7. 646 年,日本孝德天皇颁布改新诏书,大化改新正式开始。下列对这一变革结果的解读正确的是
- A. 严重削弱了天皇的权力 B. 加速了日本的封建化进程
- C. 巩固了世袭贵族的地位 D. 直接推翻了德川幕府统治
8. 史料分为实物史料、文献史料、口述史料等,实物史料包括器物、建筑物、遗址、遗迹等;文献史料包括史书、档案、地方史志等;口述史料包括会议录、神话、传说、史诗等。下列属于文献史料的是
- ①《荷马史诗》 ②汉文帝霸陵 ③《全球通史》 ④《呼和浩特市志》
- A. ①② B. ②③ C. ③④ D. ①④

9. 某校九年级同学学习“封建时代的欧洲”,查找相关资料,完成了如下的资料卡片,此资料卡片描述的国家是

①由于帝国分裂而来
②首都为君士坦丁堡
③1453 年,被奥斯曼帝国灭亡

- A. 阿拉伯帝国 B. 西罗马帝国 C. 查理曼帝国 D. 拜占庭帝国
10. “中古西欧城市是自然地在一些位于交通路口的集市、废旧的古代城堡上兴起的。城市所集中的手工业和商业所构成的商品经济从一开始就对封建制度起着瓦解作用,城市里的市民阶级不断发展壮大,成为近代资产阶级的前身。”从这段话中可以得到的信息是
- A. 城市都是在交通路口兴起的 B. 市民成为资产阶级的来源
- C. 城市通过斗争获得了自治权 D. 商品经济终结了封建制度
11. 被认为是欧洲中世纪教育“最美好的花朵”的是
- A. 义务教育的普及 B. 大学的兴起
- C. 小组合作的出现 D. 职业教育的发展
12. 脍炙人口的《天方夜谭》,情节曲折,语言优美。该书
- A. 是研究早期希腊社会的重要史料 B. 充分体现人文主义者的生活理想
- C. 激起欧洲人对东方的憧憬和向往 D. 构思奇妙成为阿拉伯文学的瑰宝

13. 小宇搜集到一组人物图片,欲将他们归纳到一个专题中,可将下列人物归于一一起的主题是



但丁



伏尔泰



马克思


- A. 资产阶级革命
B. 国际工人运动
C. 近代文学艺术
D. 思想解放运动

14. 陈衡哲在《西洋史》中提到:文艺复兴(Renaissance)的意义有两个,一是复生(re-birth),一是新生(new-birth),这两个意义都是不错的。该提法比较准确反映了文艺复兴的

- A. 形式与实质 B. 原因与结果 C. 兴起与内容 D. 内容与影响

15. 右图反映的历史事件的意义是

- A. 把法国大革命推向高潮
B. 为法国大革命做了理论准备
C. 捍卫了法国大革命成果
D. 成为法国大革命开始的标志



16. 马克思主义诞生,标志着国际工人运动进入一个新的历史时期。“新的历史时期”应理解为国际工人运动

- A. 接受无产阶级政党的领导
B. 有了科学理论的指导
C. 从欧洲影响到整个全世界
D. 推动巴黎公社的建立

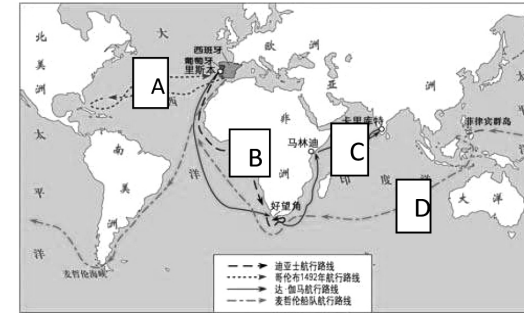
二、非选择题(第 17 题 10 分,18 题 10 分,19 题 10 分,20 题 10 分,共 40 分)

17. 宗教总是在一定的社会背景下产生,且起到一定的社会作用。观察“三大宗教一览表”,回答问题。

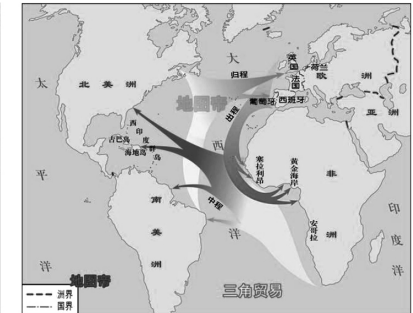
宗教名称	创教时间	创始人	发源地	传 播
佛教	公元前 6 世纪	②	古代印度	经中亚地区传到中国大部分地区，又从中国传到朝鲜、日本和越南等国；向南，传入斯里兰卡、泰国、缅甸等国和我国境内傣族地区
基督教	①	耶稣(传说中的创始人)	巴勒斯坦地区	逐渐传遍欧洲等地区
伊斯兰教	公元 7 世纪	穆罕默德	③	传到亚洲、北非等地

- (1)按①②③的顺序补充完整表格中的内容。(3分)
- (2)列出佛教的基本教义和传播到中国北方地区所经路线的名称。(3分)
- (3)简述4世纪末促进了基督教传播的原因并概括宗教的社会作用。(4分)

18. 殖民掠夺是资本原始积累的方式之一,结合以下示意图,回答问题。



图一



图二“三角贸易”示意图

- (1) 请为图一命名, 并选择图一 A、B、C、D 中的任意一条线路进行简要介绍。(5 分)
- (2) 指出两幅图反映的史事间的联系, 分析三角贸易的双重影响。(5 分)

19. 早期的欧美资产阶级革命对世界近代历史的发展产生了重要影响,资产阶级在革命进程中和革命后颁布了一些纲领性文献或法律,利于来推动革命进程和巩固革命成果。阅读材料,回答问题。(10分)

材料一：“英国革命的最大成果，也是它在现代民主政治创制试验方面的最大成就，是创造了一种全新的政体，并以此淘汰了已成为社会发展桎梏的绝对君主制。”

——摘编自马克垚主编《世界文明史》

材料二:人人生而平等,他们都从他们的“造物主”那边被赋予了某些不可转让的权利,其中包括生命权、自由权和追求幸福的权利。为了保这些权利、所以才在人们中间成立政府。而政府的正当权力,系得自被统治者的同意。如果有任何一种形式的政府变成是损害这些目的,那么,人民就有权利来改变它或废除,以建立新的政府。

- (1)根据材料一,英国创造的“全新的政体”是指什么?其确立的意义如何?(4分)
- (2)材料二所述内容摘自哪部文献?其体现的重要思想有哪些?(6分)

20. 工业革命,是指在生产领域发明、制造机器,促进生产发展的革命性变化。即以机器取代人力,以大规模工厂化生产取代个体手工工场生产的一场生产与技术革命。阅读材料,回答问题。


[寻工业革命之因]

材料:市场总是在扩大,需求总是在增加,甚至于工场手工业再也不能满足需要了。于是蒸汽机和机器的产生引起了工业生产的革命。


英国的殖民掠夺和海外贸易,直接为工业革命的开展积聚了大量的可用资金和丰富的原料……没有不列颠殖民帝国的建立,就没有后来的英国“工业帝国”。

- (1)根据以上材料,归纳英国工业革命发生的原因。(4分)

[观工业革命之况]




图一 哈格里夫斯发明的珍妮机



图二 瓦特的改良蒸汽机



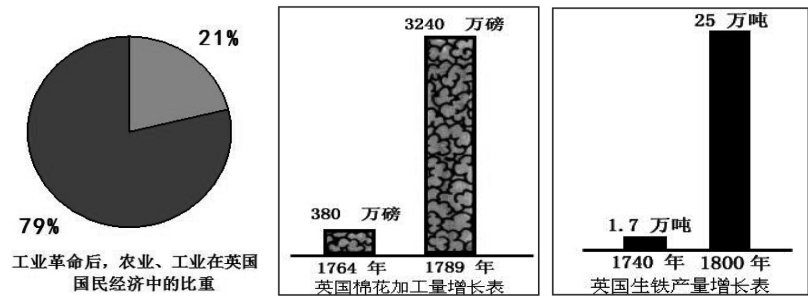
图三 工厂里的纺织女工



图四 史蒂芬森试验蒸汽机车

(2)结合图片,描述发明创造给英国生产领域带来的变化。(4 分)

[析工业革命之果]



(3)跟据上面图片反映的情形,用一句话来概括英国工业革命的成果。(2 分)