

# 2021—2022 学年第一学期期末考试九年级 历史试卷

注意事项：

1. 本试卷共 6 页，两大部分，满分 50 分，考试时间 50 分钟。
2. 闭卷考试，考生应独立答题，禁止翻阅参考资料。
3. 本试卷上不要答题，请直接在答题卡上作答，写在本试卷上的答案无效。

## 第一部分 选择题(共 20 小题,20 分)

(每小题 1 分,共 20 分。在下列每小题列出的四个选项中,只有一项是最符合题意的,请将正确选项的英文字母代号填涂在答题卡相应的位置。)

1. 图中的著名历史遗迹(文物)能体现的主题是



埃及金字塔

汉谟拉比法典(局部)

雅典帕特农神庙遗址

- A. 欧洲文明的起源  
B. 世界文明的多样化  
C. 法律的历史渊源  
D. 古代多彩建筑艺术
2. 某历史小组展示研究性学习成果时,出现了“哈拉帕文化”“雅利安人”“种姓制度”等关键信息。据此推断他们研究学习的对象是
- A. 古埃及      B. 古巴比伦      C. 古印度      D. 古罗马
3. 下面图片共同反映了



2—3 世纪兼具印度和希腊风格的印度佛像

土耳其以弗所古罗马图书馆遗址

- A. 亚历山大东征的影响  
B. 古代战争客观上促进了文化交流  
C. 罗马对外扩张的影响  
D. 希腊、罗马文化对西方文明的影响
4. 据统计,1 世纪时,罗马全年的节庆娱乐日为 66 天;2 世纪时有 123 天;4 世纪时增至 175 天。在节日里,奴隶角斗、斗兽、戏剧等活动皆由国库开支。这段材料可用

A. 罗马城邦的兴起  
C. 罗马帝国的衰亡

B. 罗马帝国的扩张  
D. 罗马公历的缘起

A. 是迄今已知世界上第一部较为完整的成文法典

C. 保证了人民的民主平等

“这是个独特的民族，他是战争的狂徒，用战车把宗教传播到西亚、北非等地。它又是文明使者，用嘴巴将东西文化传承、传播，某种数字因此冠上他的大名。”这“独特的民族”是

#### D. 阿拉伯

A. “我的附庸的附庸不是我的附庸”      B. “城市的空气使人自由”

大化二年(646年)元旦,发布改新诏书:……凡皇室贵族拥有的私地和私民一律收归国家,成为“公地”“公民”。这场改革

B. 使日本走向资本主义道路

D. 使日本开始确立封建制

B. 几乎蔓延到了西欧所有国家

D. 为法国大革命提供了思想武器

A. 亚历山大东征 B. 丝绸之路的开辟 C. 新航路的开辟 D. 三角贸易

### B. 原始积累的重要性

#### D. 殖民活动的原始性

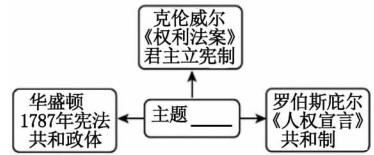
九年级历史 第2页 (共6页)

的改变;第三是器物和经济的改变。”以英国为例,与其制度的改变相关的事件是

- A. 资产阶级革命 B. 文艺复兴 C. 工业革命 D. 宪章运动

13. 右面这幅思维导图反映的主题是

- A. 工业文明的浪潮  
B. 新体制的创立  
C. 世界开始走向整体  
D. 民族复兴的新道路



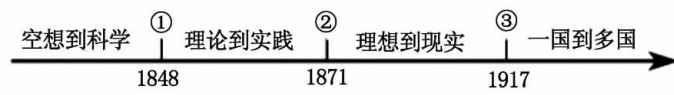
14. 下列关于英、法、美早期资产阶级革命的叙述,不正确的是

- A. 革命爆发的原因都是资本主义发展受到阻碍  
B. 革命后都确立的资产阶级的统治  
C. 革命的目的都是推翻封建专制制度  
D. 革命都是由资产阶级领导进行的

15. 在《共产党宣言》的影响下,1864年,欧洲各国工人建立国际工人协会(史称第一国际),1871年巴黎公社成立,随后的俄国十月革命、中国的新民主主义革命等相继展开。这表明马克思主义诞生

- A. 只适合欧洲的无产阶级革命 B. 是中西方无产阶级革命经验的总结  
C. 只适合中俄两国的暴力革命 D. 极大地推动了世界无产阶级革命运动

16. 如图为国际社会主义运动整体发展趋势示意图,其中②处对应的历史事件是



- A. 英国宪章运动 B. 《共产党宣言》发表  
C. 法国巴黎公社 D. 俄国十月革命

17. 英国人把詹姆斯·瓦特和马修·博尔顿的头像同时印在50英镑纸币(2011版)背面。博尔顿不仅为瓦特改良蒸汽机提供了经济保障,而且将蒸汽机推向市场,使其获得广泛应用。这表明英国人认为

- A. 技术创新和推广同样重要  
B. 发明创造受益于国家干预  
C. 工业革命是近代历史起点  
D. 自由垄断推动了企业发展

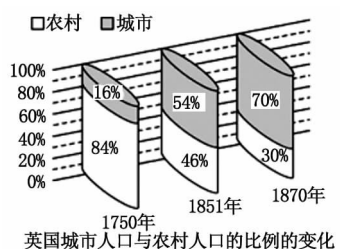


18. “无论如何我们不可否认彼得一世为俄罗斯打开了一扇面向欧洲的窗户……经历了彼得一世改革的俄国开始告别愚昧与落后,迈进近代化的门槛。”这说明彼得一世改革

- A. 开启了俄国近代化的进程 B. 使农奴制进一步强化  
C. 使俄国走上资本主义道路 D. 废除了沙皇专制制度

19. 如图英国人口比例变化的主要原因是

- A. 工业革命加速城市化进程
- B. 妇女彻底摆脱家庭的束缚
- C. 贫富分化的不断加剧
- D. 大众教育的迅速推广



20. 作为近代科学的奠基人之一,他除了在光学、力学和数学方面有开创性研究之外,还发现了一个宇宙定律,这个定律是揭开天体运行面纱的轰动性、革命性结论。这位科学家是

- A. 达尔文
- B. 牛顿
- C. 瓦特
- D. 诺贝尔

## 第二部分 非选择题

(该部分 5 小题。第 21 题 5 分,第 22 题 6 分,第 23 题 5 分,第 24 题 7 分,第 25 题 7 分,共 30 分。)

21. (5 分)阅读下列材料,回答问题。

**材料一** 不同文明是相互冲突的,还是能够和谐共存、交融互鉴? 这一时代考题总是一次又一次出现在各国对外交流的过程中。对此,习近平和希腊总统帕夫洛普洛斯多次给出的答案都不谋而合。习近平说,每次你我之间的交谈,每次中希之间的交流,都能产生“酒逢知己千杯少”的共鸣。这是因为中希作为两大文明古国,有着相通或相近的理念,也都经历艰苦卓绝的奋斗才实现国家现代化发展。帕夫洛普洛斯总统说,古老、灿烂、伟大的文明将两国人民的心紧紧联系在一起。

**材料二** 人类社会发展史是一部多元文明共生并进的历史。不同国家、地区、民族,不同历史、宗教、习俗。彼此交相辉映、相因相生,共同擘画出这个精彩纷呈的世界。

——当地时间 2019 年 11 月 14 日,在金砖国家领导人巴西利亚会晤公开会议上的讲话

(1)材料一中谈及的“两大文明古国”起源上有什么不同? 造成这两种文明不同的主要因素是什么? (3 分)

(2)根据材料二,指出世界文明呈现出的主要特征。面对不同文明,我们应该持怎样的态度? (2 分)

22. (6 分)阅读下列材料,回答问题。

**材料一** 这是一次人类从来没有经历过的最伟大的、进步的变革……(达·芬奇)以新奇的目光重新审视一切的勇气和热情,才能使人类精神从经院的暗室,冲向色彩缤纷的新天地……我们相信伟大的时代塑造了达·芬奇,而达·芬奇又成为那个时代一个不朽的标记。

**材料二** 1492 年 8 月 3 日,他受西班牙女王派遣,带着给印度君主和中国皇帝的国书,率领三艘百十来吨的帆船,从西班牙巴罗斯港扬帆出大西洋,直向正西航去。经七十昼夜的艰苦航行,10 月 12 日终于发现了陆地。这一发现成为新大陆开发和殖民的新纪元,进一步地推动了世界各地之间的文化交流,但同时,这一发现却导致了印第安人文明

的毁灭。

材料三 美洲 15—19 世纪居民结构变化(估值)

	白人	黑人	混血人种	原住民
1490 年	0.00%	0.00%	0.00%	100.00%
1570 年	1.37%	2.42%	0.25%	96.06%
1650 年	6.42%	8.95%	5.70%	80.65%
1852 年	7.77%	14.47%	36.84%	48.39%

- (1)材料一中“最伟大、最进步的变革”指的是什么?(1分)
- (2)材料二中的“他”是谁?根据材料并结合所学知识概括这一发现的影响。(3分)
- (3)导致材料三表格中黑人占比变化的主要原因是什么?(1分)
- (4)请谈谈上述历史事件在近代资本主义社会的形成中的共同影响。(1分)
- 23.(5分)请从下列三幅图片中任选两幅图片,分析图片反映的历史信息,提炼出一个主题,结合所学知识,写一篇 80—120 字的小短文。(要求:题目自拟,史实正确,语句通顺,表述完整,体现所选图片反映的主题。)



图一 威廉和玛丽加冕




图二 美国费城制宪会议



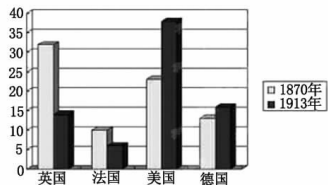
图三 攻占巴士底狱

24.(7分)阅读下列材料,回答问题。

材料一



材料二 主要资本主义国家占世界工业生产总值的比重



材料三 (美国)仅 1865 年至 1900 年,被正式批准登记的发明专利就达到了 64 万多种……为促进科学和实用技艺的普及,对作家和发明家的著作和发明,在一定期限内给予

专利权的保障……美国人第一次把专利权写入了宪法,用国家的根本大法来保护发明创造。

——摘自《大国崛起》解说词

**材料四** 科技方面,英国工业界满足于第一次工业革命的成就,坐享其成的思想日趋严重……在新技术成果应用方面英国日趋落后。政府在科技投入方面也存在诸多问题,经费少,实验设备不足,管理混乱,科技人员地位低和待遇差成为普遍现象。

——《世界通史》

(1)根据材料一中的两幅图片,分别写出两次工业革命中的重大发明成果的名称。(2分)

(2)根据材料二,比较 1870 年与 1913 年英美两国在世界工业生产总值中所占的比重,说明美国经济地位发生了什么变化?并结合材料三及所学知识,分析发生这种变化的主要原因。(2 分)

(3)根据材料四,概括导致英国经济地位衰落在科技方面的原因。(1 分)

(4)从美英两国经济地位兴衰的对比中,你获得什么认识?(1 分)

25.(7 分)阅读下列材料,回答问题。

**材料一** 19 世纪中期的俄国,封建农奴制经济占统治地位,地主不愿使用机器,致使农业歉收、荒年频繁。在克里木战争中,俄军步枪射程只有西方军队的三分之一,俄国用帆船来对付英法的汽船。农奴被土地束缚,不能自由迁徙和务工经商。农村贫困落后,农奴购买力低,生产率低下。

**材料二** 在俄国反对拿破仑的战争中,一些青年军官感受到了西欧国家的发展与进步,为推翻落后的农奴制和专制统治,积极宣传民主思想。1825 年 12 月,他们发动武装起义,结果起义失败。1825—1855 年俄国农奴不堪忍受压迫,先后发动反抗暴动 500 多次。基于对农奴制度弊端的清醒认识,1861 年沙皇亚历山大二世颁布废除农奴制的法令,通过自上而下的改革,促使社会各方面出现了新的气象,推动俄国走上发展资本主义的道路。

**材料三** 19 世纪 60—70 年代俄国机器制造业统计表

时间	企业数	工人数(人)	产值(千卢布)
1860	99	11600	7954
1879	187	42000	51937

(1)依据材料一,概括俄国当时存在的社会问题。(2 分)

(2)根据材料二,指出俄国不同阶层为了社会转型做出的努力。(2 分)

(3)材料三中数据变化的主要原因是什么?它对俄国社会产生了怎样的影响?(2 分)

(4)综上所述,你从俄国社会转型过程中获取了什么智慧?(1 分)

# 2021—2022 学年第一学期期末考试九年级 历史试卷参考答案及评分意见

## 第一部分 选择题(每小题 1 分,共 20 分。)

题号	1	2	3	4	5	6	7	8	9	10	11	12	13	14	15	16	17	18	19	20
答案	B	C	B	C	D	D	B	D	C	C	D	A	B	C	D	C	A	A	A	B

## 第二部分 非选择题

(第 21 题 5 分,第 22 题 6 分,第 23 题 5 分,第 24 题 7 分,第 25 题 7 分,共 30 分。)

21. (1)不同:中国的古代文明属大河文明,古希腊文明属海洋文明。主要因素:地理环境的不同。(3 分)  
(2)主要特征:世界文明呈现多元化。我们应该尊重不同地区的文明,持和平交流的态度。(2 分)
22. (1)文艺复兴运动。(1 分)  
(2)哥伦布。加强了世界各地之间的联系,推动了资本主义的发展和世界文明的进程;拉开了殖民统治和殖民掠夺的序幕,给印第安人带来了几乎种族灭绝的灾难。(3 分)  
(3)“三角贸易”(或:黑奴贸易)。(1 分) (4)都促进了资本主义的发展。(1 分)
23. 【示例】题目:资本主义制度的初步确立  
内容:1688 年,英国发生“光荣革命”,标志着英国资产阶级革命结束;1689 年,议会通过了《权利法案》,确立了君主立宪制。1787 年,美国费城制宪会议召开,制定出 1787 年宪法,宪法依据分权制衡原则设计了一个联邦制共和国,1787 年美国宪法是世界上第一部资产阶级成文宪法。英国和美国都初步确立了资本主义制度。  
评分说明:要求:题目自拟,史实正确,语句通顺,表述完整,体现所选图片反映的主题。给分要点:自拟题目(1 分);体现图片反映的主题(2 分);史实正确(1 分);表述完整(1 分)。若小短文不足 80 字,酌情扣分。
24. (1)蒸汽机车;飞机。(2 分)  
(2)变化:美国工业生产总值超过英国,跃居世界第一。  
原因:美国重视和保护发明创造、鼓励创新;美国内战废除了奴隶制度,扫除了资本主义发展的又一大障碍,维护了国家的统一与稳定,为以后经济的迅速发展创造了条件。(3 分)  
(3)英国满足现状,坐享其成,不重视技术创新和应用,科技投入少等。(1 分)  
(4)启示:科学技术是第一生产力;要激励、保护发明创造,重视人才,激发科研人员的积极性和创造性,要加大对科技的投入。(1 分,符合题意即可)
25. (1)经济和军事落后;农奴制阻碍社会发展;自由劳动力缺乏;农奴购买力低下。(答出两点即可)(2 分)  
(2)青年军官:宣传民主思想,反抗专制,发动武装起义。农奴:不堪压迫,多次进行反抗暴动。沙皇亚历山大二世:顺应历史潮流,进行农奴制改革。(答出两点即可)(2 分)  
(3)主要原因:实行农奴制改革(或:1861 年改革)。影响:使俄国走上发展资本主义的道路。(2 分)  
(4)顺应历史发展潮流的改革能促进社会进步;勇于反抗专制的斗争精神;积极传播民主自由思想,促进思想解放。(答出一点即可)(1 分)