

博才小学 2020 年下学期期末质量检测卷

一年级 数学


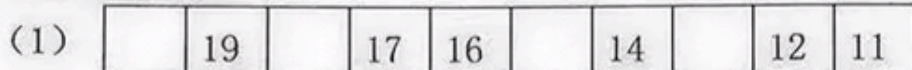
(时量: 60 分钟 满分: 100 分+10 分)

一、我会填一填。(每空 1 分, 共 23 分)

1. 看图写数。



2. 按规律填数。



3. 数一数, 填一填。



(1) 一共有 () 只动物。

(2) 把左边的 6 只动物圈起来, 把右边的第 6 只动物圈起来。

4. (1) 16 里面有 () 个十和 () 个一。


(2) 1 个十和 3 个一合起来是 ()。

(3) 十位上是 1, 个位上是 5, 这个数是 ()。

(4) 在 16 与 19 之间的两个数分别是 () 和 ()。

(5) 与 12 相邻的两个数分别是 () 和 ()。

5.



(1) 比 少 () 个。 (2) 比 多 () 个。

二、我会比大小。（在○里填上“>”“<”或“=”）（每空1分，共8分）

$7 \bigcirc 8$

$14 \bigcirc 11$

$16 \bigcirc 16$

$15 \bigcirc 20$

$9+6 \bigcirc 13$

$9 \bigcirc 17-10$

$0+14 \bigcirc 13+1$

$19-9 \bigcirc 8+4$

三、我会在（ ）里填数。（每空1分，共6分）

$3 + () = 9$

$19 - () = 9$

$() + () = 10$

$10 - () = 3$

$() - 4 = 12$

$() - () = 1$

四、我会算一算。（每题1分，共12分）

$1+5=$

$3+9=$

$8+8-6=$

$0+8=$

$15-5=$

$3+3+3=$

$18-2=$

$11+2=$

$7+6-10=$

$10-4=$

$7+8=$

$19-9+4=$

五、我会看钟面连一连。（每题2分，共8分）



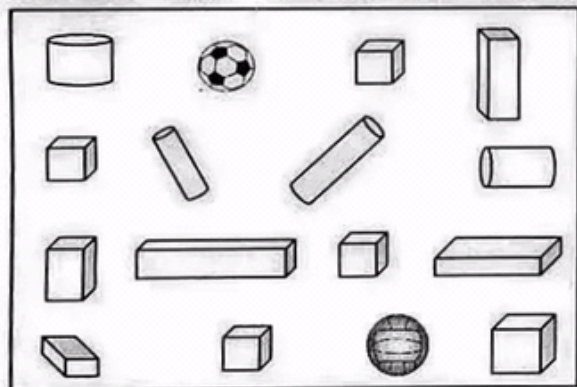
4:00

11:00

快12时了

8时过一点

六、我会数一数。（每空1分，共7分）



长方体有	() 个
正方体有	() 个
圆柱体有	() 个
球有	() 个

①上图中一共有 () 个图形。

② 和 一共有 () 个。

③ 比 多 () 个。

七、我会看图列式。(3分×4+4分,共16分)

(1)



? 辆

$$\square \bigcirc \square = \square$$


(2)



15 本

$$\square \bigcirc \square = \square$$

(3)



? 条

$$\square \bigcirc \square \bigcirc \square = \square$$

(4)



$$\square \bigcirc \square \bigcirc \square = \square$$

(5)



$$\begin{array}{l} \square \bigcirc \square = \square \\ \square \bigcirc \square = \square \\ \square \bigcirc \square = \square \\ \square \bigcirc \square = \square \end{array}$$

八、我会解决问题。(每题4分,共20分)




(1) 苹果树上原来有10个苹果。




摘走了3个苹果

还剩多少个苹果?


$$\square \bigcirc \square = \square \quad (\text{个})$$

- (2)  从菜地里收获了胡萝卜和南瓜。 和  一共有多少个？



$$\square \bigcirc \square = \square (\text{个})$$


(3)



原来一共有多少个饺子？

$$\square \bigcirc \square = \square (\text{个})$$

(4)



现在车上有多少人？

$$\square \bigcirc \square \bigcirc \square = \square (\text{人})$$

九、附加题 (10 分)

两棵树上共有 20 只小鸟，10 只小鸟从第一棵树上飞到第二棵树上，现在两棵树一共有多少只小鸟？（直接写答案）