

2020年小学数学一年二期期末检测试卷

时量：60 分钟 满分：100 分

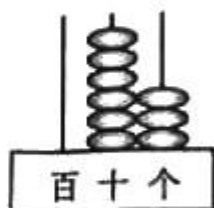
题次	一	二	三	四	五	总分
得分						

一、填一填。（每空 1 分，共 22 分。）

1、看图写数。

计数器上的数写作（ ），读作（ ）。

这个数是由（ ）个十和（ ）个一组成。



2、一个两位数，个位上是 7，十位上是 9，这个数是（ ），比这个数多

1 的数是（ ）。

3、在括号里填上合适的数。

1 元 = （ ） 分

7 角 + 9 角 = （ ） 元 （ ） 角

2 元 3 角 = （ ） 角

1 元 - 6 角 = （ ） 角

4、 $11 - () = 4$

$5 + 9 = 6 + ()$

$() - 8 = 6$

5、一张



可以换（ ）张



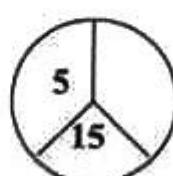
。

6、30 比 8 多（ ），80 减去（ ）个十是 20。

7、在 68、77、81、88、99 这几个数中，最接近 80 的数是（ ），最接

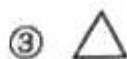
近 100 的数是（ ）。

8、找规律填一填。



二、选一选。(8分)

1、用  可以画出下面的()图形。



2、奶奶的年纪是()岁。



我的年纪比60岁大一些。

① 60岁

② 73岁

③ 90岁

3、师傅做了25个面包，每个小组分6个面包，最多可以分给()个小组。

① 3

② 4

③ 5

我做了25个面包。



4、按规律画：……第12个图形是()



三、算一算。(①每式1分，②③小题每式2分，共34分。)

① $16 - 7 =$

$33 - 3 =$

$76 + 6 =$

$35 + 8 =$

$95 - 5 =$

$95 - 50 =$

$44 - 9 =$

$7 + 83 =$

$94 + 6 =$

$78 - 7 =$

$15 - 8 =$

$32 + 40 =$

$55 - 7 =$

$60 - 6 =$

$82 - 5 =$

$20 + 17 =$

② $19 + (8 - 6) =$

$52 - 7 - 20 =$

$6 + (24 - 9) =$

$46 - 8 - 8 =$

$5 + 46 - 6 =$

$54 + 17 + 3 =$

③ 比一比。(在○里填上“>”、“<”或“=”) (6分)

$49 - 9$ ○ 45

75 ○ $65 + 20$

30 元 ○ 30 角

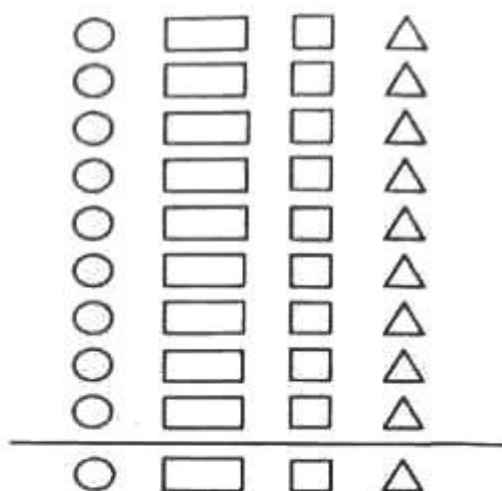
四、操作题。(13分)



1、数一数，再填一填。(5分)

图形					一共有图形
数量(个)					

2、涂一涂。(8分)



五、解决问题。(23分)

1. 来超市购物啦！(13分)



20 元



22 元



7 元



35 元

(1) 买一个 和一个 一共多少钱？(4分)


$$\square \bigcirc \square = \square \text{ (元)}$$

答：买一个 和一个 一共 () 元。

(2) 比 贵多少钱？(4分)

$$\square \bigcirc \square = \square \text{ (元)}$$

答： 比 贵 () 元钱。

(3)乐乐买了 3 根 ，她一共花了多少钱？（5 分）

$$\square \bigcirc \square \bigcirc \square = \square \text{ (元)}$$

答：她一共花了（ ）元钱。。

2、一（3）班有 48 根跳绳，8 个足球。大课间活动时，小朋友们借走了 40 根跳绳。还剩下多少根跳绳？（5 分）

$$\square \bigcirc \square = \square \text{ (根)}$$

答：还剩（ ）根跳绳。

3、公交车上原来有 25 人，经过动物园站时下去 8 人，又上来 10 人，车上现在有多少人？（5 分）

$$\square \bigcirc \square \bigcirc \square = \square \text{ (人)}$$

答：车上现在有（ ）人。