

## 二环片一年级数学学科期末检测卷

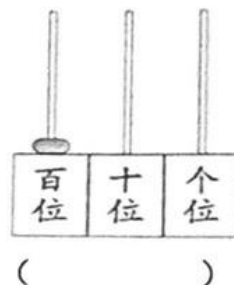
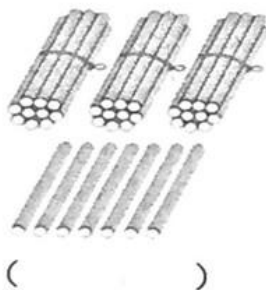
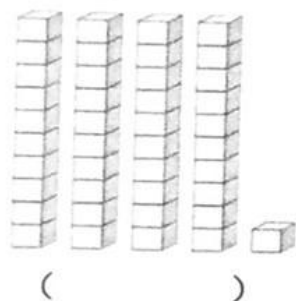
### (2020 年上学期)

时量：60 分钟    满分：100 分（其中书写占 2 分）    等级：\_\_\_\_\_

亲爱的小朋友，很快又过了一个学期。经过这一学期的认真学习，相信你一定收获了不少。今天的练习题，只要你仔细审题，认真答题，细心检查，一定会取得满意的成绩。试试看，你一定行，加油！

#### 一、 我会填。（共 21 分）

##### 1、看图写数。



2、67 是由 (    ) 个十和 (    ) 个一组成的。

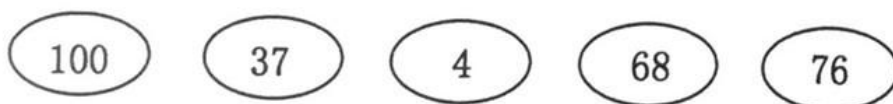
3、一张  可以换 (    ) 张 ，一张  可以换 (    ) 张 1 元。

4、两个完全相同的正方形可以拼成一个 (       ) 形。

5、右图七巧板有 (    ) 种图形，其中有 (    ) 个正方形，  
(    ) 个平行四边形，(    ) 个三角形。



6、根据下面的数填空。



① (    ) 是三位数，它里面有 (    ) 个十。

② 最接近 70 的数是 (    )，38 比 (    ) 多一些。

③ (    ) < (    ) < (    ) < (    ) < (    )

## 二、我会算。(共 27 分)

### 1、算一算(20 分)

$5+90=$

$90-40=$

$69-60=$

$34-4=$

$62-5=$

$54-6=$

$12-7=$

$3+80=$

$23+6=$

$12-5=$

$16-9=$

$60-30=$

$70-40=$

$34-2=$

$9+10=$

$17-8=$

$54-4+30=$

$19+6-8=$

$35-(4+6)=$

$75+(50-40)=$

### 2、算一算，填一填(3 分)

$10 \text{ 角} = ( ) \text{ 元}$

$2 \text{ 元 } 3 \text{ 角} = ( ) \text{ 角}$

$1 \text{ 元} - 5 \text{ 角} = ( ) \text{ 角}$

### 3、在 $\bigcirc$ 里填上 “ $>$ ” “ $<$ ” 或 “ $=$ ” (4 分)

$72-10 \bigcirc 60$

$80+16 \bigcirc 96$





$63 \bigcirc 59+3$

$3 \text{ 元} \bigcirc 15 \text{ 角}$

## 三、按要求分类。(共 12 分)



### 1、填一填。

				
个数				

2、 比  多 ( ) 个。

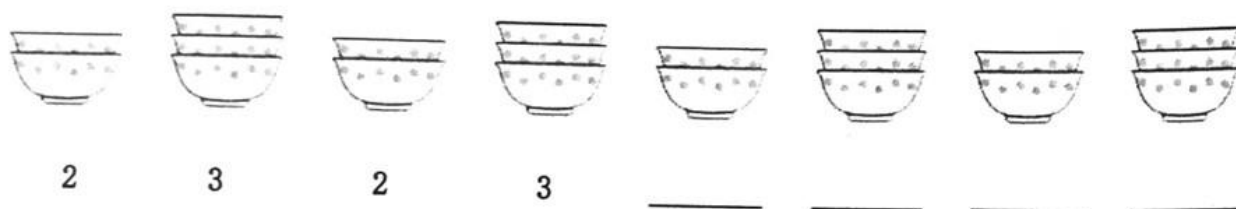
3、 比  少 ( ) 个。

四、找规律。(共6分)

1、请在括号里圈出横线上应放的水果。(2分)



2、按规律填数。(4分)



五、解决问题。(共32分)

1、小明家有5只兔和14只鸡。公鸡有6只，母鸡有几只?(5分)

$$\square \bigcirc \square = \square ( )$$

答：母鸡有( )只。

2、



一共有多少个学生?(5分)

$$\square \bigcirc \square = \square ( )$$


答：一共有( )个学生。

3、妈妈买了4袋苹果，每袋8个，一共买了多少个苹果？（5分）

$$\square \bigcirc \square \bigcirc \square \bigcirc \square = \square ( )$$

答：一共买了（ ）个苹果。

4、有37颗糖，每8个装1盒，最多可以装满几盒？（5分）



在上图中先圈一圈，可以装满（ ）盒，还剩（ ）颗。

5、



9元



3元2角





8元



28元

(1) 买一份  和一块  ，一共要付多少钱？（6分）

算式：\_\_\_\_\_

答：买一份  和一块  ，一共要付（ ）元（ ）角。

(2)  比  贵多少元钱？（6分）

$$\square \bigcirc \square = \square ( )$$

答： 比  贵（ ）元。