

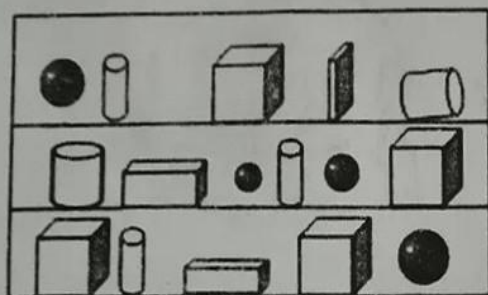
2019 年小学数学一年一期期末检测试卷

时间：60 分钟 满分：100 分

题次	一	二	三	四	五	六	总分
得分							

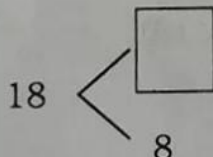
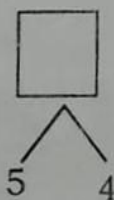
一、我会填。(26 分)

1、数一数，填一填。



长方体有 () 个，
正方体有 () 个，
圆柱体有 () 个，
球有 () 个。

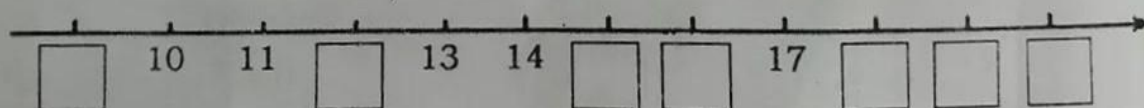
2.在方框里填上合适的数。



$$9 + 4 = \square$$

3. 个位上是 6，十位上是 1，这个数是 ()，读作 ()。

4.按顺序填数。



以上的数中，比 14 大的数有 () 个，从左边数起第 7 个数是 ()。

13 和 17 两个数，接近 10 的数是 ()，接近 20 的数是 ()。

5.看钟面，写时间。




() 时




() 时



再过 1 小时
是 () 时

6.右图是由 () 个  拼成的。



二、我会算。(共 32 分)

1.直接写出得数。(18 分,最后三个小题每题 2 分)

$3+9=$

$10-7=$

$17-2=$

$8+2=$

$7+7=$

$3+6=$

$6-6=$

$14+4=$

$0+5=$

$9-4=$

$9+7=$

$17-7=$

$9+9-10=$

$4+4+6=$

$8-3+9=$

2.在里○填上“>”“<”或“=”。(6 分)

$17 \bigcirc 20$

$16 \bigcirc 5+9$

$18-6 \bigcirc 9$

3.在括号里填上合适的数。(8 分)

$() + 5 = 9$

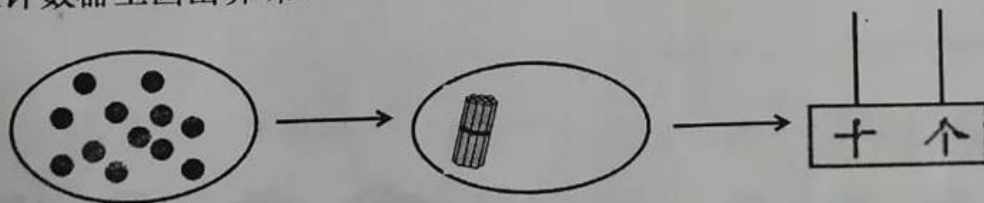
$15 - () = 10$

$8 + () = 14$

$() - () = 6$

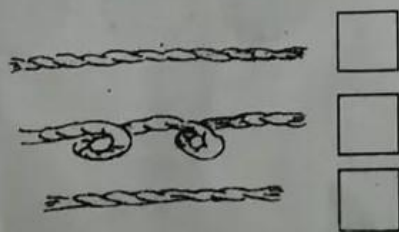
三、我会画。(共 4 分)


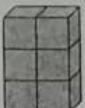
数一数下图中有几个●,按你数出的个数,在第二个圈中画出缺少的小棒,再在计数器上画出算珠。

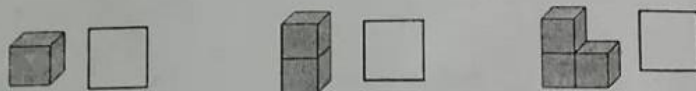


四、我会选。(在正确答案下的□里画“√”)(6 分)

1.谁最长?



2. 下面哪一堆积木可以和  拼成  ?



3. 小兔子和乌龟之间有几只小动物?




6 只 5 只 4 只

五、我会看图列式。(8分)



$$\square \bigcirc \square = \square \text{ (本)}$$



$$\square \bigcirc \square = \square \text{ (个)}$$



六、我会解决问题。(24分)

1. 每只刺猬背走一个苹果, 还剩多少个苹果? (6分)




$$\square \bigcirc \square = \square \text{ (个)}$$

答: 还剩 () 个苹果。

2. 学校足球队有 10 个 , 借给一年级 2 个, 又借给二年级 3 个, 现在还有几个 ? (6 分)

$$\square \bigcirc \square \bigcirc \square = \square \text{ (个)}$$

答: 现在还有 () 个 .

3. (6 分)

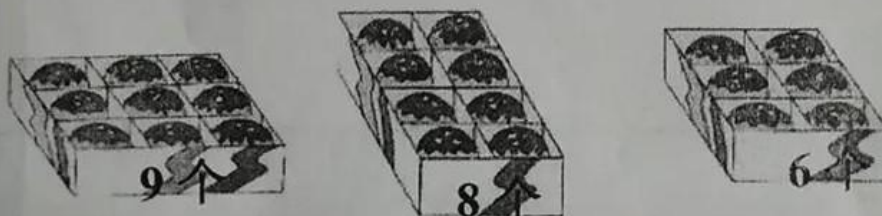


原来有几根木头?

$$\square \bigcirc \square = \square \text{ (根)}$$

答: 原来有 () 根木头。

4. (6 分)



笑笑从上面的面包中买了两盒, 笑笑可能买了多少个面包?

$$\square \bigcirc \square = \square \text{ (个)}$$

答: 笑笑买了 () 个面包。