

# 2020年小学数学二年二期期末检测试卷

时量：60 分钟 满分：100 分

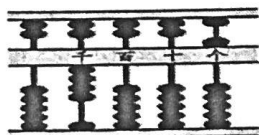
题次	一	二	三	四	五	总分
得分						

## 一、我会填。(每空 1 分，共 27 分)

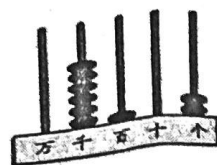
### 1. 看图写数：

千	百	十	个
●	●●	●	●●●

写作：( )



写作：( )



写作：( )

- 最大的四位数是 ( )，比它多 1 的数是 ( )。
- 由 4 个千和 4 个十组成的数是 ( )，2500 里面有 ( ) 个百。
- 有 24 个●，每 3 个一份，可以分成 ( ) 份。
- 被除数和除数都是 9，商是 ( )。
- 在括号里填上适当的单位名称。

一瓶矿泉水重 500 ( )；小明的体重是 34 ( )。

### 7. 在 ( ) 里填上合适的数：

$$12 \div ( ) = 4$$

$$8 \times ( ) = 32$$

$$5 \div ( ) = 1$$

$$16 - ( ) = 8$$

### 8. □ 里最大能填几？

$$\square \times 8 < 36$$

$$70 > \square \times 9$$

$$7 \square 6 < 764$$

9.  $\star \div 7 = \blacktriangle \dots \square$ ， $\square$  最大是 ( )。

### 10. 在○里填上“>”“<”或“=”。

$$5 \text{ 千克 } \bigcirc 5000 \text{ 克}$$

$$1020 \bigcirc 999$$

$$3050 \bigcirc 3500$$

$$40 \div (2 \times 4) \bigcirc 2 \times 6 - 6$$

### 11. 按下图这样的规律画下去，第 21 个图形是 ( )。



12. 一个电饭煲原价 401 元，现价 298 元，大约便宜了 ( ) 元。

13. 风扇扇叶转动起来是 ( ) 现象；拉抽屉是 ( ) 现象。

二、我会选。(每小题 2 分, 共 10 分)

1. 一个 0 也不读的数是 ( )。

A. 6070

B. 6007

C. 6700

2. 把一些球每盒装 6 个, 正好装完, 这些球可能有 ( ) 个。

A. 26

B. 36

C. 46

3. 二(1)班有 41 位同学去公园划船, 每条船限乘 6 人, 前面的船都按要求坐满后, 最后一条船要坐 ( ) 人。

A. 7

B. 6

C. 5

4.  $2300 \text{ 克} - 300 \text{ 克} = ( ) \text{ 千克}$

A. 2000

B. 200

C. 2

5. 小兔、小猫、小狗参加跑步比赛获得了前三名。小兔不是最快的, 小猫在小兔的后面, 它们中 ( ) 是第一名。

A. 小狗

B. 小猫

C. 小兔

三、我会算。(共 30 分)

1. 直接写出得数。(12 分)

$49 - 30 =$

$56 \div 7 =$

$3000 + 6000 =$

$18 - 9 \times 2 =$

$140 - 50 =$

$6 \div 1 =$

$72 \div 9 =$

$(3 + 6) \times 5 =$

$60 + 880 =$

$30 \div 6 =$

$9300 - 500 =$

$7 \times 7 - 7 =$

2. 用竖式计算。(6 分)

$22 \div 3 =$

$61 \div 8 =$

$90 - 39 - 45 =$

3. 混合运算。(12 分)

$3000 - (800 + 500)$

$5 \times 7 + 56$

$8 \times (36 - 27)$

$87 + 18 \div 3$

#### 四、操作题。(14 分)


1. 画一画：下面图形中，哪些是轴对称图形？请在括号里画“√”。(4 分)



① ( )




② ( )




③ ( )



④ ( )

2. 标一标：一辆  2800 元，请在数线上标出 2800 的大致位置。(2 分)



3. 数一数，填一填：(8 分, 每空 1 分。)

二(2)班投票选举班长(每人只能投一票)，投票结果如下表。

候选人	得票情况
李东	正正正一
何亮	正正下
刘丽	正正正正

请你将每名同学的得票数填在下表中，再回答问题：

候选人	李东	何亮	刘丽
得票数			

① ( ) 的得票数最多，( ) 的得票数最少。


② 刘丽比何亮多得 ( ) 张票，李东比刘丽少得 ( ) 张票。

③ 一共有 ( ) 人参加投票。

五、解决问题。(19 分)

1. 把 30 个苹果平均分给 7 个小朋友, 每人分几个, 还剩几个? (4 分)

2. 一张餐桌可以坐 6 人, 有 22 人至少需要几张餐桌? (5 分)



3. 明明一家周末去桃园采摘。爸爸摘了 24 个桃子, 妈妈摘了 16 个。如果 8 个装一袋, 需要几个袋子? (5 分)

4. 王老师买来一捆塑料绳, 做了 3 根长跳绳, 每根 5 米; 剩下的 17 米做了短跳绳。这捆塑料绳长多少米? (5 分)