

历史

历史、道德与法治为同堂分卷、闭卷考试，考试时间共 120 分钟。本试卷为历史部分，满分 60 分。

注意：本试卷分试题卷和答题卡两部分，答案一律填写在答题卡上，在试题卷上作答无效；考试结束后，将本试题卷和答题卡一并交回。

第 I 卷（选择题 共 30 分）

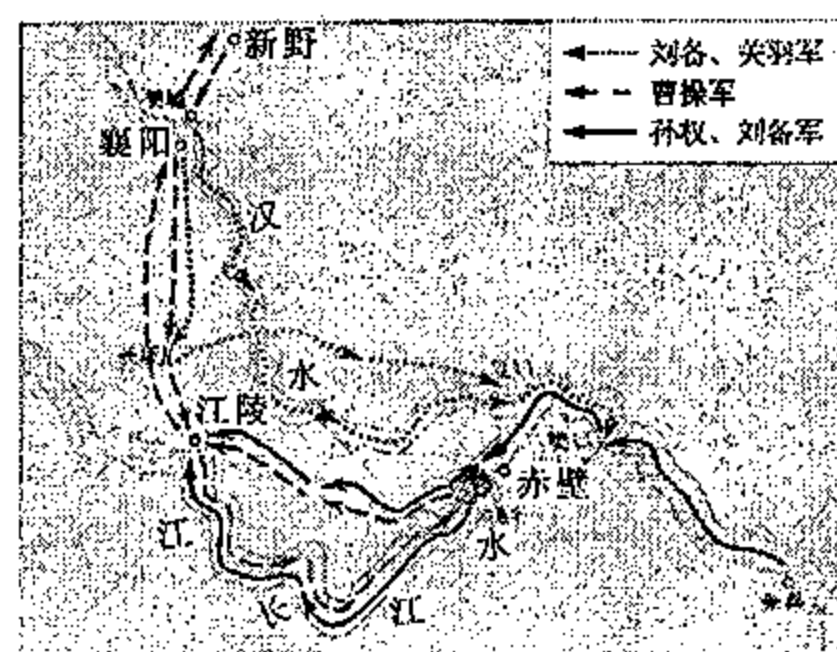
下列各小题给出的四个选项中只有一个符合题意，请用 2B 铅笔在答题卡上将选定的答案标号涂黑。（本卷共 15 小题，每小题 2 分，共 30 分）

1. 汉武帝成功削弱了诸侯王势力的措施是

- A. 颁布“推恩令” B. 兴办太学
C. 实行盐铁专卖 D. 北击匈奴

2. 右图是我国古代某场战役形势图。这一战役是

- A. 巨鹿之战 B. 官渡之战
C. 赤壁之战 D. 淝水之战



3. 开创于隋朝的一项制度，它使读书、考试、做官联为一体，刺激了广大士人的求学积极性。该制度是

- A. 分封制 B. 行省制 C. 科举制 D. 郡县制

4. 据史书记载：宋徽宗宣和元年（1119 年），全国各路上供钱物共 1503 万贯，南方为 1284 万贯，占总数的 85%，其中，江南东路和两浙路占总数的 56%。这段材料可以说明北宋时期

- A. 南方经济地位重要 B. 对外经济交流频繁
C. 北方人口急剧增长 D. 实行重文轻武政策

5. 郑成功收复台湾和雅克萨之战是中国军民反击侵略、收复失地的正义之举。下列对这两项史实的叙述，正确的是

- A. 郑成功收复台湾是在 1684 年 B. 郑成功率军打败了荷兰殖民者
C. 雅克萨之战发生在乾隆时期 D. 《尼布楚条约》是不平等条约

6. 太平天国定都天京后，洪秀全批准颁布的建国纲领性文件规定“凡分田，照人口，不论男妇，算其家口多寡，人多则分多，人寡则分寡……”。此“建国纲领性文件”是

- A. 《农政全书》 B. 《天朝田亩制度》 C. 《资政新篇》 D. 《中国土地法大纲》

7. 下面这张学习卡片是某同学在学习中国近代化探索的相关历史事件时制作的。据卡片记录的内容判断，该同学学习的是

- A. 洋务运动
B. 辛亥革命
C. 戊戌变法
D. 北伐战争

读书摘要
1. 时间：19 世纪 60—90 年代
2. 口号：自强、求富
3. 代表人物：奕訢、曾国藩、李鸿章等。
4. 地位：中国历史上第一次近代化运动。

8. “小小红船承载千钧，播下了中国革命的火种，开启了中国共产党的跨世纪航程。从此，中国共产党引领革命的航船，劈波斩浪，开天辟地，使中国革命的面貌焕然一新。”与“小小红船”相关的历史事件是

- A. 五四运动 B. 中国共产党诞生 C. 八七会议 D. 中国工农红军长征

9. 1936 年 12 月 12 日，在西安扣押蒋介石，实行“兵谏”的国民党将领是

- A. 何应钦 谢晋元 B. 李宗仁 白崇禧 C. 赵登禹 佟麟阁 D. 张学良 杨虎城

10. “一五”计划规定，五年内国家用于经济和文化建设的投资总额 766.4 亿元，全部基本建设投资总额的 58.2% 用于工业建设，其中又把 88.8% 用于重工业建设。这一投资比例反映出“一五”期间我国

- A. 实施优先发展重工业战略 B. 重视农业与工业协调发展
C. 大力提高农业的生产技术 D. 轻工业与重工业均衡发展

11. 皮科·米朗多拉（1463—1494）在一次演说中说，上帝曾对亚当说过：“我把你造成为一个既不是天上的也不是地上的、既不是与草木同腐的也不是永远不朽的生物，为的是使你能够自由地发展你自己和战胜你自己。你可以堕落成为野兽，也可以再生如神明。”皮科·米朗多拉演说体现的是

- A. 专制思想 B. 人文主义 C. 神权思想 D. 民族主义

12. 某同学在搜索引擎中输入“1775 年 4 月”“莱克星顿”“民兵”等关键词。这位同学想了解的事件是

- A. 美国独立战争 B. 英国资产阶级革命 C. 美国南北战争 D. 印度民族大起义

13. 下表反映工业革命加快了英国

17—19 世纪英国城市人口占总人口比例（%）

年代	1670	1750	1801	1851
城市人口占总人口比例	13.5	21.0	27.5	51.0

- A. 殖民扩张 B. 农业的发展 C. 政治改革 D. 城市化进程

14. “（1941 年）12 月 8 日中午，美国总统罗斯福在国会发表六分钟演讲，要求国会宣布，自 1941 年 12 月 7 日日本无端发动进攻开始，合众国与日本帝国之间就已存在着战争状态。”“无端发动进攻”指的是日军

- A. 策划了九一八事变 B. 偷袭珍珠港 C. 制造了南京大屠杀 D. 进攻东南亚

15. 根据统计，自 1948 年第一次维和行动至 2016 年 2 月 29 日，联合国维和行动共计 71 次，参与人数达到了 104503 人，共有 124 个国家在维和行动中提供军事人员和警察人员。这说明

- A. 维和行动消除了民族矛盾和宗教纷争 B. 联合国有权干预国际上一切事务
C. 联合国的最主要职责是解决贸易争端 D. 联合国致力维护国际和平与安全

第 II 卷（非选择题 共 30 分）

16. （10 分）国家统一、民族团结和交融发展是中国历史的主流。阅读下列材料，回答问题。

材料一 秦灭六国后，为纠正春秋战国以来各国各地“语言异声，文字异形”的局面，秦始皇命令丞相李斯、中书府令赵高等对文字进行整理，以秦国的文字为基础制定“小篆”，又称“秦篆”，作为规范化的文字，在全国范围推广。

——摘编自王家范、张耕华、陈江编著《大学中国史》

材料二 641年，文成公主入藏时，带去大批具有各种技术的工匠，并带大量农耕、工艺制作和医药书籍。汉族的先进耕作方式，使吐蕃地区种植青稞、小麦、豌豆等粮食作物的产量得到提高；纺织和刺绣技术的传授，使吐蕃家庭手工业迅速发展。另外，文成公主带去的乐队，将50余件弹拨乐器传入吐蕃，推动了藏乐的发展。

——摘编自曹国宁：《论文成公主入藏和亲的历史贡献》

材料三 当前我国约有50个少数民族聚居在西部地区，人口约占全国少数民族总人口的80%。我国的5个民族自治区全部在西部，30个自治州中有27个在西部，120个民族自治县（旗）中有83个在西部。

——摘编自青觉：《推进区域平衡发展 铸牢中华民族共同体意识》

请回答：

(1) 根据材料一，秦灭六国后，为纠正各地“语言异声，文字异形”采取了哪一措施？（1分）结合所学知识，这一措施的实施有何历史作用？（2分）

(2) 根据材料二及所学知识，文成公主入藏发生在哪一个朝代？（1分）根据材料二概括指出文成公主入藏对西藏社会发展的贡献。（2分）

(3) 根据材料三，概括指出我国少数民族居住地在地理分布上的特点。（1分）为解决我国民族问题，我国在少数民族聚居的地方实行了哪一基本政治制度？（1分）结合所学知识，简述我国实行这一制度的意义。（1分）

(4) 结合上述材料和现实，作为新时代的中学生，你能为维护民族大团结作出哪些努力？（1分）

17. (10分) 农业是经济发展的基础，农村的繁荣稳定是社会发展和稳定的基石。阅读下列材料，回答问题。

材料一 在明治维新的一切改革措施中，地税改革是一项最重要的根本性改革。这项改革对日本社会经济发展产生了深远的影响。1877-1917年间，日本农业产值的增长率，大体维持在年平均增长率约为2.3%的水平，超过了日本1.3%的人口增长率。地税改革实施，造成大批农民丧失土地，仅在1886-1889年，农民及其家属就有100万以上流入大小城市。

——摘编自穆良平：《日本地税改革探讨》

材料二 农产品价格从1930年春起连续下跌，大量的玉米、小麦、棉花、牛奶等产品被销毁。1933年5月，罗斯福批准公布《农业调整法》，其中的内容侧重于解决农产品过剩问题并恢复农民收入。根据法案成立的农业调整局，控制棉花、猪等农副产品的生产，仅1933年就缩减棉田耕地1000万英亩，1933-1934年，收购屠宰了600多万头小猪、千万头牛和羊。

——摘编自王斯德主编《世界现代史》

材料三 粮食产量与农村居民人均可支配收入分段统计（根据《中国统计年鉴》整理）

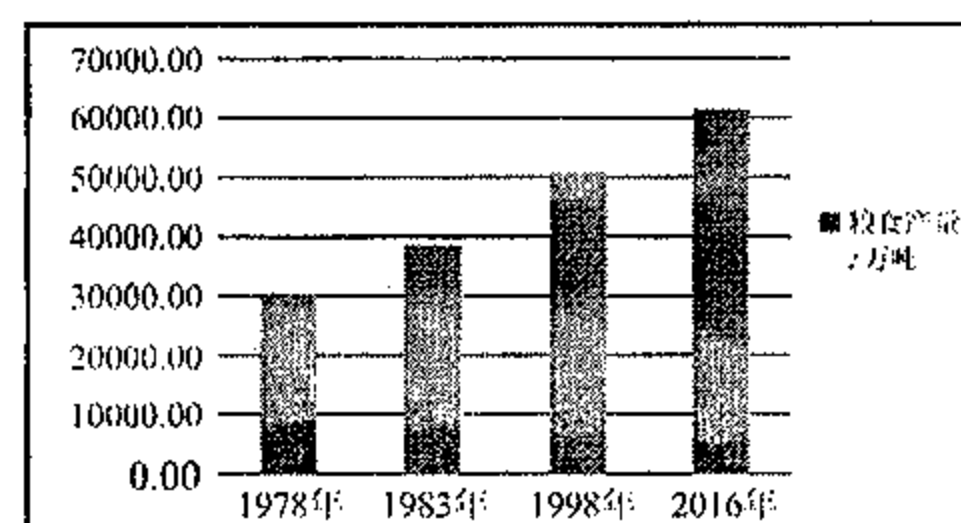


图1

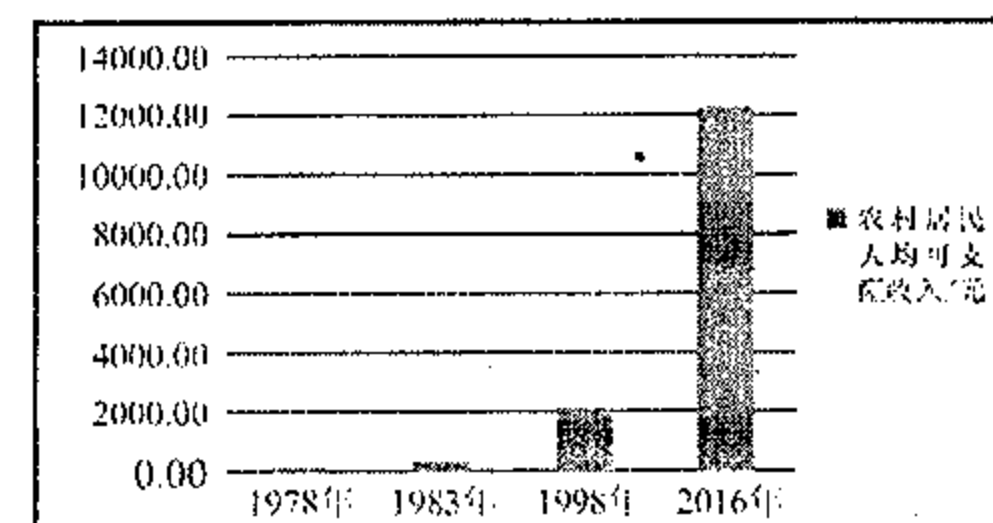


图2

请回答：

(1) 根据材料一，指出“地税改革”在明治维新中的地位，（1分）并概括这一改革措施对日本经济发展的影响。（2分）

(2) 根据材料二，指出美国政府出台《农业调整法》的背景。（1分）为“解决农产品过剩问题”，美国政府采取了什么措施？（1分）结合所学知识，这些措施反映出罗斯福新政具有什么特点？（1分）

(3) 根据材料三，从1978年—2016年，我国粮食产量和农村居民人均可支配收入呈现怎样的发展趋势？（1分）根据材料三并结合所学知识，指出农村居民人均可支配收入呈现这一发展趋势的主要原因。（2分）

(4) 综合上述材料，你认为我国在全面推进乡村振兴进程中应注意什么问题？（1分）

18. (10分) 法律是治国理政的重要工具和基本形式。某校九年级(1)班同学以“民主法治与人类文明进程”为主题开展探究活动，请你帮助他们一起完成。

【欧洲民法奠基】

材料一 为稳定社会秩序，保证皇帝的专制权力，东罗马帝国皇帝查士丁尼进行了规模宏大的立法活动。法律编纂的主要成果包括《查士丁尼法典》、《法学汇纂》等4部法律文献，后世将这些法律文献统称为《罗马民法大全》。

——摘编自教育部审定义务教育出版社《世界历史》（九年级上册）

(1) 根据材料一，查士丁尼立法的目的是什么？（1分）结合所学知识，指出在编成的4部文献中，哪一部文献是用于指导学习法律的？（1分）

【欧洲法律进步】

材料二 拿破仑登上政治舞台后，主持制定了民法典，名为《拿破仑法典》，明确规定“所有法国人都享有民事权利”，私有财产所有权不受限制，“任何人不得被强制出让其所有权”。德国、荷兰等世界许多国家的民法都借鉴了《拿破仑法典》。

——摘编自叶秋华、洪养：《论〈法国民法典〉的历史演进：纪念〈法国民法典〉颁布二百周年》

(2) 根据材料二并结合所学知识，《拿破仑法典》体现了什么原则？（2分）这一法典在世界法制史上有何地位？（1分）

【新中国法治成就】

材料三 中华人民共和国的一切权力属于人民。人民行使权力的机关是全国人民代表大会和地方各级人民代表大会。

——《中华人民共和国宪法》（1954年）

材料四 十三届全国人大三次会议表决通过了《中华人民共和国民法典》，自2021年1月1日起施行。民法典开创了我国法典编纂的先河，具有重要的里程碑意义。编纂民法典是坚持和完善中国特色社会主义法律体系的重要步骤，民法典破空而出，将为实现“两个一百年”奋斗目标提供坚强法治保障。

——摘编自《民法典，书写人民至上的新篇章》（光明网-时评频道 2020-05-28）

(3) 根据材料三，我国的根本政治制度是什么？（1分）根据材料四，编纂《中华人民共和国民法典》对推进依法治国有何重大意义？（2分）

【学以致用】

(4) 根据以上探究并结合所学知识，简述民主法制建设与经济建设的关系。（2分）