


### 第三板块 图形操作

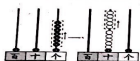
#### (一) 我会画, 我会填。

1、你能再画一条线, 使图中有两个锐角和两个钝角吗?

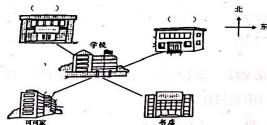
2、黄河全长 5464 千米, 请用  $\triangle$  在图中标出 5464 的大致位置。长江全长 6280 千米, 请在图中接着画, 再用  $\bigcirc$  标出 6280 的大致位置。



3、 $118 - ( )$ 。十位不够减, 向  $( )$  位借 1, 十位  $11 - ( ) = ( )$ 。



#### (二) 我会辨别方向。



1、学校的  $( )$  面是书店, 可可在书店的  $( )$  面。

2、商场在学校的西北面, 医院在书店的北面, 请在图中写出来。

#### (三) 我会调查记录。

学校合唱队的同学想选一首歌曲在毕业晚会上演出, 下面是小玲的记录:

歌曲名	记录的方式	选择的人数
走进阳光		4
毕业歌	OOOOOOOOOO	
眼睛		5
小松树	OOO	

1、请把表格补充完整。

2、合唱队一共有  $( )$  人。

3、你建议合唱队选择的歌曲是  $( )$ 。

### 第四板块 解决问题



1、王老师给同学们买奖品。20 元最多可以买多少个卷笔刀?

(2) 王老师买了 40 支签字笔, 每 6 支装在一个文具袋里, 至少需要买多少个文具袋才能全部装完?

2、(1) 林场有杨树多少棵?



(2) 柏树有 395 棵, 林场要求今年柏树和松树的总数要超过 1000。估一估, 达到目标了吗?

(3) 柏树和松树一共有多少棵?

### 第五板块 探究思考

1、把竖式补充完整。(最后一题相同的图形代表相同的数)

$$\begin{array}{r} 8 \\ \square \\ \square \overline{) 5 \square} \\ \square 6 \\ \hline 2 \end{array} \quad \begin{array}{r} \square \\ \square \overline{) 4 \square} \\ \square 2 \\ \hline 3 \end{array} \quad \begin{array}{r} 34\square \\ - \square\square 7 \\ \hline 65 \end{array} \quad \begin{array}{r} \triangle \star \bigcirc \\ + \triangle \star \bigcirc \\ \hline 768 \end{array}$$

2、今年党的生日 (7 月 1 日) 是星期四, 8 月 1 日建军节是星期几? (7 月有 31 天)



1、我会口算。

第一板块 运算能力

$$\begin{array}{llll} 130+700= & 8000-5000= & 64 \div 8= & 400-40= \\ 2600-300= & 25 \div 3= & 70+670= & 500+300= \\ 34 \div 4= & 240+360= & 390-300= & 27 \div 5= \end{array}$$

2、我会竖式计算，要求验算的要验算。

$$45 \div 7 = \quad 60 \div 8 = \quad 548 + 162 = \quad 700 - 39 =$$

验算：

第二板块 知识运用

(一) 我会填。

- 1、10 个一百是 ( )，10 个一千是 ( )。



- 2、( ) = 1000 + ( ) + ( ) + 2

3、找规律，填一填。

- (1) 1010, ( ), ( ), 980, 970, 960.

- (2) 3628, 3728, 3828, ( ), ( ), 4128.

- 4、清晨，笑笑迎着初升的太阳晨跑，她左边是 ( ) 方，右边是 ( ) 方。

5、填上适当的单位名称。

一张课桌高约 8 ( )，一个作业本厚约 4 ( )，成都地铁一号线全长约 32 ( )；

一集动画片约 20 ( )，小学生每天应睡眠 10 ( )，小刚跳绳 10 下用了 5 ( )。

- 6、( ) 千米 = 6000 米 3 厘米 = ( ) 毫米

$$90 \text{ 秒} = ( ) \text{ 分} ( ) \text{ 秒} \quad 3 \text{ 时} = ( ) \text{ 分}$$

- 7、长方形、正方形、平行四边形都有 ( ) 条边，( ) 个角；其中四个角都是直角的 ( ) 形和 ( ) 形。

- 8、填什么数才能打中？



260 +	_____
450 -	_____

- 9、在算式  $\square \div \square = \square \cdots 8$  中，如果商和除数相同，那么被除数是 ( )。

- 10、周六晚上，小明一家去看电影。电影下午 3:05 开始，散场时小明看了一下时间



是 ( ) ( )，这场电影长 ( ) 时 ( ) 分。

(二) 我会选。(把正确答案的序号填到括号里)

- 1、“40 朵花，每 6 朵插一瓶，要用几个花瓶？还剩下几朵？”下面是淘气的竖式，箭头所指的一步表示的是 ( )。

$$\begin{array}{r} 6 \\ 6 \overline{) 40} \\ \underline{36} \quad 4 \\ 36 \\ \underline{36} \quad 0 \end{array}$$

- ①一共要插的朵数 ②已经插了的朵数 ③还剩下的朵数 ④每瓶插的朵数

- 2、下面时刻中，时针和分针组成的角是钝角的是 ( )。

- ①3:00 ②4:30 ③8:40 ④1:30

- 3、能拼成长方形的一组小棒是 ( )。

- ① 3cm 6cm 5cm 6cm ② 9cm 5mm 9cm 5cm

- ③ 8cm 2dm 8cm 20cm ④ 7cm 20mm 7mm 2cm

- 4、在一个长 12cm，宽 7cm 的长方形中剪下一个最大的正方形；剩下的长方形继续再剪下一个最大的正方形，这个正方形的边长是 ( ) cm。

- ①12 ②7 ③5 ④2

- 5、学校开运动会，按“1 黄 2 红 1 绿”的顺序布置彩旗，第 30 面彩旗是 ( ) 色的。

- ①黄 ②红 ③绿 ④蓝



扫描全能王 创建