

小学一年级数学 (上册) 阶段自测


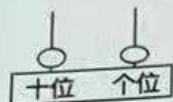
(时间: 50 分 请老师读题)

班级_____ 姓名_____

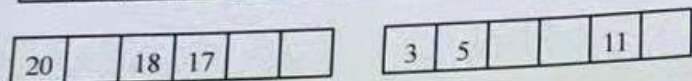

一、我会填空。

1. 看图写数。

○○○○○
○○○○○




2. 数一数, 填一填。




3. 填一填。

- ① 20 里面有 () 个十。
- ② 15 的个位上是 (), 表示 () 个 (); 十位上是 (), 表示 () 个 ()。
- ③ 1 个十和 7 个一合起来是 ()。
- ④ 14 里面有 () 个十和 () 个一。

4. 一共有 () 人,
芳芳排第 ()。



5. 你能想一个方法表示 12 吗?
画在下面方框里。



6. 想一想, 填一填。

	20	4
0		
7		16

- ① 球的左边是 (), 右边是 ()。
- ② 长方体的下面是 (), 上面是 ()。
- ③ 0 在圆柱的 () 边。
- ④ 方框里一共有 () 个立体图形, 一共有 () 个数。

二、我会计算。

1. 算一算。

$3+5=$	$9-3=$	$4+7=$	$7+8=$
$7+9=$	$17-10=$	$6+6=$	$15-0=$
$10-2=$	$8+5=$	$19-5=$	$12+6=$
$4+6+4=$	$4+7-8=$	$17-2-2=$	

2. 在○里填上>、<或=, 在□内填上合适的数。

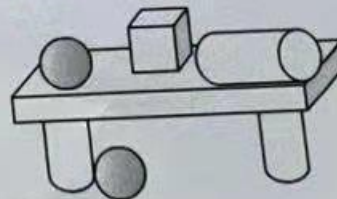
$4-4$ ○ 8	11 ○ $16-5$	$9-3$ < □
$6+9$ ○ $9+5$	□ + $4=10$	10 > □

3. 把得数相同的算式连起来。

$3+9$	$1+3$	$6-6$	$13-13$
$7+6$	$15-3$	$18-1$	$3+7$
$0+4$	$6+7$	$5+5$	$9+8$

三、我会辨认。

1. 认一认, 填一填。



- 长方体有 () 个;
 正方体有 () 个;
 圆柱有 () 个;
 球有 () 个。

2. 认一认, 连一连。

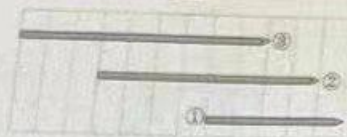


3. 比一比。

①重的画“√”, 轻的画“○”。



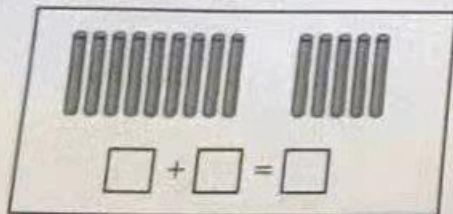
②



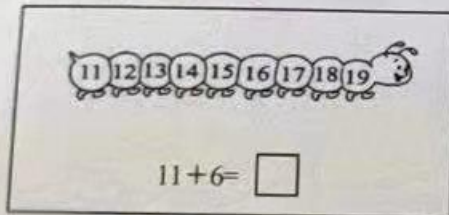
() 号最长, () 号最短。

四、我知道计算的道理。

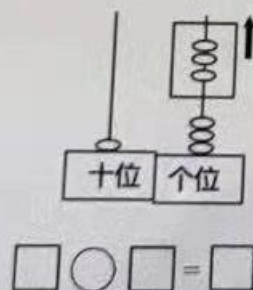
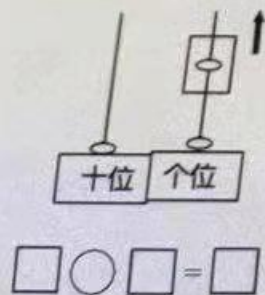
1. 圈一圈, 算一算。



2. 画一画, 算一算。



3. 仔细观察, 再列式算一算。



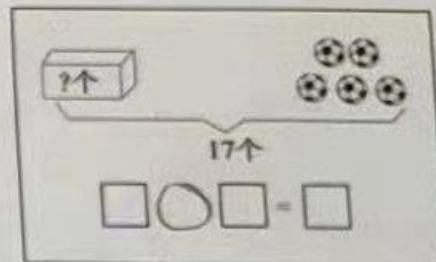
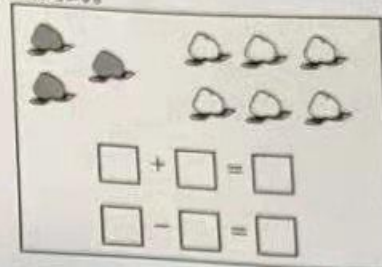
五、我会解决问题。

1. 一共有多少个苹果?



$$\square \bigcirc \square = \square \text{ (个)}$$

2. 看图列式。



3. 小推车上还剩多少棵树?



$$\square \bigcirc \square \bigcirc \square = \square \text{ (棵)}$$

智力挑战!

用 1, 2, 3, 4, 5, 6, 7, 8, 9, 10 凑 11, 每个数只能用一次。

$$\begin{aligned} \square + \square &= 11 \\ \square + \square &= 11 \\ \square + \square &= 11 \end{aligned}$$

$$\begin{aligned} \square + \square &= 11 \\ \square + \square &= 11 \end{aligned}$$