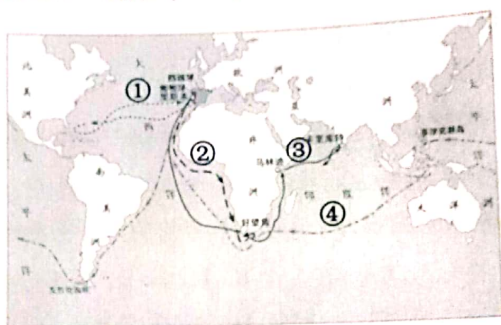


九年级历史试题

(本试卷总分 60 分, 考试时间 60 分钟)

一、选择题 (本题有 25 个小题, 每小题 1 分, 共 25 分。在每小题列出的四个选项中, 只有一项是最符合题目要求的)

1. 时空观念是历史学科五大核心素养之一。观察下面“新航路开辟路线”图, 选出人物与图中路线对应正确的一组是 ()



A. ③——迪亚士

B. ①——哥伦布

C. ④——达·伽马

D. ②——麦哲伦及船队

2. 英国作家曾经写道“我们的港口 (利物浦) ……是以活人的血肉为代价奠定了我们事业的基础。”最能印证该观点的是 ()

A. 文艺复兴的兴起

B. 罪恶的“三角贸易”

C. 火车机车的发明

D. 新航路的开辟

3. 2020 年 5 月 28 日, 十三届全国人大三次会议表决通过了我国第一部民法典《中华人民共和国民法典》, 自 2021 年 1 月 1 日起施行。世界上第一部资产阶级成文宪法是 ()

A. 《权利法案》

B. 《拿破仑法典》

C. 《人权宣言》

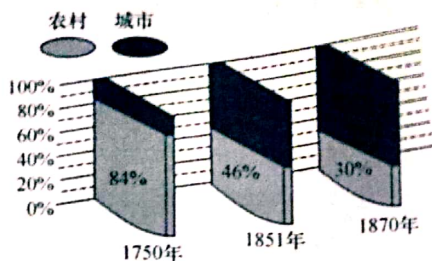
D. 1787 年美国宪法

4. 麦考莱在《英国史》中说, “对 1688 年革命所能作的最高赞颂乃是: 它是我们的最后一次革命, 此后人们相信影响宪政所需的每种改进都可在宪政本身内部找到”。符合麦考莱观点的是 ()



- A. “光荣革命”是英国资产阶级革命成功的标志
 B. 工业革命是英国近代史上最后一次成功的革命
 C. 《权利法案》是英国资产阶级革命成功的标志
 D. 1688年以后，英国没有对宪政进行任何的改进
- 拿破仑是一位叱咤风云的历史人物。他的主要活动有（ ）
 ①建立“法兰西第一帝国” ②制定《拿破仑法典》
 ③处死国王路易十六 ④多次打败反法联盟
 A. ①③④ B. ①②③④ C. ①②④ D. ②③④
6. 《大国崛起》中写道：“拿破仑战争是大革命的继续，拿破仑帝国是法国革命的最后阶段。”这句话的主要含义是，拿破仑（ ）
 A. 推翻了法国的君主统治 B. 扩大了法国版图
 C. 巩固了资产阶级革命成果 D. 消灭了反法联盟
7. “独立和自由根植于美利坚灵魂深处，为此它不惜与母邦兵戎相见。一位伟人带领美利坚人民取得了胜利……”材料中涉及的事件开始的标志是（ ）
 A. 1640年新议会的召开 B. 1775年来克星顿的枪声
 C. 1789年巴黎人民攻占巴士底狱 D. 1789年华盛顿当选为总统
8. 恩格斯在《英国工人阶级现状》中描述：“伦敦特别是伦敦工人区的坏空气，最能帮助肺结核的发展。”在伦敦工会1883年的报告中，有1/3的工人都是死于肺结核。此时肺结核大量发生的主要原因是（ ）
 A. 医疗技术水平不断下降 B. 农业衰退导致食物短缺
 C. 工业革命造成环境恶化 D. 人口膨胀致使工人贫困
9. 假如你穿越时空来到19世纪上半期的伦敦，下列情景不可能见到的是（ ）
 A. 有钱人以坐轮船游览泰晤士河为时尚
 B. 岸边工厂一间接着一间，巨大的烟囱冒着浓烟
 C. 街上电线杆林立，夜晚城市霓虹灯闪烁
 D. 不时有一列列火车呼啸而过
10. 由于受到启蒙运动和法国大革命的影响，他以英雄为主题进行音乐创作，表达了斗争胜利后的快乐和对自由、平等、博爱的渴望。“他”是（ ）
 A. 巴尔扎克 B. 梵高
 C. 列夫托尔斯泰 D. 贝多芬
11. 下图反映了某时期英国城市人口和农村人口的比例变化。导致这一变化的主要原因是英国城市人口与农村人口的比例的变化（ ）

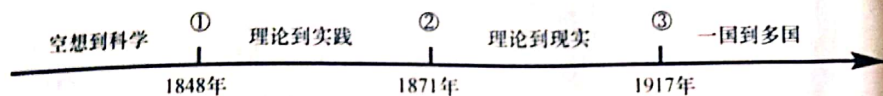




- A. 新航路的开辟
C. 工业革命的发展

- B. 君主立宪制的确立
D. 海外殖民地的扩大

12. 下图为国际社会主义运动整体发展趋势示意图，其中①处对应的历史事件是 ()



- A. 英国宪章运动
C. 法国巴黎公社

- B. 《共产党宣言》发表
D. 俄国十月革命

13. 西蒙玻利瓦尔曾经说：“独立是唯一的赐福，要以其他一切为代价。”他践行的“独立”是 ()

- A. 美国独立战争
C. 拉丁美洲独立运动

- B. 法国大革命
D. 印度民族大起义

14. 俄国 1861 年农奴制改革后，农民的赎金为发展工业积累了资本；农民在法律上获得解放为工厂提供了劳动力；自然经济的瓦解扩大了国内市场。以上说明农奴制改革 ()

- A. 是一场自上而下的改革
B. 为资本主义发展提供了条件
C. 保留了大量的封建残余
D. 使俄国走上了对外扩张道路

15. 利用关键词进行想记忆是一种提高学习效率的有效方法，比如，当看到“王政复古”、“文明开化”、“殖产兴业”时，就能联想到 ()

- A. 俄国 1861 年改革
C. 日本治维新

- B. 美国内战
D. 法国大革命

16. 下图是电影《流浪地球》的海报，该影片被广大网友称为中国科幻的里程碑。影片中流浪的地球差一点被木星引力捕获而亡。可以佐证此现象的科学理论是 ()





- A. 伽利略的自由落体定律
B. 牛顿的万有引力定律
C. 达尔文的进化论
D. 爱因斯坦的相对论
17. 学习历史要分清历史史实和历史解释，下列选项中属于史解释的是（ ）
A. 20 世纪朝两大军事集团形成
B. 一战爆发后，意大利加入协约国集团
C. 一战中，英国百先使用新式武器坦克
D. 一战从根本上动摇了欧洲的世界优势地位
18. 时空观念是历史学科的核心素养之一。下列对手第一次世界大战中的史实按时间顺序排列正确的是（ ）
①凡尔登战役 ②萨拉热窝事件 ③中国加入协约国 ④奥匈帝国向塞尔维亚宣战
A. ①②③④
B. ④②③①
C. ②③④①
D. ②④①③
19. “阿芙乐尔”在俄文中的意思是“曙光”或“朝霞”，在古罗马神话里，“阿芙乐尔”是司晨的女神，她唤醒人们，送走黑暗，迎来光明。1917 年 11 月 7 日，“阿芙乐尔号”巡洋舰的炮声迎来的“光明”是（ ）
A. 第一国际成立
B. 二月革命的胜利
C. 巴黎公社革命
D. 十月革命胜利
20. 在 1919 年的巴黎和会上，决定一切重大问题的是最高委员会。它由最初的“十人会议”缩小为“四人会议”，整个和会拖了半年多时间，全体会议只开过 7 次，成为和会的一种点缀。材料强调巴黎和会（ ）
A. 是一次分赃会议
B. 被大国强权操纵
C. 对德国进行严惩
D. 使各国矛盾激化
21. “1922 年美国召集的华盛顿会议签订了一个公约，又使中国回复到几个帝国主义国家共同支配的局面。”（毛泽东语）材料中的“一个公约”是指（ ）
A. 《凡尔赛条约》
B. 《九国公约》
C. 《北大西洋公约》
D. 《辛丑条约》



22. 1921 年苏维埃政府将原定征收的年度粮食税额下调至 2.4 亿普特（重量单位），受到农民热烈欢迎。这主要是因为（ ）

- A. 《和平法令》的颁布
- B. 斯大林模式的形成
- C. 新经济政策的实施
- D. 戈尔巴乔夫的改革

23. 一位美国学者在评价罗斯福新政时写道：“其实罗斯福新政之所以成为神话，与其说因为他经济上的成功，不如说是政治上的成功，罗斯福新政在政治上的成功主要（ ）

- A. 极大地改善了人民的生活
- B. 使经济缓慢地恢复过来
- C. 维护了资本主义制度
- D. 加强了中央集权

24. 1944 年 6 月 6 日，盟军将领巴顿将军在给儿子乔治的信中写道：“BBC 电台今天早晨说，盟军空降部队和登陆艇大规模在海岸登陆。虽然没有亲自参加此次军事行动，我率领的这支英雄部队很快就会在那里了。”巴顿将军的部队“很快就会在那里”，目的是（ ）

- A. 参加雅尔塔会议
- B. 偷袭珍珠港
- C. 开辟欧洲第二战场
- D. 支援斯大林格勒保卫战

25. 第二次世界大战中全世界正义的力量团结在一起，在最黑暗的岁月里守望相助、共同战斗，最终赢得了胜利。二战胜利的原因不包括（ ）

- A. 成立联合国安全理事会
- B. 召开雅尔塔会议
- C. 《联合国宣言》发表
- D. 抗日民族统一战线形成

二、非选择题（本大题有 3 个小题，26 题 16 分，27 题 21 分，28 题 11 分，共 35 分）

26. 人类社会的发展进步是多种因素综合作用的结果。阅读下列材料，回答问题。（9 分）

材料一 问题的关键不在于法案的条款如何，而在于国王必须是议会选举产生，服从议会的法律，遵从议会的主权。换句话说，在“光荣革命”中，专制的王权连同独立的王权一块儿消失了。

——来东来（大国崛起）

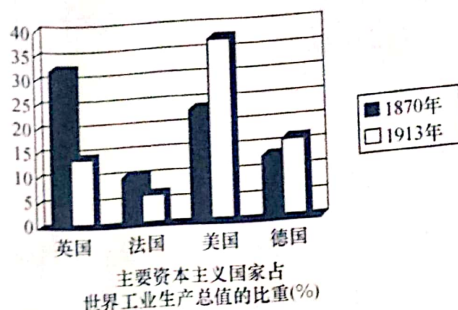
材料二 彼得一世是率领俄国人打破孤立封闭，走向世界，参与竞争的第一人，他的一系列改革，在相当程度上开启了俄国向近代社会转型的大门。

——赵虹《俄国近代社会转型的先行者——彼得一世》

材料三 19 世纪六七十年代，第二次工业革命开始，欧美主要资本主义国家经济迅速发展，科学研究也取得了巨大进步。新技术、新发明层出不穷，它们被迅速应用于工业生产，促进了工业的蓬勃发展。

——人教版《世界历史》（部编）九年级下册





请回答

(1) 据材料一及所学知识指出，英国确立了什么政治体制？(2分) 这一政治体制是通过哪部法律文献确定的？(1分)

(2) 据材料二及所学知识指出，这场改革的目的是什么？(2分) 该改革产生了什么影响？(1分)

(3) 根据材料三及所学知识回答，第二次工业革命有何特点？(2分) 请根据图示分析，经过第二次工业革命哪个国家工业生产发展最快？(1分)

27. 国家要崛起，思想得创新，思想家的作用不言而喻：近代科学诞生以后，科学家的成就推动人类社会飞速发展；杰出政治家的个性气质影响着整个国家的命运……(13分)

材料一



图①马克思和恩格斯



图②林肯



图③罗斯福



材料二 他是英国科学家，是近代自然科学的奠基人之一。1687年，他出版了
自己的著作，宣告了科学时代的来临，他告诉世人：自然界存在着规律，而且规律
能够被认识的。

——摘编自央视纪录片《大国崛起》解说

请回答

(1) 图①中人物创立的科学理论诞生的标志是什么？(1分) 这一理论诞生的历史
意义是什么？(2分)

(2) 图②中的人物作为总统，他在内战中的首要目标是什么？(2分) 他颁布的哪
部法律文献，有利于清除美国资本主义发展的最大障碍？(1分)

(3) 图③中的人物上任后实行的新政有何特点？(1分) 新政起到了怎样的作用
(2分)

(4) 材料二中“他”是谁？(1分) 他是哪国人？(1分)

(5) 从上述这些杰出人物身上你能感受到哪些优秀品质？(2分)

28. 在历史上，突发事件往往对历史发展产生重要影响。阅读材料，回答下列问题。
(13分)

材料一 1914年6月，奥匈帝国皇储斐迪南大公为了向塞尔维亚炫耀武力，到波
斯尼亚检阅军队。6月28日，斐迪南大公夫妇在萨拉热窝被塞尔维亚族青年普林
西普刺杀。

——摘编自部编版《历史》九年级下册



扫描全能王 创建

(1) 上述材料反映的是哪一历史事件? (1分) 这一历史事件造成的直接影响是什么? (1分)

材料二 1929年10月下旬, 纽约华尔街股票市场形势急转直下, 股价狂跌, 引发一场经济危机。经济危机很快波及其他主要资本主义国家, 影响世界各国, 演变成一场空前规模的世界性资本主义经济危机。危机既导致了经济上的一场“浩劫”, 也加剧了世界局势的紧张。

——摘编自部编版《历史》九年级下册

(2) 根据材料二并结合所学知识, 简述主要资本主义国家应对危机采取的不同方式及其各自产生的影响。(6分)

材料三 1941年12月7日——必须永远记住这个耻辱的日子, 美利坚合众国受到了日本帝国海空军突然的蓄意的攻击……给美国海陆军部队造成了严重的损害。……许多美国人丧失了生命……毋庸讳言, 我国人民、我国领土和我国利益都处于严重危险之中……自1941年12月7日星期日, 日本发动无端的、卑鄙的进攻时起, 美国和日本帝国之间已处于战争状态。

——摘编自罗斯福总统关于珍珠港事件的演讲

(3) 材料三中的事件对二战进程有何影响? (2分) 在此事件后, 反法西斯国家逐渐走向联合的事件是什么? (1分)

材料四 人类文明史是一部同疾病和灾难的斗争史。病毒没有国界, 疫病不分种族。面对新冠肺炎疫情, 国际社会没有退缩, 各国人民勇敢前行, 守望相助、风雨同舟, 展现了人间大爱, 汇聚起同疫情斗争的磅礴之力。……“人类是命运共同体, 团结合作是战胜疫情最有力的武器”。

——摘编自习近平主席在第73届世界卫生大会视频会议开幕式上的致辞

(4) 面对公共突发事件, 国际社会应该如何应对? (2分)



2021--2022学年度第一学期期末考试
九年级历史答题纸

考号：_____
学校：_____
姓名：_____
班级：_____
考场：_____
座号：_____

贴条形码区

一.选择题(25分)

- | | | | | |
|-------------|--------------|--------------|--------------|--------------|
| 1 [A B C D] | 6 [A B C D] | 11 [A B C D] | 16 [A B C D] | 21 [A B C D] |
| 2 [A B C D] | 7 [A B C D] | 12 [A B C D] | 17 [A B C D] | 22 [A B C D] |
| 3 [A B C D] | 8 [A B C D] | 13 [A B C D] | 18 [A B C D] | 23 [A B C D] |
| 4 [A B C D] | 9 [A B C D] | 14 [A B C D] | 19 [A B C D] | 24 [A B C D] |
| 5 [A B C D] | 10 [A B C D] | 15 [A B C D] | 20 [A B C D] | 25 [A B C D] |

二.问答题

26.1 (3分)

26.2 (3分)

26.3 (3分)

27.1 (3分)



ID:1779424



扫描全能王 创建

27.2 (3分)

27.3 (3分)

27.4 (2分)

27.5 (2分)

28.1 (2分)

28.2 (6分)

28.3 (3分)

28.4 (2分)



扫描全能王 创建