

2021 年初中毕业生学业水平调研测试

历史

说明：1.全卷共 8 页，满分为 100 分，考试用时为 80 分钟。

2.答卷前，考生务必用黑色字迹的钢笔或签字笔在答题卡填写字迹的学校、姓名、试室号、座位号、考生号。用 2B 铅笔把对应号码的标号涂黑。

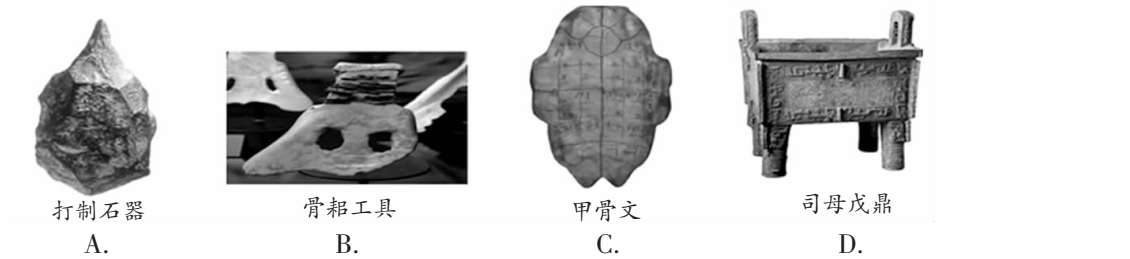
3.单项选择题每小题选出答案后，用 2B 铅笔把答题卡上对应题目选项的答案信息涂黑，如需改动，用橡皮擦干净后，再选涂其他答案，答案不能答在测试题上。

4.综合题必须用黑色字迹的钢笔或签字笔作答，答案必须写在答题卡各题目指定区域内相应位置上；如需改动，先划掉原来的答案，然后再写上新的答案，不准使用铅笔和涂改液。不按以上要求作答的答案无效。

5.考生务必保持答题卡的整洁。测试结束时，只交回答题卡。

一、单项选择题：（本大题共 30 小题，每小题 2 分，共 60 分。在每小题列出的四个选项中，只有一个是正确的，请把答题卡上对应题目所选的选项涂黑。）

1.2020 年 5 月，河姆渡遗址入选首批“浙江文化印记”名单。如果该遗址博物馆开展“河姆渡遗址出土文物”主题展览活动，下列考古文物最适合展览的是



- 2.夏、商、周三族始祖与祖先崇拜传统各异，却都是在黄帝建立的大部落联盟中发展起来，他们已初步把不同来源的祖先汇聚成以黄帝为始祖的系统，自认为是黄帝族的后裔。这主要反映出当时
- A.民族认同意识正在形成 B.宗族观念逐渐强化
- C.黄帝地位得到各族公认 D.世袭制度不断延续
- 3.周天子授土授民给诸侯叫做“建国”，诸侯授土授民给卿、大夫叫做“立家”，因此对于士、庶民而言，就有“国”与“家”的对立，他们把自己的宗族称为“家”，只知效忠于“家”，而不知效忠于国。这表明，分封制
- A.强化了血缘与政治联系 B.埋下了分裂割据隐患
- C.突出了权利与义务统一 D.淡化了民众等级观念
- 4.“治民无常，唯法为治……明主之所导制其臣者，二柄而已矣。二柄者，刑德也。何谓刑德？曰：杀戮之谓刑，庆赏之谓德。为人臣者畏诛罚而利庆赏……故法者，王之本也。”由材料可知该思想流派的治国理念是
- A.以德治国，实行仁政 B.无为而治，崇尚自然
- C.以法治国，厉行赏罚 D.兼爱非攻，选贤任能

5.钱穆先生认为“在史学里，制度本属一项专门学问……任何一制度之创立，必然有其外在的需要，必然有其内在的用意，则是断无可疑的”。秦始皇在地方设立郡县制的“内在的用意”主要是

- A.加强中央集权 B.适应时代变迁
- C.促进秦朝统一 D.继承前代制度
- 6.“魏初风俗至陋。……迁都之后，于革易旧俗，亦可谓雷厉风行。……民族根底，莫如语言。语言消灭，未有不同化于他族者……孝文以仰慕中原文化之故，至欲自举其语言而消灭之，其改革之心，可谓勇矣。”以下表述在材料中能得到直接支持的是
- A.北魏孝文帝运用智慧才迁都成功 B.北魏孝文帝改革增强了北魏实力
- C.北魏孝文帝禁用了本民族的语言 D.北魏孝文帝改革致使北魏被同化
- 7.“输送物资最方便的乃是水运，然而无论黄河、淮水还是长江，中国主要的江河都是自西向东，没有连接南北的河流。于是，隋炀帝决定以人工之力来完成此事。”由材料可知，隋朝大运河的作用是

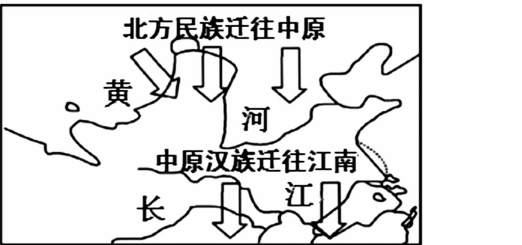
- A.加强了边疆控制 B.沟通了南北交通
- C.加强了中央集权 D.巩固了国家统一

8.2020 年 4 月，一张央行数字货币图片在网上热传。……990 年前世界首张纸币“交子”诞生在中国，而在 1000 多年后首张数字货币也将在中国落地。材料中提到的“交子”产生于

- A.汉朝 B.唐朝 C.宋朝 D.元朝
- 9.习近平总书记说：“中华民族是具有非凡创造力的民族，我们创造了伟大的中华文明。”下列有关中华文明成就的表述，正确的是

- ①我国是世界上最早发明纸的国家 ②《兰亭序》是祖冲之的代表作品
- ③北宋时指南针开始应用于航海业 ④《本草纲目》是世界医药学重要文献
- A.①②③ B.①②④ C. ②③④ D. ①③④

10.请你仔细观察右图，据图指出东晋南朝时期江南地区经济得到发展的主要因素是



- A.北方少数民族大量迁往中原 B.中原汉族人民大量迁往江南
- C.江南土地肥沃自然条件优越 D.南朝统治者重视经济的发展
- 11.唐太宗、武则天先后设立安西都护府和北庭都护府管理西域，元朝设宣政院直接管辖西藏，清朝康熙帝在台湾设台湾府，乾隆帝平定新疆大小和卓叛乱后设伊犁将军，这些措施的共同作用是
- A.强化了对少数民族地区的管理和控制 B.进一步加强封建君主专制
- C.促进统一多民族国家的发展和巩固 D.为了保证国家的长治久安

12.从下列四张学习卡片上，你可以提炼的学习主题是

朝代：汉朝 人物：张骞 事件：张骞通西域	朝代：北魏 人物：孝文帝 事件：革除鲜卑旧制度，接受汉文化	朝代：唐朝 人物：文成公主 事件：唐蕃和亲	朝代：清朝 人物：乾隆 事件：“金瓶掣签”制度
----------------------------	-------------------------------------	-----------------------------	-------------------------------

- A.民族交流与交融

B.国家统一与发展

C.对外交流与进步

D.经济繁荣与昌盛
- 13.2020 年 12 月 1 日上午 9 时，国家文物局正式将圆明园马首铜像划拨圆明园管理处收藏，马首成为第一件回归圆明园的流失海外重要文物。圆明园文物大量流失海外始于
- A.鸦片战争

B.第二次鸦片战争

C.甲午中日战争

D.八国联军侵华战争
- 14.《二十世纪中国的崛起》中指出:”一个民族的觉醒，通常要有两个条件：第一……这个民族被逼到生死存亡的关头，旧格局再也无法坚持下去；第二，还要这个民族能看到出路……深信只要奋起救亡，勇于变革，就可以改变目前的艰难处境。“下列能够反映这两种形势的是
- A.《南京条约》签订和义和团运动


B.《马关条约》签订和瓜分狂潮

C.《辛丑条约》签订和辛亥革命

D.《马关条约》签订和新文化运动
- 15.张謇创办大生纱厂，不仅在筹建期间曾借用公款，而且开厂以后还依仗清政府，取得了“二十年之中，百里之内，不准别家设立纱厂”的垄断权。1904 年，上海纺织业资本家朱畴拟在崇明增设大有公司，清政府商部竟出面替张謇加以阻止。由此可见
- A.清政府大力支持洋务派创办工业

B.近代民族工业没有摆脱外来势力控制

C.民族资本家之间的自由竞争日趋激烈

D.封建主义阻碍民族工业健康发展
- 16.2021 年 7 月 1 日是中国共产党成立 100 周年，下图为中国共产党早期组织创办的刊物。这表明，中国共产党从一开始就
- 

A.认识到人民群众的伟大力量

B.成为队伍庞大的革命政党

C.确定最低纲领是建设共产主义

D.在全国各地建立了党组织
- 17.在 1970 年 4 月我国成功发射第一颗人造地球卫星，标志着我国航天事业进入到一个新纪元。我国第一颗人造地球卫星是
- A.神舟一号

B.神州五号

C.神州七号

D.东方红一号

- 18.中国改革开放经历了三次思想大解放：1978 年第一次思想解放冲破个人的崇拜；1992 年第二次思想解放冲破计划经济的崇拜；1997 年第三次思想解放冲破了所有制的崇拜。“第二次思想解放”的出现主要得益于
- A.一个中心，两个基本点的提出

B.重申四项基本原则不动摇

C.邓小平南方讲话

D.经济发展分三步走战略的提出
- 19.2020 年 6 月 15 日晚，印度边防部队非法越过中印边界西段实控线，中国边防部队果断采取自卫措施，有效捍卫了国家主权和领土完整。印度军队的行为违反了
- A.和平共处五项原则

B.求同存异的方针

C.共商共建共享原则

D.全方位外交方针
- 20.《中华人民共和国民法典》于 2021 年 1 月 1 日起实行。这对我国民主政治和法治国家建设具有里程碑意义。一五计划时期，我国在民主法制建设方面取得的重大成就是
- A.颁布 《共同纲领》

B.颁布 《中华人民共和国宪法》

C.开展三大改造运动

D.颁布 《中华人民共和国刑法》
- 21.2021 年 3 月 18 日至 19 日，中美高层战略对话在安克雷奇举行。回顾历史，中美关系既紧张又缓和，下列反映中美关系由对抗开始走向正常化的史实是
- A.清政府派詹天佑等人赴美国留学

B.中美双方签署并发表《联合公报》

C.美国提出“门户开放”政策

D.中美正式建立外交关系
- 22.阿拉伯帝国繁荣时期，哈里发重视知识，在巴格达设立“智慧宫”，大量希腊、波斯、印度的典籍被译为阿拉伯文，这些后来又成为欧洲中世纪大学兴起的重要条件，同时中国的四大发明也是经由阿拉伯传入欧洲。对材料理解最准确的是
- A.阿拉伯帝国疆域辽阔、地跨三洲

B.阿拉伯文化是大学兴起的决定因素

C.中国的四大发明对欧洲影响巨大

D.阿拉伯人担当了沟通东西方文化的角色
- 23.改革是推动人类文明进程的重要手段。下列中外历史上重大改革的史实与其结论的对应关系，不正确的是
- | 序号 | 史实 | 结论 |
|----|------------|-----------------------|
| ① | 雅典伯里克利改革 | 奴隶制民主政治发展到高峰 |
| ② | 秦国商鞅变法 | 使秦国成为战国后期最富强的国家 |
| ③ | 日本大化改新 | 大批知识分子赴欧洲学习先进技术 |
| ④ | 西欧封君封臣制度改革 | 以土地的封赐为纽带而形成的封建等级制度确立 |
- A.①

B.②

C.③

D.④

24.中世纪晚期，西欧社会处于转型时期，原来的封君封臣制度和庄园制度发生了很大变化，随之而来的是资本主义生产方式的出现。这种资本主义生产方式指的是

- A.手工作坊和租地农场
- B.自治城市和工厂
- C.庄园和手工工场
- D.租地农场和手工工场

25.“当新社会的曙光初露霞曦时，英国却突然跃出地平线，领先走进一种新文明，带动了世界。英国的历史极其诱人，你要想了解现代世界，就应该首先从英国历史开始。”下列史实能证明英国“领先走进一种新文明”的是

- A.现代工厂制度的确立
- B.内燃机的发明与应用
- C.飞机的诞生
- D.计算机的问世

26.2020 年 5 月，美国白人警察街头暴力执法、“虐杀”非洲裔男子引发美国民众的强烈抗议。美媒称：奴隶制遗毒仍然在制造恶果。美国历史上宣布废除奴隶制让黑人获得自由的文献颁布在

- A.光荣革命期间
- B.美国独立战争期间
- C.美国南北战争期间
- D.二月革命期间

27.新华社电，伦敦时间 2020 年 1 月 31 日晚 11 时，英国正式“脱欧”，结束了其 47 年的欧盟成员国身份。有分析认为英国与欧盟在经济上相互依存度极高，政治上相互联系日益密切，英国脱离欧盟，势必导致双方利益受损。由此可见当时英国加入欧盟的目的是

- A.寻求外交和国家安全
- B.抱团取暖，谋求世界霸权
- C.占据广阔的海外市场
- D.发展经济和提高国际地位

28.1928–1937 年苏联先后开展二个五年计划，1933 年美国实施罗斯福新政。这两国经济措施的实施

- A.都体现了国家对经济的干预
- B.都暴露了发展重工业的弊端
- C.说明了两国的经济环境相同
- D.都迅速推进本国工业化完成

29.钱乘旦先生在《不平衡发展现代化》一文中称：“西方现代化经几百年的发展，其优与弊都已经十分清楚。二战后企图修补这个社会，修补在两个方向上进行：一是修补资本主义，二是修正民族国家。”下列措施中，旨在“修补资本主义”的是

- A.开展第三次科技革命
- B.建立世界贸易组织
- C.建立联合国
- D.建立社会福利制度

30.《世界简史》中记载：“人口数量在 1850 年至 1950 年增加一倍多后……地球有限的资源意味着这种增长速度不能无止境地延续，但是当其迅速发展时，这种失控的人类数量将会让全球各地现存的人类和其他生物不堪重负。”材料反映了

- A.生态恶化问题
- B.人口增长问题
- C.地区冲突问题
- D.恐怖袭击问题

二. 综合题：（本大题共 3 小题，31 题 13 分，32 题 13 分，33 题 14 分，共 40 分）

31.（13 分）近代以来，中国社会发生了巨大的变化。阅读下列材料，回答问题。

材料一 西方大炮带给中国社会的耻辱和创伤毕竟太深了。因此，痛定思痛之后，庙堂的众人的策论已多见“制敌在乎自强，自强必先练兵。比者抚局虽成，而国威未振，宜亟图振兴，使彼顺则可以相安，逆则可以有备”。自强以图御侮开始成为自觉意识，这是第二次鸦片战争刺激的结果。

——陈旭麓《中国近代社会的新陈代谢》

材料二 天津通商后不出十年，租界里中国人的时髦打扮已变成“短衫窄裤，头戴小草帽，口衔烟卷，时辰表链，特挂胸前”。甲午战争前，即便是内地甚至某些乡村，日用洋货也有所流行，洋货成为某些人生活的必需品。

——摘编自孙燕京《晚清社会风尚研究》

材料三 中国的传统文化自汉以来，一直被我们认为是世界上最好的文化，但是到了晚清出现千年未有之文化危机……从晚清开始，中国社会就是一个不断重建文化自信心的过程，这种文化自信心的建设包括物质层面、制度层面和精神层面。

——廖保平《铁屋里的大国突围》

材料四 鸦片战争以来，先进的中国人倡言学习西方，主张转变思想，更新观念，实现政治民主化和法制化，并为此进行了艰苦卓绝的努力。

——张岂之《中国历史十五讲》

（1）根据材料一并结合所学知识，为了“亟图振兴”，“自强以图御侮”，清政府掀起了一场什么运动？该运动在中国近代化进程中的地位是什么？（4 分）

（2）根据材料二，概括列强的侵略给近代中国带来哪些变化？（不得照抄原文，2 分）

（3）根据材料三，中国传统文化的地位发生了什么变化？发生这种变化的原因是什么？（4 分）

（4）材料四中为“转变思想，更新观念”，1915 年中国先进的知识分子在思想文化领域掀起了一场什么运动？运动中所标举的两大口号是什么？（3 分）

32.（13 分）中国共产党自诞生之日起，就担当起领导中国人民争取民族独立，实现民族复兴的历史使命。阅读下列材料，回答问题。

材料一 五四运动之后，在中华民族内忧外患、社会危机空前深重的背景下，在马克思列宁主义同中国工人运动相结合的进程中，中国共产党诞生了。自从有了中国共产党，中国革命的面貌就焕然一新了。

材料二 1952~1956 年国民收入结构表（单位%）

年份	国营经济	合作社经济	公私合营经济	个体经济	资本主义经济
1952 年	19.1	1.5	0.7	71.8	6.9
1956 年	32.2	53.4	7.3	7.1	趋于零

——胡绳《中国共产党的七十年》

材料三 改革开放是亿万人民自己的事业，必须坚持尊重人民首创精神，坚持在党的领导下推进。改革开放在认识和实践上的每一次突破和发展，改革开放中每一个新生事物的产生和发展，改革开放每一个方面经验的创造和积累，无不来自亿万人民的实践和智慧。

——摘编自《中国共产党新闻网》

材料四 2020 年是具有里程碑意义的一年。我们将全面建成小康社会，实现第一个百年奋斗目标。2020 年也是脱贫攻坚决战决胜之年。冲锋号已经吹响。我们要万众一心加油干，越是艰险越向前，把短板补得再扎实一些，把基础打得再牢靠一些，坚决打赢脱贫攻坚战，如期实现现行标准下农村贫困人口全部脱贫、贫困县全部摘帽。

——摘自《国家主席习近平二〇二〇年新年贺词》

（1）根据材料一，概括中国共产党成立的历史条件。结合所学知识，说说你对材料中的“焕然一新”的理解。（3 分）

（2）材料二表格中数据的变化与哪一事件有关？该事件有何历史意义？（3 分）

（3）材料三中改革开放始于哪次会议？哪一事件为这次会议的召开奠定了思想基础？农村改革的开始体现了哪个省人民的“实践和智慧”？（3 分）

（4）根据材料四并结合所学知识，我国在哪次会议上确定了“全面建成小康社会”的目标？材料指出 2020 年全面建成小康社会必须完成什么任务？（4 分）

33.（14 分）古希腊历史学家修昔底德认为：新崛起的大国必然挑战现存的大国，而现存的大国必然回应这种威胁。阅读下列材料，回答问题。

材料一 随着工业革命的完成，英国不但在本国实行自由贸易政策，而且也要求外国实行这个政策，以利于英国的商品畅销世界，而强迫外国实行自由贸易政策是与其炮舰政策分不开的。

——摘编自《世界史·近代史编》下册

材料二 第二次科技革命使人类社会的交通运输工具和通讯技术发生了巨大的飞跃和变革，从而使人类社会互动手段的现代化得以实现……现代化的人类社会互动手段又从物质上把世界各部分紧密联系起来，使之成为一个有机的整体，并不断地推动整体世界的前进。

——摘编自胡才珍著《略论第二次科技革命与人类社会互动手段的现代化》

材料三 苹果的 iPhone 手机在美国设计，在日本制造关键零部件，由韩国制造最核心的芯片和显示屏，由中国台湾厂商供应另外一些零部件，最后在深圳的富士康工厂里组装，然后空运到美国，再被销售到世界各地。

——曾航《一只 iPhone 的全球之旅》

材料四 2021 年是 21 世纪第三个 10 年的开篇之年，从中国“实现两个百年目标”发展战略和维护世界和平、促进全球经济增长两个维度的大局看，促进东亚合作、建设东亚共同体对于中国外交至关重要，努力扩大双多边合作面，缩小分歧，排除外来干扰，巩固现有东亚合作平台，保持合作而不是竞争的大方向不动摇。

（1）根据材料一并结合所学知识，指出英国工业革命开始于何时？用具体史实说明英国“强迫外国实行自由贸易政策是与其炮舰政策分不开的”。（4 分）

（2）根据材料二并结合所学知识，说说第二次科技革命中“在交通运输工具”方面走在前列并赶超英国的主要是哪两个国家？这种“赶超”对当时的国际政治形势产生了怎样的影响？（4 分）

（3）材料三反映了当今世界经济发展的什么趋势？结合所学知识，简要分析这一趋势加强的原因。（4 分）

（4）根据材料四并结合所学知识，谈谈中国应该如何应对这一趋势？（2 分）