

县(市、区) 姓名 准考证号 考场号 座位号

绝密★启用前

息县 2021 年中招九年级适应性测试(四)

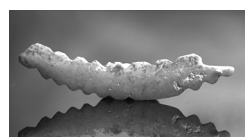
历史试题

注意事项:

- 1. 本试卷共 6 页,分为选择题和非选择题,满分 50 分,考试时间 50 分钟。
- 2. 开卷考试,可以查阅资料,但应独立答题。
- 3. 本试卷上不要答题,请按答题卡上注意事项的要求直接把答案填写在答题卡上。答在试卷上的答案无效。

一、选择题(共 20 小题,20 分)

- 1. 2020 年河南巩义双槐树遗址出土的中国最早的骨质蚕雕艺术品(见下图),直接实证了 5300 年前后黄河中游地区
 - A. 已掌握养蚕缫丝技术
 - B. 艺术品已具有高超的雕刻技术
 - C. 是丝绸的发源地
 - D. 人们有很高的艺术欣赏水平



- 2. 下列这些规模大、等级高的中心城邑遗址都在河南,这些考证说明



二里头遗址



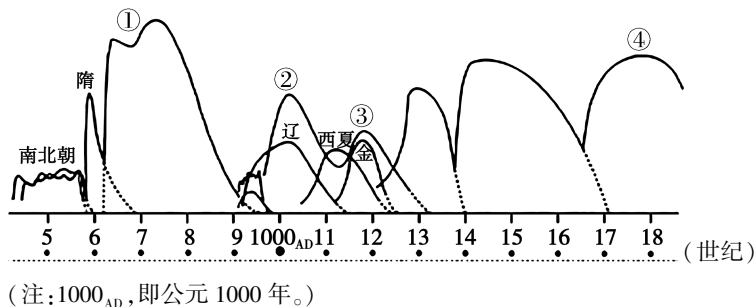
商城遗址



殷墟

- A. 河南是唯一的文明发祥地
 - B. 河南文化主导了中国文化
 - C. 河南历史悠久,底蕴深厚
 - D. 河南旅游资源丰富
- 3. 历史学家夏曾佑《中国古代史》一书中指出:中国之教,得孔子而后立。中国之政,得秦皇而后行。中国之境,得汉武而后定。三者皆中国之所以为中国也。其中的“中国之政”主要指的是
 - A. 分封制
 - B. 君主专制中央集权制度
 - C. 郡县制
 - D. 行省制度
- 4. 商鞅变法使秦国成为战国中后期最富强的国家,北魏孝文帝改革也促进了北方的民族交融,这两场改革成功的最根本原因是
 - A. 得到统治阶级的支持
 - B. 向先进文明学习
 - C. 顺应当时的历史发展趋势
 - D. 都推动了本民族的进步

5. 下图是学者辛向阳绘制的《中国历代兴衰图》(局部)。以下对①处时代特征描述最准确的



- (注: 1000_{AD}, 即公元 1000 年。)
- A. 政权并立、经济繁荣
B. 国家统一、社会稳定
C. 藩镇割据、武将专权
D. 科技发达、社会转型
6. 我国老百姓的主食一般呈现出“北麦南稻”的格局,但在魏晋南北朝时期,南方老百姓的餐桌上除了稻米之外,还有各类北方面食。出现这种现象的主要原因是
- A. 人口南迁和民族融合的影响
B. 面食的营养价值比稻米高
C. 南方商品经济的发展
D. 南方人口增多
7. 清初康熙帝设置台湾府,隶属福建省。这一对台措施的最主要意义是
- A. 促使荷兰殖民者被迫投降
B. 巩固了祖国东南海防屏障
C. 加强台湾同祖国内地联系
D. 肯定台湾的主权属于中国
8. 历史学家陈旭麓认为,三千年来一大变局,不是在鸦片战争的当初就感觉到了的,而是经过第二次战争才认识的,由此社会产生某些变化给封建的封闭体打开了缺口,向近代化迈出了一小步。这里的“迈出了一小步”是指
- A. 撼动了清王朝的专制统治
B. 开启了中国近代化的先河
C. 体现了农民阶级力量巨大
D. 掀起了列强瓜分中国的狂潮
9. 清末爱国人士黄遵宪在给好友的信中写道,“新约规定,天旋地转”,“东南诸省所恃以为藩篱者,拱手而让他人之”,“敲骨吸髓,输此巨款,设机造货,夺我生产”。信中的“新约”是指
- A. 《南京条约》
B. 《北京条约》
C. 《马关条约》
D. 《辛丑条约》
10. 爱国人士李公朴曾在《华北敌后——晋察冀》一书中提到:过去由天津送来的《麒麟送子》《老鼠娶妻》一类的年画,逐渐被《妻子送郎上战场》《母亲叫儿打东洋》一类的年画取代。这反映了当时
- A. 抗日消息传递途径的多样
B. 土地革命调动了人民的抗日积极性
C. 抗日武装斗争淡化了传统习俗
D. 抗日宣传活动借助了传统节日
11. 位于河南新县的鄂豫皖苏区首府革命博物馆,见证了大别山革命老区“28 年红旗不倒”的历史。据不完全统计,在革命时期新县共牺牲了 5 万余人。他们冒着枪林弹雨,坚韧不拔,百折不回,用鲜血和生命创造了奇迹。这体现了新县人民
- A. 紧跟党走,不胜不休
B. 自力更生,艰苦创业

- C. 亲民爱民,迎难而上 D. 热爱祖国,勇于攀登
12. 标志着社会主义制度在中国的基本确立,实现了中国历史上最深刻、最伟大的社会变革,为中国的社会主义现代化建设奠定了基础的重大历史事件是
- A. 中华人民共和国成立 B. “一五”计划指标超额完成
- C. 三大改造完成 D. 中共十一届三中全会召开
13. 邓小平曾指出,“港人治港”有个界线和标准,就是必须由以爱国者为主体的港人来治理香港。下列对他的这句话理解正确的是
- A. 全体香港人都有治理香港的权利
- B. 坚持“一国两制”的方针治理香港
- C. 香港实行社会主义制度
- D. 香港回归后只能由港人自己治理
14. 下表中法律条文摘自《十二铜表法》。这表明《十二铜表法》

第一条	如有人缔结抵押自身或转让物件的契约,而有五个证人及一个司秤人在场,那么当时所作的诺言不得违反。
第八条	不许取去或要求把被偷窃的并用作建筑或培植葡萄园用的木材或木柱作为自己所有,但同时允许按这些材料的价值之双倍价格对负责有使用之责者起诉。
第九条	凡高度达 15 英尺的树木,为使其不到损害近邻地区,其周围须加修剪。

- A. 有着严格的社会等级 B. 商品经济比较活跃
- C. 注意物权保护 D. 奴隶主民主政治发达
15. “农业、采矿业、渔业和林业产量的提高,相应地促进了商业和城市的发展……城市作为地方贸易和地方行政的中心,开始慢慢地出现。”材料反映欧洲城市兴起的主要原因是
- A. 大学的出现 B. 市民阶层发展壮大
- C. 庄园的衰落 D. 社会生产力的发展
16. 14—16 世纪的西欧,开放冲破神学的黑暗桎梏,肯定人性;挑战大海的惊涛骇浪,寻找出路。“肯定人性”与“寻找出路”分别是指
- A. 基督教传播和新航路开辟 B. 文艺复兴和新航路开辟
- C. 光荣革命和“三角贸易” D. 启蒙运动和工业革命
17. 《人权的发明:一部历史》一书开篇提到:1689 年英国《权利法案》,1776 年美国《独立宣言》,1789 年法国《人权宣言》,被视为这一时期最具代表性的三份人权文献。这说明
- A. 资本主义经济发展受到阻碍是相同原因
- B. 以法律手段限制王权是革命的共同举措
- C. 以立法形式巩固民主政治是相同手段
- D. 建立资产阶级共和国是相同结果
18. 《杜鲁门回忆录》:“(1947 年)我也希望向全世界说明,美国在这个新的极权主义的挑战
- 息县 2021 年中招九年级适应性测试(四)历史试题(培优) 第 3 页 (共 6 页)

面前所持的立场,我相信,这是美国外交政策的转折点。不论什么地方,不论直接或间接侵略威胁了和平,都与美国的安全有关。”这段话表明

- A. 美国对日宣战
- B. 冷战开始
- C. 两极格局正式形成
- D. 多极化趋势出现

19. 历史学家斯塔夫里阿诺斯指出:“一个世纪以前,工业革命将大批劳动力吸引到大机器和能源所在地——工厂。今天,却出现相反的趋势——现代通讯革命允许人们在任何地方创造思想和处理信息。”发生这一变化的主要原因在于

- A. 蒸汽机的使用提高了劳动生产力
- B. 内燃机的使用促进交通工具革新
- C. 电话、无线电技术的发明和应用
- D. 电子计算机与网络技术的广泛应用

20. 《新编剑桥近代世界史》一书对 19 世纪中期创立的两个学说有过这样的评论:“两个学说都发现变化的原因在于斗争——生存竞争和阶级斗争。”对这句话理解正确的是

- A. 都揭示了自然界进化演变的机制
- B. 都揭示了人类社会发展的规律
- C. 都对世界的进程产生重大影响
- D. 都对神学进行了抨击

二、非选择题(共 5 小题,30 分)

21. (6 分) 阅读下列材料,回答问题。

材料一:佛教通过丝绸之路传入中国,得到上层统治阶级的扶持,佛教逐步在社会上传播开来。佛教的传入,丰富了中国文化,在社会、思想、文学以及建筑、雕刻、绘画等方面产生了深远影响。唐朝时期,为了学习中国的先进文化,日本派遣使节到中国。他们把唐朝先进的制度、天文历法、文字、典籍、书法艺术、建筑艺术等传回日本,对日本社会的发展产生了深远影响。

材料二:



河南洛阳白马寺



日本和同开珎

(1) 据材料一和材料二,指出古代中国和其他地区文明交流的特点。(4 分)

(2) 文明因多样而交流,因交流而互鉴,因互鉴而发展。请举一例说明古代中国与西方文明的交流互鉴。(2 分)

22. (7 分) 阅读下列材料,回答问题。

材料一:据统计这一时期所设工厂分别是:1910 年 986 家,1911 年 787 家,1912 年 1502 家,1913 年 1378 家,1914 年 1123 家。中国近代产业工人的人数,辛亥革命前不过 50 万人至 60 万人,1919 年五四运动前夕即达到 200 万人。

——摘编自陈旭麓《近代中国社会的新陈代谢》

材料二：



上海工人罢工游行



北京被捕学生回校时受到热烈欢迎

材料三：毛泽东在《如何研究中共党史》的讲话中指出：“说到革命的准备，1921年开始的第一个阶段，实际上是由辛亥革命、五四运动准备的。”

(1) 据材料一，概括辛亥革命的意义。(2分)

(2) 据材料二，指出五四运动直接目标得以实现的原因。(1分)

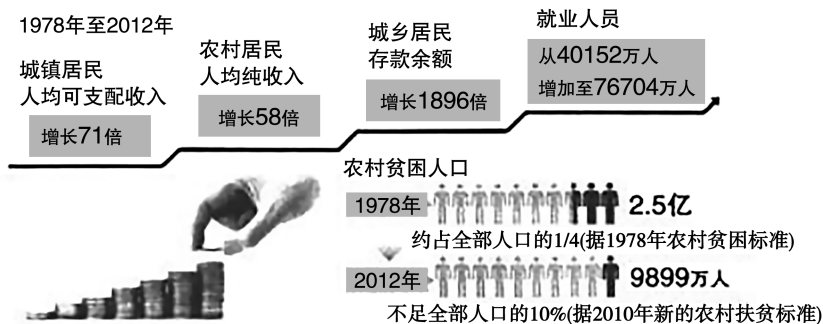
(3) 用图示法展示三则材料中涉及的重大历史事件间内在联系，并说明理由。(4分)

23. (6分) 阅读下列材料，回答问题。

材料一：1979年，在中国最贫困的省份，特别是在安徽，中国开始了“生产责任制”的某些尝试，随后在其他省份推广开来。……20世纪80年代初，粮食、棉花、油料作物、甘蔗、肉类等与人民生活密切相关的产品产量高速增长，中国农业生产的增长率年均高于9%。农村地区的人均收入，也能翻一番。

——摘编自费正清《剑桥中国史》

材料二：



材料三：我们始终坚定人民立场，强调消除贫困、改善民生、实现共同富裕是社会主义的本质要求，是我们党坚持全心全意为人民服务根本宗旨的重要体现，是党和政府的重大责任。

——2021年2月25日习近平在全国脱贫攻坚总结表彰大会上的讲话

(1) 据材料一，指出当时我国农村改革的具体措施。(1分)

(2) 据材料一和材料二，概括这一事件的历史意义。(3分)

(3) 综上所述，概括指出中国脱贫攻坚取得伟大成就的原因。(2分)

24. (6分) 阅读下列材料，回答问题。

材料一：美国南北之间矛盾和冲突是伴随着工业化的进程而展开的，这一时期美国
息县 2021 年中招九年级适应性测试(四)历史试题(培优) 第 5 页 (共 6 页)

北部建立了纺织、采矿、钢铁、交通等工业部门,发展十分迅速。南部地区自独立战争后,一直以种植烟草、蓝靛和棉花为主……奴隶在监工皮鞭的鞭笞下艰辛地劳动……林肯当选总统成为南北分裂的信号。1861年4月,南北战争爆发,这次战争人员伤亡超过美国参加的历次战争。

——摘编自李惠胤、孔晨旭《略论“南北战争”在美国现代化进程中的历史作用》

材料二:美国南北战争,并不像许多人认为的那样,单纯地为了奴隶制这个道德问题,或者像税制那样狭隘的经济问题。它的原因要深刻的多。……北军的胜利,确保了工业化大局。

——摘编自阿尔文·托夫勒《第三次浪潮》

材料三:美国南北战争为黑人开辟了一个新时代,但是,内战后黑人并没有得到彻底的解放,他们受到极其严重的种族歧视与迫害。他们争取真正解放的斗争一直延续到今天。

——摘编自吴于廑、齐世荣《世界历史》

- (1)据材料一,概括美国南北战争爆发的原因。(3分)
- (2)据材料二并结合所学知识,说明“北军的胜利”如何确保了“工业化的”大局。(2分)
- (3)综上所述,谈谈你对美国人权、自由、平等的看法。(1分)
25. (5分)请依据下面图片反映的历史信息,并结合所学知识,写一篇80~120字的小短文。(要求:题目自拟,史实正确,表述完整,体现图片内容之间的联系性)



遭到轰炸的珍珠港美军机场



二战后初期美国援助日本的物资