

吉林省初中测试密卷

历史(四)

准考证号

姓名

密封线内不要答题、密封线外不写考号、姓名

一、单项选择题(每小题1分,共10分)

- 战国时期,秦国修建的闻名世界的防洪灌溉的水利工程是 ()
A. 都江堰 B. 灵渠 C. 大运河 D. 会通河
- 俗语“家家观世音,人人阿弥陀”一定程度上反映了佛教在中国民间的盛行。请问佛教传入我国是在 ()
A. 秦朝时期 B. 西汉时期 C. 魏晋时期 D. 隋唐时期
- 西藏正式成为中央直接管辖下的一个地方行政区域是在 ()
A. 汉朝 B. 唐朝 C. 元朝 D. 清朝
- 一位外国人来到中国广州开设工厂,他最早应该是在 ()
A. 《南京条约》后 B. 《北京条约》后 C. 《马关条约》后 D. 《辛丑条约》后
- 下列与孙中山的革命活动不符合的是 ()
A. 建立兴中会 B. 建立中国同盟会
C. 领导武昌起义 D. 担任中华民国临时大总统
- 历史知识竞赛中,依据“周恩来”“第一枪”“建军节”三个信息,可得到的正确判断是 ()
A. 南昌起义 B. 重庆谈判 C. 秋收起义 D. 井冈山会师
- 洗雪百年国耻,标志着我国在完成祖国统一大业的道路上迈出重要一步的事件是 ()
A. 万隆会议 B. 两岸达成“九二共识”
C. 港澳回归 D. 中国恢复在联合国的合法席位
- 古代希腊有一位与中国孟子同时代的思想家,他在逻辑学、物理学、生物学和人文学科诸领域有卓越贡献。他就是百科全书式的学者 ()
A. 苏格拉底 B. 柏拉图 C. 希罗多德 D. 亚里士多德
- 是俄国近代历史的转折点,使俄国走上资本主义道路的事件是 ()
A. 二月革命 B. 十月革命 C. 彼得一世改革 D. 废除农奴制改革
- 罗斯福新政为解决工人失业问题而采取的措施是 ()
A. 投资兴建公共设施 B. 通过《全国工业复兴法》
C. 通过《农业调整法》 D. 通过《社会保障法》

二、归纳列举题(共15分)

11. 根据提示写出相对应的著作。(4分)

- (1)我国第一部纪传体通史——
- (2)东汉时期将中医学理论与临床实践相结合的医学著作——
- (3)我国现存最早的一部完整的农书——
- (4)“中国17世纪的工艺百科全书”——

12. 写出中国近代改变社会性质的三个历史事件。(3分)

13. 根据提示写出相对应的历史事件。(3分)

- (1)红军长征胜利结束——
- (2)标志着抗日民族统一战线初步形成——
- (3)中华人民共和国成立后党的历史上的伟大转折——

14. 请根据下列提示写出相对应的人物。(5分)

- (1)被誉为旧时代最后一位诗人和新时代最初的一位诗人——
- (2)给人类带来光明的发明家——
- (3)近代自然科学的奠基人——
- (4)提出“物竞天择,适者生存”思想的科学家——
- (5)被列宁称为“俄国革命的镜子”的文学家——

三、材料分析题(共20分)

15. 阅读下列材料,回答问题。

材料一:

国别	人物	内容	结果
唐→天竺	玄奘	西行取经	游历16年,带回许多佛经
唐→日本	鉴真	6次东渡	对日本文化的影响很大

材料二:从对外关系上说,隋唐宋元都居于主动地位,明清时期的对外关系显然逆转了……倭寇沿海骚扰,为南方各地带来了极大的破坏。明清之际,西方资本主义已在兴起,而中国的……专制者对于世界形势一无所知。

(1)材料一说明唐朝在对外交往中实行了什么政策?(2分)

(2)根据材料二,是什么政策导致了清朝政府“对于世界形势一无所知”?该政策产生了什么消极影响?(4分)

(3)综合以上材料,联系明清时期对外关系逆转带来的巨大变化,你得到了什么启示?(2分)

16. 大型音乐舞蹈史诗“复兴之路”,艺术地再现了从1840年鸦片战争开始至今180年的历史画卷。

材料一:第一章《山河祭》(1840—1921)中有一段童谣:“国太弱,挨打了。家太穷,挨饿了。……天下为公,天下为公。孙中山,革命党进班。”

(1)这段童谣反映了近代史上哪一

材料二:第二章《热血赋》(1921—1949)中,有一句誓词:“为了民族,为了国家,为了子孙,血战到底!”

——《八路军出征抗日誓词》

(2) 写出八路军在抗战时期的一个重要战役。(1分)

材料三:第三章《创业图》(1949—1978)中,有一首歌曲《大漠深处》歌颂了中华人民共和国成立后一些科学家在沙漠深处隐姓埋名,无私奉献,为国防事业作出巨大贡献。

(3) 请举出一位科学家。(1分)

材料四:第四章《大潮曲》(1978—2008)中,有一组画面艺术再现了我国广大农村在中共十一届三中全会后,“田野上”充满“希望”。

(4) “希望”与我国在农村推行的什么政策有关?这一政策首先在哪里实行?(2分)

(5) 一百多年来,中华民族“复兴之路”充满艰辛,仁人志士的哪些精神值得我们学习?(1分)

17. 阅读下列材料,回答问题。

材料一:启蒙运动的理想包括:人的个性从迷信和传统中解放,自由战胜专制,与理想和正义相一致的社会制度的重建,以及粉碎一切阻止平等的障碍。

——(美)马文·佩里《西方文明史》

材料二:法国人民对安宁和秩序的渴望十分强烈,甚至愿意接受一个强有力的领袖人物。他更改了宪法,于1804年12月2日他为自己戴上了皇冠。就此,法国革命确实是结束了。但革命的口号“自由、平等、博爱”和在欧洲第一次制定的人权和公民权利宣言,却得以发扬光大。

——(德)曼弗雷德·马伊《一口气读完世界历史》

(1) 根据材料一,用关键词概括启蒙运动的理想。写出一位代表人物。(2分)

(2) 材料二中的“他”是谁?结合所学知识,概括“他”将法国大革命的成果发扬光大的措施。(2分)

(3) 综合以上材料,说明启蒙运动与法国大革命的关系。(1分)

四、综合探究题(共15分)

18. 中国和美国关系的发展不仅关系到两国的切身利益,也关系到亚洲和世界的和平与稳定。某历史兴趣小组对历史上的中美关系展开探究性学习,请你帮助完成:

(1) 近代史上,中美两国有过对抗也有过合作。请各写出一例。(2分)

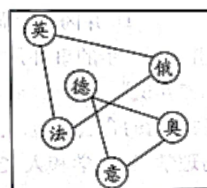
(2) 中华人民共和国成立初期,中国人民反抗美国侵略,保家卫国的正义战争是什么?写出一位英雄人物。(2分)

(3) 20世纪70年代,美国对华政策有何变化?哪一事件使中美关系走向正常化?(2分)

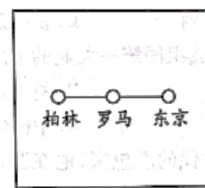
(4) 中美关系的核心和敏感问题是什么?(1分)

(5) 随着中国和平崛起,中美贸易战逐渐升级。你认为未来两国关系怎样才能健康稳定发展?(1分)

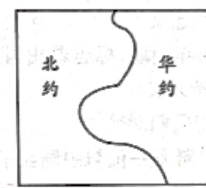
19. 以下三幅图反映了不同时期的世界形势,请仔细观察,回答下列问题:



图一



图二



图三

(1) 图一反映的是哪场战争前的剑拔弩张的气氛?在这场战争中有“绞肉机”之称的是什么战役?(2分)

(2) 图二反映出二战前哪一军事集团的联盟?第二次世界大战全面爆发的标志是什么?(2分)

(3) 图三反映出哪一时期的世界形势?

(4) 三幅图反映出威胁当今世界和平的主要因素是什么?(1分)

历史(四)

一、单项选择题(每小题 1 分,共 10 分)

1. A 2. B 3. C 4. C 5. C 6. A 7. C 8. D
9. D 10. A

二、归纳列举题(共 15 分)

11. (1)《史记》

(2)《伤寒杂病论》

参考答案 第

(3)《齐民要术》

(4)《天工开物》

12. 鸦片战争、中华人民共和国成立、三大改造的基本完成

13. (1)红军三大主力会师

(2)西安事变的和平解决

(3)中共十一届三中全会的召开

14. (1)但丁 (2)爱迪生 (3)牛顿

(4)达尔文 (5)列夫·托尔斯泰

三、材料分析题(共20分)

15. (1)对外开放。

(2)闭关锁国政策。影响:使中国在上世界上逐渐落伍。

(3)闭关锁国导致国家落后;对外开放使国家繁荣富强等。(言之有理即可)

16. (1)辛亥革命。宣告中国两千多年封建君主专制制度的终结;打开了中国进步潮流的闸门等。

(2)平型关战役、百团大战等。(任选其一)

(3)“两弹元勋”邓稼先。

(4)改革开放。安徽凤阳小岗村。

(5)不屈不挠的探索精神;英勇不屈,不怕牺牲的斗争精神;无私奉献,为科学和祖国献身精神;创新精神等。

17. (1)自由、平等。伏尔泰。

(2)拿破仑。颁布《拿破仑法典》。

(3)启蒙运动为法国大革命作了重要的理论准备。

四、综合探究题(共15分)

18. (1)对抗:第二次鸦片战争美国是“帮凶”;八国联军侵华战争等;合作:一战共同参加协约国作战;签署《联合国家宣言》;参加世界反法西斯联盟等。

(2)抗美援朝战争。邱少云、黄继光等。(任选一位)

(3)从敌对走向缓和。中美签署并发表《联合公报》。

(4)台湾问题。

(5)增进了了解,扩大共识;加强合作,和平解决国际争端等。

19. (1)一战。凡尔登战役。

(2)法西斯同盟。德国突袭波兰,英法对德宣战。

(3)冷战时期。苏联解体。

(4)大国结盟;强权政治;霸权主义等。