

2021 年初中学业水平考试

历史测试卷(三)

(全卷两个大题,共 29 个小题,共 8 页;满分 100 分,考试用时 90 分钟)


题 号	第 I 卷	第 II 卷	合 计
	—	二	
得 分			

第 I 卷 (选择题,共 50 分)

得分	评卷人	一、选择题(本大题共 25 小题,每小题 2 分,共 50 分。在每小题给出的四个选项中,只有一项是最符合题目要求的。)

- 1.“谁轻轻呼唤,在天上在云端,让我日夜想象,在梦里回到你身旁。彩云之南,我心的方向……”云南不仅有着优美的风景、怡人的气候,更有着悠久的历史、灿烂的文化。在远古时期,这里曾生活着我国境内已知最早人类是 ()
- A.元谋人 B.北京人 C.山顶洞人 D.河姆渡原始居民
- 2.历史学家夏曾佑在《中国古代史》一书中说:“中国之教,得孔子而后立。中国之政,得秦皇而后行。中国之境,得汉武而后定。三者皆中国之所以为中国也。”其中,“中国之政”主要指的是 ()
- A.分封制 B.中央集权制度 C.郡县制 D.行省制度
- 3.在抗击新冠肺炎疫情期间钟南山院士曾表示,有充足证据证明连花清瘟这种中成药治疗新冠肺炎有效,从而有力地驳斥了“中医无用论”。中国的传统医学有着悠久的历史,曾经涌现出很多医术高明、品德高尚的医学家。下面对我国古代医学家及其成就的搭配,有误的一项是 ()
- A.扁鹊——总结出望、闻、问、切“四诊法”
- B.张仲景——编定《黄帝内经》,提出了“治未病”理论
- C.华佗——发明了“麻沸散”,创编出“五禽戏”
- D.李时珍——编写出《本草纲目》,总结了我国古代药物学成就
- 4.宋代赞宁曾说过:“山川异域,风月同天。”古代历史上中外交流与合作历史悠久,今天中国人民也永远不会忘记在抗击新冠肺炎疫情最困难的时候,国际社会给予中国的支持和帮助。下列历史事件中,为中外交往作出贡献的是 ()
- ①文成公主入藏 ②鉴真东渡 ③玄奘西游 ④郑和下西洋
- A.①③④ B.①②③ C.②③④ D.①②④
- 5.梁启超在 1905 年发表的文章中指出:“现今之中华民族自始本非一族,实由多民族混合而成。”……时期,许多信仰伊斯兰教的阿拉伯人、波斯人同汉、蒙、维吾尔等民族,长期杂居相处,互通婚姻,逐渐融合,形成了一个民族——回族。这个时期是 ()
- A.汉朝 B.唐朝 C.宋朝 D.元朝

- 6.“苏湖熟,天下足”、蜀地丝织品“号为冠天下”、临安“买卖昼夜不绝”……这些都反映了当时经济社会的状况。而数字材料则能更直观、真实地反映历史的发展。下图呈现了西汉至南宋北方和南方人口户数的变化情况,它充分说明的事实是 ()



- A.人口大量南迁 B.民族融合加强 C.经济重心南移 D.南方生活富足
- 7.当代美国历史学家费正清写道:“它使中国两千多年的皇帝制度彻底崩溃,是中国帝制与共和意识的分水岭,尽管它的结局是悲剧性……”材料中的“它”是指 ()
- A.戊戌变法 B.新文化运动 C.辛亥革命 D.北伐战争
- 8.“中国历史选择了这个特别的日子,放射出中国革命最初的曙光。鲜红的党旗自从在十三个人身后飘起时,中国命运的希望一日比一日红火。”下列史实与“这个特别的日子”相关的是 ()
- A.中国工农红军长征胜利 B.决定发动南昌起义
- C.中国共产党成立 D.十一届三中全会召开
- 9.2020 年 2 月 23 日,习近平在统筹推进新冠肺炎疫情防控和经济社会发展工作部署会议上强调,“坚决打好湖北保卫战、武汉保卫战”,守护人民的健康。回顾历史,1938 年 6 月至 10 月,武汉保卫战的主要功绩是 ()
- A.粉碎了日军不可战胜的神话 B.打破日本三个月灭亡中国的迷梦
- C.是抗战以来中国正面战场最大的一场胜仗 D.日本企图迅速灭亡中国的既定战略彻底破灭
- 10.时空观念是历史学科核心素养的重要组成部分。下列相关史实发生在 20 世纪 50 年代的是 ()
- ①西藏和平解放 ②“和平共处五项原则”的提出 ③中美正式建立外交关系 ④中国恢复在联合国的合法席位 ⑤我国第一颗原子弹爆炸成功 ⑥“求同存异”方针的提出
- A.①③④ B.①②⑥ C.③④⑤ D.②⑤⑥
- 11.2020 年 7 月 26 日,由我国自主研制的大型灭火/水上救援两栖飞机“鲲龙”AG600 驭风入海、踏浪腾空,成功实现海上首飞。追溯历史,我国开始改变工业落后,向社会主义工业化迈进的事件是 ()
- A.“一五计划” B.土地改革 C.“三大改造” D.改革开放
- 12.2020 年国庆期间电影《我和我的家乡》在全国热映,“精准扶贫”也成为近年的热词之一。国家通过“精准扶贫”,确保到 2020 年让所有贫困地区贫困人口实现脱贫,并于 2021 年 2 月 25 日庄严宣告脱贫攻坚工作取得重大胜利。“精准扶贫”充分体现了习近平总书记提出的五大新发展理念中的 ()
- A.创新 B.绿色 C.开放 D.共享
- 13.2019 年 11 月 10 日至 12 日,习近平对希腊进行国事访问。访问希腊,有一个分量很重的话题:历史和文明。新华社品牌栏目“讲习所”推出文章评价说:两大文明对话,世界为之瞩目。关于人类文明的发展,下列图片共同反映了 ()



金字塔



汉谟拉比法典



帕特农神庙



司(后)母戊鼎

- A.大河流域是人类文明的摇篮 B.奴隶社会高超的建筑艺术
- C.古代文明的多元化特征 D.不同文明雕塑艺术的高超

14.2020年5月28日,十三届全国人大三次会议表决通过了《中华人民共和国民法典》。在欧洲,拜占庭时期的《罗马民法大全》奠定了欧洲民法的基础,其中被誉为“罗马法律高度精细的汇集”的法典是 ()

- A.《汉谟拉比法典》 B.《十二铜表法》 C.《拿破仑法典》 D.《查士丁尼法典》

15.庄园是西欧封建制度在经济上的表现形式。贵族的采邑领地可能是一个庄园,也可能是十几个、几十个,一个庄园包括一个或几个村庄。这种制度逐渐瓦解源于 ()

- A.资产阶级革命 B.文艺复兴运动 C.垦殖运动 D.新航路的开辟

16.哲人们认为,思想是地球上最美丽的花朵。18世纪的欧洲,有一批进步的思想家对封建制度和教会进行批判,并提出民主、自由、平等进步思想,大力倡导科学理性。他们燃起的思想火花是 ()


- A.文艺复兴运动 B.启蒙运动 C.民族独立运动 D.自由主义

17.归纳法是历史学习的基本方法。英国《权利法案》、美国《独立宣言》、法国《人权宣言》和《拿破仑法典》都代表着人类民主文明历程的重要成果。下面对四部文献特点的归纳,正确的是 ()

- A.《权利法案》——确立了君主立宪制度
B.《拿破仑法典》——以法律形式限制君主的权力
C.《独立宣言》——确立三权分立的原则
D.《人权宣言》——法国大革命的高潮

18.下图是“19世纪英国城镇人口比重变化图”,出现这种变化的主要原因是 ()

19世纪英国城镇人口比重变化



- A.资产阶级统治的确立 B.英国的海外殖民战争
C.新航路开辟推动了英国的发展 D.工业革命后的工业化及城市化

19.2020年9月26日,美国总统特朗普正式提名了新的最高法院大法官。根据美国宪法第二条规定,最高法院的法官由总统提名之后,还要经过参议院同意才能正式任命,接下来美国参议院会进行一次投票,只要支持的参议员比反对的多,法官的任命就会被批准通过。上述材料体现1787年宪法所确定的美国宪法的原则是 ()

- A.联邦制原则 B.分权制衡原则 C.民主共和原则 D.议会为主导原则

20.《共产党宣言》指出:“工人革命的第一步就是使无产阶级上升为统治阶级,争得民主。”巴黎公社革命是“使无产阶级上升为统治阶级”的第一次伟大尝试,而工人革命首先获得真正成功的重大事件是 ()

- A.法国大革命 B.俄国二月革命 C.俄国十月革命 D.中国新民主主义革命

21.历史是基于时空坐标上的人类活动,历史事件彼此关联、相互影响。按逻辑关系推导,下列与第二次世界大战有关的历史事件,按先后顺序排列正确的是 ()

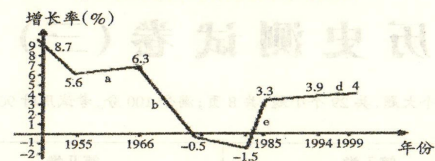
- ①雅尔塔会议 ②日军偷袭珍珠港 ③诺曼底登陆 ④反法西斯同盟建立
A.①④②③ B.④①③② C.③②①④ D.②④③①

22.2020年1月31日,英国正式离开欧盟。英国脱欧后,有学者提出无论是英美关系还是英欧关系,都面临着众多不确定性。以后脱欧时代的英国与全球主要国家间如何碰撞,存在太多的未知数。该学者旨在说明英国脱欧的后果可能带来的影响是 ()

- A.不利于世界的多极化 B.有利于欧洲的发展
C.影响经济全球化 D.是欧盟解体的前兆

23.观察二战后美国经济增长率变化的折线图(如图),其中20世纪90年代后,美国经济的特点是 ()

第二次世界大战后美国经济发展情况



- A.面临世界性的经济危机 B.通货膨胀严重
C.经济出现负增长 D.进入新经济时代

24.当今国际社会,在美国领先世界的同时,欧洲一部分国家努力地用同一个声音说话,“金砖国家”(巴西、俄罗斯、印度、中国、南非)在经济快速发展的同时,也正在国际事务中发挥越来越大的作用。这一现象表明 ()

- A.当今世界的发展问题基本解决 B.国际格局走向多极化
C.经济发展趋向全球化 D.国际经济新秩序已基本建立

25.网上音乐、视频和游戏使现代社会的娱乐和休闲生活更加丰富多彩。在互联网上,人们可以展示自我,参与讨论,进行思想和情感交流。这段内容表述的是互联网 ()

- A.推动全球经济的一体化 B.创新人类生活模式和文化观念
C.网络安全问题日益凸显 D.中国网民规模位居世界前列

第Ⅱ卷 (非选择题,共50分)

得分	评卷人	二、非选择题(本大题共4小题,第26题12分,第27题12分,第28题14分,第29题12分,共50分。)

26.(12分)阅读材料,结合所学知识回答问题。

材料一

天父天兄手段高,打得清兵四处跑,拿下南京立天国,旗开得胜万民笑。

——据《天国歌谣》

(1)根据材料一并结合所学回答,这场运动在中国历史上产生的深远意义。(2分)

材料二

书生坐谈误国,可谓浩叹,且外国猖獗至此,不亟亟(jǐjí)焉求富强,中国将何以自立耶!取西人器数之学,以为尧舜、禹汤、文武、周孔之道,俾(bǐ)西人不敢蔑视中华。

——据《李鸿章全集》

(2)根据材料而并结合所学,这场“取西人器数之学”的运动是什么?(2分)并举出一例基于求富目的而兴办的企业名称。(2分)

材料三



清军在甲午战争中失败(北洋水师的覆灭),这亦标志着洋务运动的失败,大清帝国的国际地位自此一落千丈,再次成为世界各列强鲸吞蚕食的对象。中日甲午战争后,民族危机空前严重,清朝廷内的改革派对自身的弱点有了更深的认识,促使后来对清朝政制进行变法维新。

——据新浪网

(3)根据材料三并结合所学回答,“促使后来对清朝政制进行变法维新”的改革指的是什么?(2分)并指出揭开这场运动序幕的历史事件。(2分)

材料四

中国人民是伟大的人民,素来有着深沉厚重的精神追求,具有伟大的梦想精神,即使近代以来饱受屈辱与磨难,也绝不不甘沉沦,而是始终怀揣民族复兴的梦想,追求光明和美好的未来。

——摘自《习近平新时代中国特色社会主义思想学习纲要》

(4)根据材料四并结合以上问题,谈谈你的看法。(2分)

27.(12分)阅读材料,结合所学知识回答问题。

材料一

同仁堂合营后,解放了生产力,经过短短几年的努力,企业面貌大为改观。生产设备、厂房进行了前所未有的技术改造……初步改变了手工作坊式的生产方式,向着机械化、半机械化大生产迈进了一大步。

——摘编自统编版初中历史教材《教师用书》八年级上册

(1)同仁堂的变化反映的是新中国成立后的一场重大变革。根据材料一并结合所学,写出这一历史事件的名称,(2分)并指出这次变革对同仁堂发展产生的影响。(2分)

材料二



“40年来,深圳奋力解放和发展社会生产力,大力推进科技创新,地区生产总值从1980年的2.7亿元增至2019年的2.7万亿元,实现了由一座落后的边陲小镇,到具有全球影响力的国际化大都市的历史性跨越。”

——习近平在深圳经济特区建立40周年庆祝大会上的讲话

(2)根据材料二而并结合所学,四十年来深圳的巨大变化与1978年中国共产党作出的哪一重要决策有关?(2分)在经济建设中我国不断探索,理论成果突出。请指出中共十四大正式提出建立符合中国特色的经济体制的名称。(2分)

材料三

加入世贸组织,充分展示了我国顺应经济全球化潮流、主动参与国际竞争与合作的积极姿态。加入世贸组织,有力地扩大了对外开放,促进了经济体制改革和经济结构的战略性调整,有利于增强我国经济发展活力和国际竞争力,总体上符合我国的利益需要。

——据新华网

(3)根据材料三,指出加入世贸组织对中国发展的积极影响。(2分)

材料四

七十年前,中华人民共和国成立,开启中华民族伟大复兴的历史征程;四十年前,改革开放大幕初启,筚路蓝缕,实现从“赶上时代”到“引领时代”的伟大跨越。弹指挥间,沧桑巨变。从中华人民共和国成立初始的一穷二白,到改革开放热潮中的敢闯敢干与自我革新,当代中国在经济、文化与民生等领域的成就举世瞩目。

——摘编自人民网

(4)根据材料四并结合以上问题,谈谈给你的启示。(2分)

28.(14分)阅读材料,结合所学知识回答问题。

材料一

(孝文帝)雅好读书,手不释卷。“五经”之义,览之便讲,学不师受,探其精奥……(孝文帝)诏不得以北俗之语言于朝廷,若有违者,免所居官……如此渐习,风化可新。

——据【北齐】魏收《魏书》

(1)根据材料一并结合所学,材料反映了北魏孝文帝改革中的哪一项措施?(2分)这次改革的意义是什么?(2分)


材料二
1863年,日本新政府颁布了《五条誓文》,内容包括:一、广兴会议,万事决于公论……四、破除旧来之陋习;
五、求知识于世界,大振皇国之基础。《五条誓文》表明了日本政府改革旧制度,向西方学习的决心。
——摘编自《义务教育教科书世界历史九年级下册》(统编版)
(2)根据材料二并结合所学,历史上“日本政府改革旧制度,向西方学习”的运动名称。(2分)为增强国力,
政府在经济上着重提出了什么口号?(2分)

材料三
“我们最重要的首要任务,是使人民有工作可做。如果我们聪明而勇敢地予以对待,就没有解决不了的问题。由政府本身直接募工,可以部分的完成这一任务,政府对待这项任务就像对待战争的紧急状态一样。”
——1933年3月4日罗斯福就职演说
(3)根据材料三并结合所学指出,罗斯福政府为“使人民有工作可做”实行的政策。(2分)致力于尽快摆脱
危机,促进国家经济的恢复与发展,改革的中心措施是什么?(2分)

材料四
“芳林新叶催陈叶,流水前波让后波。”改革开放40年来,我们以敢闯敢干的勇气和自我革新的担当,闯出
了一条新路、好路,实现了从“赶上时代”到“引领时代”的伟大跨越。
——习近平在2018年春节团拜会上的讲话
(4)根据材料四并结合以上问题,谈谈你对人类历史发展中改革共性的看法。(2分)

29.(12分)阅读材料,结合所学知识回答问题。

材料一




仁者爱人;己所不欲,勿施于人;为政以德,
譬如北辰,居其所而众星拱之。——孔子


民为贵,社稷次之,君为轻。——孟子

(1)以孔子为代表的学说和理论一直以来都是中国封建社会的正统思想。请根据材料一指出孔子的核心思想。(2分)

材料二



秦坑儒谷



汉代讲经图

——摘编自统编初中历史教材《教师用书》七年级上册

(2)以上两幅图表明秦始皇和汉武帝对儒家的不同态度。根据材料二并结合所学,分析《汉代讲经图》中的
“经”主要是什么内容?(2分)汉代这一现象的出现与汉武帝推行的哪一措施有关?(2分)

材料三

我翻开历史一查,这历史没有年代,歪歪斜斜的每页上都写着“仁义道德”几个字。我横竖睡不着,仔细看了半夜,才从字缝里看出字来,满本都写着两个字是“吃人”。
——鲁迅:《狂人日记》

1917年李大钊在《自然的伦理观与孔子》一文中写道:“余之掊击孔子,非掊击孔子之本身,乃掊击孔子为历代君主所雕塑之偶像的权威也;非掊击孔子,乃掊击专制政治之灵魂也。”
——摘编自统编版初中历史教材《教师用书》八年级上册

(3)根据材料三结合所学,以鲁迅为代表的新文化运动对中国传统文化和思想提出了什么主张?(2分)概括材料中李大钊对中国传统文化和思想的观点。(2分)

材料四

近年来,国学、国学阅读和国学教育,几乎成为人们谈论思想文化时出现频率最高的词汇。各种解读国学的书籍争相出版,各种品说古人的节目陆续播放,一些地方还有老师着汉服上课、学生进孔庙祭拜的事情,足见人们的热情。
——据新华网

对历史文化特别是先人传承下来的道德规范,要坚持古为今用、推陈出新,有鉴别地加以对待,有扬弃地予以继承。
——2013年11月习近平同志考察山东曲阜孔庙时提及传统文化时指出

(4)一方面是全国各地掀起的国学热,另一方面是传统文化和思想中存在的一些糟粕。根据材料四并结合以上问题,谈谈你的看法。(2分)