

2021 年 初 中 学 业 水 平 考 试

历史测试卷(四)






(全卷两个大题,共 29 个小题,共 8 页;满分 100 分,考试用时 90 分钟)

题 号	第 I 卷	第 II 卷	合 计
	—	二	
得 分			

第 I 卷 (选择题,共 50 分)

得分	评卷人	一、选择题(本大题共 25 小题,每小题 2 分,共 50 分。在每小题给出的四个选项中,只有一项是最符合题目要求的。)

1.下图是汉字“鱼”字演变的简单历程,据此可知 ()

甲骨文	周代金文	小篆	隶书	楷书
				

- A.汉字是我国唯一的文字

B.汉字的发展是一脉相承的
- C.汉字的演变是由简到繁

D.汉字都来源于象形字
- 2.孔子提出“仁”的学说,“仁者爱人”。孟子主张实行“仁政”,要求统治者不要过分盘剥人民。可见,孟子“仁政”思想是对孔子思想的 ()

A.全面否定

B.照抄照搬

C.全面超越

D.继承发展

3.西汉初,贾谊向文帝上《治安策》,“欲天下之治安,莫若众建诸侯而少其力”。后来,汉武帝“众建诸侯而少其力”的主要措施是 ()

A.行推恩令

B.设立刺史

C.推行察举

D.分设郡县

4.英雄从未走远,精神永远闪耀。在中华民族历史发展的长河中,涌现出一大批可歌可泣的民族英雄。戚继光被称为民族英雄,是因为他 ()

A.抗击清的入侵

B.抗击匈奴的入侵

C.抗击倭寇的入侵

D.抗击荷兰的入侵

5.“西方列强一巴掌把大清帝国打落谷底,从此国门洞开,风雨交加。”“中华民族开始了漫长的寻找,寻找失去的尊严,寻找在世界的位置,寻找复兴的道路……”西方列强的“一巴掌”是指 ()

A.鸦片战争

B.第二次鸦片战争

C.甲午中日战争

D.八国联军侵华战争

历史测试卷(四)·第 1 页(共 8 页)

6.在外国列强一次次的侵略下,清政府被迫签订一系列不平等条约。其中,标志着中国完全沦为半殖民地半封建社会的不平等条约是 ()

A.《南京条约》

B.《北京条约》

C.《马关条约》

D.《辛丑条约》

7.第二次世界大战中,中国战场是世界反法西斯战争的东方主战场。既是中国人民抗日战争的起点,又揭开了世界反法西斯战争序幕的历史事件是 ()

A.九一八事变

B.意大利吞并埃塞俄比亚

C.七七事变

D.德国突袭波兰

8.《李宗仁回忆录》中写道:“我军人虽少,装备虽差,但是我们是保国卫民与侵略者作殊死战的哀兵……加以我们在指挥上对本军量力而用,上下一心对敌情判断正确,发挥了内线作战的最高效能,故有台儿庄的辉煌战果。”这个“辉煌战果” ()

A.粉碎了日军“不可战胜”的神话

B.使日本企图迅速灭亡中国的既定战略彻底破灭

C.打破了日本三个月灭亡中国的迷梦

D.是抗战以来中国正面战场取得的最大一场胜仗

9.“1947 年,……这种改革和其他改革将解放军攻势所及的数百万农民吸引进了人民解放军的阵营,国民党后方的成千万的农民也纷纷武装起义,反抗国民党和国民党政权。”与材料所反映的现象相关的历史事件是 ()

A.《天朝田亩制度》的颁布

B.《中国土地法大纲》的实施

C.“平均地权”政策的提出

D.“减租减息”政策的实施

10.1948 年 9 月,林彪、罗荣指挥东北人民解放军首先攻占辽宁锦州,一举切断了敌人向关内的退路。随后,攻占长春、沈阳,解放东北全境。这场战役是 ()


A.辽沈战役


B.淮海战役


C.平津战役


D.渡江战役

11.它见证、记录了晚清以来中国曲折复杂的发展历程,被人称为研究中国近现代史的“百科全书”,是近代中国存在时间最长的中文报纸,它是 ()









A.《新青年》

B.《新闻报》

C.《申报》

D.《大公报》

12.彭德怀在《关于中国人民志愿军抗美援朝工作的报告》中指出:“它雄辩的证明:西方侵略者几百年来只要在东方一个海岸上架起几尊大炮就可霸占一个国家的时代是一去不复返了……”此材料最能说明抗美援朝战争的胜利 ()

A.标志中国进入社会主义初级阶段

B.提高了中国的国际地位

C.恢复了中国在联合国的合法席位

D.促进了中国的文化繁荣

13.下表反映出我国第一个五年计划的特点是 ()

时间	成 就
1953 年	鞍山钢铁公司大型轧钢厂建成投产
1956 年	长春第一汽车制造厂生产出第一辆汽车
1956 年	中国第一架喷气式飞机试制成功
1956 年	沈阳第一机床厂建成投产

A.农业、工业协调发展

B.工业技术领先世界

C.工业门类齐全

D.优先发展重工业

历史测试卷(四)·第 2 页(共 8 页)

14.当前,世界正处于大发展、大变革、大调整时期,世界需要中国智慧、中国理念、中国方案。在这样的时代背景下孕育产生、丰富发展起来的中国理论是 ()

- A.马克思主义 B.毛泽东思想
C.邓小平理论 D.习近平新时代中国特色社会主义思想

15.“感动中国人物”颁奖词写道:“他是一位真正的耕耘者。当他还是一个乡村教师的时候,已经具有颠覆世界权威的胆识;当他名满天下时却仍然只是专注于田畴……他毕生的梦想,就是让所有人远离饥饿。”材料中赞誉的“他”是 ()

- A.王进喜 B.邓稼先 C.袁隆平 D.钱学森

16.在经历了 190 次失败之后,发现 191 号青乙醚中性提取物样品对疟疾虫的抑制率达到 100%,开创了治疗疟疾的新方法。她就是 2015 年获得诺贝尔生理学或医学奖的中国药学家 ()

- A.屠呦呦 B.莫言 C.袁隆平 D.李兰娟

17.古代希腊有一位与我国孟子同时代的思想家,他在逻辑学、物理学、生物学和人文学科诸领域有卓越贡献。他就是被誉为“百科全书式的学者” ()

- A.苏格拉底 B.柏拉图 C.亚里士多德 D.希罗多德

18.该帝国在灭亡波斯帝国之后,成为地跨欧、亚、非三洲的帝国。它的建立给东方人民带来了巨大灾难,但也是促进了东西方文化的大交汇。这个帝国的建立者是 ()

- A.汉谟拉比 B.亚历山大 C.屋大维 D.穆罕默德

19.18 世纪 90 年代,欧洲大陆发生了一件震惊欧洲的大事:国王路易十六被以叛国罪送上断头台。这不是宫廷政变,而是一场革命。这场革命是 ()

- A.英国资产阶级革命 B.美国独立战争
C.法国大革命 D.俄国彼得一世改革

20.第二次工业革命中众多的新发明在欧美国家涌现出来,并迅速应用于生产。在第二次工业革命中为汽车和飞机提供动力的发明是 ()

- A.蒸汽机 B.内燃机 C.电力 D.磁力

21.突发事件威胁人类和平。1914 年,引燃第一次世界大战导火索的历史事件是 ()

- A.同盟国军事集团的形成 B.萨拉热窝事件
C.帝国主义政治经济发展不平衡 D.协约国军事集团的形成

22.1921 年春,(俄国)苏维埃政府决定以粮食税代替余粮征集制,实行按劳取酬的工资制,这些措施调动了生产者的积极性,迅速缓解了危机,巩固了工农联盟。此次改革被称为 ()

- A.农奴制改革 B.新经济政策 C.斯大林模式 D.戈尔巴乔夫改革

23.法西斯是世界上最凶狠的敌人,它们反人类、反社会。我们要牢记历史,坚决反对法西斯暴行。历史上先后走上法西斯道路的国家有 ()

- A.英、法、俄 B.苏、美、英 C.意、德、日 D.英、法、荷

24.1960 年,非洲有 17 个国家获得独立,这一年因此被称为“非洲独立年”。“非洲独立年”的真正历史含义是 ()

- A.波澜壮阔的民族独立浪潮 B.亚非国家凝聚“万隆精神”
C.殖民统治在非洲彻底终结 D.揭开非洲民族独立的序幕

25.二战中新西兰驻美国大使纳什曾说过:“如果我们赢得这场战争后而没有规划,就会再犯上次那样的错误,将开启下一场战争。”为避免再犯错误,符合这种理念的措施是 ()

- A.成立国际联盟 B.建立反法西斯联盟
C.成立联合国 D.成立北约和华约

第 II 卷 (非选择题,共 50 分)

得分	评卷人

二、非选择题(本大题共 4 小题,第 26 题 14 分,第 27 题 12 分,第 28 题 12 分,第 29 题 12 分,共 50 分。)

26.(14 分)阅读下列材料,结合所学知识回答问题。

材料一

美国的民主实践是一种崭新的尝试,作为英国的殖民地,美国通过革命和协商的方式,形成了一种新型的民主政体——总统制。与英国的议会制相比,美国不仅根除了“君主”“王权”的存在土壤,开启了国家元首的选举模式,还确立了“三权分立”的基本原则。经过长时间的磨合,特别是经历了两次世界大战后,美国凭借强大的军事和经济优势,使其民主形式看上去更加耀眼,其影响力已经远远超过此前的英国。

——摘编自孙瑛辉《论民主的多样性及其科学把握》

(1)结合所学,材料中的“革命”具体指的是什么?(2 分)根据材料一,概括指出美国的民主实践“新”在何处。(2 分)

材料二

他在 1864 年 8 月的一次谈话中重申:“我的敌人说,我现在进行这场战争的唯一目的是废除奴隶制。只要我还是总统,这场战争现在和将来都要为恢复联邦这个唯一目标而进行下去。”

——罗荣渠《美国历史通论》

(2)材料二中所述的“这场战争”指的历史事件是什么?(2 分)“他”认为这场战争的根本目的是什么?(2 分)

材料三

美国 1929—1938 年经济发展状况统计表

年份	1929 年	1933 年	1935 年	1938 年
国民生产总值(单位:亿美元)	912	560	831	854
失业率	3.2%	24.9%	20.1%	19.0%

——摘编自统编版初中历史教材《教师用书》九年级下册

(3)材料三的数据变化是美国哪次改革的结果?(2 分)请写出这次改革的特点。(2 分)

(4)结合上述美国历史发展的过程,谈谈你从中得到的启示。(2分)

27.(12分)阅读下列材料,结合所学知识回答问题。

材料一

吾人在此却有一事不应忘去者,即中国领土之内,……共有人口四万万,均系属于一个种族,并且不以宗教信仰相异而分裂,更有“神明华胄”之自尊思想充满脑中。此外更有一事,亦复不应忘去者,即吾人对于中国群众,不能视为已成衰弱或已失德性之人,彼等在实际上,尚含有无限蓬勃生气,更加以备具出人意料之勤俭巧慧诸性,以及守法易治……倘若中国方面将来产生一位聪明而有魄力之人物为其领袖,更能利用世界各国贡献与彼之近代文化方法,则余相信中国前途,尚有无穷希望。至于中国所有好战精神,尚未完全丧失,可于此次“拳民运动”中见之。

——八国联军统帅瓦德西

(1)根据材料一并结合所学知识概括,义和团运动有何历史意义?(2分)

材料二

“民国”之取代自秦始皇以来两千多年的“帝国”,是中国近代内在矛盾发展的结果,是一种前无古人的变化。它打破了历代王朝的更迭机制,否定了整个皇权体制,因而也触动了传统社会的各条神经,是政治制度和社会思想的一大跃进。

——摘编自陈旭麓《近代中国社会的新陈代谢》

(2)结合所学知识,指出材料二所反映的使“民国”取代“帝国”的历史事件。(2分)根据材料二,概括此事件的历史功绩。(2分)

材料三

1919年的某天下午一时半,十几个学校的学生齐集天安门,人人手里拿着一面或两面白旗,上面写着“还我青岛”“头可断青岛不可失”……第二天,北京各大专学校总罢课……六月三日,北京学生在街头演讲时被北洋政府逮捕一百七十八人……第三天,上街演讲的学生达到五千多人,社会影响加大。学生的爱国行动得到越来越多各界人士的同情和支持……这是真正伟大的历史转折点。


——摘编自金冲及著《二十世纪中国文纲》(第一卷)

(3)材料三描述的是哪一历史事件?(2分)依据材料三,结合所学概括这一历史事件所体现的时代精神。(2分)

(4)综合上述材料和问题,谈谈你对近代中国人民反抗外来侵略斗争的认识。(2分)

28.(12分)阅读下列材料,结合所学知识回答问题。

材料一



它是皇帝查士丁尼一世下令编纂的一部汇编式法典,是罗马法的集大成者。该法典由四部分组成,分别为法典、学说汇纂、法学阶梯以及新律。该法奠定了后世法学尤其是大陆法系民法典的基础,是法学研究者研究民法学不可或缺的重要文献资料之一。

——摘编自统编版初中历史教材《教师用书》九年级上册

(1)依据材料,结合所学,说出这部古代法律文件的名称。(2分)

材料二

英国资产阶级革命从1640年开始,历经曲折,先后经历内战、共和、军事独裁、王朝复辟等阶段,直至1688年革命结束。1689年,英国议会颁布法案,限制国王行政、司法等权力。1701年,议会颁布《王位继承法》,规范王位继承问题,规定国王的一切决定须经同意该项决定的大臣签署后才能生效。18世纪中期,英国基本确立了以法律规范国家权力的近代民主制度。

——摘编自马克垚主编《世界文明史》等

(2)结合所学指出,材料二中“1689 年英国议会颁布法案”的名称。(2 分)基于此法案英国开始确立起什么政治制度?(2 分)

材料三
总纲第二条:中华人民共和国的一切权力属于人民。人民行使国家权力的机关是全国人民代表大会和地方各级人民代表大会。人民依照法律规定,通过各种途径和形式,管理国家事务,管理经济和文化事业,管理社会事务。
——节选自《中华人民共和国宪法》
(3)根据材料三,指出我国的根本政治制度是什么。(2 分)依据材料,结合所学,《中华人民共和国宪法》的性质是什么?(2 分)

(4)综合上述材料和问题,你从近现代人类民主法治的发展历程中得到哪些认识?(2 分)

29.(12 分)阅读下列材料,结合所学知识回答问题。
材料一
实际上,严格的全球意义上的世界历史直到哥伦布、达·伽马和麦哲伦进行远航探索才开始,在这以前,只有各民族相对平行的历史,而没有一部统一的人类历史。从那时候开始,人类的历史才称得上是真正意义上的世界史。
——【美】斯塔夫里阿诺斯《全球通史》
(1)结合所学,材料二中反映的主要历史事件是什么?(2 分)为什么说那时“人类的历史才称得上是真正意义上的世界史”的开始?(2 分)

材料二
2001 年,中国正式加入 WTO,使中国经济在全球化进程中获得参与制定规则和竞争的有利位置,从而得到更为广阔的发展空间,对经济体制改革和现代化建设产生深刻影响,标志着中国对外开放进入了一个新的阶段。
——摘编自《经济与社会生活》
(2)结合所学,WTO 的全称是什么?(2 分)根据材料二,指出中国正式加入 WTO 标志着什么?(2 分)

材料三
2018 年美国对加拿大的钢铝制品加征惩罚性关税。同年 6 月 15 日,美国政府宣布,针对进口中国的价值 500 亿美元商品加征 25%关税。2019 年 5 月 9 日至 10 日,在第十一轮中美经贸高级别磋商举行之际,美方宣布将对价值 2000 亿美元中国输美商品加征的关税从 10%上调至 25%,使中美经贸磋商进程遭到严重挫折。美方竟然还同步抛出一个“加征关税有利论”来掩饰此举对美国经济的严重冲击。2019 年 5 月 17 日,美国政府正式取消土耳其贸易最惠国待遇,这意味着后者对美国部分出口商品不再享受免税优惠。
——摘编自《人民日报》相关报道
(3)结合所学,材料三中美国的行为体现了怎样的对外政策?(2 分)

材料四
新冠肺炎疫情的发生再次表明,人类是一个休戚与共的命运共同体。在经济全球化时代,这样的重大突发事件不会是最后一次,各种传统安全和非传统安全问题还会不断带来新的考验。国际社会必须树立人类命运共同体意识,守望相助,携手应对风险挑战,共建美好地球家园。
——习近平同联合国秘书长通话内容(2020 年 3 月 12 日)
(4)依据材料四及以上问题,面对当前的国际风险和挑战,我们应该如何应对?(2 分)