

# 2021 年 初 中 学 业 水 平 考 试

## 历史测试卷(五)

(全卷两个大题,共 29 个小题,共 8 页;满分 100 分,考试用时 90 分钟)

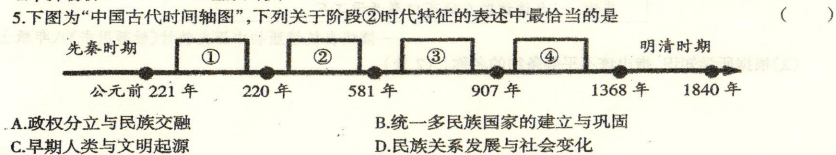

题 号	第 I 卷	第 II 卷	合 计
	—	二	
得 分			

### 第 I 卷 (选择题,共 50 分)

得分	评卷人

一、选择题(本大题共 25 小题,每小题 2 分,共 50 分。在每小题给出的四个选项中,只有一项是最符合题目要求的。)

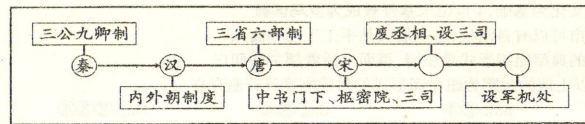
- 原始农业为古代文明社会形成奠定了重要的物质基础。下列能反映原始农业兴起和发展的是 ( )
  - 元谋人直立行走用火
  - 北京人掌握磨光钻孔技术
  - 半坡原始居民种植粟
  - 大禹为治水三过家门而不入
- 周朝“虽历时很久,但却未能建立稳固的中央政府。周朝有许多诸侯国,他们无视周名义上的最高领主地位,彼此征战不休”。这一局面的出现是由于 ( )
  - 禅让制出现
  - 分封制建立
  - 世袭制瓦解
  - 屯田制崩溃
- 右图是我国历史上第一个统一的多民族的封建国家的疆域。下列关于该政权说法符合史实的是 ( )
  - 统一铸造货币五铢钱
  - 统一全国文字为隶书
  - 修筑水利工程都江堰
  - 在地方上实行郡县制
- 宋元之际的史学家胡三省在注《资治通鉴》时指出,汉武帝时期,政府通过盐业获得的利益约占国家财政收入的一半。出现这一状况的直接原因是 ( )
  - 统一货币
  - 轻徭薄赋
  - 平抑物价
  - 盐铁专卖



6.阅读下表材料并结合所学知识进行对比,可知长城与大运河的共同点是 ( )

长城	大运河
秦汉时期,抵御了北方游牧民族南下,保护了中原北部地区的农业生产和人民生活。	隋唐时期,成为联系南北的交通大动脉,加强了各地区之间的经济、文化联系。

- 抵御少数民族的军事威胁
  - 促进了文化发展
  - 推动了政治改革进入盛世
  - 有利于维护统治
- 7.唐太宗曾说:“其(夷狄)情与中夏不殊……四海可使如一家。”下列史实与唐太宗直接相关,并体现他话中理念的是 ( )
- 派张骞两次出使西域开通丝绸之路
  - 执政清明开创贞观之治
  - 将文成公主嫁给吐蕃首领松赞干布
  - 允许高僧玄奘西行求法
- 8.“苏湖熟,天下足”及“国家根本,仰给东南”等民谚反映出两宋时期 ( )
- 南方教育发达,人才众多
  - 出现世界上最早的纸币交子
  - 我国经济重心南移完成
  - 出现了“诗仙”和“医圣”
- 9.诗句“封侯非我意,但愿海波平”表达的是一位抗倭将领维护祖国国防安全的决心。他是 ( )
- 鉴真
  - 戚继光
  - 郑成功
  - 郑和
- 10.观察下面的中国古代中央机构(行政机构)改革图可知,最后两个“○”处所示朝代依次应当是 ( )



- 元、明
  - 明、清
  - 元、清
  - 清、明
- 11.右图是某史书的部分目录,根据所学知识判断其中的“天国”最有可能是指 ( )
- 宗教宣扬的天国
  - 封建盛世
  - 太平天国
  - 共产主义
- 12.汪林茂在《层级递进的晚清三次新政》中评论某一历史事件时指出:“其最大的意义并不是产生‘强兵’的效用,而是在古老的封建主义的‘体’上开始撕开了一道口子,开动了近代化这辆列车。”下列历史人物与“开动列车”有关的是 ( )
- 彼得一世
  - 孙中山
  - 康有为
  - 李鸿章
- 13.口号是一个时代的鲜明印记。在中国革命和建设的每个时期,都留下许多有着时代特色的口号。以下口号能反映五四运动的是 ( )
- 停止内战,一致抗日
  - 实业救国
  - 外争主权,内除国贼
  - 打倒列强除军阀
- 14.毛泽东在《论反对日本帝国主义的策略》中这样评价某一历史事件:“(它)是历史记录上的第一次,(它)是宣言书,(它)是宣传队,(它)是播种机。……它向全世界宣告,红军是英雄好汉,……它向十一个省内大约两万万人民宣告,只有红军的道路,才是解放他们的道路。”该历史事件应当是 ( )
- 中共一大
  - 遵义会议
  - 中共七大
  - 红军长征

第五章 天国的悲喜剧	
一、白莲教、天地会和拜上帝会……	73
二、洪秀全的思想……	77
三、天国的悲剧……	84
四、留给历史的余响……	89



15.《人民日报》曾经刊载文章写道:“中国,中国人,将不再是屈辱的殖民地奴隶的代名词,而要永远地受到全世界爱好和平民主的人民的尊敬了。中国人民从此有了屹立于世界和平民主阵营的祖国,有了真能保护自己、代表自己的政府。”该文章评价的是 ( )

- A.解放战争彻底结束 B.中华人民共和国成立  
C.抗美援朝战争获胜 D.十一届三中全会召开

16.右面两幅图片反映的是我国政府创造性地解决历史遗留问题的成功范例。它践行的是 ( )

- A.“一国两制”伟大构想 B.民族区域自治制度  
C.独立自主的和平外交 D.人民代表大会制度



17.每年4月24日是“中国航天日”。1970年在我国航天领域发生的一件大事开创了中国航天事业的新纪元,使我国成为第五个进入太空时代的国家。这件大事是指中国 ( )

- A.第一位航天员完成了太空行走 B.恢复联合国的合法席位  
C.第一颗人造地球卫星发射成功 D.籼型杂交水稻培育成功

18.早期人类文明的一部分产生于适合农业耕作的大河流域,以下属于尼罗河流域地区的文明成果是 ( )

- A.世界上现存的最早的一部较完备的成文法典 B.种姓制度与《一千零一夜》  
C.金字塔、狮身人面像、象形文字以及太阳历 D.奴隶制民主政治达到顶峰

19.下列关于古代欧洲的叙述,符合史实的有 ( )

- ①以希腊罗马文化为基础,4世纪末基督教成为罗马国教  
②中世纪的城市可以有自治权,基本居民是手工业者和商人  
③中世纪乡村的典型组织形式是庄园,里面生活着领主和佃户  
④11世纪时,以土地的封赐为纽带而形成的封建制度已普遍存在  
A.①②③ B.②③④ C.①③④ D.①②③④

20.从早期人类的出现到15世纪末期,人类社会大体经历了原始社会、奴隶社会和封建社会。下列历史事件中是封建社会发生的是 ( )

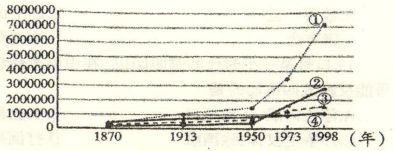
- A.日本推行大化改新 B.亚历山大东征  
C.释迦牟尼创立佛教 D.斯巴达克起义

21.2020年11月7日,约瑟夫·拜登在特拉华州的威明顿发表美国大选胜选演讲时说:“美国是由一个个转折点塑造的,即在最艰难的时刻我们要作出决定,自己是谁、希望成为什么样子。1860年的林肯……1932年的罗斯福……现在,我们再次站到了转折点上。”与演讲中提到的美国总统相关的法律文献是 ( )

- A.《解放黑人奴隶宣言》与《社会保障法》  
B.《宅地法》与《紧急银行法案》  
C.《十二铜表法》与《全国工业复兴法》  
D.《独立宣言》与《人权宣言》

22.右图为“1870年至1998年英国、法国、美国和日本国民生产总值统计示意图”,其中代表日本国民生产总值变化趋势的折线应当是 ( )

- A.① B.② C.③ D.④



23.民族解放运动(National Liberation Movement)是指殖民地半殖民地人民争取民族独立和进行民族解放斗争的历史。下列事件不属于民族解放运动的是 ( )

- A.印度民族大起义 B.埃及的华夫脱运动  
C.纳米比亚独立 D.亚历山大二世改革

24.科技进步推动交通运输工具的发展变化。下列运输设备按出现的先后顺序排列正确的是 ( )

- A.汽船-宇宙飞船-蒸汽机车 B.飞机-宇宙飞船-蒸汽机车  
C.蒸汽机车-飞机-宇宙飞船 D.汽车-蒸汽机车-宇宙飞船

25.在和平与发展的时代主题下,建立公正合理的国际政治经济新秩序是世界人民的共同心愿。自20世纪起世界政治格局曾经历过三次大的发展阶段,按其形成的先后顺序排列应当是 ( )

- A.多极化趋势——凡尔赛—华盛顿体系——两极格局  
B.两极格局——凡尔赛—华盛顿体系——多极化趋势  
C.凡尔赛—华盛顿体系——两极格局——多极化趋势  
D.两极格局——多极化趋势——凡尔赛—华盛顿体系

## 第II卷 (非选择题,共50分)

得分	评卷人	二、非选择题(本大题共4小题,第26题12分,第27题14分,第28题12分,第29题12分,共50分。)

26.(12分)阅读材料,结合所学知识回答问题。

材料一

那次的战争……两方面都有理由。关于鸦片问题,我方力图禁绝,英方则希望维持现状;我攻彼守。关于通商问题,英方力图获得更大的机会和自由,我方则硬要维持现状;彼攻我守。就世界大势论,那次的战争是不可避免的。

——摘编自蒋廷黻著《中国近代史》

(1)根据材料一并结合所学知识,指出“那次的战争”的名称及战争“不可避免”的原因。(4分)

材料二

中国近代与某国签订的不平等条约相关内容	
项目	内容
割地	辽东半岛、台湾全岛及所有附属各岛屿、澎湖列岛
赔款	赔偿该国军费白银2亿两
开埠	沙市、重庆、苏州、杭州
其他	允许该国在通商口岸开设工厂

——摘编自统编版初中历史教材《教师用书》八年级上册


(2)根据所学知识,指出该不平等条约的名称。(2分)



材料三  
……是中国近代史上赔款数目最庞大、主权丧失最严重的平等条约。从此,清政府沦为帝国主义列强统治中国的工具,中国完全陷入半殖民地半封建社会的深渊。  
——摘编自《义务教育教科书中国历史八年级上册》(统编版)

(3)根据所学知识,分别回答材料三所示不平等条约的名称及签订时间。(3分)

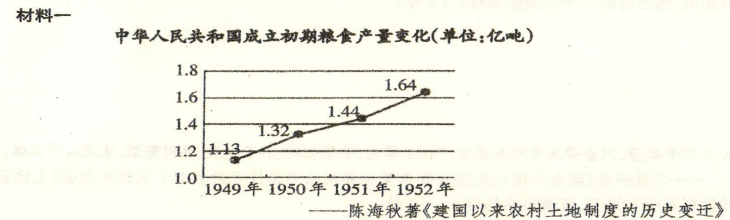
材料四



“我们要深刻铭记中国人民和中华民族为实现民族独立、人民解放和国家富强、人民幸福而奋斗的百年艰辛历程,发扬为人民服务孺子牛、创新发展拓荒牛、艰苦奋斗老黄牛的精神,永远保持不畏艰险、锐意进取的奋斗韧劲,在全面建设社会主义现代化国家新征程上奋勇前进。”  
——2020年12月31日习近平在全国政协新年茶话会上的讲话

(4)综合上述材料及问题,谈谈你的认识。(3分)

27. (14分)阅读材料,结合所学知识回答问题。



(1)根据材料一及所学知识,试从相关农业土地政策的角度分析材料一中变化产生的原因。(4分)

材料二  
右图为1957年中国人民邮政发行的题为《人社》的纪念邮票。  
(2)根据所学知识,说出邮票题目中的“社”是指什么社。(2分)这个“社”的成立与新中国的哪一次重大变革有关?(2分)



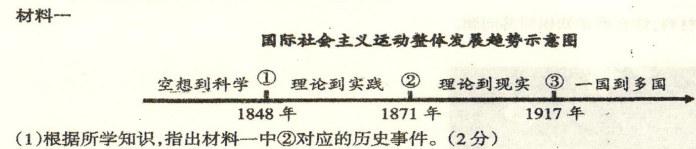
材料三  
邓小平同中央负责工作人员谈农村政策问题时,肯定了安徽省肥西县和凤阳县的包产到户做法。他说:“农村政策放宽以后,一些适宜搞包产到户的地方搞了包产到户,效果很好,变化很快。有的同志担心,这样搞会不会影响集体经济。我看这种担心是不必要的。关键是发展生产力。”  
——摘编自《中国共产党大事记——1980年》

(3)根据所学知识,指出材料中的“包产到户”是指我国农村的哪一项基本经济制度?(2分)根据材料三,指出邓小平肯定该制度的理由。(2分)

材料四  
“历史和现实都告诉我们,农为邦本,本固邦宁。……全面建设社会主义现代化国家,实现中华民族伟大复兴,最艰巨最繁重的任务依然在农村,最广泛最深厚的基础依然在农村。”  
——习近平2020年12月28日至29日在中央农村工作会议上的讲话

(4)综合上述材料及问题,谈谈你对我国农村土地政策不断调整的看法。(2分)

28. (12分)阅读材料,结合所学知识回答问题。



材料二

1921—1929 年世界主要国家工业总产值增长表

国家	苏联	英国	法国	德国	美国	日本
年均增长率	24.3%	17%	9.4%	7.1%	4.3%	3%

(2)根据所学知识,指出推动材料中苏俄(联)这一时期工业总产值快速增长的两个重要原因。(4分)


材料三

毛泽东最伟大的功绩,一方面自然离不开民族独立和中国的现代化,另一方面是他真正把中国的千百万人民动员起来,充分进入国家活动中去,初步建立起社会主义制度。

——<美>费正清著 刘尊棋译《伟大的中国革命 1800—1985》

(3)根据所学知识,指出我国“初步建立起社会主义制度”的时间与标志。(4分)

材料四



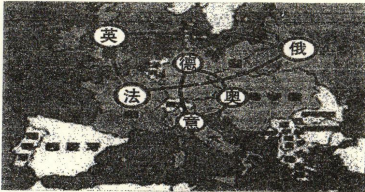
站在“两个一百年”的历史交汇点,全面建设社会主义现代化国家新征程即将开启。征途漫漫,惟有奋斗。我们通过奋斗,披荆斩棘,走过了万水千山。我们还要继续奋斗,勇往直前,创造更加灿烂的辉煌!

——国家主席习近平二〇二一年新年贺词《人民日报》(2021年01月01日01版)

(4)综合上述材料及问题,谈谈你对社会主义建设的感想。(2分)

29. (12分)阅读材料,结合所学知识回答问题。

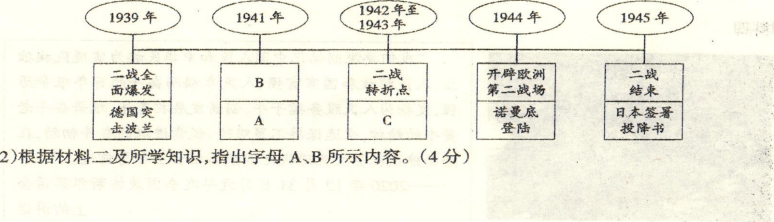
材料一



(1)根据所学知识指出地图中英、法、俄所属的军事集团名称(2分),以及上述两大军事集团的冲突加剧最终引发的战争。(2分)

材料二

第二次世界大战进程示意图



(2)根据材料二及所学知识,指出字母 A、B 所示内容。(4分)

材料三

某机关是联合国下属的六个主要机关之一,由中国、法国、俄罗斯、英国和美国等 5 个常任理事国和 10 个非常任理事国组成。根据《联合国宪章》,该机关具有下列职能和权力:依照联合国的宗旨和原则来维护国际和平与安全、调查可能引起国际摩擦的任何争端或局势、促请各会员国实施经济制裁和除使用武力以外的其他措施以防止或制止侵略、对侵略者采取军事行动等。

——摘编自统编版初中历史教材《教师用书》九年级下册

(3)根据所学知识,指出材料三中机关的名称。(2分)

材料四

“偏见和歧视、仇恨和战争,只会带来灾难和痛苦。相互尊重、平等相处、和平发展、共同繁荣,才是人间正道。”

——习近平在《纪念中国人民抗日战争暨世界反法西斯战争胜利七十五周年大会》上的讲话

(4)综合上述材料及所学知识,谈谈对你的启示。(2分)