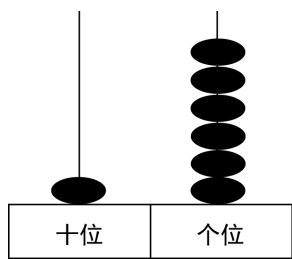



2019~2020学年广东广州荔湾区一年级上学期期末数学 试卷


一、看图填数

(共3分)

1. 看图填数.







二、按顺序填数

(共5分)

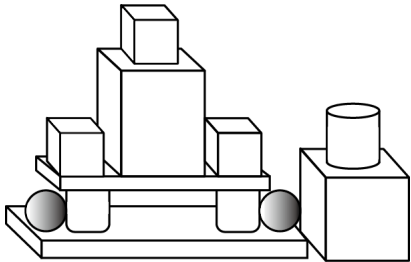
2. 按顺序填数.

20		18			15			12
----	--	----	--	--	----	--	--	----

三、数一数，填一填

(共8分)

3. 数一数，填一填.



长方体有 _____ 个，正方体有 _____ 个，圆柱有 _____ 个，球有 _____ 个.

四、填一填

(共5分)

4. 1个十和7个一合起来是_____。

5. 15的“5”在_____位上，表示_____个_____；“1”在_____位上，表示_____个_____。

五、先写出钟面上表示的时间，再找规律

(共5分)

6. 先写出钟面上表示的时间，再找规律。

(1)




_____ : _____



_____ : _____



_____ : _____



(2) 最后一个钟面的时针应该指向_____, 分针应该指向_____。

六、看图填空

(共4分)

7. 妈妈比我晚睡2小时，妈妈睡觉的时间时_____时，还可以记作_____ : _____。



七、数一数

(共6分)

8.



(1) 从右边起，第3盆花有_____朵花。

(2) 把右边的3盆花圈起来。

(3) 从左边起，第_____盆和第_____盆合起来有8朵花。

八、算一算

(共24分)

9. 算一算.

$5 + 9 =$

$6 + 8 =$

$5 + 7 =$

$17 - 0 =$

$8 - 6 =$

$18 - 3 =$

$7 - 2 =$

$5 + 10 =$

$8 + 7 =$

$7 - 7 =$

$9 + 8 =$

$19 - 4 =$

10. $3 + 9 + 5 =$

$9 + 9 - 4 =$

$16 - 2 + 3 =$

$18 - 8 - 8 =$

$10 - 6 + 9 =$

$5 + 8 + 6 =$

九、在○里填上“>”“<”或“=”

(共12分)

11. 在横线里填上“>”“<”或“=”.

$9 + 7 \text{ ______ } 15$

$8 + 8 \text{ ______ } 16$

$16 - 3 \text{ ______ } 16$

$14 \text{ ______ } 7 + 6$

$8 + 4 \text{ ______ } 4 + 7$

$8 + 3 \text{ ______ } 5 + 6$

十、看图写出一个加法算式和两个减法算式

(共6分)

12. 看图写出一个加法算式和两个减法算式.



$\square + \square = \square$

$\square - \square = \square$

$\square - \square = \square$

十一、算一算

(共6分)

13.




(1) 苗苗的前面有 ____ 人。

(2) 苗苗与昊昊之间有 ____ 人。

十二、看图列式

(共16分)

14.




原来有□只，游走了□只，还剩多少只？

□○□=□ (只)

答：还剩□只。

15.




一共有多少只兔子？

□○□=□ (只)

答：一共有□只兔子。

16. 小猴子吃了5个桃，还剩9个桃。原来一共有多少个桃？



□○□=□ (个) .

答：原来一共有□个桃。

2019~2020学年广东广州荔湾区一年级上学期期末数学 试卷(答案)

一、看图填数

1. 16; 19; 11

二、按顺序填数

2. 19, 17, 16, 14, 13.

三、数一数, 填一填

3. 3; 4; 3; 2

四、填一填

4. 17

5. 个; 5; 1; 十; 1; 十

五、先写出钟面上表示的时间, 再找规律

6. (1) 10; 00; 11; 00; 12; 00

(2) 1; 12


六、看图填空

7. 23; 23; 00

七、数一数

8. (1) 5

(2)



(3) 3; 4

八、算一算

9. 14; 14; 12; 17; 2; 15; 5; 15; 15; 0; 17; 15.

10. 17; 14; 17; 2; 13; 19.

九、在○里填上“>”“<”或“=”

11. $>$; $=$; $<$; $>$; $>$; $=$

十、看图写出一个加法算式和两个减法算式

12. $7 + 3 = 10$; $10 - 7 = 3$; $10 - 3 = 7$.

十一、算一算

13. (1) 4

(2) 5

十二、看图列式

14. 原来有 9 只, 游走了 4 只. $9 - 4 = 5$ (只) .

答: 还剩 5 只.

15. $5 + 6 = 11$ (只) .

答: 一共有 11 只兔子.

16. $5 + 9 = 14$ (个) .

答: 原来一共有 14 个桃.