

华州区 2021 ~ 2022 学年度下学期九年级第一次模拟考试

历史试题

题 号	一	二	三	四	总 分
得 分					

注意事项：

1. 本试卷分为第一部分(选择题)和第二部分(非选择题)。全卷共 6 页,总分 60 分。考试时间 60 分钟。
2. 领到试卷和答题卡后,请用 0.5 毫米黑色墨水签字笔,分别在试卷和答题卡上填写姓名和准考证号,同时用 2B 铅笔在答题卡上填涂对应的试卷类型信息点(A 或 B)。
3. 请在答题卡上各题的指定区域内作答,否则作答无效。
4. 考试结束,本试卷和答题卡一并交回。

第一部分(选择题 共 20 分)

得分	评卷人

一、选择题(本部分共 10 道试题,每题 2 分,计 20 分。每道题只有一个选项符合题意)

1. 他大胆地在旧势力很强的秦国对贵族开刀,取消了他们世代享有的特权,规定按军功给予爵位和田宅奴隶,使秦国国富兵强,为最后统一六国开启道路。文中的“他”是
A. 李斯 B. 管仲 C. 商鞅 D. 李冰
2. 下表反映了历代中央政府对西藏地区的管辖,表格中空白处应填写的是

时期	元朝	清顺治、康熙帝时期	1727 年	1965 年
史实	宣慰使司都元帅府	册封达赖和班禅		建立西藏自治区

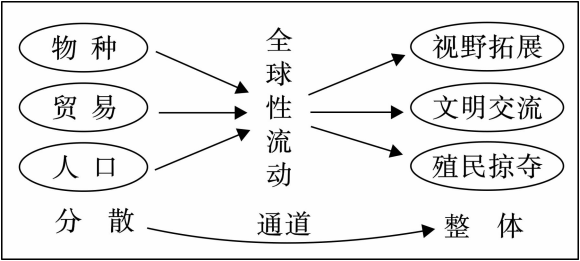
- A. 设置安西都护府 B. 设置驻藏大臣 C. 设置北庭都护府 D. 设置伊犁将军
3. 义和团运动后,英国外交副大臣勃罗叠立克在议会上说:“中国此后仍须以华人治华地,凡有意开通中国之人,应须小心谨慎,团匪之事即可取以为鉴。”下列哪一条约的签订体现了这一主张
A.《南京条约》 B.《北京条约》 C.《马关条约》 D.《辛丑条约》
4. 右图人物是中国近代民主革命的先行者。下列有关他的革命活动的表述正确的有



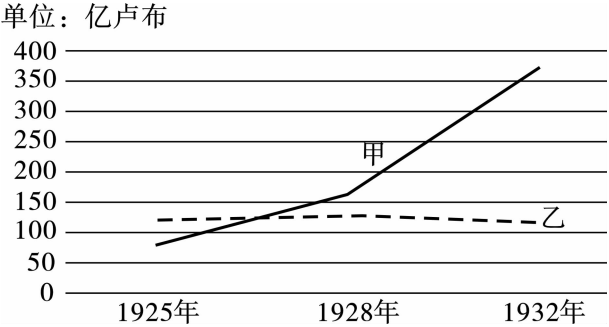
- ①成立兴中会和中国同盟会
- ②颁布《中华民国约法》
- ③阐发了三民主义
- ④创立了中华民国

- A. ①③④ B. ②③④ C. ①②③ D. ①②④

5. 日本认为占领上海使其丧失经济中心的机能,可使中国军队和国民丧失战斗意志,同时直接威胁南京,随后日本于1937年8月向这座城市发起进攻,经过中国军民的英勇抗击,最终
- A. 粉碎了日军“不可战胜”的神话
 - B. 打破了日本3个月灭亡中国的迷梦
 - C. 取得了抗战以来中国正面战场的最大的一场胜仗
 - D. 使日本迅速灭亡中国的既定战略彻底破灭
6. 1953年开始的“一五”计划先后开工1万多个工业项目,集中在钢铁、煤炭、电力、机械制造、交通运输等领域。这样安排的用意在于
- A. 满足日常生活需要
 - B. 完成“两弹一星”的研制
 - C. 夯实工业发展基础
 - D. 便于实施社会主义改造
7. 1964年,这是一次让中国人挺直腰杆的爆炸,是一次符合中国国际地位的爆炸,也是一次更好促使核平衡的爆炸。材料中的“爆炸”指的是中国
- A. 第一颗原子弹爆炸成功
 - B. 第一次发射导弹核武器试验成功
 - C. 第一颗氢弹爆炸成功
 - D. 第一颗人造地球卫星发射成功
8. 德国历史学家雅斯贝斯曾说:“希腊城邦奠定了西方所有自由的意识、自由의思想和自由的现实基础。”据此可知,希腊文明成就中对西方影响最大的是
- A. 古典文化
 - B. 体育竞技
 - C. 科学成就
 - D. 民主政治
9. “点”是具体的历史事实,“线”是历史发展的线索,通过点与点之间的联系理解历史发展的过程。下图反映的重要史实是



- A. 文艺复兴的兴起
 - B. 殖民地人民的反抗
 - C. 工业革命的发展
 - D. 新航路的开辟
10. 下图是1925~1932年苏联经济(工业、农业)数据图。对图中甲、乙线及导致甲、乙线数据变化原因的判断,都正确的是



- A. 甲线是对工业的统计;甲、乙线变化的原因是苏联的工业化和农业集体化
- B. 乙线是对工业的统计;甲、乙线变化的原因是新经济政策和苏联模式
- C. 甲线是对农业的统计;甲、乙线变化的原因是苏联的工业化和农业集体化
- D. 乙线是对农业的统计;甲、乙线变化的原因是战时共产主义政策和苏联模式

第二部分(非选择题 共 40 分)

得分	评卷人

二、填空题(共 5 道试题,每题 2 分,每空 1 分,计 10 分)

11.《秦朝形势图》中①处是_____ ;《元朝疆域图(1330 年)》中②处是_____。



秦朝形势图



元朝疆域图(1330年)

12. _____ (人物)是南北朝的一位杰出科学家,他运用刘徽的方法,把圆周率精确到小数点以后的第七位数字,这项成果领先世界近千年;《天工开物》的作者是_____,该书对我国古代的农业和手工业生产技术进行了全面的总结,记述了中国在当时世界上具有先进水平的科学技术。
13. _____ 年 1 月,中国国民党第一次全国代表大会在广州召开,此次会议的召开标志着国共两党合作的正式建立;_____ 年,中国国民党主席连战率“和平之旅”访问团访问祖国大陆,胡锦涛会见连战一行,此次国共两党最高领导人的会见,促进了两岸关系的新发展。
14. 529 年,法典编纂委员会把自 2 世纪初以来历任罗马皇帝颁布的法令收集在一起,剔除其中相互矛盾的条例,编成_____ (法典);1689 年,英国议会通过的_____ 规定,国王不经议会许可,不能随意废除法律,也不能停止法律的执行,不得征收捐税。
15. 美国南北战争期间,林肯发表了_____,调动了黑人奴隶的积极性,他们踊跃参军作战,扭转了北方军队在战场上的被动局面;为了应对日益严峻的经济大危机,罗斯福一上任,就宣布实施新政,采用_____ 手段来扭转经济形势。

得分	评卷人

三、问答题(以下两道试题,请任选一题作答,如果两题都答按第 16 题计分,计 7 分)

16. (7 分)汉文帝和汉景帝采取了哪些巩固统治的措施? 汉武帝即位后为加强朝廷对社会经济的控制采取了哪些措施? 这些社会经济措施的实施有什么重要作用?


17. (7 分)唐太宗即位后推行了哪些革新措施? 唐玄宗即位后实行了哪些改革? 在唐玄宗统治前期出现了怎样的盛世局面?

得分	评卷人

四、材料解析题(共 2 道试题,计 23 分)

18. (10 分)阅读下列材料,回答问题。

材料一：



图A《井冈山土地法》

规定：“没收一切土地归苏维埃政府所有……以人口为标准，男女老幼平均分配。”

在土地革命时期，中国共产党推行“耕者有其田”的土地政策……抗战爆发以后，为了团结更多的人参加抗战，中国共产党调整了土地政策……正式将减租减息作为抗战时期解决农村问题的基本政策。
——摘编自王建朗、曾景忠著《中国近代通史：抗日战争1937-1945》

图B

中国的土地制度极不合理。占乡村人口不到10%的地主富农，占有约70%至80%的土地。而占乡村人口90%以上的雇农、贫农、中农及其他人民，却总共只有约20%至30%的土地。1947年各个解放区开展了土地改革运动，在中国共产党的领导下，广大农民分得了土地、房屋、粮食和衣物。

图C

材料二：



图A



图B 农民申请加入农业生产合作社



图C 农民领取联产承包责任制合同书

(1)井冈山革命根据地是哪一年开始创建的? 根据材料一图 A 并结合所学知识,指出通过在井冈山进行土地革命和武装斗争中国共产党逐步探索出一条怎样的革命道路? 根据图 B 并结合所学知识,指出抗战爆发后中国共产党实行的土地政策。图 C 中 1947 年各个解放区开展“土地改革运动”的法律依据是什么?(4 分)


(2)图 A《中华人民共和国土地改革法》颁布于哪一年? 从图 A 到图 B 土地所有制经历了怎样的变化? 图 C 中“联产承包责任制”的实行有什么重要作用?(4 分)

(3)综合上述材料并结合所学知识,就中国共产党在不同时期采取的不同政策,谈谈你的认识。(2 分)

19. (13 分)某校九年级(2)班同学以“人类命运共同体”为主题展开探究活动,请你参与。

【休戚相关】


材料一:

 <p>日军占领沈阳</p>	<p>第二次世界大战初期,苏联的失利是诸多因素造成的……临战之前,尽管多次获取德军即将进攻苏联的情报,但苏联领导人依然坚持认为德国在打败英国前不会侵略苏联,因而没有做充分的临战准备;苏联的防御战略思想不当,把主要兵力和军用物资配置在国境线附近,致使前线防线一旦被突破,就很难组织纵深防御……二战全面爆发后,法西斯势力的日益扩大,使美国认定德国是最危险的对手,开始逐步改变对外政策。</p>
---	--

(1)材料一图片反映的历史事件有何影响? 根据材料一文字,指出苏联在第二次世界大战初期失利的原因。(3 分)


【走向联合】

材料二:

	<p>在日本海军偷袭珍珠港后,德、意、日法西斯签订联合作战协定,声称三国“有毫不动摇的决心”,在这场战争“胜利结束前决不放下武器”,并“紧密合作”建立法西斯的“新秩序”。面对法西斯国家的联合行动,加强盟国内部的团结就显得非常重要,这张(见左图)美国的海报就是为此而印制的。</p> <p>——摘编自陈仲丹《墙头政治》</p>
--	--

(2)“日本海军偷袭珍珠港”对第二次世界大战的进程有何影响? 根据材料二并结合所学知识,指出“面对法西斯国家的联合行动”,世界反法西斯国家是如何应对的? 简述第二次世界大战胜利的历史意义。(3 分)


材料三:

 <p>欧盟旗帜</p>	<p>第二次世界大战以后,欧洲小国充当世界大国的时代结束了,欧洲国家失去了往日的辉煌,而且面临着在大国时代生存的危机。为防止美苏两国的威胁,只有实现内部的联合,才能抵御大国对欧洲政治利益的侵犯和掠夺。况且,受到第二次世界大战摧残的欧洲各国,都面临着恢复经济的重要任务……加强合作才能更快地重振欧洲经济……欧洲国家欲通过联合自强,来达到“用一个声音说话”的政治目标,以赢得在国际社会中的话语权。</p> <p>——摘编自郝立英《欧洲一体化进程中的美国因素》</p>
---	---

(3)欧盟是在哪一国际组织的基础上组成的? 根据材料三文字,分析二战后欧洲国家走向联合的原因。(4 分)

【共创未来】

材料四:

 <p>联合国雕塑《破碎的地球》</p>	<p>当今世界殖民主义、霸权主义的老路走不通,不能身在二十一世纪,而脑袋停留在冷战思维、零和博弈的老框框内。推动建设新型国际关系,建构人类命运共同体,就是要秉持相互尊重、公平正义、合作共赢原则,走一条对话而不对抗、结伴而不结盟的国与国交往的新路。</p> <p>——摘编自习近平《新时代中国特色社会主义思想学习纲要》</p>
--	--

(4)联合国是在哪次会议上决定成立的? 根据材料四文字,指出我国推动建设新型国际关系,建构人类命运共同体秉持的原则。综合上述材料并结合所学知识,谈谈如何构建人类命运共同体?(3 分)