

2020—2021学年度下学期
小学一年级数学练习题（中段）
(P2—51页)

一、口算。（10分）

| | | | |
|---------|---------|----------|---------|
| $10+5=$ | $11-3=$ | $14+4=$ | $12-9=$ |
| $27-7=$ | $30+6=$ | $78-70=$ | $80+5=$ |
| $9+9=$ | $16-8=$ | $7+4=$ | $17-9=$ |
| $13-6=$ | $60+3=$ | $15-7=$ | $9+90=$ |
| $20+4=$ | $14-8=$ | $3+30=$ | $92-2=$ |

二、填空。（第1、3、4、6小题各3分，其余每小题2分，共20分）

1. 看图写数、读数。



写作：（ ）

读作：（ ）



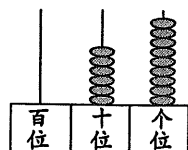
写作：（ ）

读作：（ ）



写作：（ ）

读作：（ ）



2. 把下面的数填在（ ）里。

73 59 78 83 90 61

(1) 最接近80的数是（ ）；最大的数是（ ）。

(2) 与60相邻的两个数是（ ）和（ ）。

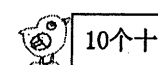
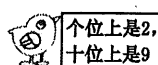
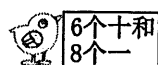
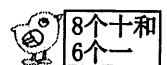
3. 根据百数表，在下面的空格中填上合适的数。

| | |
|----|----|
| | |
| 75 | 76 |

| |
|----|
| 38 |
| 48 |
| |

| | |
|----|----|
| | |
| 81 | 82 |
| 91 | 92 |

4. 小鸡回家。



5. 按要求写数，并比较大小。

(1) 写出两个十位相同，个位不同的两位数。（ ）>（ ）

(2) 写出两个十位不同，个位相同的两位数。（ ）>（ ）

6. 在○里填上“>”、“<”或“=”，在□里填上适当的数。

$40+9 \bigcirc 94$

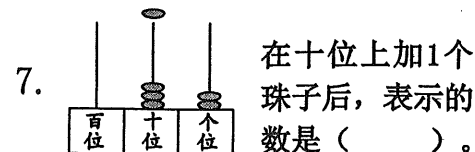
$18-9 \bigcirc 9$

$76-6 \bigcirc 60$

$62 > \square$

$\square > 89$

$30 + \square < 35$



8. 有96支铅笔，每10支装一盒，可以装满（ ）盒，还剩（ ）支。

三、计算。（12分）

1. 在下面的□里填上合适的数。（3分）

$8 + \square = 13$

$\square - 2 = 30$

$\square + 90 = 94$

$47 - \square = 7$

$9 + \square = 89$

$15 - \square = 6$

2. 直接写得数。（9分）

$12-3+8=$

$5+6+8=$

$63-3+7=$


$30+9-30=$

$15-8+80=$

$2+7+90=$

四、分类与整理。（12分）


1. 把水果圈出来。（2分）



2. 美丽的植物世界。（10分）



(1) 分一分，涂一涂。（5分）

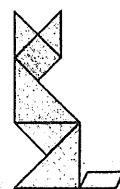
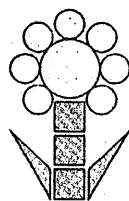
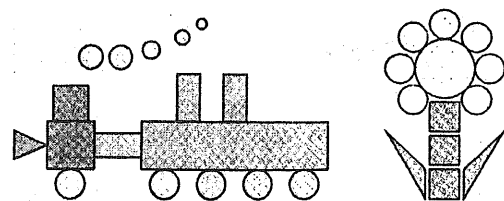


(2) 把结果填在表格中。（5分）

| | | | | | |
|----|--|--|--|--|--|
| | | | | | |
| 数量 | | | | | |


五、认识图形。(9分)

1. 数一数, 填一填。(5分)

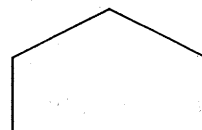


| | |
|--|------|
| | ()个 |
| | ()个 |
| | ()个 |
| | ()个 |
| | ()个 |

2. 在下面的图形中各画一条线, 按要求分一分。(2分)




两个三角形



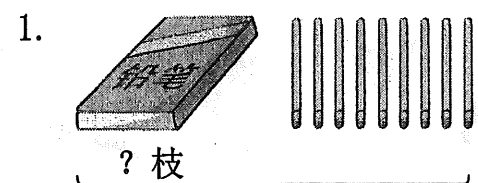
一个三角形和一个长方形

3. 数一数。(2分)




缺了()块

六、看图列式计算。(每小题3分, 共12分)



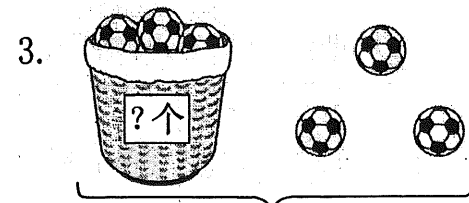
共16枝

$$\square \bigcirc \square = \square \text{ (枝)}$$



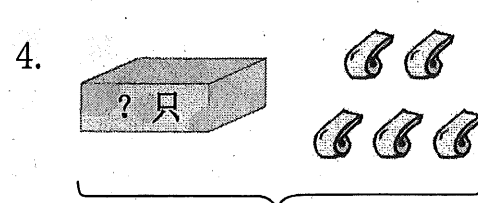
共?个

$$\square \bigcirc \square = \square \text{ (个)}$$



共33个

$$\square \bigcirc \square = \square \text{ (个)}$$




共13只

$$\square \bigcirc \square = \square \text{ (只)}$$

七、我会解决问题。(每小题5分, 共25分)

1.




梨的个数比苹果少得多。

梨可能有多少个? 在你认为合适的答案下面画“√”。

| | | |
|--------------------------|--------------------------|--------------------------|
| 32个 | 69个 | 75个 |
| <input type="checkbox"/> | <input type="checkbox"/> | <input type="checkbox"/> |

2.



小生

小花

小花比小生多摘几个?

$$\square \bigcirc \square = \square \text{ (个)}$$

口答: 小花比小生多摘 个。

3.




藏起来的小朋友有多少个?

$$\square \bigcirc \square = \square \text{ (个)}$$

口答: 藏起来的小朋友有 个。

4.

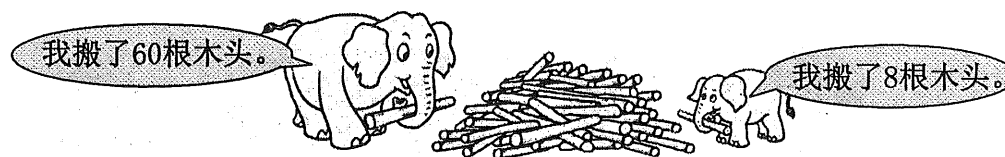


小宁还要折多少个?

$$\square \bigcirc \square = \square \text{ (个)}$$

口答: 小宁还要折 个。

5. 大象和小象一共搬了多少根木头?



$$\square \bigcirc \square = \square \text{ (根)}$$

口答: 大象和小象一共搬了 根木头。