



2020 - 2021 学年度第二学期一年级期中

# 学科素养新评价·数学试卷(北师大版)

本试卷共 4 页,全卷满分 100 分,考试时间 60 分钟。

题号	一	二	三	四	五	六	总分	总分人	核分人
得分									

注意事项:1. 答卷前请将学校、班级、姓名、学籍号填写清楚。

2. 密封线内不得答题。

得分	阅卷人

## 一、填空题。(共 26 分)

1.



( ) 个十和 ( ) 个一是 ( )。



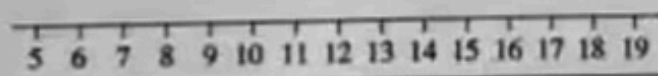
( ) 个十和 ( ) 个一是 ( )。

2. 88 右边的 8 在 ( ) 位上,表示 ( ) 个 ( );左边的 8 在 ( ) 位上,表示 ( ) 个 ( )。

3. 在 32,56,86,23,62 中,小于 50 的数有 ( ),大于 60 的数有 ( )。

4. 画一画,填一填。

$$16 - 8 = \square$$



5. 最大的两位数是 ( ),比 100 小 ( )。

6. 在 ○ 里填“>”“<”“=”。


$$65 \bigcirc 56$$

$$78 \bigcirc 87$$

$$36 \bigcirc 36$$

$$100 \bigcirc 99$$

7. 看一看,填一填。



8. 一个两位数,个位上的数比十位上的数大7,这个两位数可能是( )。(注:填一个即可)

得分	阅卷人

二、判断题。(下面叙述正确的在括号里打“√”,错误的打“×”)(共5分)

1. 68 里面有 6 个十和 8 个一。( )
2. 个位上是 2,十位上是 7 的数是 27。( )
3. 和 60 相邻的两个数是 59 和 61。( )
4. 有四条边的图形就是正方形。( )
5. 97 再添 3 个一,就是 100。( )

得分	阅卷人

三、选择题。(在正确答案右面的□里画“√”。)(共10分)

1. 用★表示10,用▲表示1,比50大的数是( )。



2. 爷爷的年龄比笑笑的年龄( )。

大一些 ☐

大得多 ☐

差不多 ☐

3. 下面的数中,最接近99的数是( )。

89 ☐

90 ☐

100 ☐

4. 物体的面能画出 ☐ 的是( )。



5. 笑笑今天做了30道口算题,淘气做的比笑笑少一些,淘气可能做了( )。

8道 ☐

28道 ☐

31道 ☐

得分	阅卷人

四、计算题。(共29分)

1. 直接写得数。

$8+6=$

$10-9=$

$9+7=$

$17-8=$

$15-7=$

$$\begin{array}{ccccc}
 13-8= & 17-9= & 12-3= & 11-6= & 13-5= \\
 16-9= & 14-5= & 18-9= & 16-7= & 12-4= \\
 15-6= & 12-5= & 13-6= & 14-6= & 16-8=
 \end{array}$$

2. 在( )里填上适当的数。

$$\begin{array}{ccc}
 13-7=( ) & 15-8=( ) & 6+( )=12 \\
 7+( )=14 & ( )-6=6 & 11-( )=7
 \end{array}$$


3. 在○里填“>”“<”“=”。

$$14-7 \bigcirc 15 \qquad 18-8 \bigcirc 10-0 \qquad 16-7 \bigcirc 2+6$$

得分	阅卷人

### 五、操作题。(共10分)

1. 数一数。




□有( )个,  
 □有( )个,  
 ○有( )个,  
 △有( )个。

2. 连一连。

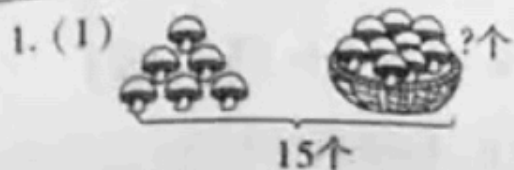


3. 它们沿虚线折出来是什么样子? 连一连。




得分	阅卷人

## 六、解决问题。(共24分)




$$\square \bigcirc \square = \square (\text{个})$$



$$\square \bigcirc \square = \square (\text{个})$$

2. 鸡比鸭多几只?



$$\square \bigcirc \square = \square (\text{只})$$

答: 鸡比鸭多( )只。

3. 每人一顶帽子, 还缺几顶帽子?



$$\square \bigcirc \square = \square (\text{顶})$$

答: 还缺( )顶帽子。

4.



(1) 小兔和小猪一共跳了多少下?

(2) 小猴跳了多少下?