

府谷县 2020 ~ 2021 学年度第二学期期中调研试题

一年级数学

注意事项:

1. 本试卷共 4 页, 满分 100 分, 时间 60 分钟, 学生直接在试题上答卷;
2. 答卷前将装订线内的项目填写清楚;
3. 请监考老师给学生读题。

题号	一	二	三	四	五	总分
得分						

卷首语: 小朋友, 好成绩要从点滴做起, 写好每一个字, 算好每一道题, 只要你点不漏, 认真审查, 今天你就一定能考出好成绩的, 加油啊!

得分	评卷人

yòng xīn sī kǎo zhèng què tián xiě

一、用心思考, 正确填写。(每空 1 分, 共 31 分)


shǔ yì shǔ tián yì tián

1. 数一数, 填一填。



长方形有()个;
正方形有()个;
圆有()个;
三角形有()个。

2.



()个十和()
个一是()。

tián yì tián

3. 填一填。

$$36 < \square$$

$$\square > 59$$

$$\square < 40$$

shǔ yì shǔ

4. 数一数。

(1) 一个一个地数, 从五十六数到六十一: 五十六, (), (), (), (), 六十一。

(2) 十个十个地数, 从三十数到八十: 三十, (), (), (), (), 八十。

àn guī lǜ tián yì tián

5. 按规律填一填。

(1) 35, 40, 45, (), (), 60, (), ()。

(2) 84, (), (), 78, 76, (), 72。

得分	评卷人

fǎn fù bǐ jiào shèn zhòng xuǎn zé

二、反复比较，慎重选择。(将正确答案的序号填在括号里)(每小题1分，共5分)

1. 11比5大()。

① 7

② 6

③ 5


2. 38再添上2是()。


① 40


② 50

③ 60

3. 下面图形中，()的每个面都是正方形。



4. 下面选项中，()是从  的侧面看到的图形。



5. 百位上是1，其它数位上都是0的数是()。

① 10

② 100

③ 1

得分	评卷人

kàn qīng tí mù xì xīn jì suàn

三、看清题目，细心计算。(共20分)

kàn shuí suàn de yòu duì yòu kuài

1. 看谁算得又对又快。(每小题1分，共8分)

$14 - 8 =$

$12 - 9 =$

$15 - 7 =$

$18 - 9 =$

$15 - 6 =$

$16 - 8 =$

$12 - 6 =$

$11 - 4 =$

kàn tú liè shì bìng jì suàn

2. 看图列式并计算。(每小题3分，共12分)

(1) 共有13个。



$\square \bigcirc \square = \square (\text{个})$

(2) 共有11双。



$\square \bigcirc \square = \square (\text{双})$

(3) 共有 12 块。




$$\square \bigcirc \square = \square \text{ (块)}$$

得分	评卷人

dòng shǒu shí jiàn jīng què cāo zuò

四、动手实践,精确操作。(共 24 分)

(4)



用了 9 支



$$\square \bigcirc \square = \square \text{ (支)}$$

- zài kuò hào lǐ tián shàng duō de duō duō yì xiē shǎo yì xiē huò shǎo de duō
1. 在括号里填上“多得多”“多一些”“少一些”或“少得多”。(每空 1 分,共 4 分)



94 筐



26 筐



100 筐



21 筐

- ①号车比②号车装的(), ④号车比③号车装的(), ①号车比③号车装的(), ②号车比④号车装的()。

- xià miàn nǎ fú tú shì xiǎo hóu kàn dào de huà nǎ fú tú shì xiǎo tù kàn dào de huà
2. 下面哪幅图是小猴看到的? 画“√”;哪幅图是小兔看到的? 画“△”。(4 分)



- xià miàn sān fú tú fēn bié shì shuí kàn dào de lián yì lián
3. 下面三幅图分别是谁看到的? 连一连。(6 分)



- qǐng nǐ jiē zhe huà xià qù
4. 请你接着画下去。(每小题 3 分,共 6 分)

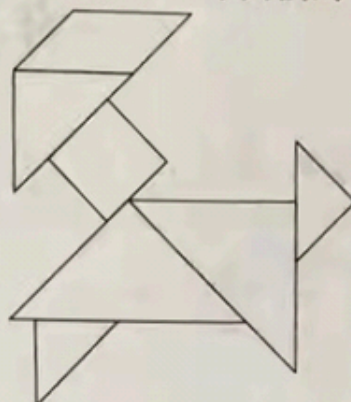
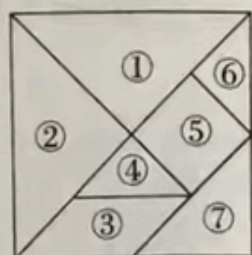
(1) $\square \bigcirc \square \bigcirc \square \bigcirc \square$ _____

(2) $\bigcirc \triangle \triangle \bigcirc \triangle \triangle \bigcirc \triangle$ _____

àn yāo qiú tián yì tián

5. 按要求填一填。(4分)

下面右图是由左图的七巧板拼成的,请在右图中写出每块板的编号。



得分	评卷人

lián xì shí jì jiě jué wèn tí 五、联系实际,解决问题。(共20分)

1. 丽丽和云云一共折了14颗五角星,其中丽丽折了7颗,云云折了多少颗?(4分)

$$\square \bigcirc \square = \square \text{ (颗)}$$

答:云云折了_____颗。

2. 树上原来有17个梨,亮亮摘了8个,还剩多少个?(4分)

$$\square \bigcirc \square = \square \text{ (个)}$$

答:还剩_____个。

3. 同学们收集邮票。明明收集了13张邮票,可可收集了5张邮票,笑笑收集了4张邮票。(每小题4分,共8分)

(1) 明明比可可多收集了多少张邮票?

$$\square \bigcirc \square = \square \text{ (张)}$$

答:明明比可可多收集了_____张邮票。

(2) 笑笑比明明少收集了多少张邮票?

$$\square \bigcirc \square = \square \text{ (张)}$$

答:笑笑比明明少收集了_____张邮票。

4. 每个获奖小朋友一朵小红花,还差多少朵小红花?(4分)

一共有16个小朋友获奖。



我做了9朵小红花。

$$\square \bigcirc \square = \square \text{ (朵)}$$

答:还差_____朵小红花。

一年级数学参考答案及评分标准

一、用心思考,正确填写。(每空1分,共31分)

1. 2 1 8 1

2. 2 4 24 3 5 35 5 3 53

3. (答案不唯一)

37 60 39

4. (1) 五十七 五十八 五十九 六十

(2) 四十 五十 六十 七十

5. (1) 50 55 65 70

(2) 82 80 74

二、反复比较,慎重选择。(将正确答案的序号填在括号里)(每小题1分,共5分)

1. ② 2. ① 3. ③ 4. ① 5. ②

三、看清题目,细心计算。(共20分)

1. (每小题1分,共8分)

6 3 8 9

9 8 6 7

2. (每小题3分,共12分)

(1) $13 - 6 = 7$ (2) $11 - 3 = 8$

(3) $12 - 4 = 8$ (4) $14 - 9 = 5$

四、动手实践,精确操作。(共24分)

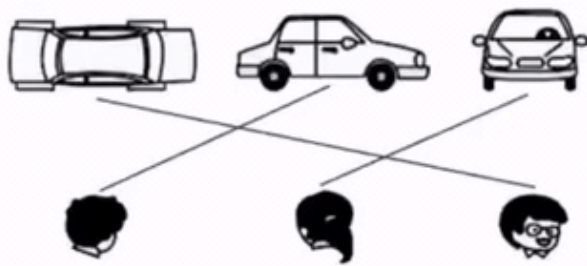
1. (每空1分,共4分)

多得多 少得多 少一些 多一些

2. (画对1个得2分,共4分)



3. (连对1条得2分,共6分)

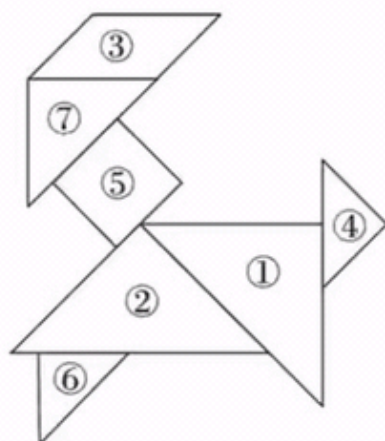


4. (每空1分,每小题3分,共6分)

(1) ○ □ ○

(2) △ ○ △

5. (标对①与②1分,④与⑥1分,③与⑤1分,⑦1分,共4分)(①与②可互换,④与⑥可互换)



五、联系实际,解决问题。(共20分)

1. $14 - 7$ (2分)

$= 7$ (颗) (3分)

答:云云折了7颗。 (4分)

2. $17 - 8$ (2分)

$= 9$ (个) (3分)

答:还剩9个。 (4分)

3. (每小题4分,共8分)

(1) $13 - 5$ (2分)

$= 8$ (张) (3分)

答:明明比可可多收集了8张邮票。 (4分)

(2) $13 - 4$ (2分)

$= 9$ (张) (3分)

答:笑笑比明明少收集了9张邮票。 (4分)

4. $16 - 9$ (2分)

$= 7$ (朵) (3分)

答:还差7朵小红花。 (4分)