

府谷县 2020 ~ 2021 学年度第二学期期中调研试题

# 二年级数学

注意事项:

1. 本试卷共 4 页, 满分 100 分, 时间 60 分钟, 学生直接在试题上答卷;
2. 答卷前将装订线内的项目填写清楚;
3. 请监考老师给学生读题。

题号	一	二	三	四	总分
得分					


卷首语: 小朋友, 好成绩要从点滴做起, 写好每一个字, 算好每一道题, 只要你点滴不漏, 认真审查, 今天你就一定能考出好成绩的, 加油啊!

得分	评卷人

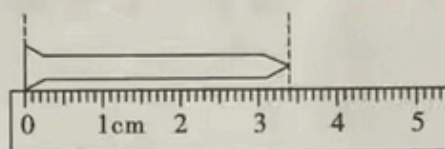
tián yì tián  
一、填 一 填。(每空 1 分, 共 32 分)

kàn tú xiě yì xiě

1. 看 图 写 一 写。



火柴棒长 ( ) 厘米 ( ) 毫米

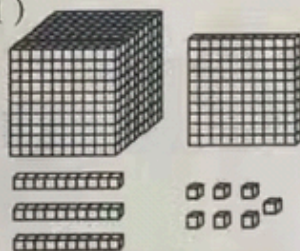


钉子长 ( ) 厘米 ( ) 毫米

xiǎng yi xiǎng tián yi tián

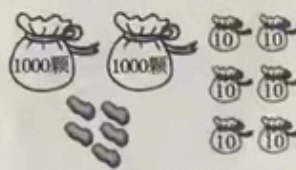
2. 想 一 想 , 填 一 填。

(1)



一共有 ( ) 个。

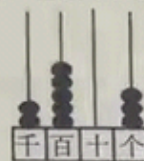
(2)



一共有 ( ) 颗。

(3)

$$2543 = 2000 + 500 + 40 + 3$$



在十位上拨 ( ) 个。

zài kuò hào lǐ tián shàng hé shì de shù

3. 在 括 号 里 填 上 合 适 的 数。

13 厘米 = ( ) 毫米      30 分米 = ( ) 米      50 厘米 = ( ) 分米

210 毫米 = ( ) 厘米      4000 米 = ( ) 千米      6 千米 = ( ) 米

4. (1) 府谷县河流较多, 其中长 1 千米以上的沟道有一千二百四十五条, 横线上的数写作 ( ), 它是由 ( ) 个千, ( ) 个百, ( ) 个十和 ( ) 个一组成。

(2) 世界上海拔最高的山峰是珠穆朗玛峰, 海拔约 8844 米, 横线的数读作 ( ), 左边的 8 表示 8 个 ( ), 右边的 8 表示 8 个 ( )。

5. 找规律, 填一填。

(1) 452、( )、472、482、( )、( )。

(2) 6731、6631、( )、( )、6331、( )。

6. 用 4、3、0、8 组成最大的四位数是( ), 组成最小的四位数是( ), 组成最接近 4000 的数是( ), 组成最接近 8000 的数是( ), 组成大于 8000, 小于 8400 的数有( )个。

得分	评卷人

zuò yì zuò  
二、做一做。(共 30 分)

lián yì lián  
1. 连一连。(5 分)



洗衣机  
高约 8




中国象棋棋  
盘厚 15



飞机每小时飞行  
约 800



小女孩  
身高 115



旗杆高  
约 15

厘米

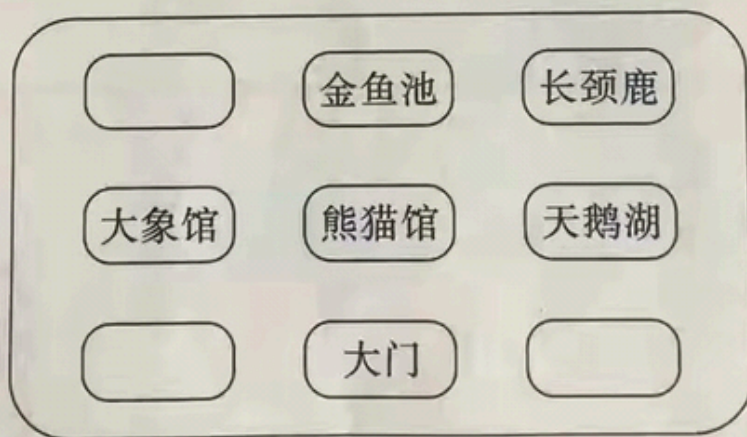
分米

米

千米

毫米

yóu dòng wù yuán  
2. 游动物园。(共 11 分)



北  
↑

(1) 大门在熊猫馆的( )面; 金鱼池在长颈鹿的( )面, 在天鹅湖的( )方向; 熊猫馆在大象馆的( )面; 天鹅湖在大门的( )方向。(5 分)

(2) 根据下面的信息完成动物园示意图。(6 分)

狮山在大象馆的北面, 孔雀屋在熊猫馆的东南方向, 猴山在熊猫馆的西南方向。

3. 估一估。(每小题2分,共4分)

(1)这个大桶大约能盛( )个乒乓球。(填序号)



这个小桶能盛30个乒乓球。



① 20

② 30

③ 60

(2)想一想杏树有多少棵?画“√”。



梨树: 2000棵



苹果树: 3000棵



杏树比梨树多,比苹果树少,接近2600棵。

3001 ☐

2585 ☐

2990 ☐

tián yì tián bǐ yì bǐ

4. 填一填,比一比。(共10分)

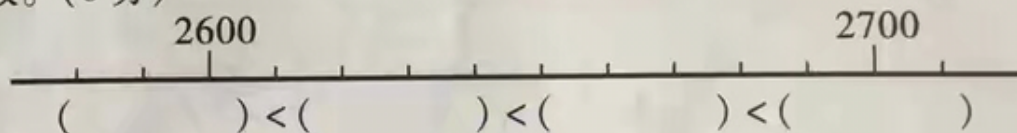
快递员3月送快递件数记录表

小李	小赵	小张	小王
2680 件	3147 件	2683 件	999 件

(1)( )送的快递件数最少,有( )件。(2分)

(2)( )送的快递件数最多,有( )件。(2分)

(3)在数线上表示出2680的位置,再按从小到大的顺序排列四个快递员送的快递件数。(6分)



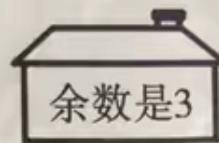
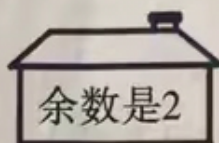

得分	评卷人

suàn yì suàn

三、算一算。(共14分)

gē zi sòng xìn lián yì lián

1. 鸽子送信,连一连。(6分)



2. 用竖式计算。(8分)

$27 \div 3 =$

$35 \div 8 =$

$66 \div 9 =$

得分	评卷人

jiě yì jiě  
四、解一解。(共24分)

1. 课间休息,二(1)班的45名同学玩“老鹰捉小鸡”的游戏,每9人一组,可以分成几组?(4分)



2. 装蝴蝶标本。(每小题5分,共10分)



(1)24个蝴蝶标本,如果有7个盒子,平均每个盒子装几个,还剩几个?

(2)24个蝴蝶标本,如果每个盒子装5个,可以装几个盒子,还剩几个蝴蝶标本?

3. 母亲节到了,红红准备用自己的零花钱给妈妈买花,每枝花3元,她有26元,最多能买几枝花?(5分)



4. 一本《少儿百科全书》39元,小琳每周存7元钱,她至少要存几周才能买到这本? (5分)



39元

## 二年级数学参考答案及评分标准

### 一、填一填。(每空1分,共32分)

1. 4 9      3 4

2. (1)1137      (2)2065      (3)4

3. 130      3      5

21      4      6000

4. (1)1245      1      2      4      5

(2)八千八百四十四      千      百

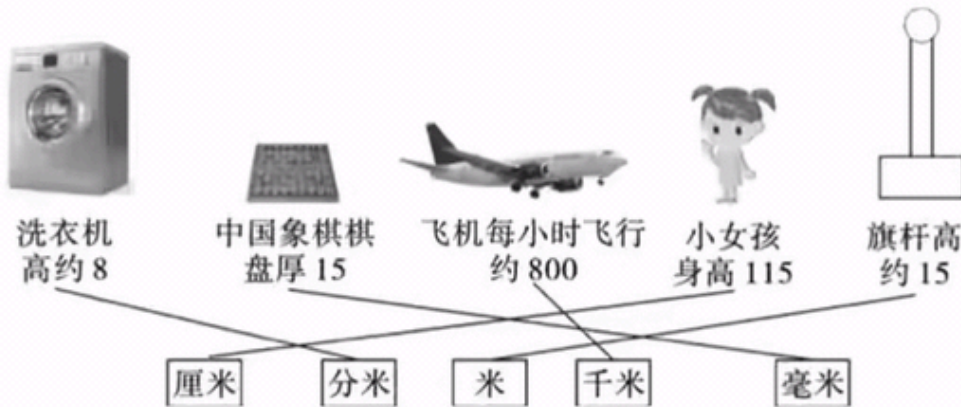
5. (1)462      492      502

(2)6531      6431      6231

6. 8430      3048      4038      8034      4

### 二、做一做。(共30分)

1. 连对1条得1分,共5分



2. (1)每空1分,共5分

南      西      西北      东      东北

(2)标对1个得2分,共6分



3. 每小题2分,共4分


(1)③

(2) 3001 ☐ 2585 ☒ 2990 ☐

4. (1) 小王(1分) 999 (1分)

(2) 小赵(1分) 3147 (1分)

(3) 标对得2分,每空1分,共6分



### 三、算一算。(共14分)

1. 连对1条得1分,共6分



2. 能整除的每小题2分,不能整除的每小题3分,共8分

9 4.....3 7.....3

### 四、解一解。(共24分)

(单位不写或错写扣0.5分/个,答语不完整扣0.5分/个)

1.  $45 \div 9$  ..... (2分)

$= 5(\text{组})$  ..... (3分)

答:可以分成5组。 ..... (4分)

2. (1)  $24 \div 7$  ..... (2分)

$= 3(\text{个}) \cdots \cdots 3(\text{个})$  ..... (4分)

答:平均每个盒子装3个,还剩3个。 ..... (5分)

(2)  $24 \div 5$  ..... (2分)

$= 4(\text{个}) \cdots \cdots 4(\text{个})$  ..... (4分)

答:可以装4个盒子,还剩4个蝴蝶标本。 ..... (5分)

3.  $26 \div 3$  ..... (2分)

$= 8(\text{枝}) \cdots \cdots 2(\text{元})$  ..... (4分)

答:最多能买8枝花。 ..... (5分)

4.  $39 \div 7$  ..... (2分)

$= 5(\text{周}) \cdots \cdots 4(\text{元})$  ..... (4分)

$5 + 1 = 6(\text{周})$

答:她至少要存6周才能买到这本书。 ..... (5分)