

2020-2021 学年第二学期小学二年级期中综合练习卷

数 学

2021.4

成绩

(考试时间: 50 分钟; 满分: 100 分)

一、直接写出得数。(12 分)

$$\begin{array}{llll} 4 \div 1 = & 70 - 51 = & 9 \div 3 = & 40 \div 8 = \\ 25 + 5 = & 5 \div 5 = & 49 \div 7 = & 36 \div 6 = \\ 63 \div 9 = & 56 \div 7 = & 17 - 9 = & 54 \div 6 = \end{array}$$

二、脱式计算。(18 分)

$$13 + 7 \times 6 \quad 96 - 36 + 45 \quad 45 \div (4 + 1)$$

$$6 + 24 \div 3 \quad (6 + 21) \div 3 \quad 8 \times (28 \div 7)$$

三、填空题。(14 分)

1. 把 $\nabla \nabla$ 平均分成 3 份, 每份 () 个 ∇ 。

2. 根据右图运算顺序列综合算式: ()。

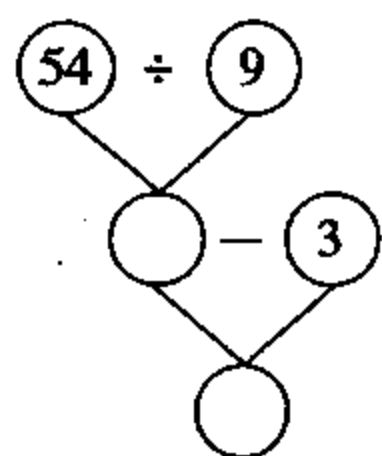
3. 在下面的 \bigcirc 里填 “+” “-” “ \times ” 或 “ \div ”。

$$27 \bigcirc 3 = 9 \quad 27 \bigcirc 3 = 30 \quad 27 \bigcirc 3 = 4 \bigcirc 6$$

4. 在 \bigcirc 里填上 “>” “<” 或 “=”。

$$3 \times 4 \bigcirc 3 + 4 \quad 52 - 17 - 13 \bigcirc 52 - (17 + 13)$$

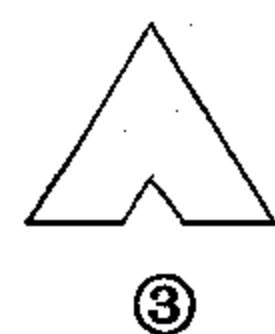
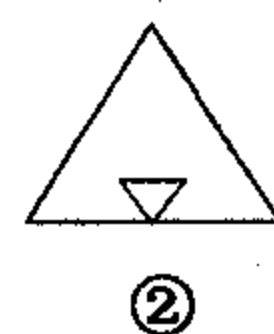
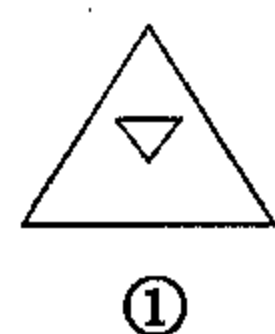
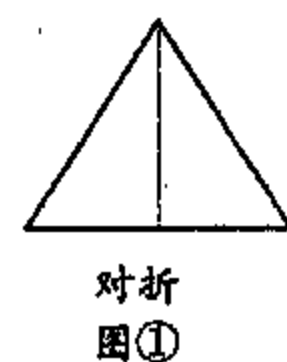
$$4 + 5 \times 6 \bigcirc (4 + 5) \times 6$$




5. 算式 $8 \times 7 - 5$ 的结果是 (), 要使结果是 16, 原式应加上小括号变为 ()。
6. 有 48 颗草莓, 每次取 6 颗, 连续取 () 次, 能取完。
7. 猜一猜, $\triangle \div 5 = 7$, \triangle 代表 (); $42 \div \square = 7$, \square 表示 ()。

四、选择题。(14 分)

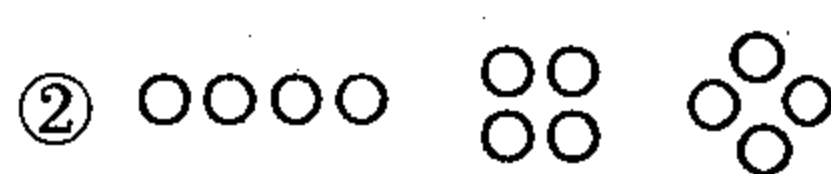
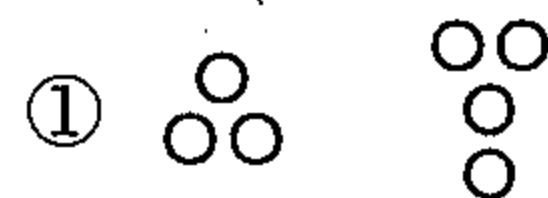
1. 45 颗苹果, 每人分 5 个, 可以分多少人? 下列算式正确的是 ()。
- ① $45 - 5 = 40$ ② $45 + 5 = 50$ ③ $45 \div 5 = 9$
2. 下列算式中, 得数与另外两个算式不同的是 ()。
- ① $61 - 23 - 17$ ② $61 - (23 - 17)$ ③ $61 - (23 + 17)$
3. 下面不属于旋转现象的是 ()。
- ① 旋转木马 ② 投篮球 ③ 钟面指针的运动
4. 把一张三角形纸片先按图①所示的方式对折, 再按图②所示的方式剪去一个小三角形, 剩余的纸片展开后所得到的图形是 ()。



5. 下面不是轴对称图形的是 ()。



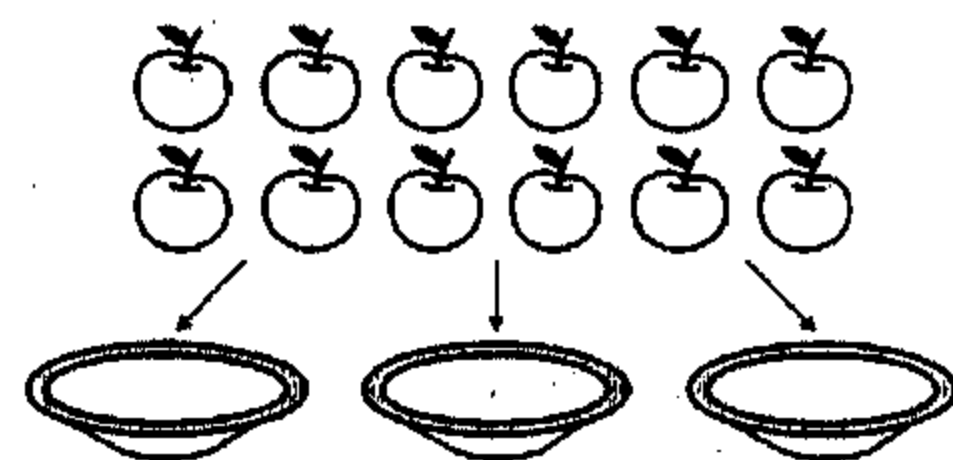
6. 下面是平均分的是 ()。



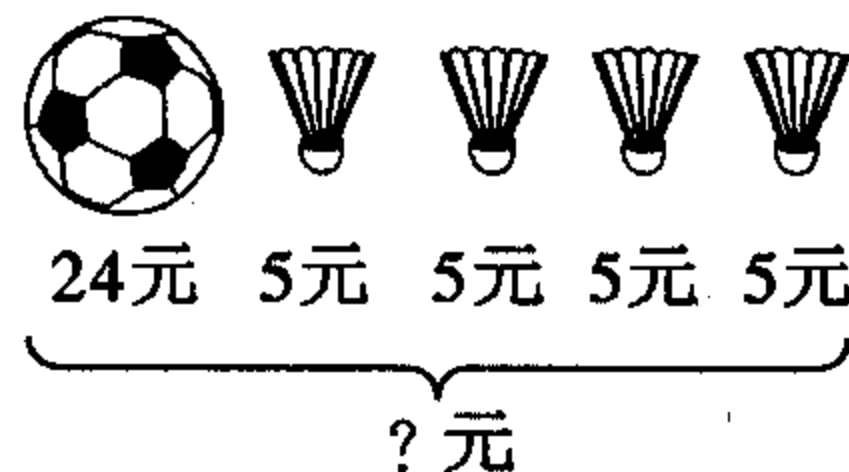
7. 李阿姨家养了 6 只黑兔和 9 只白兔, 关在 3 个笼子里。小华列式 $(6 + 9) \div 3$ 是为了求 ()。
- ① 平均每个笼子里关几只黑兔?
- ② 平均每个笼子里关几只白兔?
- ③ 平均每个笼子里关几只兔子?

五、操作题。(6+7=13 分)

1. 看图列式并计算。




$$\square \bigcirc \square = \square \text{ (个)}$$



$$\square \bigcirc \square \bigcirc \square = \square \text{ (元)}$$

2. 下面是二(1)班学生用写“正”字的方法调查同学们最喜欢的水果情况。



①根据上面的统计填写下表：

水果				
人数				

②最喜欢 () 的人数最多，最喜欢 () 的人数最少。

③最喜欢苹果的比最喜欢葡萄的多 () 人。

六、解决问题。(6+8+5+5+5=29 分)

1. (1) 24 枝花平均插在 3 个花瓶里，每个花瓶插几枝花？
(2) 36 枝花，每个花瓶里插 4 枝，需要几个花瓶？

口答：每个花瓶插 () 枝花。

口答：需要 () 个花瓶。

2.

	足球		网球		皮球
48 元		9 元		6 元	

(1) 买一个足球的钱够买几个皮球？

口答：买一个足球的钱够买 () 个皮球。

(2) 买 4 个网球的钱够买多少个皮球？

口答：买 4 个网球的钱够买 () 个皮球。


3. 饼干原价 10 元一包，现在促销，3 包 24 元。现在平均每包的价钱比原价便宜多少钱？

口答：现在平均每包的价钱比原价便宜 () 元。

4. 小明看一本 81 页的书，每天看 9 页，已经看了 36 页，剩下的书还要几天看完？

口答：剩下的书还要看 () 天。

5. 小兔们一共拔了 48 根萝卜。



口答：还剩 () 根萝卜。