

# 人教版数学二年级期中卷

## 一、填空题

1.  $20 \div 4 = (\quad)$ ，口诀：  $(\quad)$ ，被除数是  $(\quad)$ ，除数是  $(\quad)$ ，商是  $(\quad)$ 。表示把  $(\quad)$  平均分成  $(\quad)$  份，每份是  $(\quad)$ 。

2. 请在  $\bigcirc$  里填上“+”“-”“ $\times$ ”或“ $\div$ ”。

$$8 \bigcirc 2 = 6$$

$$9 \bigcirc 3 = 3$$

$$6 \bigcirc 6 = 36$$

$$6 \bigcirc 4 = 10$$

$$18 \bigcirc 2 = 9$$

$$35 \bigcirc 7 = 5$$

$$25 \bigcirc 5 = 5$$

$$18 \bigcirc 6 = 12$$

3. 请在  $\square$  里填上适合的数。

$$4 \times \square = 28 \quad \square \times 6 = 42$$

$$56 \div \square = 7 \quad 5 \times \square = 20$$

4. 有 27 根相同的小棒，每 3 根摆一个  $\triangle$ ，可以摆  $(\quad)$  个  $\triangle$ 。

5.  $36 \div 4$  和  $36 \div 9$  都可以用乘法口诀  $(\quad)$  来计算。

6. 将下列算式按得数的大小填在合适的  $(\quad)$  里。

$$35 \div 5 \quad 36 \div 6 \quad 4 \times 8 \quad 40 \div 8 \quad 63 \div 7$$

$$(\quad) > (\quad) > (\quad) > (\quad) > (\quad)$$

7. 在  $\bigcirc$  里填上“ $>$ ”、“ $<$ ”或“ $=$ ”。

$$16 \div 4 \bigcirc 12 \quad 48 \div 8 \bigcirc 45 \div 9 \quad 24 \div 8 \times 6 \bigcirc 24 \div 6 \times 9$$

$$2 \div 2 \bigcirc 4 \quad 36 \div 4 \bigcirc 42 \div 6 \quad 2 \times 6 \div 3 \bigcirc 25 \div 5 \times 3$$

8.  $12 \div 6$  读作  $(\quad)$ 。

① 12 除 6

② 12 除以 6

③ 6 除以 12

9.下面图形中，（ ）属于平移现象。



10.下列图形不是轴对称图形的是（ ）




11.36个苹果，4个4个地分，分（ ）次正好分完。

- ①32
- ②9
- ③8

二、连线题

12.下面的哪些图形可以通过平移互相重合？连一连。



三、判断题

13.我是小法官。（对的打“√”，错的打“×”）

- 1.32÷8=4读作32除以4等于8。（ ）
- 2.拉抽屉属于旋转现象。（ ）
- 3.把35支铅笔平均分给7名小朋友，每名小朋友分得5支。（ ）
- 4.计算7×8和56÷7用同一句乘法口诀。（ ）



四、解答题

14.小兔灰灰对小兔蓝蓝说：“哥哥，我拔了8根萝卜。”小兔蓝蓝说：“爸爸、妈妈和我都拔了9根萝卜。”问小兔一家人一共拔了多少根萝卜？

15.



(1) 买一个  的钱可以买多少个  ?

(2) 买4个  的钱可以买多少个  ?

16.  $35+14\div7$ ，先算（ ）。

- ①加法
- ②减法
- ③除法

17.直接写出得数。

$16\div4=$      $86-35=$      $20\div5=$      $36\div9=$   
 $35\div5=$      $15\div5=$      $7\times8=$      $35+55=$   
 $27\div9=$      $70-25=$      $5\div5=$      $17-9=$

18.脱式计算。

$72\div(52-44)$      $7\times8-15$      $25+9\times6$   
 $19-18\div6$      $81\div9\times7$      $64\div(4\times2)$

19.调查二（2）班学生喜欢的课外书，结果如图所示。

《格林童话》	□□□□□□□□□□
《十万个为什么》	○○○○○○○○○○○○○○○○○○
《故事大王》	√√√√√√√√
《蓝猫淘气三千问》	△△△△△△△△△△△△


1. 根据上面的统计图，填写统计表。

《格林童话》	《十万个为什么》	《故事大王》	《蓝猫淘气三千问》

2. 一共测查了（ ）名同学。

3. 喜欢（ ）的人数最多，喜欢（ ）的人数最少。

20. 小松鼠采了一些松果，一共有多少颗？如果把这些松果平均装到3个篮子里，每个篮子装几颗？



21.

