



平凉市铁路小学 2020-2021 学年度第二学期中期学业水平测试卷

二年级 数学


一、填空题。(每空 1 分, 共 21 分)


- $36 \div 4 = 9$, 这个算式读作 (), 其中除数是 (), 商是 ()。
 - $8 + 22 = 30$, $54 - 30 = 24$, 把这两道算式改写成一道综合算式应该是 ()。
 - 把 24 个面包平均分成 3 份, 每份有 () 个面包。
 - 计算 $54 \div 9 = ()$ 时, 用到的乘法口诀是 ()。
 - 根据七七四十九写出一道乘法算式和一道除法算式 ()、()。
 - 风扇转动是 () 现象, 推拉抽屉是 () 现象。
 - 将下列算式填在合适的 () 里。
 $35 \div 7$ $42 \div 6$ 7×7 $72 \div 8$ $36 \div 6$
 () $>$ () $>$ () $>$ () $>$ ()
 - $85 - 45 \div 5 = ()$, 如果要改变运算顺序, 添上括号后的算式是 ()
 - 
- 一共有 () 个 , 每 3 个分一份, 可以分 () 份。

二、判断题。(5 分)

- 计算 $35 - (23 - 12)$ 时, 先算 $23 - 12$ 。 ()
- $12 \div 4 = 3$, 这道算式表示把 12 分成 4 份, 每份是 3。 ()
- 荡秋千是平移现象。 ()
- 计算 7×8 和 $56 \div 7$ 用同一句乘法口诀。 ()
- $20 - 10 \div 5$ 和 $(20 - 10) \div 5$ 得数相等 ()

三、选择题。(5 分)

- 下面图形 () 通过平移可以和  重合。



考号

姓名

班级

学校

装
订
线

2. $96-32+28=$ _____, 正确答案是 ()。

- ① 29 ② 60 ③ 92

3. $36+28$ ○ 6×9 比较大, ○ 内应填 ()。

- ① < ② > ③ =

4. $12\div 4$ 读作: ()

- ① 12 除 4 ② 12 除以 4 ③ 4 除以 12

5. 二年级买来科技书 18 本, 故事书 24 本。把这些书平均分给二年级六个班, 平均每个班分多少本? 下面列式正确的是 ()。

- ① $18+24$ ② $(18+24)\div 6$ ③ $18+24\div 6$

四、计算部分。(38 分)

1. 直接写得数。(6 分)

$54\div 9=$ $5\times 8=$ $54+6=$ $7\div 7=$

$64-8=$ $7\times 3=$ $32\div 8=$ $36\div 6=$

$16\div 2=$ $1\times 1=$ $63-7=$ $3\times 8=$

2. 脱式计算。(12 分)

$3\times 9+23$

$9\times 2\div 6$

$80-45\div 5$

=

=

=

=

=

=

$64\div 8\times 4$

$9\div (63\div 7)$

$4\times (9\div 3)$

=

=

=

=

=

=

3. 在 () 里填上 “+” “-” “ \times ” 或 “ \div ”。(8 分)

$5() 6=30$

$7() 7=0$

$5() 2=10$

$4() 3=12$

$6() 6=12$

$6() 6=36$

$60() 6=54$

$8() 8=1$

4. 在 ○ 里填上 “>” “<” 或 “=”。(6 分)

$35\div 5\times 4$ ○ $4\times 6\div 3$

$4\times 9\div 6$ ○ $8\div 4\times 3$

$3\times 8\div 4$ ○ $8\times 9-65$

$72\div 8\times 5$ ○ $36\div 4\times 6$

$40\div 8\times 5$ ○ $21\div 7\times 8$

$9\times 6+4$ ○ $8\times 8-8$

5. 列式计算。(8 分)

1) 两个 9 的积减去 25, 差是多少?

2) 9 乘 45 与 38 的差, 积是多少?

3) 68 和 28 的差除以 5, 商是多少?

4) 27 加上 6 与 8 的积, 和是多少?

五、动手操作。(4 分)


下列图形中是轴对称图形的在括号里画“√”。



()



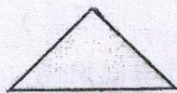
()



()



()



()



()



()



()

六、统计全班喜欢动画片的人数。(5 分)

《猫和老鼠》

《喜洋洋与灰太狼》

《哪吒闹海》

正正正一

正正正T

正正T

1. 把上面的统计结果填入下表。(3 分)

动画片	《猫和老鼠》	《喜洋洋与灰太狼》	《哪吒闹海》
人数			

2. 填一填。(2 分)


(1) 喜欢《喜洋洋与灰太狼》的人数比喜欢《哪吒闹海》的多()人。

(2) 同学们最喜欢的动画片是()。

七、解决问题。(22 分)

1. 一根 35 厘米的彩带, 每 7 厘米剪一段, 可以剪成几段? (3 分)



2. 平均分给 5 只 ，每只小兔能分得几个萝卜？（3 分）

3. 24 人一起吃饭，每人一个饭碗，每 3 人一个菜碗，需要多少个菜碗？饭碗和菜碗一共需要多少个？（5 分）

3. 二年级（1）班第一小组有男生 6 人，女生 7 人。男生共做了 12 朵纸花，女生每人做了 3 朵纸花，第一小组一共做了多少朵纸花？（5 分）

4. 公园的门票价格如下：

成人：每人 8 元 儿童：每人 4 元

(1) 妈妈带明明和他的 3 个小伙伴到公园，共需多少钱？（3 分）

(2) 小华拿 50 元钱买了 8 张儿童票，应该找回多少钱？（3 分）