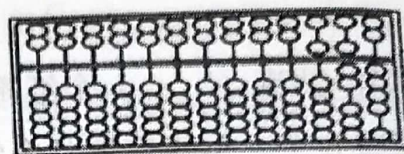
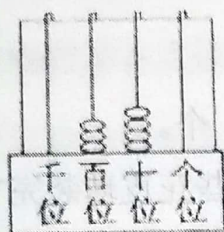


二年级数学试题

一、我能用心填一填。（每空 1 分，共 28 分）

1. 写出下面各数。



()

()

2. 九百八十九写作 ()，与它相邻的两个数分别是 () 和 ()。

3. 由 7 个百和 5 个一组成的数是 ()。

4. 算式 $\square \div 6 = 5 \cdots \bigcirc$ 中， \bigcirc 里可以填的数有 ()，最大能填 ()，最小能填 ()。

5. 在 () 里填上适当的单位。

一本字典厚约 5 () 课桌高约 7 () 旗杆高 8 ()

一个乒乓球重约 5 () 聪聪体重 35 () 1 袋盐重 400 ()

6. 5000 克 = () 千克 3 米 = () 厘米 50 分米 = () 米

7. 四边形有 () 条边、() 个角，我们学过的 ()、() 和 () 都是四边形。

8. 按规律填数。

(1) 320、330、()、350、()。

(2) 650、649、()、647、()。

9. $21 \div 5 = 4 \cdots 1$ 读作：()。

二、判断题。（对的打“√”错的打“×”每小题 2 分，共 10 分。）

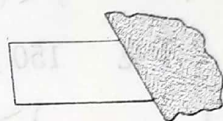
1. 两个完全一样的正方形能拼成一个长方形。()



2. 286 和 528 两个数中的 2 表示的意义完全一样。 ()
3. 读数和写数都要从高位起。 ()
4. 七巧板是由 7 种图形组成的。 ()
5. 1000 克的铁和 1 千克的棉花同样重。 ()

三、选择题。(把正确答案的序号填在括号里。每小题 2 分，共 10 分。)

1. 下面说法正确的是 ()。
- A. 算盘上，一个上珠表示 1，一个下珠表示 5
- B. 最小的三位数是 101，最大的三位数是 999
- C. 把一个长方形拉成一个平行四边形以后，四条边的长不变。
2. 右图中的图形被挡住了一部分，这个图形可能是 ()
- A. 长方形 B. 正方形 C. 三角形
3. 果园里有 120 棵桃树，杏树的棵数比桃树少一些，杏树大约有 () 棵，苹果树比桃树多得多，苹果树大约有 () 棵。



- A. 115 B. 360 C. 152
4. 用 2、0、9 三张不同的卡片组成最大的三位数是 ()。
- A. 290 B. 902 C. 920

5. 求李阿姨用 20 元钱能买几瓶如图所示的饮料，竖式中圈住的这一步是在计算 ()。

$$\begin{array}{r} 6 \\ 3 \overline{) 20} \\ \underline{18} \\ 2 \end{array}$$



每瓶 3 元

- A. 能买几瓶这样的饮料 B. 还剩几元钱 C. 买 6 瓶饮料花多少元钱

四、竖式计算。(共 12 分)

$$70 \div 8 =$$

$$21 \div 5 =$$

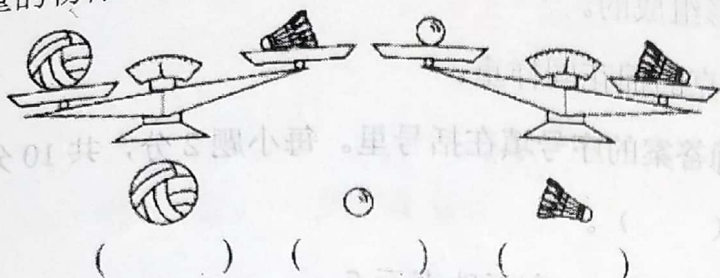
$$35 \div 6 =$$

$$48 \div 8 =$$



五、按要求完成下列各题。(共 16 分)

1. 在最重的物体下面画“△”，最轻的物体下面画“○”。(4分)



2. 排序。(4分)

1000 360 630 985


() < () < () < ()

2 千克 150 克 900 克 1 千克 500 克

() > () > () > ()

3. 画一条 5 厘米长的线段。(2分)

4. 在下面的方格纸上画一个长方形和一个平行四边形。(6分)



六、解决生活中的问题。(1 题 4 分, 2 (1) (2) 3.4 题 5 分, 共 24 分)

1. 一本故事书厚 2 厘米, 8 本同样的故事书摞 (luò) 起来有多厚?

口答: 8 本同样的故事书摞起来有 () 厘米。



2. 放学后，幼儿园李老师要把 43 个花皮球装到纸箱中。

(1) 如果每箱装 8 个，最多能装满几个纸箱？还剩多少个？

口答：最多能装满 () 个纸箱，还剩 () 个。

(2) 如果每箱装 6 个，至少需要几个纸箱，才能把这些花皮球装完？

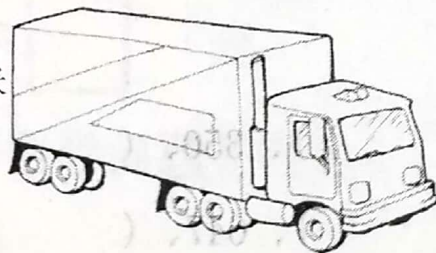
口答：至少需要 () 个纸箱才能把这些花皮球装完。

3. 红红的体重是 35 千克，亮亮比他重 6 千克，亮亮有多重？

口答：亮亮重 () 千克。

4. 这辆汽车能从限高 3 米的桥洞内通过吗？说说理由。

高 299 厘米



限高标志

