

一年级数学试题

本套试卷总分100分（含卷面书写5分），考试时间40分钟。

题号	一	二	三	四	五	卷面书写	总分
得分							

监考老师请注意：教师读一题，学生做一题。

一、我会认真填一填。（每空1分，共23分）

1. 认真观察图画：


(1) 从左数，橡皮是第（ ）个，

从右数，橡皮是第（ ）个。

(2) 女生在男生的（ ）边。



2. 看钟表，连一连。



4时30分

6时

1时

9时刚过

3. 大于27小于34的数有（ ）

4. 72里面有（ ）个十和（ ）个一。

5. 53的个位上是（ ），十位上是（ ）。

6. 找出每行数的规律，并按规律接着写出三个数。

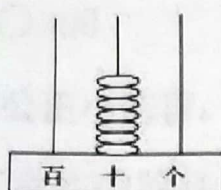
(1) 2, 4, 6, 8, 10, 12, (), (), ()

(2) 95, 85, 75, 65, (), (), ()

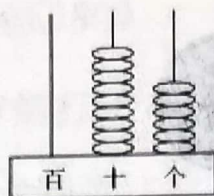
7. 在○里填上>或<。 86○78 43○50



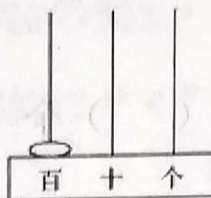
8. 写出计数器上表示的数。



()



()



()

二、我是计算小能手。(22分)

1. 直接写得数。(10分)

$18 - 9 =$

$22 + 4 =$

$47 + 3 =$

$54 - 30 =$

$50 - 40 =$

$78 - 6 =$

$67 - 7 =$

$12 + 9 =$

$20 + 60 =$

$72 - 20 =$

2. 竖式计算。(12分)

$33 + 6 =$


$44 - 8 =$

$56 + 4 =$

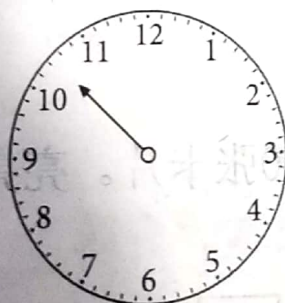
$82 - 5 =$

三、我是动手小行家。(12分)

1. 画时针。



5:00



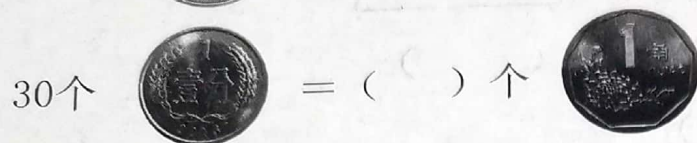
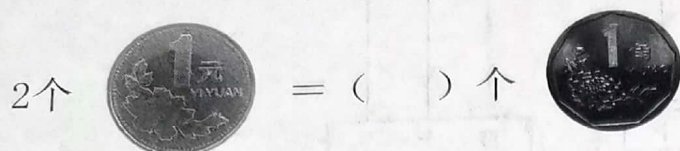
快4时了




10:30




2. 兑换人民币。



3. 书包可能多少元？在你认为合适的答案下面打√。



12元




13元	20元	65元

四、生活中的数学。(36分)

1. 买一本字典和一个书包，一共需要多少元？

$$\square \bigcirc \square = \square \text{ (元)}$$



11元

40元

2. 明明有95张卡片，亮亮有50张卡片。亮亮比明明少多少张？

$$\square \bigcirc \square = \square \text{ (张)}$$



3. 一本绘本故事，红红已经看了23页，还有9页没有看。这本绘本故事一共有多少页？

$$\square \bigcirc \square = \square (\text{页})$$

4. 狮子一共有多少只？

$$\square \bigcirc \square = \square (\text{只})$$


森林里有21只大熊猫。



狮子比熊猫少5只。



5. 我会购物。



- (1) 买一个小汽车和一个闹钟，一共要付 () 元 () 角。
- (2) 买一个卡通苹果和一个小书包，一共要付 () 元 () 角。
- (3) 聪聪拿20元去买一个小书包，应找回 () 元。

五、我能行。(2分)

猜一猜，下面的“数”和“学”各代表什么数？

数 学

+ 学 学

5 4

数 = ()

学 = ()

