

小学一年级数学试题

(时间: 60 分钟 试题 97 分+卷面 3 分 =100 分)

题号	一	二	三	四	五	六	七	卷面	总分
得分									

一、直接写得数。(20 分)

$20+50=$

$80-30=$

$58-8=$

$70+6=$

$91-80=$

$45+3=$

$36+4=$

$65+8=$

$54+9=$

$30-4=$

$23+20=$

$32+5=$

$27-4=$

$87-50=$

$25+30=$

$42-9=$

$23-8=$

$56-40=$

$48-3=$

$26+20=$

二、我会填。(每空 1 分, 共 34 分)

1. 从右边起, 第一位是 () 位, 第 () 位是百位。

2. 100 里面有 () 个十, 有 () 个一。

3. 六十写作 ()。

4. 由 3 个十和 5 个一合起来是 ()。

5. 和 89 相邻的两个数是 () 和 ()。

6. 按顺序填数。

59			62	63			66
	15	20			35		45

7. 比 78 大、比 82 小的数有 ()、()、()。

8. 黑板的面是 () 形，硬币的面是 () 形，红领巾的面是 () 形。

9. 6 元 7 角 = () 角

35 角 = () 元 () 角

4 角 = () 分

42 分 = () 角 () 分

10. 一张 50 元钱可以换 () 张 20 元和 () 张 10 元钱。

11. 在 ○ 里填上 “>”、“<” 或 “=”。

79 ○ 82

43 ○ 84

30+8 ○ 36-8

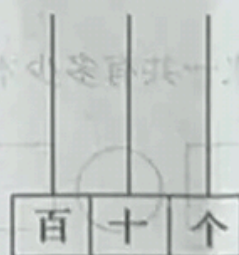
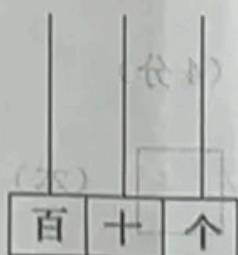
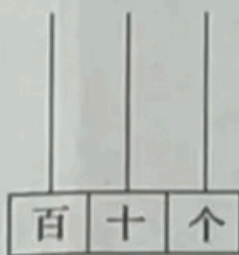
58-5 ○ 58-50

三、我会画。(9 分)


1. 画珠： 五十二

三十四

一百



2. 先看清是几时，再画出相应的时针和分针。



8 时




快到 1 时




刚过 11 时

3. 在下面的点子图中，画出一个长方形、一个正方形、一个三角形。



四、数一数，填一填。(5分)



	() 个
	() 个
	() 个
	() 个
	() 个

五、我会选。(4分)

在合适的答案下面画“√”

1. 的价钱比 40 元少一些。一个书包多少元？

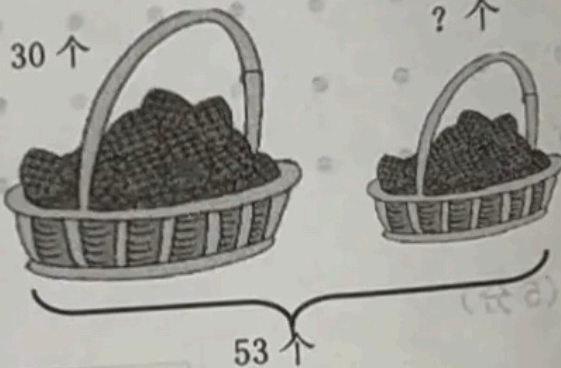
20 元	38 元	45 元
<input type="checkbox"/>	<input type="checkbox"/>	<input type="checkbox"/>

2. 小亮有连环画 25 本，故事书比连环画多得多，故事书有多少本？


13 本	29 本	68 本

六、看图列式计算。(4 分)

1.



个 ()	○
个 ()	□ ○ □ = □ (个)
个 ()	□
2. 个 ()	9 张
个 ()	28 张



	? 张
□ ○ □ = □ (张)	

七、解决实际问题。(21 分)

1. 明明今年 7 岁，爷爷今年 63 岁，小亮比爷爷小多少岁？(4 分)

$$\square \bigcirc \square = \square \text{ (岁)}$$

2.



原来一共有多少本书？(4 分)

$$\square \bigcirc \square = \square \text{ (本)}$$

3. 有一本故事书共 90 页，还有 9 页就看完，已经看了多少页？(4 分)

$$\square \bigcirc \square = \square \text{ (页)}$$

4. 购物。(9分)



16元





12元



8元



5元

(1) 买一辆  和一个  , 一共需要多少钱?

$$\square \bigcirc \square = \square \text{ (元)}$$

(2) 用 50 元钱买一把  和一条  , 够吗?

(3) 请你再提出一个数学问题并解答。