

2020—2021 学年度第二学期二年级数学阶段闯关测试题

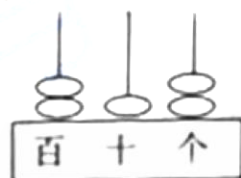
等级:

一、直接写出得数。(15%)

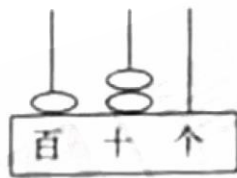
$$\begin{array}{lllll}
 300-40= & 170+150= & 9 \times 7+5= & 230+60= & 54 \div 9= \\
 370-150= & 24 \div 3= & 5000+50= & 6050-700= & 6 \times 5-13= \\
 236-36= & 55 \div 9= & 3600-3000= & 70-50+20= & 16 \div 3=
 \end{array}$$

二、填空。(22%)

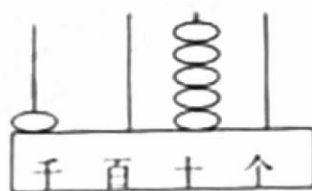
1. 一个数的十位上是 3，千位上是 6，其余各位上是 0，这个数是 ()。
2. 5 个十和 9 个一组成的数是 ()，与它前后相邻的两个数分别是 () 和 ()。
3. 7 个 6 是 ()，40 里面有 () 个 5
4. 从 3799 数起，一个一个地数，第三个数是 ()，第五个数是 ()。
5. 5 厘米= () 毫米。
6. 一个两位数，个位上的数是 6，十位上的数比个位上的数多 2，这个数是 ()。
7. 做一件衬衣用 2 米布，13 米布最多可以做 () 件。
8. 写一写，读一读。



写作: _____



写作: _____



写作: _____

读作: _____

读作: _____

读作: _____

9. 照这样摆下去，第 35 个是 ()。

☆☆☆♥☆☆☆♥☆☆☆♥☆☆☆♥……

10. 按规律填数

4030, 4040, (), 4060, ()
(), 380, 360, (), 320

三、在○里填上“>”“<”或“=”。(6%)

$135-18$ ○ 105 $210-100$ ○ 40 $6000-500$ ○ 5000
 $550+90$ ○ 660 $48\div6+8$ ○ 16 $34+30$ ○ 70

四、判断(6%)(对的打“√”,错的打“×”。)

1. 计算 7×3 和 $21\div3$ 用的是同一句口诀。 ()
2. () $\times 5 < 45$ 括号里最大能填 8。 ()
3. 1 米等于 100 厘米可以用 $1\text{m}=100\text{mm}$ 表示。 ()
4. 最大的两位数比最小的两位数大 89。 ()
5. 488 的近似数是 400, 88 的近似数是 100。 ()
6. $301+598$ 的和的近似数是 800。 ()

五、用竖式计算,带“*”的要验算。(18%)

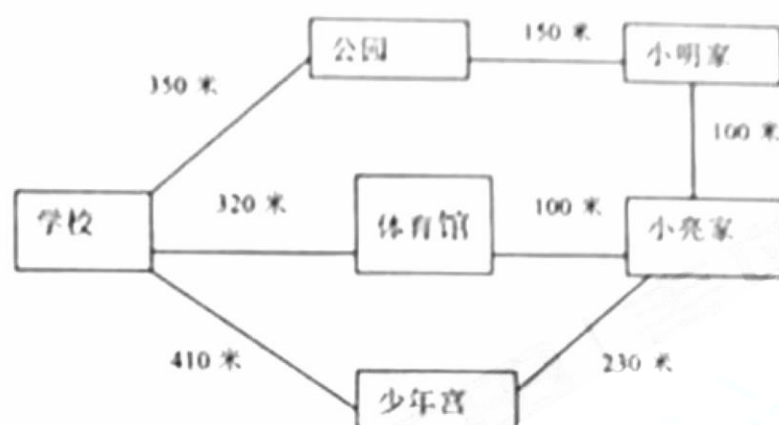
$33 \div 6 =$ $73 \div 8 =$ * $226+354 =$

$563+218 =$ $471-136 =$ * $764-251 =$

六、解决问题。(24%)

1. 一本书共有 398 页，小亮已经看了 225 页，还剩多少页没看？
2. 一根电线长 35 米，每 5 米截成一段，一共可以截多少段？
3. 有 43 颗纽扣，每件上衣用 5 颗，最多可以做几件上衣？还剩几颗？
4. 水果店上午卖出水果 180 千克，下午卖出 270 千克，水果店下午比上午多卖出水果多少千克？
5. 25 名同学去公园游玩，每辆出租车坐 4 人，至少需要乘几辆出租车？
6. 实验小学为环保工程捐款，一年级捐了 309 元，二年级捐了 422 元，一年级和二年级一共捐了大约多少元？

七、实践操作。(9%)



(1) 小亮从家经体育馆到学校多少米?

(2) 从学校到公园比从学校到体育馆多多少米?

(3) 你还能提出什么问题?