

北师大版数学三年级期中卷

一、选择题

1. 36×27 的积的最高位是（ ）。

- A. 十位 B. 百位 C. 千位

2. 下面图形中，（ ）不是轴对称图形。



3. 从 519 里连续减去（ ）个 3，结果是 0。

- A. 171 B. 172 C. 173

4. $\square 3 \times 32$ 的积是三位数， \square 里可以填的数有（ ）个。

- A. 2 B. 3 C. 7

5. 在一张对折的纸上剪掉一个三角形（如图），展开后的图形是（ ）。

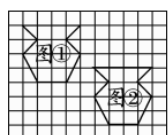


二、填空题

6. $742 \div 7$ 的商是（ ）位数； $742 \div 8$ 的商的最高位在（ ）位。

7. 29×29 的积是（ ）位数； 125×8 的积的末尾有（ ）个 0。

8. 下图中，图①先向（ ）平移（ ）格，再向（ ）平移（ ）格就到了图②的位置。



9. 求 54 个 18 的和是多少，列出算式是（ ）。

10. 在除法里如果除数是 4，余数最大是（ ）。

11.0除以（）的数都得0。

12.同学们进行体检，每组只能进检查室4人，三（1）班的同学站成一排，小明排在46名，他是第（）组进检查室的。

13.在○中填“>”“<”或“=”。

$$30 \times 40 \bigcirc 31 \times 39$$

$$18 \times 15 \bigcirc 15 \times 18$$

$$47 \times 74 \bigcirc 46 \times 73$$

$$48 \div 3 \bigcirc 45 \div 3$$

$$360 \div 9 \bigcirc 240 \div 6$$

$$218 \div 2 \bigcirc 327 \div 3$$

14.括号中最大填几。

$$4 \times (\quad) < 35$$

$$43 > 7 \times (\quad)$$

$$8 \times (\quad) < 60$$

三、连线题

15. 连一连。

$$914 \div 3$$

$$869 \div 8$$

$$725 \div 5$$

$$406 \div 6$$

$$129 \div 3$$

商是两位数

商是三位数

$$731 \div 3$$

$$208 \div 4$$

$$756 \div 7$$

$$312 \div 4$$

$$624 \div 6$$

四、判断题

16.判断。（对的打“√”，错的打“×”）

1. 25×60 的积与 250×6 的积相等。（）

2. 78×0 与 $0 \div 78$ 的结果不相等。（）

3. $607 \div 6$ 的商的末尾有2个0。（）

4. 转椅的升降运动是旋转现象。（）

5. 因为 $52 \times 6 + 4 = 316$ ，所以 $316 \div 6$ 的余数是4。（）

6. 在没有括号的乘除混合算式里，要先算乘法，再算除法。（）

五、解答题

17.小蜗牛5分钟爬行80毫米。照这样计算，1小时爬行（ ）厘米。

18.直接写出得数。

$$25 \times 10 =$$

$$96 \div 3 =$$

$$10 \times 100 =$$

$$80 \times 90 =$$

$$12 \times 30 =$$

$$40 \times 15 =$$

$$75 \div 5 =$$

$$505 \div 5 =$$

19.用竖式计算，带△的要验算。

$$195 \div 5 =$$

$$108 \div 2 =$$

$$\triangle 721 \div 2 =$$

$$95 \times 24 =$$

$$11 \times 22 =$$

$$\triangle 803 \div 4 =$$

20.脱式计算。

$$25 \div 5 \times 16$$

$$224 \div (4 \times 2)$$

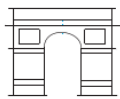
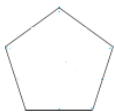
$$12 \times 5 \times 6$$

$$81 \times 7 \div 9$$

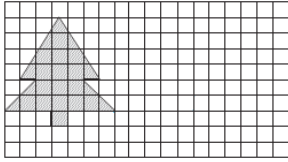
$$576 \div 3 \div 4$$

$$8 \times 7 \times 25$$

21.画出下面图形的所有对称轴。



22.画出将图形向右平移6格，再向下平移1格后的图形。



23.一条裤子的价格是96元，一件上衣的价格是一条裤子的2倍。买这件上衣需要多少钱？


24.实验小学6个年级在“红领巾献爱心”活动中共捐款684元，平均每个年级捐款多少元？



25.修路队修一条1500米的路，每天修89米，修了15天，还剩多少米没修？

26.一次数学竞赛，第一小组5个人的总分是525分；第二小组4个人的总分是424分。哪个小组的实力更强一些？

27.豆腐店有8袋黄豆，每袋40千克，1千克黄豆能做4千克豆腐。这些黄豆能做多少千克豆腐？



28.过春节时，李叔叔家里买了一大筐苹果和一小筐香蕉，已知苹果的重量是香蕉重量的4倍，若从苹果筐里取出15千克放在香蕉筐里，这时两筐重量相等，李叔叔买的苹果和香蕉各是多少千克？