

2022 年九年级第一次学业水平测试

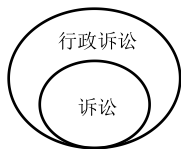
道德与法治

(考试时间: 60 分钟 满分: 60 分)

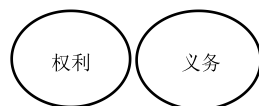
第 I 卷 (单项选择题 共 34 分)

下列各小题的四个备选答案中, 只有一个最符合题意, 请将选定的答案标号填涂在答题卡上。(本卷共 17 小题, 每小题 2 分, 共 34 分)

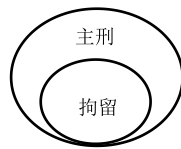
- 2022 年 4 月 8 日, 北京冬奥会、冬残奥会总结表彰大会在北京人民大会堂隆重举行, 国家残奥高山滑雪队运动员张梦秋刻苦训练、顽强拼搏, 勇夺金牌, 荣获“北京冬奥会冬残奥会突出贡献个人”称号。这启示我们 ()
①生命会遭遇挫折, 我们要增强生命韧性 ②我们需要去发现、发掘自己生命的力量
③生命价值高于一切, 需要珍视他人生命 ④热爱生命, 将有限生命投入无限奋斗中
A. ①②③ B. ①②④ C. ①③④ D. ②③④
- 2022 年 3 月, 国家互联网信息办公室强调, 网络产品和服务提供者应当建立健全防沉迷制度, 不得向未成年人提供诱导其沉迷的产品和服务。这体现了对未成年人的 ()
A. 司法保护 B. 社会保护 C. 网络保护 D. 家庭保护
- 为了引导全社会注重家庭、家教和家风, 增进家庭幸福与社会和谐, 《中华人民共和国家庭教育促进法》于 2022 年 1 月 1 日起正式生效。以上材料体现了 ()
A. 社会秩序由国家强制力保障实施 B. 社会秩序保障社会规则的实现
C. 我们遵守社会规则仅仅需要他律 D. 法律是应生活需要而制定颁布
- 图示法是表示概念之间关系的常用方法。下列图示正确的是 ()



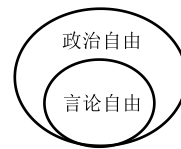
A



B



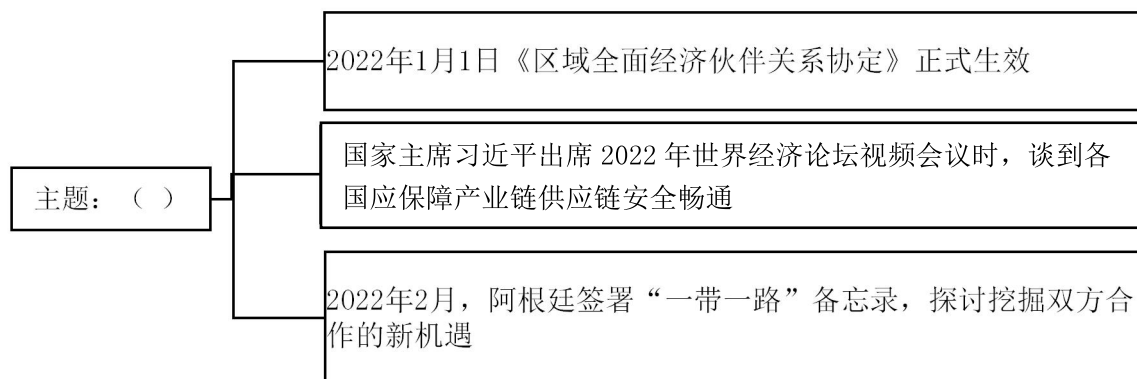
C



D

- 2022 年 3 月, 上海市税务局依法处理邓伦偷逃税案件, 对其追缴税款、加收滞纳金并处罚款, 共计 1.06 亿元。对此, 以下说法正确的是 ()
A. 法律对全体社会成员具有普遍约束力 B. 任何人的违法行为都要受到刑罚处罚
C. 行政违法行为具有严重的社会危害性 D. 税务部门应正确履行职能, 公正司法
- 2022 年 4 月, 广西教育厅公布第一批自治区中小学劳动教育实践示范校名单, 要求各校认真学习示范学校做法, 设立劳动教育必修课程和劳动周, 结合实际开展好中小学劳动教育。开展劳动教育旨在 ()
①帮助学生树立热爱劳动、尊重劳动的观念 ②提升学生的劳动技能, 保障其合法收入
③培养学生吃苦耐劳、踏实肯干的优秀品质 ④唯有劳动教育才能促进中学生全面发展
A. ①② B. ①③ C. ②④ D. ③④
- 东航空机坠毁事故发生后, 一些网民在微博、知乎等网络平台造谣传谣、调侃灾难, 国家网信办会同公安部等有关部门依法查处相关人员, 共清理违法违规信息 27.9 万余条。这告诉我们 ()
①恪守道德, 遵守法律是网络生活的基本准则
②遵守宪法和法律是我国公民的基本政治权利
③行使权利有界限, 任何公民都不能滥用权利
④违反规则、扰乱秩序的行为都应该受到处罚
A. ①②③ B. ①②④ C. ①③④ D. ②③④
- 广西“春蕾计划”截至目前共援建春蕾学校 21 所, 举办春蕾女童班 292 个, 为广西基础教育和控辍保学发挥了重要作用。“春蕾计划”有利于保障贫困地区失学女童的 ()
A. 隐私权 B. 劳动权 C. 受教育权 D. 物质帮助权

9. 在中国上市公司协会第三届会员代表大会上，证监会主席易会满表示，资本市场在继续大力支持国企改革，做强做优做大国有资本的同时，坚定不移地支持民营企业创新转型，健康发展。下列说法正确的是（ ）
- ①国有经济是国民经济的主体 ②我国坚持多种所有制经济共同发展
③国家巩固和发展非公有制经济 ④公有制经济是社会主义市场经济的重要组成部分
- A. ①② B. ①④ C. ②③ D. ②④
10. 南宁市第十五届人民代表大会期间专门设立“代表通道”接受记者采访，代表们结合各自工作实际，聚焦民生热点，反映人民心声，共同谋划首府南宁高质量发展新篇章。以上材料表明（ ）
- A. 人民代表大会是我国最高国家权力机关
B. 人民代表大会制度是我国的基本政治制度
C. 人大代表密切联系人民群众，践行执政为民
D. 人民当家作主是社会主义民主政治的本质特征
11. 近年来，南宁市各级监察机关聚焦基层“小微权力”防范“微腐败”，推动政府职能部门将财务情况“晒”在阳光下，接受社会和群众监督。南宁市监察机关的做法（ ）
- ①体现了监察机关依法履职 ②旨在限制我国政府的职权
③能杜绝基层腐败问题发生 ④有利于推进政府政务公开
- A. ①② B. ①④ C. ②③ D. ②④
12. 作为新一轮改革开放试验田，钦州港片区在完成改革试点任务的同时，大力推进“一港两区”建设，2021年地区生产总值完成300亿元，同比增长13%，迈入了跨越式发展新阶段。这说明，新时代改革开放（ ）
- A. 是当代中国发展的根本目的 B. 不断解放和发展了社会生产力
C. 使我国经济转向高速度发展 D. 是社会进步和民族振兴的基石
13. 2022年南宁市“赓续红色血脉”主题宣传教育活动在青秀山风景区举行，市民通过敬读人民英雄纪念碑文，了解碑文背后丰富的革命历史内涵，感悟革命先烈身上承载的伟大民族精神，坚定理想信念。本次活动（ ）
- A. 能够确保公民自觉弘扬中华民族精神 B. 体现中华民族精神的核心是自强不息
C. 为中华民族伟大复兴奠定了物质基础 D. 有利于继承革命文化，延续文化血脉
14. 2022年2月25日，国台办发言人表示，对于严重损害中国主权和领土完整的行为，我们将坚决回击，坚定捍卫我们的主权和领土完整，正告民进党当局，“台独”是绝路。对此，评价正确的是（ ）
- ①大陆和台湾同属于一个中国，我们应该坚决维护祖国统一
②维护国家统一，反对分裂，是每个中国公民义不容辞的责任
③解决台湾问题，实现祖国完全统一是中华民族根本利益所在
④“一国两制”是两岸关系的政治基础，要坚决反对“台独”
- A. ①②③ B. ①③④ C. ②③④ D. ①②③④
15. 如图是九年级某同学课堂探究时绘制的思维导图，图中空白处的探究“主题”应为（ ）



- A. 经济全球化 B. 世界多极化 C. 文化多样性 D. 社会信息化

16. 2022 年 3 月 28 日，联合国驻黎巴嫩临时部队司令在视察中国赴黎巴嫩维和部队营区时表示，中国维和部队为维护南黎地区和平发挥了重要作用。对此认识正确的是（ ）
- A. 战争与谈判成为当今时代的主题 B. 中国在化解黎巴嫩冲突中发挥主导作用
- C. 中国是维护世界和平的坚定力量 D. 中国积极奉行合作、共赢的全球治理观
17. 李克强总理在 2022 年的政府工作报告中强调：中国将持续增强制造业核心竞争力，大力促进传统产业升级，积极推进智能制造，加快发展先进制造业集群，推动产业向中高端迈进。对此，下列说法正确的有（ ）
- ①我国要把提升发展质量放在首位 ②中国正成为世界格局的决定力量
- ③我国应积极寻求新的经济增长点 ④中国正积极与世界共享发展机遇
- A. ①② B. ①③ C. ②③ D. ③④

第 II 卷（非选择题 共 26 分）

18. （6 分）【聚焦两会 心系祖国】

以下是九年级同学小明在 2022 年全国两会期间搜集到的时事新闻，请你根据所学知识，将新闻解读的空白部分补充完整。

时事新闻	新闻解读
2022 年 3 月 8 日，十三届全国人大五次会议在北京人民大会堂举行，全国人大代表听取和审议最高人民法院工作报告。	(1) 这体现全国人民代表大会行使_____权。(2 分)
全国人大决定修改《中华人民共和国地方各级人民代表大会和地方各级人民政府组织法》，增加第一条：“为了健全地方各级人民代表大会和地方各级人民政府的组织和工作制度……根据宪法，制定本法。”	(2) “根据宪法，制定本法”说明宪法_____。(2 分)
国务院政府工作报告强调：面对新冠肺炎疫情，各级政府应继续做好常态化疫情防控，科学精准处置局部疫情，守护人民生命健康。	(3) 这说明我国坚持总体国家安全观，以人民安全为_____。(2 分)

19. （10 分）【关注社会 学习模范】

2021 年度感动中国人物——彭士禄，被誉为“中国核潜艇之父”。上世纪 50 年代，国家需要一批留学生改行学原子能核动力专业，询问到他时，他的回答是：“只要祖国需要，我当然愿意！”择一事，终一生，他隐姓埋名投身核潜艇研制事业，为我国第一艘核潜艇成功研制作出了重要贡献。改革开放后，他继续引领我国核事业发展，每年仍大部分时间在外出差，很少能见到家人。在一次核潜艇调试工作中他突发急性胃穿孔，胃被切除了 3/4，可是为了不耽误研发进度，手术后仅仅住院一个月，就又开始工作了。他常说“我要为人民、为祖国奉献一切的热血”，践行了中国共产党人的初心和使命。

- (1) 根据彭士禄院士的事迹，谈谈党的初心和使命是什么？（2 分）
- (2) 结合材料，运用国家利益至上的知识，就彭士禄院士如何为祖国奉献一切热血谈谈你的看法。（6 分）
- (3) 请你为彭士禄院士写一句点赞语。（2 分）

20. (10 分)【乡村振兴 建设家乡】

2022 年 4 月 2 日,“壮族三月三·八桂嘉年华”活动在壮美广西拉开序幕。

镜头一:在青秀山主会场舞台上,一首首融合了八桂风情的歌曲,充分展现广西各民族水乳交融、亲如一家的场景。

镜头二:广西欢庆三月三的同时,全面推进乡村振兴建设:桂林针对漓江沿岸工业废水废气肆意排放、非法采砂导致河道下沉等问题,不断推进漓江生态保护和修复提升工程,实施重点流域生态环境综合治理,漓江流域水质持续向好;河池市人民政府不断巩固脱贫攻坚成果,持续保障和改善民生,新增发放脱贫人口小额信贷 7380.6 万元、发放学生各项补助金 4310.65 万元,扎实推进农村人居环境整治三年行动,不断提高人民生活品质。

镜头三:为持续打造“壮族三月三·e 网喜乐购”活动,广西区政府牵头开展广西特色产品直播带货活动,助力广西特色农产品销售。

- (1) 镜头一中广西各民族水乳交融、亲如一家的场景体现了我国_____的社会主义新型民族关系。(2 分)
- (2) 请你从镜头二中任选一地,运用所学知识,分析其乡村振兴建设措施的合理性。(6 分)
- (3) 为了更好地推进“壮族三月三·e 网喜乐购”直播带货活动,请你向广西区政府提出一点可行性建议。(2 分)