

# 2022 年普通高中招生第二次模拟考试试卷

## 历史

### 注意事项:

1. 本试卷共 6 页, 分为选择题和非选择题, 满分 50 分, 考试时间为 50 分钟。
2. 开卷考试, 可查阅参考资料, 但应独立答题, 禁止交流资料。
3. 本试卷上不要答题, 请按答题卡上注意事项的要求直接把答案填写在答题卡上。答在试卷上的答案无效。

### 选择题 (共 20 小题, 20 分)

下列每小题列出的四个选项中, 只有一项是最符合题目要求的。请将正确选项的英文字母代号涂写在答题卡相应的位置上。

1. “海纳百川, 有容乃大。”中国文化能够传承数千年而未中断的一个重要原因就在于强大的文化包容性。以下河南历史文化遗产最能体现这一内涵的是



A. 安阳殷墟 B. 登封中岳庙 C. 洛阳龙门石窟 D. 南阳医圣祠

2. 某年级同学为体验我国古代一项伟大发明的工艺流程, 亲临其技术传承至今的安阳铸造作坊, 进行了实地观摩。这项工艺



泥土制模与雕刻纹饰 制泥范 浇铸液态金属 打碎外范, 掏出内范

3. 如下表可见, 先秦时期

墨家	批评孔子的“述而不作”, 主张“述而且作”, 批评孔子和儒家的繁琐礼仪
道家	以自然无为为宗旨, 蔑视礼法, 对于儒家的礼仪道德持否定态度
法家	思想上与儒家对立, 法家的集大成者韩非对孔子个人颇为尊重, 但他认为孔子学说不合时宜

4. 为减免人民税赋, 汉文帝下令减少自己的开支, 裁减侍卫人马。汉景帝下诏不接受地方贡献的锦绣等奢侈物品, 并禁止地方官员购买黄金珠玉, 否则以

盗窃论罪。这些有助于

- A. 加强中央集权 B. 充盈库存钱粮 C. 发展文教事业 D. 提高行政效率
5. 丝绸之路最初是军事路、外交路……在之后发展成了当时世界上最繁忙的物流大通道……物质交流的同时, 中国文化、印度的佛文化……也相互间交集共生。丝绸之路是汉朝探索出来的, 让中国融入世界, 并渐而有发言权和影响力的一条大国之道。材料反映了
  - A. 丝绸之路曾是东西方之间联系的唯一桥梁
  - B. 丝绸之路推动了中外贸易与文化交流
  - C. 丝绸之路是一条贸易互惠之路
  - D. 陆上丝绸之路没有海上丝绸之路发达
6. 宋代汴京最盛时人口达 150 万, 无地少地的农民纷纷拥入城市谋生, 城内酒楼、茶肆不胜其数, 有的茶楼用音乐、杂技活动来吸引客人, 瓦舍遍地, 瓦舍内小唱、大曲、杂剧等表演不断。材料反映了
  - A. 文化娱乐活动供特权阶层享用
  - B. 城市发展促进儒家文化生活化
  - C. 城市功能结构正逐渐发生变革
  - D. 城市的发展带动娱乐活动兴盛
7. 清朝是统一多民族国家进一步巩固和发展的关键时期, 为安定边疆, 清朝在其疆域的西北、西南、东南地区做出了一系列努力, 收效明显。下列能体现清朝在西北地区做出努力的措施是
  - A. 设置伊犁将军
  - B. 设置西域都护
  - C. 建立台湾行省
  - D. 设置北庭都元帅府
8. 步入近代, 中国仁人志士一次又一次奋起, 下层民众揭竿而起, 尝试构建“人间天国”的梦想; 先贤们不懈斗争, 探索中国政治改革、革命之路。这些努力彰显了
  - A. 寻求国家出路的探索
  - B. 自强求富的近代化探索
  - C. 反帝反封建的革命洪流
  - D. 反清斗争的不断深入
9. 上海作为中国首批对外开放的商埠, 拥有大量的国际移民, 这使上海与国际的联系愈发密切, 中国与世界各国的文化在这里碰撞、交融, 近代上海的服饰文化呈现出了多元化现象, 很多服饰直接采用西方的样式。这反映了
  - A. 辛亥革命推动近代中国服饰变化
  - B. 近代中国社会变化是不平衡的
  - C. 西方文化影响近代中国生活方式
  - D. 中国传统服饰已退出历史舞台
10. 在这片红色土地上, 点燃了“工农武装割据”的星星之火, 回答了“中国的红色政权为什么能够存在”的历史之问, 开辟了一条马克思主义基本原理同中国革命具体实际相结合的光辉道路。与材料描述内容相关的历史事件是
  - A. 领导革命军发起南昌起义
  - B. 提出“政权是由枪杆子中取得”的著名论断
  - C. 创建井冈山革命根据地
  - D. 中华苏维埃共和国临时中央政府成立
11. 在抗日战争时, 涌现出了“狼牙山五壮士”, 血洒疆场的左权将军, 壮烈殉国的张自忠上将, 回民义勇队, 加班生产、支援前线的工人, 参加抗日宣传、救护和战地服务的妇女等英雄人物。这
  - A. 鼓舞了军民解放中国的热情
  - B. 使日军陷入全民族抗战之中
  - C. 展现了敌后战场的高昂士气
  - D. 是正面战场积极抗战的证明
12. 随着三大改造的稳步推进, 中国逐步完成对农业、手工业和资本主义工商业



的社会主义改造。社会主义制度下的新中国，需要一部更为完善的法律基础来立国安邦。这说明 1954 年《中华人民共和国宪法》的颁布

- A. 代表了最广大人民群众诉求
- B. 是我国社会主义建设发展的需要
- C. 确立了我国的根本政治制度
- D. 标志我国社会主义基本制度确立


13. 根据毛泽东的指示精神，全国、全军一盘棋，在人力、物力、财力等方面进行统一调度，组织了全国大协作，解决了研制中遇到的重大问题，安排了航天领域所需的特殊材料、部件和配套产品等 2 万余项的研制生产任务，大大加快了步伐，取得了辉煌的航天成就。我国航天成就的取得体现了

- A. 社会主义制度的优势
- B. 经济发展的迫切需求
- C. 乐观积极的革命精神
- D. 杰出人物的推动作用

14. 在新冠肺炎疫情大流行背景下，2022 年北京冬奥会正式开幕，全世界都对此高度关注。在新冠病毒肆虐之时，中国再次向全球证明并没有辜负世界的期待。据环球网消息，2022 年北京冬奥会是疫情以来首次如期举办的全球性体育盛会。对此解读最准确的是

- A. 中国是推动全球化的重要力量
- B. 中国积极建立国际经济新秩序
- C. 中国的综合国力不断提升
- D. 中国积极地推进区域经济合作

15. 考古学上有一句俗语：“历史古迹会说话。”下列两处历史遗址共同反映了



帕特农神庙遗址



金字塔遗址

- A. 文明的多样性
- B. 文明的吸纳性
- C. 文明的连续性
- D. 文明的传承性

16. 19 世纪的德国法学家耶林说，罗马人曾三次征服世界，第一次以武力，再一次以宗教，末一次以法律。这里的以法律征服世界，指的是罗马法

- A. 是罗马共和国第一部成文法典
- B. 规定发放津贴鼓励公民参与政治
- C. 规定公民大会是最高权力机关
- D. 是近代很多西方国家法律的基础

17. 各州为了维护各自的利益，建立各种贸易壁垒，严重制约着美国经济的发展。资产阶级迫切渴望建立一个强大的中央政府，1787 年美国宪法顺势而生。材料说的是 1787 年美国宪法诞生的

- A. 主要经过
- B. 最终结果
- C. 国际影响
- D. 历史背景

18. 新材料及其加工技术，不仅是历次工业革命的物质基础与先导，更是人类文明前进的基石。第二次工业革命期间，人类创新的新材料有

- A. 木料、石料
- B. 煤炭、钢铁
- C. 塑料、人造纤维
- D. 半导体、高温合金

19. “第二次世界大战和第一次世界大战的一个主要差别在于欧洲殖民地的结局。第二次世界大战后，不可阻挡的革命浪潮席卷诸殖民地帝国，极其迅速地结束了欧洲的统治。”这段话说明二战



- A. 推动了社会主义运动的发展  
B. 壮大了世界反法西斯的力量  
C. 巩固了欧洲列强的殖民统治  
D. 加速了世界殖民体系的瓦解
20. 目前有充分的证据显示, 出现全球变暖趋势是焚烧化石矿物以生成能量或砍伐森林并将其焚烧时产生的二氧化碳进入了地球的大气层导致。这说明造成全球气温上升的原因是
- A. 人类的生产活动  
B. 化工工业的发展  
C. 森林资源的减少  
D. 全球人口的增加

**非选择题 (共 5 小题, 30 分)**

21. (6 分) 阅读下列材料, 回答问题:

材料一

崤函古道路面为石灰岩质, 是沟通长安与洛阳东西两大古都交通干道上的枢纽路段。丝绸之路开通后崤函古道又与其他通道组合, 由原来的境内通道, 发展成为闻名于世的国际丝绸之路的重要路段。考古工作者对这段古道进行了考古调查, 发现坡顶和坡下有蓄水池, 利用自然石油坑加人工刻凿而成。经考证, 蓄水池是用来存储雨水, 以供来往牲畜或行人饮用。

——摘编自《河南陕县崤函古道》



崤函古道遗迹  
上车轴纵横

材料二

阿庇乌大道是古代罗马人修建的第一条也是最著名的军事道路, 其工程品质可靠, 坚固牢实(一小层石头用灰泥抹缝后, 构成坚实的地基), “全天候”使用, 无论雨雪风暴、翻山过桥随时都可以保证畅通。平时的交通军旅以坐骑为主, 货物则用军运, 因此这种道路必须宽度划一, 足容数队军骑来往通行, 还要保持路线基本平直, 上下坡度力求低缓, 桥涵设施配套齐全。

——摘编自《阿皮亚古道》



古罗马阿庇乌  
大道遗址

- (1) 据材料一和材料二, 概括崤函古道和古罗马阿庇乌大道的相同之处, 并指出交通道路对社会发展的作用。(4 分)
- (2) 上述材料图片展示的遗迹都有不同程度的损毁, 请就遗迹保护谈谈你的做法。(2 分)

22. (6 分) 阅读下列材料, 回答问题:

材料一 中国共产党虽处于幼年时期, 但在总结辛亥革命失败的经验教训基础上, 对中国革命规律有了更进一步的认识, 形成了超越旧式革命的策略思想。如认识到: 需要有组织严密的先进政党领导, “若能成立一个强固精密的组织, 并注意促进其分子之团体的训练, 那么中国彻底的大改革, 或者有所依托”(李大钊:《团体的训练与革新的事业》)。又如强调需要建立一支革命政党掌握的可靠军队。再如强调需要有广泛的民众动员尤其是“一个大的农村变动”, 要坚决纠正



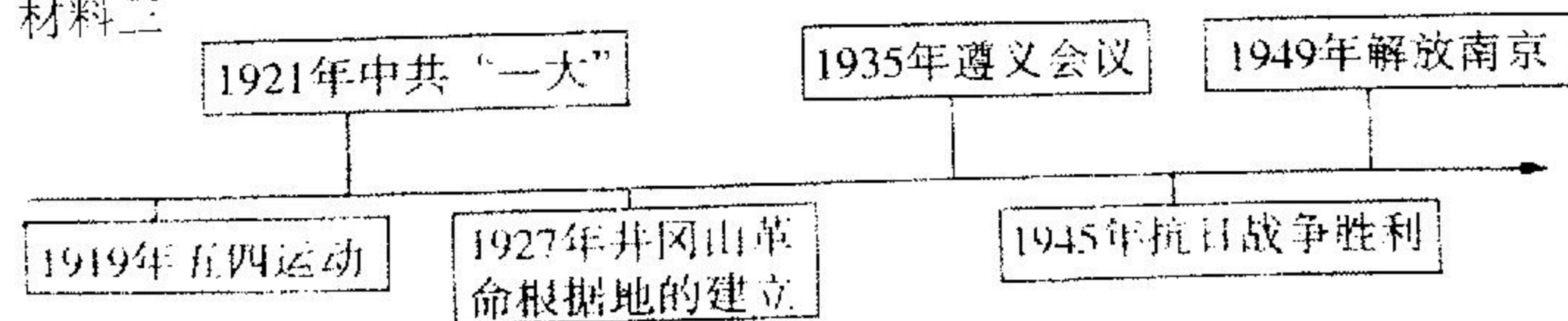
“忽视对于民众的争取”的弱点。

——摘编自俞祖华《中国共产党对辛亥革命事业的接续与超越》

材料二 说到革命的准备，一九二一年开始的第一个阶段，实际上是由辛亥革命、五四运动准备的。特别是五四运动，大革命的思想、干部、群众、青年知识分子都是这时开始的。所以严格地讲，我们研究党史，只从一九二一年起还不能完全说明问题……从辛亥革命说起差不多，从五四运动说起可能更好。

——毛泽东《如何研究中共党史》

材料三



- (1) 据材料一，概括中国共产党早期组织对辛亥革命经验教训的总结。(3分)
- (2) 据材料二和所学知识，如何理解研究中共党史“从辛亥革命说起差不多”？(2分)
- (3) 综合上述探究，从辛亥革命到新民主主义革命，你对近代中国革命的发展有何认识(1分)

23. (6分) 阅读下列材料，回答问题：

材料一 习近平总书记指出，“两弹一星”是宝贵的精神财富，是我们党领导人民在特定历史、特定环境、特定条件下创造的巨大成就，是中华民族勇气与智慧的结晶，是新中国勇攀科技高峰的伟大壮举。

材料二 “十三五”期间，科技创新作用凸显。研发投入持续扩大。2019年，我国研发经费支出22144亿元，比2015年增长56.3%；研发经费投入强度达2.23%，比2015年提高0.17个百分点，达到中等发达国家水平；科技进步贡献率达到59.5%。科技创新硕果累累。在一些基础和前沿领域取得一大批标志性成果，若干领域实现从“跟跑”到“并跑”“领跑”的跃升；知识产权产出居世界前列，2019年受理境内外专利申请438万件，比2015年增长56.5%。

材料三 科学研究的全球化，使得中国有机会通过各种渠道派送本国人员到国外进行培训、参加国际会议、参与短期和中长期合作研究……跨国公司在华研发投入以及日本、美国等国政府、民间渠道、基金会以及国际组织等外国资助，增加了中国的产业研发总量。外商在中国的研发投资活动会引起其他在华跨国公司和国内企业采取防御性的跟进策略，促进相同或相关领域产业研发的竞争。

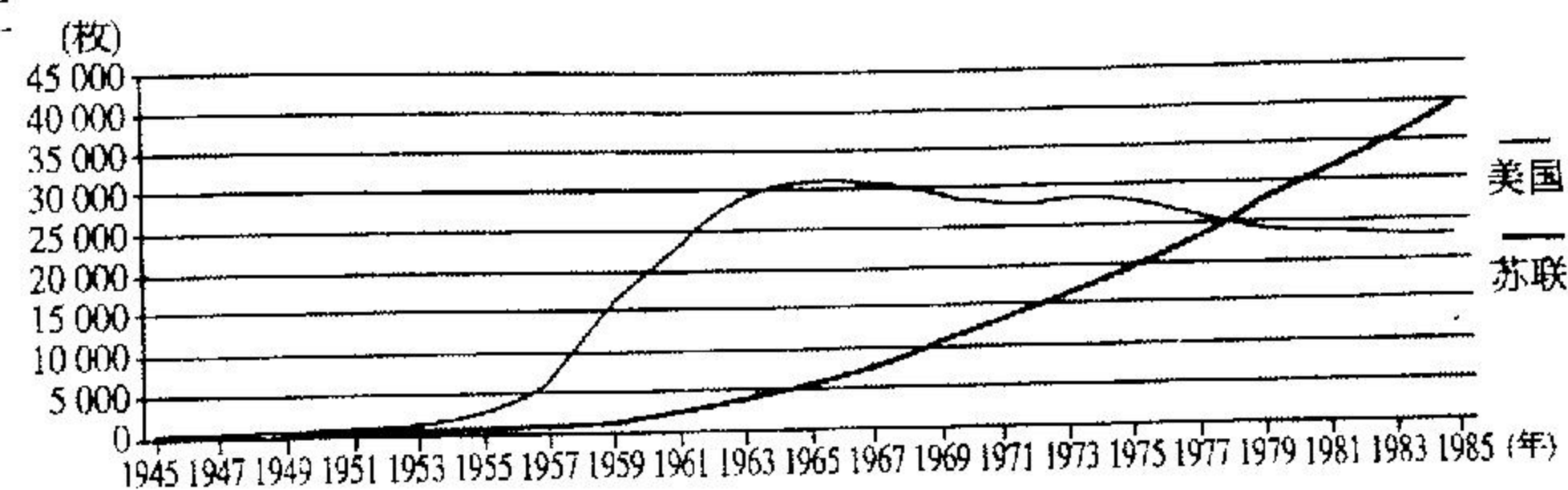
——摘编自傅建球《科技全球化背景下中国科技发展的机遇与挑战》

- (1) 材料一“特定历史、特定环境、特定条件”指什么？除“两弹一星”外，新中国还取得哪些科技成就？(一例即可)(2分)
- (2) 材料二“十三五”期间科技成就取得的原因是什么？(2分)
- (3) 据材料三，概括指出科技全球化背景下中国科技发展的机遇。(2分)

24. (6分) 阅读下列材料，回答问题：

材料一 第二次世界大战期间，苏联从美国得到总数为110亿美元的租借供应，其中包括409526辆卡车，12160辆坦克和自动火炮，14000架飞机和325784吨炸药，以及420万吨食品和多种物资。……1943年在德黑兰会议上，斯大林曾说：“在这场战争中，最重要的东西是机器，美国已证明，它每月生产8000至10000架飞机，俄国一个月顶多能生产3000架飞机。……如果不是通过租借法而有这些机器可供使用，那我们就会战败。”

材料二



1945—1983年美苏核武器储备示意图


材料三 从1994年开始，俄罗斯对其外交政策进行了重大调整，把维护国家利益、重振大国地位作为外交战略的基石。而美国则利用俄罗斯经济严重衰退、急需经济援助的弱点，继续遏制俄罗斯。俄美之间形成了既合作又斗争的局面，俄美关系在反复的摩擦和斗争中升温，又在对话和妥协中避免破裂。

- (1) 据材料一和材料二，概括美苏关系的变化，根据所学知识，指出发生变化的原因。(2分)
- (2) 据材料三和所学知识，简述美俄关系的特点，并指出国家外交的根本出发点是什么。(3分)
- (3) 国家主席习近平提出人类命运共同体的理念，请据此并结合上述材料谈谈你对美俄关系的认识。(1分)


25. (6分) 请根据下列文字材料，提炼一个观点，并结合图片，写一篇80—120字的小短文。(要求：题目自拟，观点明确，紧扣图文材料反映的信息及联系；史实正确；条理清晰，语句通顺，表述完整)

材料 我以为政治制度，必然得自根自生。纵使有些可以从国外移来，也必然先与其本国传统，一番融合沟通，才能真正发生相当的作用。

——摘编自钱穆《中国历代政治得失》



16世纪伊丽莎白一世主持议会



《权利法案》