

历史

注意事项:

1. 本试卷共 6 页, 分为选择题和非选择题, 满分 50 分, 考试时间 50 分钟。
2. 开卷考试, 考生应独立答题。
3. 本试题卷上不要答题, 请按答题卡上注意事项的要求直接把答案填写在答题卡上。答在试卷上的答案无效。

选择题 (共 20 小题, 20 分)

下列每小题列出的四个选项中, 只有一项是最符合题目要求的。请将正确选项的英文字母代号涂写在答题卡相应位置上。

1. 下列世界文化遗产丝绸之路河南段三处遗址共同表明了



汉魏洛阳城遗址



隋唐洛阳定鼎门遗址



三门峡崤函古道遗址


- | | |
|----------------|----------------|
| A. 丝绸之路开创于隋唐时期 | B. 中原文化对世界贡献巨大 |
| C. 洛阳地区的文明源远流长 | D. 河南是丝绸之路重要区域 |

2. 历史文物是传统文化的重要物质载体, 记录着我们历史的光辉过去。图为河南博物院的“九大镇院之宝”之一的鸮尊, 造型构思奇巧、生动传神, 是最早的鸟形酒器。因器身铭文“妇好”, 被称为“妇好鸮尊”。此文物最重要的历史价值在于



- 提供了研究商代农业发展的实物史料
- 见证甲骨文造字方法和造字特点
- 说明商是我国最早实行分封制的朝代
- 突显商朝的青铜铸造业水平领先

3. 我国古老的神话传说认为, 中原地区的部落领袖黄帝的妻子螺祖发明了养蚕缫丝技术。下图是在获得 2020 年中国十大考古发现的河南巩义双槐树遗址 (距今 5300 年左右), 出土的我国最早的骨质蚕雕艺术品——牙雕蚕, 其形状类似家蚕叶丝。这件艺术品的出土, 可以证明



- | | |
|-----------------|---------------|
| A. “螺祖始蚕”之说确有其事 | B. 中国丝质技术领先世界 |
| C. 中国的农桑文明已经起步 | D. 社会分工已经非常精细 |
4. “以人民为中心”是中国共产党人始终坚持的理念。下列主张与其相近的是
- | | |
|-------------------|------------------|
| A. 温故而知新, 可以为师矣 | B. 罚莫如重而必, 使民畏之 |
| C. 民为贵, 社稷次之, 君为轻 | D. 天下万物生于有, 有生于无 |

5. 《史记·秦始皇本纪》记载：“分天下以三十六郡，郡置守、尉、监。”这一措施的作用是

A. 形成了森严的等级制度

B. 进一步强化了君主集权

C. 加强了思想控制

D. 直接有效地控制了地方

6. 《宋书》载，江南地域辽阔，物产丰富，人民辛苦劳作，一年的丰收可以解决很多地方的粮食问题。……江南生产的丝绵布帛可以供天下人享用。这反映出

A. 人口南迁带来大量劳动力

B. 江南经济地位逐渐提升

C. 南北方耕作技术差距很大

D. 经济重心南移已经完成

7. 市民文学指的是封建社会后期，适应城市居民需要而产生的一种文学。内容大多描写市民社会的生活和悲欢离合的故事，反映市民阶层的思想和愿望。以下文学作品体现了这一趋势的是

A. 屈原《离骚》

B. 王羲之《兰亭序》

C. 白居易《长恨歌》

D. 关汉卿《窦娥冤》

8. 维新派创办报刊不过几年工夫，全国风气大开，社会上出现了“上至朝廷，下至士人”，“家家言时务，人人谈西学”的热烈局面。这说明维新变法

A. 推动报刊事业革新

B. 促进民族工业发展

C. 具有思想启蒙作用

D. 带来科学技术进步

9. 南京临时政府的法令和措施在经济方面规定：“奖励和保护工商业，鼓励人民兴办实业，鼓励华侨在国内投资，设立实业部，各省成立实业公司，废除清朝的苛捐杂税。”这反映出资产阶级发动辛亥革命的根本目的是

A. 推翻清政府

B. 平均地权

C. 建立民主共和国

D. 为资本主义发展开辟道路

10. “侵华日军南京大屠杀遇难同胞纪念馆”1号门的墙面侧看好似一把断裂的军刀，但当我们从高空往下俯视整个馆时，它是一艘和平之舟。由此得知建馆理念是

A. 勿忘国耻，珍爱和平

B. 淡忘回忆，安于现状

C. 铭记历史，彰显个性

D. 遗忘过去，开创未来

11. “1937年，这里的贫庄农平均土地占有只有0.93亩，到1947年，他们的人均土地上升到了2.9亩，在共产党领导的解放区，地主、雇农和长工都不存在了，村民们满怀热情地把精力和时间集中在了支援前线上”。材料中的变化是因为

A. 中国共产党的成立

B. 抗日根据地的创建

C. 土地制度的变革

D. 新中国土地改革

12. 《中华人民共和国民法典》于2021年1月1日起开始施行，这是中国第一部以“典”命名的法律，使中国“民法典时代”正式到来。新中国成立后，颁布的第一部社会主义类型的宪法是

A. 《中国人民政治协商会议共同纲领》

B. 《中华人民共和国土地改革法》

C. 1954年《中华人民共和国宪法》

D. 《中华人民共和国刑法》

13. 下表所示是20世纪50年代沈阳飞机制造厂的创建及发展情况（部分）。这反映出当时

| | |
|-----------|--|
| 1951.6.29 | 担负飞机修理任务的 112 厂在抗美援朝的烽火中诞生 |
| 1953.5.5 | 中苏两国政府正式签订了苏联援助中国 156 项重点建设的协议，其中包括 112 厂从 1953 年开始扩建，1956 年建成年产 1000 架喷气式歼击机的项目 |
| 1954.1.13 | 国家计划委员会批准了将 112 厂扩建为喷气式歼击机械制造厂的总体设计任务书 |
| 1956.9.9 | 喷气式飞机制造成功 |

A. 我国重视重工业发展

C. 我国已经成为工业强国

B. 主要靠引进技术发展工业

D. 我国计划经济体制已建立

14. 2021 年 10 月 16 日 0 时 23 分，搭载神舟十三号载人飞船的长征二号 F 遥十三运载火箭，在酒泉卫星发射中心按照预定时间精准点火发射，顺利将翟志刚、王亚平、叶光富 3 名航天员送入太空。回顾历史，开启我国载人航天飞行的标志性事件是

A. 在我国西部戈壁上，第一颗原子弹爆炸成功

B. 神舟一号无人飞船成功完成第一次飞行试验

C. 航天员杨利伟乘坐神舟五号首次升入了太空

D. 航天员翟志刚成功升入太空并完成出舱任务

15. 希腊的艺术天才用全世界最完美的兼具美感和品位的雕塑装饰了雅典卫城，即使现在在那里如一片废墟，其结构仍然是古代世界建造者的最珍贵的纪念物。这段话意在肯定古代雅典

A. 历史文化悠久

C. 建筑艺术高超

B. 社会等级森严

D. 文明遗址众多

16. 古代印度、希腊、波斯与罗马的科学巨著正是通过阿拉伯科学家和学者的创造性劳动得以矫正和保存。这说明阿拉伯文化的特点是

A. 在吸收基础上进行创新

C. 阻碍古代文化间的交流

B. 全面学习东西方文化

D. 东西方文化的传播者

17. “在 1750 年，中国与西方的差距并不大；到了 1850 年，双方的差距不啻天壤之别。这不仅是中国与西方的差距，也是东西方的差距。到 19 世纪中期，印度完全沦为殖民地，埃及岌岌可危，地跨欧亚非的奥斯曼帝国风雨飘摇，伊朗横遭列强干涉。”西方能够超越东方的主要原因是


A. 世界大战后西方获得大量利益和霸权

C. 西方的王权不如东方的皇权根深蒂固


B. 资产阶级革命和工业革命的爆发

D. 文艺复兴和新航路开辟的影响

18. 如图两幅图片中的水利工程均建设于 20 世纪 30 年代。它们都是



苏联在第聂伯河上修建的水电站



美国田纳西水利工程

A. 应对经济危机的措施

B. 实现国家工业化的需要

C. 意识形态竞争的反映

D. 特定时期国家政策的产物

19. 一战前欧洲形成了同盟国和协约国两大敌对军事集团，二战前德意日法西斯形成了轴心国同盟，二战后世界出现了北约和华约的对峙局面。这反映了

A. 法西斯势力的日益猖獗

B. 大国结盟影响世界局势

C. 帝国主义国家间的争夺

D. 冷战对峙局面开始形成

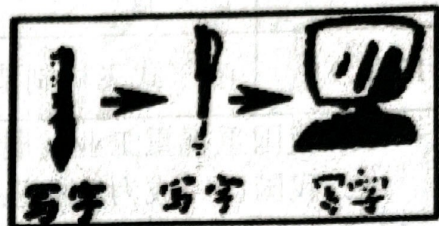
20. 右图漫画《进步与退步》所反映的实质问题是

A. 书写工具的进步导致了书写质量的退步

B. 使用计算机淡化了文字的作用

C. 计算机的应用给传统文化带来严重冲击

D. 回归毛笔字时代是历史的进步



非选择题（共5小题，30分）

21. （6分）阅读下列材料，回答问题。

材料一 中国古代哲学以儒家思想文化为主流，后来以此为基础逐渐形成完整的儒家思想体系。儒家重视“人治”主义，重视人的特殊化，人可能的道德发展及人的同情心，关注人与社会之间的和谐关系。儒家思想对中国人的普遍伦理道德，对中国文化的价值和价值优先观念都有着深刻的影响，已经成为今天中华民族的一种集体潜意识。

材料二 希腊文化的最高代表是哲学，最初的希腊哲学家同时也是自然科学家，他们不满足于原始宗教和神话，根据自己的直观，以人类正常的常识为依据，用自然现象本身来说明世界。关注自然世界的本源，尝试从无限多样的自然现象中看到它们的统一和联系，看到它们的不断变化和发展，看到它们的矛盾和对立。这种对自然世界的关注推动西方自然科学的发展。

（1）根据上述材料，比较中国古代哲学与古希腊哲学的不同之处。结合所学知识，指出其不同的原因。（4分）

（2）中国古代哲学除了儒学外，请再举出一个哲学派别，并说出代表人物及观点。（2分）

22. （6分）阅读下列材料，回答问题。

材料一 19世纪60年代，西方列强要求清政府引进电报技术，但均遭到了拒绝。而出访过欧洲、体验过电报通信之神奇速度的中国官员，在其游记中却生动描述了电报通信的快捷，《申报》《中西见闻录》等中文报纸也积极宣传电报的优势。19世纪70年代，民族危机的加深，使得清政府迫切需要以电报沟通军事和外交信息。1879年，李鸿章在天津试设电报获得成功。1880年以后，电报得到政府力量的保护，进而被迅速推广。

材料二 中国近代通电发展大事年表

| 时间 | 事 件 |
|------------------|--|
| 1906 年 12 月 3 日 | 广州绅商易学清等 11 人联名通电，提出勿将广九路权许外人 |
| 1911 年 10 月 12 日 | 湖北军政府即发出 10 道通电，宣告武昌光复，并呼吁各省呼应 |
| 1919 年 4 月 30 日 | 巴黎通信社第一时间把中国外交失败的消息通电国内各报馆 |
| 1919 年 5 月 22 日 | 成都高等师范全体学生通电，要求北洋政府释放被捕学生，慰留辞职校长，惩办卖国贼 |

(1) 据材料一，指出清政府对电报的态度发生了什么转变。概括指出这一变化出现的原因。(3 分)

(2) 据材料二，分析电报的引入对近代中国社会的影响。对你有什么启示?(3 分)

23. (6 分) 请结合下列图片中人物的活动和所处的时代，写一篇 80—120 字的小短文。
(要求：题目自拟，观点明确，紧扣事件与所处时代的关系；史实正确；条理清晰，语句通顺，表述完整)



庆祝全行业公私合营 (1956 年)

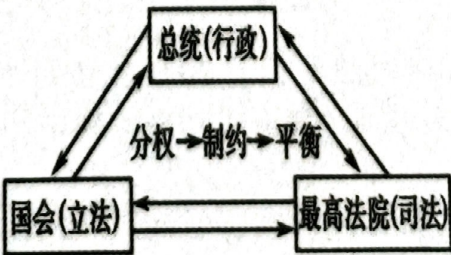


上海飞乐音响股票 (1984 年)

24. (6 分) 追求民主与法治，反对专制与独裁是世界各国人民的不懈追求。建立法治社会是历史发展的重要趋势。依据下面三幅图片提供的信息，结合所学知识，回答下列各题。



图一 英国议会大厦



图二 美国三权分立示意图



图三 天赋人权

(1) 依据图一写出英国资产阶级革命后建立的政治体制及为确立新政体提供法律保障的文献。(2分)

(2) 依据图二回答美国在资产阶级革命结束后,制定了什么文献来巩固新生的政权。(1分)

(3) 依据图三,法国大革命中,为了反对专制与独裁,追求民主与法治颁布的法律文献是什么?其中哪些思想成为世界各国人民的不懈追求?(2分)

(4) 以上三幅图片体现了这些国家怎样的治国理念?(1分)

25. (6分) 阅读下列材料,回答问题。

【冲突不断引发格局变化】

材料一:欧洲列强争夺的焦点集中在巴尔干地区,巴尔干地区民族成分复杂,俄国支持塞尔维亚政府建立大南斯拉夫国家,德国支持奥匈帝国控制巴尔干地区。1912年和1913年巴尔干地区连续发生战争。三国同盟和三国协约两大军事集团插手巴尔干地区的事务。

——节选自部编版九年级历史下册

材料二:1942年1月,美、英、苏、中等26个国家的代表在美国首都华盛顿签署了一个宣言;1947年3月,美国总统杜鲁门在国会发表演说;世界“历史大变局”往往是国际力量的对比。

【走向和平人类共同发展】

材料三:国际组织为维护世界和平,促进经济发展做出了重大的贡献。冷战结束之后,世界格局发生了新的变化,两极格局被打破,世界朝着多极化的方向发展,鲜明的时代主题……但局部动荡频繁发生,世界依然很不安宁,经济发展、文化多样性、社会信息化持续推进丰富着人类的社会生活。

(1) 巴尔干地区向来是兵家必争之地,各种势力以及矛盾冲突不断,最终什么事件成为第一次世界大战的导火索?请你结合所学,列举一战最残酷的战役。(2分)

(2) 根据材料二并结合所学知识,写出“一个宣言”的名称。杜鲁门在国会发表演说对历史发展具有什么样的影响?(2分)

(3) 根据材料三结合所学知识,指出材料中“鲜明的时代主题”是什么?请你写出当今全球最大的经济体名称。(2分)