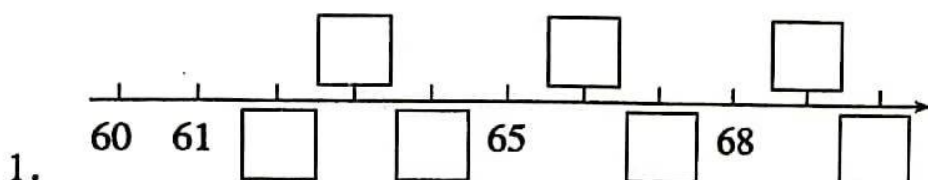


小学 2021-2022 学年下学期诊断性练习

一年级 数学

一、填一填。(共 22 分)



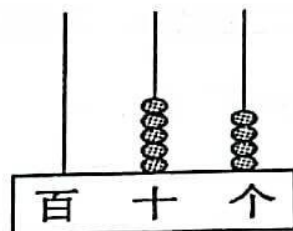
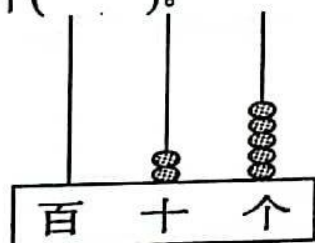
(1)按顺序填数。

(2)65 前面的一个数是(), 后面的一个数是()。

(3)在 65 和 69 中, ()更接近 64, ()更接近 70。

2. 36 中的()在十位上, 表示()个十, 6 在()位上, 表示()个()。

3.



写作: () 读作: () 写作: () 读作: ()

4. 一个两位数, 十位上的数是 7, 个位上的数是 8, 这个数是()。

5. 至少用()个完全相同的小正方形可以拼成一个大正方形。

二、我会选。(每题 2 分, 共 10 分)

1. 66 和 72 之间有()个数。

A. 5 B. 6 C. 7

2. 青蛙吃了 56 只害虫, 啄木鸟吃的害虫比青蛙吃的多一些, 啄木鸟可能吃了()只。

A. 48

B. 62

C. 83

3. 个位上的数字比十位上的数字大的是()。

A. 29

B. 83

C. 95

4. 有 55 个苹果, 如果 10 个苹果装一袋, 最多可以装满() 袋。

A. 6 袋

B. 5 袋

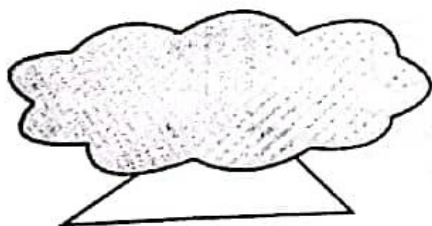
C. 4 袋

5. 被遮挡住的图形可能是()。

A. 正方形

B. 长方形

C. 三角形



三、快乐做一做。(共 24 分)

1. 我会算 (12 分)

$14 - 6 =$

$18 - 9 =$

$12 - 4 + 20 =$

$55 - 5 =$

$14 - 8 =$

$73 - 70 + 9 =$

$20 + 8 =$

$7 + 6 =$

$6 + 50 - 4 =$

$94 - 90 =$

$12 - 7 =$

$13 - 4 + 30 =$

2. 比大小。(6 分)

$25 \bigcirc 52$

$\text{五个十} \bigcirc 49$

$30 + 2 \bigcirc 31$

$50+6 \bigcirc 60+5$

$39 \bigcirc 39$

$90 \bigcirc \text{一个十和9个一}$

3. 在()里填上合适的数。(6分)

$14-()=8 \quad ()-7=30$

$11-()=9 \quad 16-()=3+4$

$()+60=62 \quad 90+()=99$


四、把下面的百数表填完整。(11分)

	75	
	85	

	27	

		70

五、分一分。(8分)



(1) 把分类的结果整理在表中。

	圆柱	正方体	圆	三角形
个数				

(2) 如果分成2组, 还可以怎样分?

个数		

六、解决问题。(每题5分, 共25分)

1.



还剩多少个？

$$\square \bigcirc \square = \square \quad (\quad)$$

2. 两个小组有 13 人去爬山，他们已经走了 15 分钟，其中女生有 6 人，男生有几人？

$$\square \bigcirc \square = \square \quad (\quad)$$

3. 班里图书角还剩下 30 本书，小宇借走了 6 本，原来有多少本？

$$\square \bigcirc \square \bigcirc \square = \square \quad (\quad)$$

4. 白猫和黑猫比赛抓鱼，黑猫抓了 12 条鱼，白猫抓了 8 条鱼。

(1) 白猫比黑猫少抓了多少条鱼？

$$\square \bigcirc \square = \square \quad (\quad)$$

(2) 黑猫和白猫一共抓了多少条鱼？

$$\square \bigcirc \square = \square \quad (\quad)$$