

# 三年级第二学期学习评价(1)

## 数学

题号	一	二	三	四	五	六	成绩
得分							

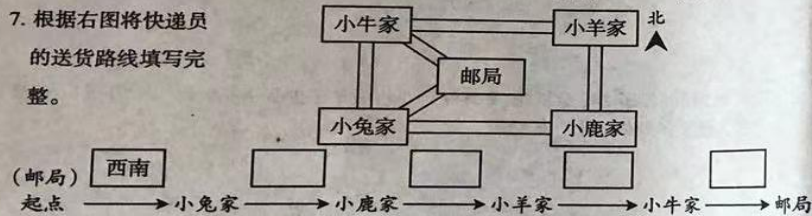
一、仔细审题,判一判。(对的打“√”,错的打“×”)(5分)

- 三位数除以一位数,商一定是三位数。( )
- 当背对太阳升起的方向时,面向的是西方。( )
- 在除法算式中,商一定比余数小。( )
- 计算除法时,若被除数的末尾有0,则商的末尾也有0。( )
- 有280把椅子,分4次运完。平均每次运70把。( )

二、动脑思考,填一填。(每空1分,共27分)

6. 地图通常是按上( )下( ),左( )右( )绘制的。

7. 根据右图将快递员的送货路线填写完整。



8. 根据每组第一个算式的得数,直接写出其他各式的得数。

(1)  $90 \div 5 = 18$

$900 \div 5 = ( )$

$9000 \div 5 = ( )$

(2)  $48 \div 6 = 8$

$480 \div 6 = ( )$

$4800 \div 6 = ( )$

9. 630是3的( )倍;从160里面连续减去8,最多能减( )次。

10. 在○里填上“>”“<”或“=”。

$90 \div 3 \bigcirc 40$

$56 \div 2 \bigcirc 28$

$210 \div 2 \bigcirc 210 \div 3$

$100 \div 5 \bigcirc 20$

$168 \div 4 \bigcirc 40$

$216 \div 4 \bigcirc 220 \div 4$

11. 在一道有余数的除法算式中,除数是6,商是105,余数最大是( ),此时被除数是( )。

12. 有一本相册,每页可插4张照片。把106张照片插到这本相册里,可插满( )页,还剩下( )张照片。

- 养鸡场有210只母鸡,母鸡的数量是公鸡的7倍,公鸡有( )只。
- 三年级有120名学生。每两人用一张课桌,需要( )张课桌;把这些课桌平均放在5间教室里,每间教室放( )张。

三、精心比较,选一选。(将正确答案的序号填在括号里)(10分)

- 下面算式中,( )的得数一定是0。  
A.  $176-0$  B.  $425+0$  C.  $0 \div 9$
- 下面三个数中,( )除以2没有余数。  
A. 179 B. 168 C. 255

17. 青青放学一直往西北方向走就可以到家,学校在她家的( )方向。  
A. 东北 B. 西北 C. 东南

18. 赵老师买下面玩具中的一种用去160元,他买的是( )。  
A. 6元 B. 5元 C. 3元

19. 华夏令营84名学生去野外露营。如果每个帐篷最多住6人,那么需要( )个这样的帐篷。  
A. 14 B. 13 C. 12

四、工整书写,算一算。(28分)

20. 直接写出得数。(6分)

$30 \times 3 =$

$100 \times 5 =$

$300 \div 3 =$

$8000 \div 4 =$

$40 \div 2 =$

$240 \div 6 =$

$600 \div 6 =$

$4200 \div 6 =$

$150 \div 5 =$

$11 \times 7 =$

$240 \div 8 =$

$70 \times 3 =$

21. 列竖式计算下面各题,带△的要求验算。(9分)

$72 \div 3 =$

$186 \div 3 =$

$711 \div 3 =$

$\triangle 209 \div 9 =$



22. 下面的计算正确吗? 把错误的改正过来。(4分)

$$\begin{array}{r} 27 \\ 4 \overline{) 119} \\ \underline{8} \phantom{0} \\ 29 \\ \underline{28} \\ 1 \end{array}$$

$$\begin{array}{r} 80 \\ 3 \overline{) 260} \\ \underline{24} \phantom{0} \\ 2 \end{array}$$

23. 算一算, 连一连。(6分)

$112 \div 4$

32

$265 \div 5$

22

$192 \div 6$

28

$132 \div 6$

168

$712 \div 4$

178

$504 \div 3$

53

24. 看图列式计算。(3分)



五、看清要求, 做一做。(7分)

25. 把余数是3的算式圈起来。(2分)

$75 \div 4$

$411 \div 4$

$622 \div 5$

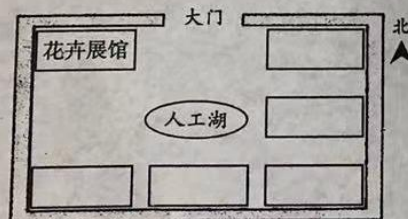
$106 \div 3$

26. 请你根据乐乐的描述, 把生态园内这些景点的序号填在适当的位置上。(5分)

①采摘园 ②竹林 ③草坪 ④假山 ⑤生态水上乐园



走进生态园的大门, 正南面有一个人工湖和假山。人工湖的东面是采摘园。生态园的东北角、东南角和西南角分别是生态水上乐园、竹林和草坪。



六、实际问题, 解一解。(23分)

27. 88名同学一起做游戏, 每8人一组, 可以分成多少组?(3分)

28. 工程队修一条840米长的山路, 如果5天修完, 平均每天修多少米?(3分)

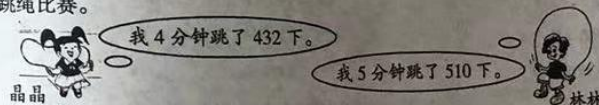
29. (1) 买1件大衣的钱可以买多少顶帽子?(3分)



(2) 买1件大衣的钱最多可以买多少双手套, 还剩多少元?(3分)

30. 两个小组共做了240朵纸花, 平均每个小组做了多少朵纸花? 每个小组有6人, 平均每人做了多少朵纸花?(5分)

31. 跳绳比赛。



谁平均每分钟跳得多? 多多少下?(6分)