

一年级第二学期学习评价(1)

数学

题卡合一

注意事项

- 答题前,学生先将自己的学校、班级、姓名、教室、座号、学号填写清楚,并认真核准条形码上的学号,姓名及科目,在规定位置贴好条形码。
- 选择题必须使用2B铅笔填涂;非选择题必须使用0.5毫米及以上黑色字迹的签字笔书写,要求字体工整,笔迹清楚。
- 严格按照题号在相应的答题区域内作答,超出答题区域书写的答案无效。
- 保持卡面整洁,不装订,不要折叠,不要破损。

贴条形码区

缺席

违纪

填涂样例

正确填涂

错误填涂

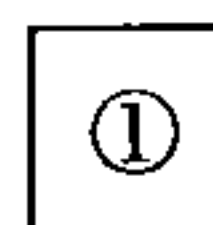
学号

0	1	2	3	4	5	6	7	8	9
0	1	2	3	4	5	6	7	8	9
0	1	2	3	4	5	6	7	8	9
0	1	2	3	4	5	6	7	8	9
0	1	2	3	4	5	6	7	8	9
0	1	2	3	4	5	6	7	8	9
0	1	2	3	4	5	6	7	8	9
0	1	2	3	4	5	6	7	8	9
0	1	2	3	4	5	6	7	8	9
0	1	2	3	4	5	6	7	8	9

请在各题目的答题区域内作答,超出黑色矩形边框限定区域的答案无效

一、填写空白。(每空1分,共33分)


1. 把各种图形的序号填在()里。



()

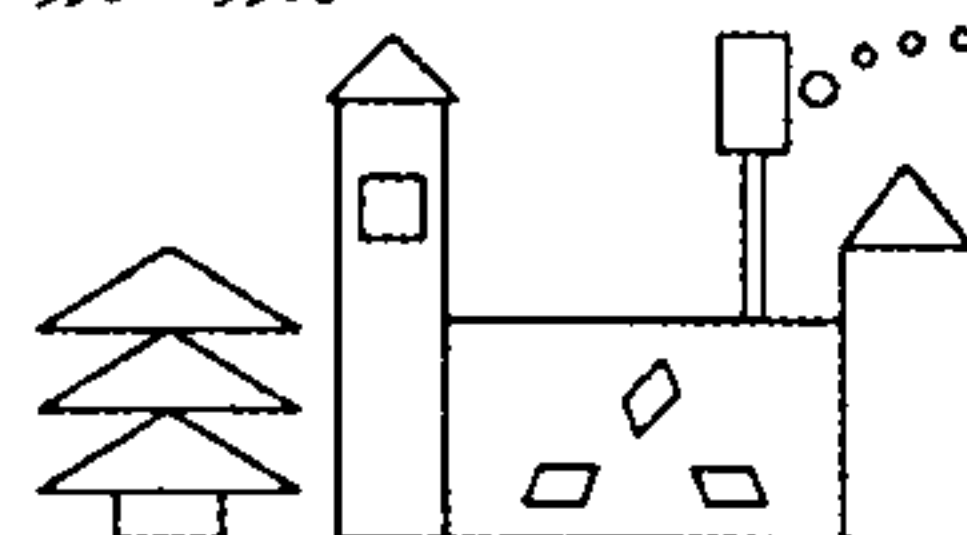


()



()

2. 数一数。



()个




()个



()个



()个



()个



3. 移动⑦,从卡片上的数里减去它,写出得数。

⑦

10	12	13	16	15	14
3					

4. 在○里填“>”“<”或“=”。

$11-4 \bigcirc 6$

$12-4 \bigcirc 8$

$13-5 \bigcirc 9$

$19-9 \bigcirc 10$

$15-6 \bigcirc 7$

$14-9 \bigcirc 8$

5. 用

1	2	3	6
		4	
		5	

 做一个 ,“3”的对面是“()”,“5”的对面是“()”。

请在各题目的答题区域内作答,超出黑色矩形边框限定区域的答案无效

请在各题目的答题区域内作答,超出黑色矩形边框限定区域的答案无效

6. 在□里填上合适的数。

$3 + \square = 11$

$5 + \square = 12$

$\square + 8 = 14$

$\square + 7 = 14$

$\square + 9 = 12$

$6 + \square = 15$

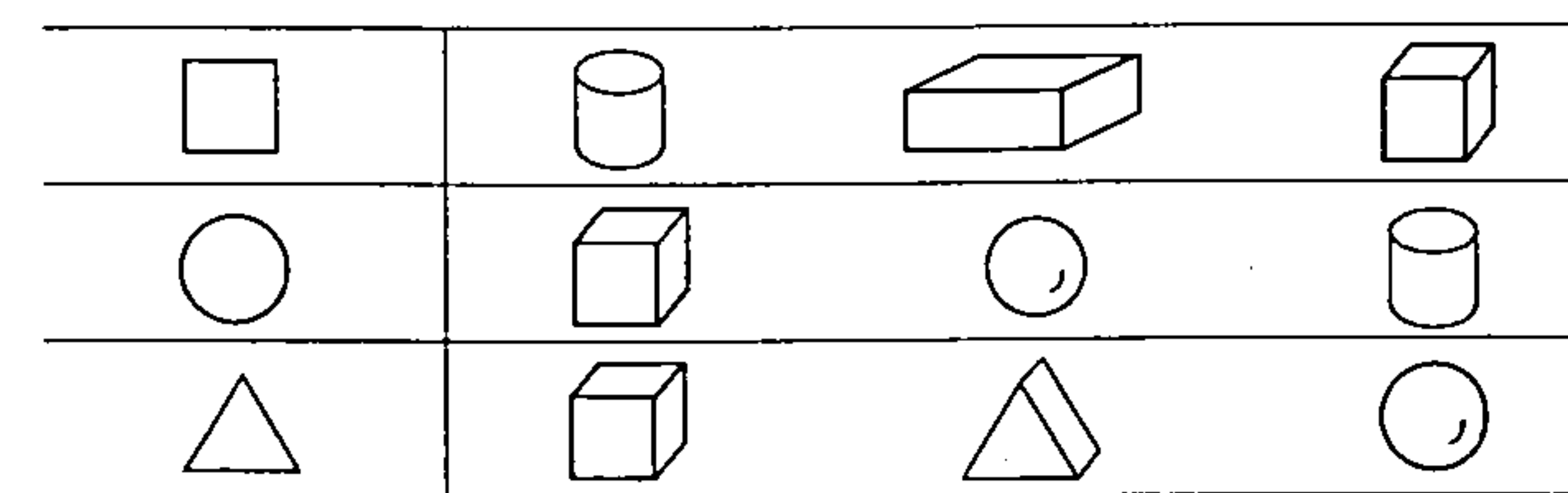
7. 树上一共有14只小鸟,飞走()只,还剩()只。



8.		《白雪公主》	《稻草人》	《成语故事》	《伊索寓言》
	原有	15本	13本	14本	16本
	借出	6本	7本	8本	9本
	还剩	()本	()本	()本	()本

二、按要求完成下面各题。(13分)

1. 用哪个物体可以画出左边的图形?请把它圈起来。(3分)

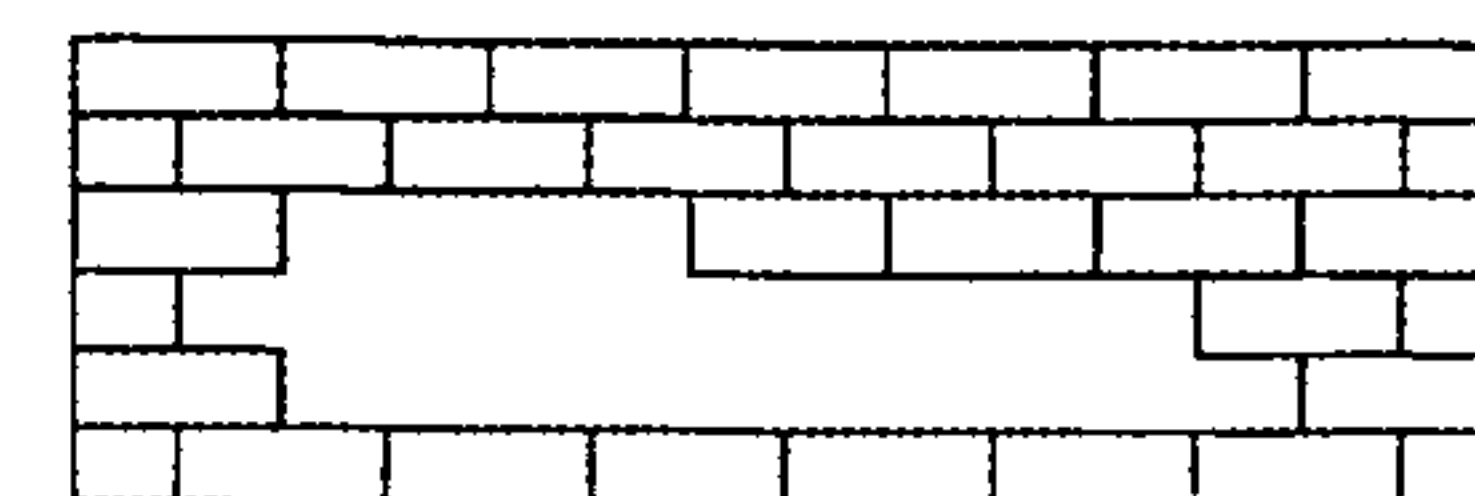


2. 圈一圈。(4分)

(1) 圈出差是5的两个数:(11 12 8 6)

(2) 圈出差是7的两个数:(15 18 6 8)


3. 缺了()块 。(2分)



4. 圈一圈,算一算。(4分)



$14-8 = \square$



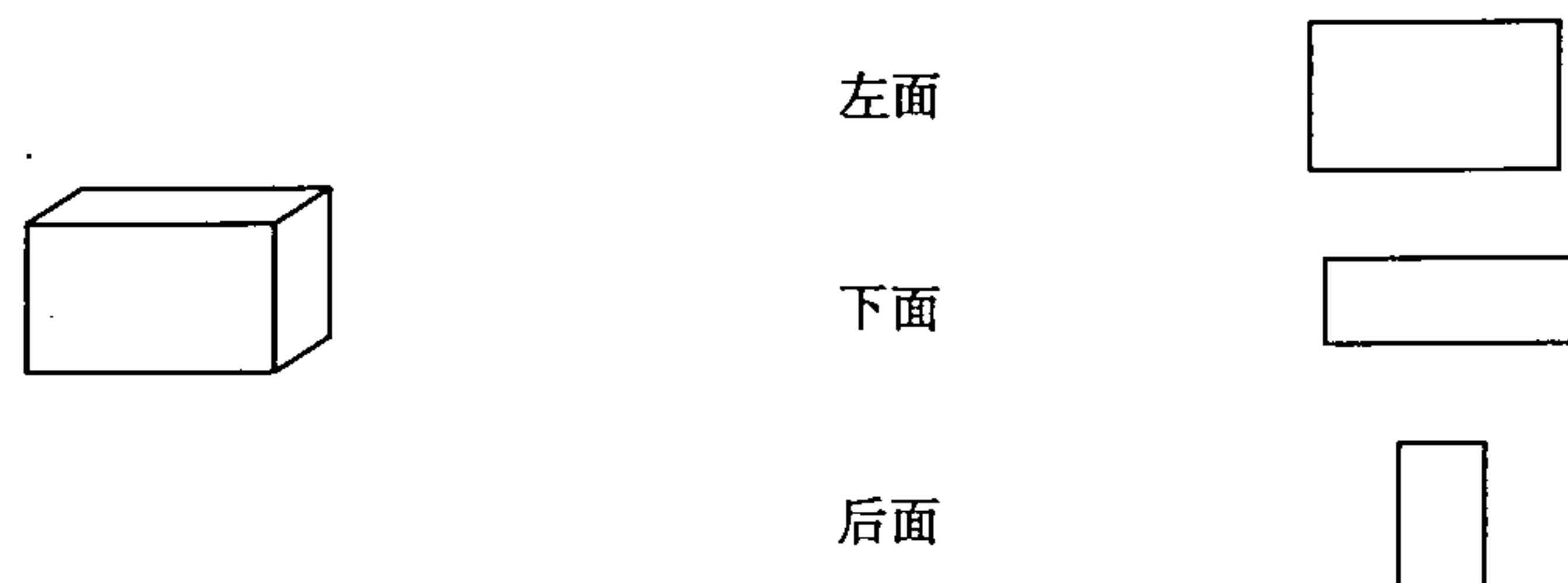
$16-7 = \square$

请在各题目的答题区域内作答,超出黑色矩形边框限定区域的答案无效

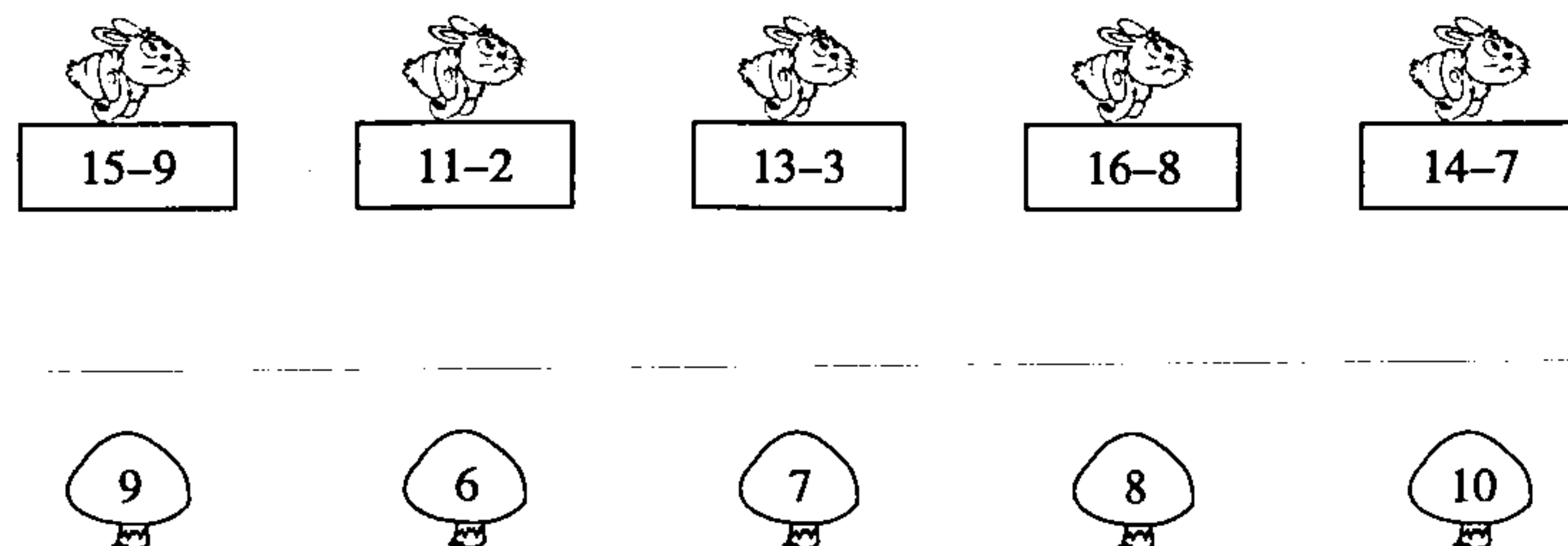
请在各题目的答题区域内作答,超出黑色矩形边框限定区域的答案无效

三、连线天地。(每线1分,共8分)

1. 右边的图形是长方体的哪个面? 用线连起来。



2. 采蘑菇。



四、计算平台。(26分)

1. 直接写出得数。(16分)

$12-6=$	$13-8=$	$8+3=$	$15-4=$
$9+2=$	$16-7=$	$12-9=$	$11-8=$
$11-4=$	$18-8=$	$14-5=$	$17-6=$
$15-8=$	$17-10=$	$2+7=$	$14-9=$

2. 看谁算得都对。(6分)

$12+3-7=$	$15-6-3=$	$11-6-3=$
$8+2+5=$	$14-2-7=$	$13-8+4=$

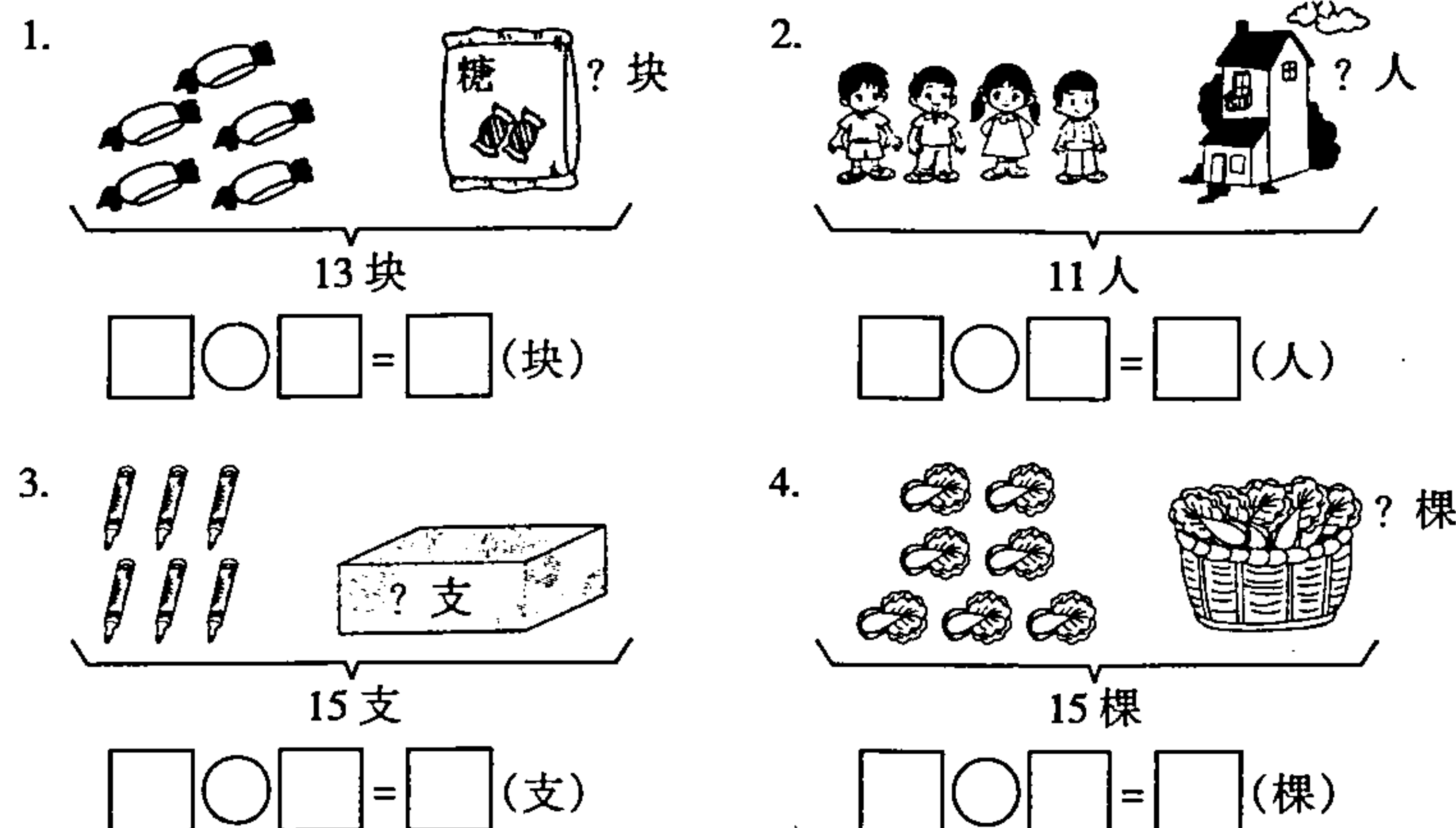
3. 每组算式的得数相同,在()里填数。(4分)

$9+2=$	$()+7$	$15-6=$	$13-()$
$5+()$		$11-()$	

请在各题目的答题区域内作答,超出黑色矩形边框限定区域的答案无效

请在各题目的答题区域内作答,超出黑色矩形边框限定区域的答案无效

五、看图列式计算。(每式2分,共8分)



六、解决问题。(12分)

1. 有12根胡萝卜。每只小兔一根胡萝卜,还剩多少根?(3分)

$\square \bigcirc \square = \square$ (根)

2. 桌上原有11块西瓜。吃了6块,还剩多少块西瓜?(3分)

$\square \bigcirc \square = \square$ (块)

3. 小梦比小丽少踢了几下?(3分)

$\square \bigcirc \square = \square$ (下)

4. 体育室有15个篮球,11个足球。借走8个篮球后,还剩几个篮球?(3分)

$\square \bigcirc \square = \square$ (个)

请在各题目的答题区域内作答,超出黑色矩形边框限定区域的答案无效